

أجب عن خمسة أسئلة فقط مما يأتي :

السؤال الأول :

(أ) اذكر استخداما واحدا لكل من :-

١- المقاومة الكبيرة التي تتصل مع ملف الجلفانومتر الحساس ذو الملف المتحرك على التوالي .

٢- المحول الكهربى .

٣- الأنبوبة ذات الشعبتين .

٤- المجالات الكهربائية أو المغناطيسية فى أنبوبة أشعة الكاثود .

(ب) اشرح مع الرسم تجربة عملية توضح أنه عند ثبوت الحجم فإن الضغوط المتساوية للغازات المختلفة تزداد بنفس المقدار عند ارتفاع درجة حرارتها بمقادير متساوية .

(ج) مكبس هيدروليكى قطر مكبسه الصغير ١٠ cm وتؤثر عليه قوة مقدارها ٨٠٠ N وقطر مكبسه الكبير ١٠٠ cm . فإذا علمت أن عجلة الجاذبية الأرضية 10 m/sec^2 ، $\pi = 3.14$. أوجد :-

١- أكبر كتلة يمكن رفعها بواسطة المكبس الكبير .

٢- الضغط الواقع على كل من المكبس الكبير والمكبس الصغير .

السؤال الثانى :

(أ) اكتب المصطلح العلمى الذى تعبر عنه كل عبارة من العبارات التالية :-

١- المسافة بين أى نقطتين متتاليتين تتحركان بكيفية واحدة .

٢- سقوط فوتون طاقته عالية على إلكترون حر فيقل تردد الفوتون ويغير اتجاهه وتزداد سرعة الإلكترون ويغير اتجاهه .

٣- عدد الجزيئات أو الذرات الموجودة فى مول واحد من المادة .

٤- القوة المماسية المؤثرة على وحدة المساحات لينتج عنها فرق فى السرعة مقداره الوحدة بين طبقتين من السائل المسافة العمودية بينهما الوحدة .

(ب) ١- ارسم فقط الدائرة التى يستخدم فيها الترانزستور كمفتاح فى الوضع on .

٢- ما هى الأشعة المستخدمة فى دراسة التركيب البلورى للمواد الصلبة . ولماذا ؟

٣- أذكر (دون شرح) خاصيتين تميزان أشعة الليزر عن أشعة الضوء العادى .

(بقية الأسئلة فى الصفحة الثانية)

(ج) وتر طوله ٢ m وكتلته ١٥٠ gm مشدود بقوة مقدارها ٧٥ kg wt يهتز بحيث تكونت فيه موجتان

ونصف من الموجات الموقوفة . احسب :-

١- تردد النغمة الصادرة من الوتر .

٢- قيمة الشد فى الوتر حتى يصدر نغمة ترددها ضعف التردد السابق . ($g = 10 \text{ m/sec}^2$)

السؤال الثالث :

(أ) اختر الإجابة الصحيحة من بين الأقواس فى كل مما يأتى :-

١- الخطوط السوداء التى تظهر فى الطيف الشمسى تعتبر

(أطيف انبعاث - أطيف امتصاص - أطيف مستمرة)

٢- التغير فى كمية تحرك الجزيء الخفية لكل تصادم مرن مع جدار الإناء الحاوى له فى اتجاه x يساوى

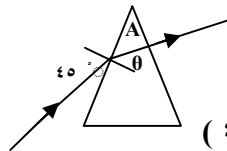
($mv_x - \frac{1}{2} mv_x^2 - mv_x - 2 mv_x$)

٣- النسبة بين كمية تحرك الفوتون وكتلته تساوى

(سرعة الضوء - ثابت بلانك - طاقة الفوتون)

٤- فى الشكل المقابل تكون زاوية رأس المنشور A

(أكبر من ٤٥° - تساوى ٤٥° - أقل من ٤٥°)

(ب) اثبت أن زاوية الانحراف فى المنشور الرقيق تعطى بالعلاقة $\alpha = A (n - 1)$.ارسم العلاقة البيانية بين α ، ومعامل الانكسار n ومن ثم اوجد ميل الخط المستقيم الناتج .

(ج) ثلاث مقاومات (٢٠ ، ٤٠ ، ٦٠) أوم متصلة بمصدر تيار كهربى . فإذا كان فرق الجهد بين طرفى كل

مقاومة هو (٥٠ ، ٢٠ ، ٣٠) فولت على الترتيب . بين بالرسم كيفية توصيل هذه المقاومات ، ثم احسب

المقاومة الكلية للدائرة .

(بقية الأسئلة فى الصفحة الثالثة)

السؤال الرابع :

(أ) ما المقصود بكل من ؟ :

- ١- حالة الإسكان المعكوس في الوسط الفعال لإنتاج الليزر .
- ٢- دالة الشغل لسطح .
- ٣- المسافة بين القاع الأول والقمة الثالثة في موجة تساوي ١٥ cm .
- ٤- الموجات الموقوفة .

(ب) قارن بين :-

- ١- كثافة الفيض المغناطيسي عند مركز ملف دائري وعند نقطة على محور ملف لولبي من حيث علاقتها بنصف قطر اللفات .
- ٢- قيمة الطول الموجي للفوتون الناتج عن انتقال إلكترون من ما لا نهاية في كل من مجموعتي بالمر وليمان .
- ٣- العملية الايزوثيرمية والعملية الاديباتية من حيث التبادل الحراري للنظام مع الوسط المحيط .

(ج) ملف مستطيل أبعاده ٢٠ cm ، ١٠ cm وعدد لفاته ٢٠٠ لفة موضوع في مجال مغناطيسي منتظم كثافة

فيضه Tesla ٠.٤ ، أمر به تيار كهربى شدته Amp ٣ .

احسب عزم الازدواج المؤثر على الملف في الحالتين الآتيتين :-

أولا : عندما يميل مستوى الملف على اتجاه المجال بزاوية ٦٠° .

ثانيا : عندما يكون مستوى الملف عمودياً على اتجاه المجال .

السؤال الخامس :

(أ) علل لما يأتي :-

- ١- سرعة سريان الدم في الشعيرات الدموية أقل من سرعتها في الشريان الرئيسى رغم أن نصف قطر الشعيرة الدموية أقل بكثير جدا من نصف قطر الشريان الرئيسى .

٢- وجود مرآة عاكسة وأخرى شبه منقذة عند نهايتى أنبوبة ليزر (الهيليوم - نيون) .

٣- تستخدم قارورة ديوار في حفظ الغازات المسالة .

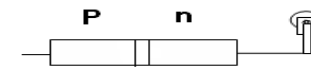
٤- الوزن الظاهري لجسم معلق في سائل = صفر .

(ب) ١- اكتب وحدة واحدة مكافئة لكل مما يأتي ، مع ذكر الكمية الفيزيائية التى تقاس بها .

أولا : نيوتن / متر @ ثانيا : ثانيا / أمبير

٢- الشكل المقابل يبين وصلة ثنائية متصلة على التوالي بمصباح يعمل على جهد مستمر .

أكمل الدائرة الكهربائية حتى يضىء المصباح .



(بقية الأسئلة في الصفحة الرابعة)

(ج) تيار كهربى شدته A ٤ يمر في ملف حث عدد لفاته ٨٠٠ لفة لينتج فيضا مغناطيسيا مقداره

Weber 2×10 فإذا تلاشى التيار في ٠.٠٨ Sec . احسب :-

١- emf المستحثة في الملف .

٢- معامل الحث الذاتى للملف .

٣- ما هى القاعدة المستخدمة في تحديد اتجاه التيار المستحث في الملف .

السؤال السادس :

(أ) ما التفسير العلمى لكل مما يأتي ؟ :

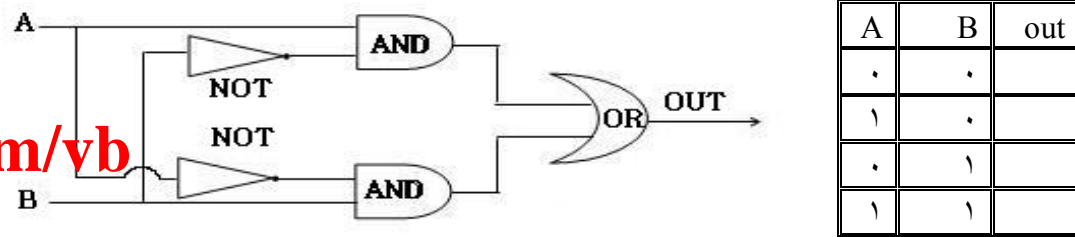
١- مضاعفة نصف قطر سلك من النحاس يودى إلى نقصان مقاومته الكهربائية إلى الربع .

٢- استخدام الأوميتير للتأكد من سلامة الوصلة الثنائية .

٣- قابلية الغازات للانضغاط .

٤- الانبعاث المستحث .

(ب) ١- أكمل جدول التحقق الآتى للدائرة الموضحة بالرسم .



٢- اذكر (دون شرح) الصعوبات التى واجهت رانرفورد في تصوره لبناء الذرة .

(ج) يمثل الجدول الآتى القيم اللحظية لتيار متردد جيبي ناشئ عن دوران ملف الدينامو خلال نصف دورة :

أمبير I	٠	٣.٦	٦	٨.٣	١٠	١٢	١٠	٦	٣.٦	٠
مللى ثانية t	٠	٠.٥	١	١.٥	٢	٣	٤	٥	٥.٥	٦

ارسم العلاقة البيانية بحيث يكون الزمن على المحور الأفقى . ومن الرسم البيانى أوجد :-

١- الزمن الدورى .

٢- التردد .

٣- القيمة الفعالة لشدة التيار .

(انتهت الأسئلة)