

اجابة السؤال الاول

أ -

- ١- غلاف الثمرة
- ٢- الاكسجين
- ٣- الاسموزية
- ٤- العضلية
- ٥- جهد الفعلية
- ٦- الكورتيكوسيترون
- ٧- البروتينات
- ٨- صفر

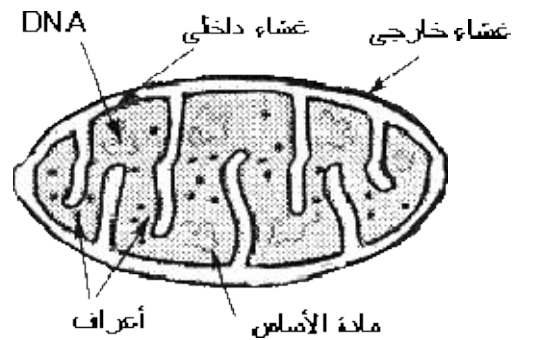
اجابة السؤال الاول ب

- أ- التجويف الاروح
- يستقر فيه عظمة رأس العضد . المفصل الكتفي
- ب- الستروما : تحدث فيها التفاعلات اللاضوئية
- ج- تنظم ضربات القلب وتطلق اثاره الانقباض تلقائيا فتثير عضلات الاذنين على الانقباض

ب رقم ٢

- أ - هو نقل ال DNA وادخاله من كائن حي الى كائن حي اخر
- ب- انعدام السيادة: حالة وراثية يحكم وراثه الصفة فيها زوج من الجينات وكلا الجينين يظهر اثره فى وجود الجين الاخر ( لا يسود احدهما على الاخر ) أي يشترك الجينان معا فى اظهار صفة وسط فى الفرد الهجين .

اجابة السؤال الاول ج



تركيب الميتوكوندريا

- يمر الهيدروجين والالكترونات ذات المستوى العالي من الطاقة والمحمولة على كل من NADH , FADH خلال تتابع من مساعدات الانزيمات التي توجد فى الغشاء الداخلي للميتوكوندريا وتعرف بالسيتو كرومات أي حاملات الالكترونات وتحمل السيتو

كرومات الالكترونات على مستويات طاقة مختلفة وبمرور الالكترونات من جزيء الى اخر من السيتو كرومات تنطلق طاقة كافية لتكوين جزيئات ATP من جزيئات ADP وهو ما يعرف بالفسفرة التأكسدية ( وتحدث في الغشاء الداخلي )

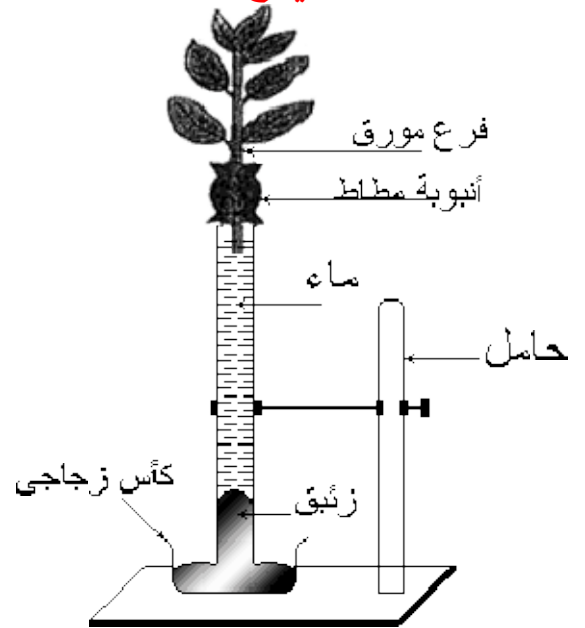
- اجابة السؤال الثاني أ

- ١- التربين
- ٢- النبض ( معدل ضربات القلب )
- ٣- مستقبلات الحسية
- ٤- عامل ريسيس
- ٥- الوحدة الحركية
- ٦- مجموعة من الانزيمات

اجابة السؤال الثاني ب

- ١- ٣- المبيض
  - ٢- ١- الثلث الاول من قناة فالوب
  - ٣- أ- تتهدم بطانة الرحم
- ب- يحدث انماء بطانة الرحم بفعل هرمون الاستروجين ثم يحدث زيادة في بطانة الرحم وزيادة في الامداد الدموي بفعل هرمون البروجسترون

اجابة السؤال الثاني ج



المشاهدة:

تبدأ قطرات دقيقة من الماء في الظهور على السطح الداخلي للناقوس لا تلبث أن تتجمع في النهاية الى قطرات أكبر وتسيل على جدر الناقوس الى أسفل ونتأكد أنها ماء باستخدام كبريتات النحاس البيضاء ( اللامانية ) فتزرق. الاستنتاج : أن الماء يمر من أجزاء النبات المعرضة للهواء الى الهواء المحيط أي أن النبات قام بعملية النتج واخرج الماء في صورة بخار ماء.

## اجابة السؤال ج جزئية ٢

انزيم اللولب

فك التفاف الشريطين وتباعدهما عن بعض نتيجة تفكك الروابط الهيدروجينية بين القواعد النيتروجينية فتبتعد القواعد عن بعضها لكي تتمكن من تكوين روابط هيدروجينية مع قواعد اخرى

٢- انزيم البلمرة

يعمل على البناء الفعلي لاشرطة DNA وذلك باضافة نيوكلو تيدات جديدة و لكي تتم الاضافة لابد من ربط القواعد حيث في اتجاه ٣ ← ٥ للقلب تتم الاضافة للنيكلو تيدات الواحدة تلو الاخرى اما في اتجاه ٥ ← ٣ للجديد يتم اضافة النيكلو تيدات على هيئة قطع صغيرة لان انزيم البلمرة يعمل في اتجاه واحد فقط ثم يتم ربطها بواسطة انزيم الربط

## اجابة السؤال الثالث

### الجزئية أ

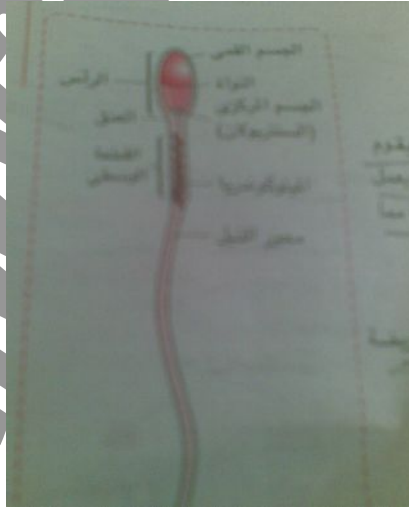
١ - لانه يستخلص البروتين ويستخدمه في تكوين العصارة الصفراوية التي تستحلب الدهون

٢- حاله كلاينفلتر : ( ٤٤ ) XXY +

حاله وراثيه تنشأ من اخصاب بويضه شاده ( ٢٢ ) XX + بحيوان منوى ( ٢٢ ) Y + فيكون تركيبها الصبغى ( ٤٤ ) XXY + وتكون ذكرا عقيما لغياب الجينات المولده للحيوانات المنويه وينمو الصدر انثويا بعض الشيء لوجود X زائد ويصاحبها ضمور فى الاعضاء التناسليه الذكريه

٣- وذلك بسبب حدوث خلل فى الهرمونات الجنسية التي تفرزها قشرة الغدة الكظرية والهرمونات الجنسية التي تفرزها المناسل.

٤- لانها تدفع الطعام من الفم الى المريء واثناء ذلك ترتفع قمة القصبة الهوائية والحجره امام لسان المزمار لتقل فتحتها



### السؤال الثالث ب

ب ٢

أ - بيتم الحصول على خلايا فى مراحل مبكرة من خمسة اناث ودمجها معا فى وسط غذائي ثم يتم زرعها داخل رحم انثى اخرى سادسة فيكون الفرد عادي له ٦ امهات وخمسة اباء

ب يتم ذلك عن طريق الاثمار العذري برش مياسم الازهار بأندول او نافيوسول حمض الخليك

ج - يتم عن طريق التوالد البكري الصناعي وذلك بتعريض البويضات لصدمة حرارية فتتضاعف الصبغيات مكونة فرد جديد .

P: aaBb                      x                      AA bb  
G: aB                      ab                      Ab  
F: AaBb                      Aabb  
                ارجواني                      ابيض

www.thanwyaonline.com