

القوى

القوة :

هى : تأثير أحد الأجسام الطبيعية على جسم طبيعى آخر
هى : متجه يتميز بأنه يمر بنقطة معلومة أو أنه يعمل فى خط مستقيم معلوم

أنواع القوى :

قوى الضغط ، قوى الشد ، قوى الجذب و التنافر ، قوى رد الفعل ، قوى التثاقل (الوزن)

خواص القوة :

يتوقف تأثير القوة على :

١ - مقدار القوة

٢ - إتجاه القوة

٣ - نقطة تأثير القوة و بالتالى خط عملها

وحدات قياس مقدار القوة :

١ - تثاقلية :

" ١ ثقل كيلوجرام = ١٠٠٠ ثقل جرام " " ١ ث كجم = ١٠^٣ ث جم "

٢ - مطلقة :

١ نيوتن = ١٠٠٠٠٠٠ دايين " ١٠ دايين "

العلاقة بين الوحدات التثاقلية و الوحدات المطلقة :

١ ثقل كيلوجرام = ٩.٨ نيوتن ، ١ ث جم = ٩٨٠ دايين

توازن جسم تحت تأثير قوتين :

قاعدة (١) : " إتران جسم تحت تأثير قوتين "

إذا أترن جسم تحت تأثير قوتين فقط كانت :

١ - القوتان متساويتان فى المقدار

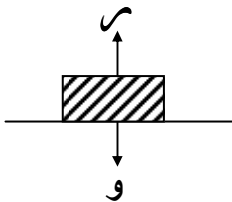
٢ - القوتان متضادتان فى الإتجاه

٣ - خط عمل القوتان على إستقامة واحدة

مثال : إذا وضع جسم وزنه " و " على نضد أملس فإنه يترن بتأثير القوتين

" و " و يؤثر رأسياً لأسفل ، " ر " رد فعل النضد على الجسم و بالتالى :

و = ر ، ر يؤثر رأسياً لأعلى



نتائج :

١ - إذا أترت على جسم متماسك قوتان متساويتان فى المقدار و متضادتان فى الإتجاه و فى نفس

الخط المستقيم فلا يكون لهما أى تأثير على الجسم سواء من ناحية السكون أو الحركة

٢ - القوى المتبادلة الناشئة عن تأثير جسم على آخر تكون دائماً متساوية فى المقدار و متضادة

فى الإتجاه " قانون نيوتن الثالث (لكل فعل رد فعل مساو له فى المقدار و مضاد له فى الإتجاه) "

قاعدة (٢) : " نقل نقطة تأثير القوة (مبدأ نفاذ القوة) "

إذا أترت قوة فى نقطة ما من جسم متماسك فإنه يمكن نقل نقطة التأثير إلى أى نقطة أخرى على خط

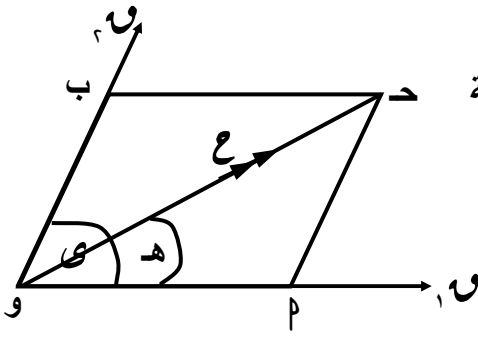
عمل القوة دون أن يغير ذلك من تأثير القوة على الجسم

أى أن : أية نقطة على خط عمل قوة يمكن إعتبارها نقطة تأثير لهذه القوة

قاعدة (٣) : " ثبوت الشد فى الخيوط المشدودة "

الشد فى جميع أجزاء الخيط المشدود متساو فى المقدار مهما كان وضع الخيط

محصلة قوتين جبرياً :



في الشكل المقابل : قوتان مقدارهما F_1 ، F_2 تؤثران في نقطة ، α قياس الزاوية بين إتجاهي القوتين ، γ قياس الزاوية بين إتجاهي القوة الأولى و المحصلة فيكون :

$$R = \sqrt{F_1^2 + F_2^2 + 2F_1F_2 \cos \alpha}$$


$$\cos \gamma = \frac{F_2 \cos \alpha}{R}$$

ملاحظة :

إذا كان : خط عمل المحصلة عمودى على خط عمل القوة الأولى فإن : $F_1 + F_2 = R$ ،

حالات خاصة :

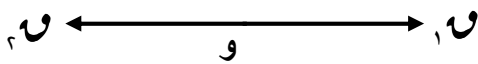
١ - القوتان لهما نفس خط العمل و في نفس الإتجاه :



$$R = F_1 + F_2$$

المحصلة لها نفس خط عمل القوتين و في نفس الإتجاه " أكبر قيمة للمحصلة "

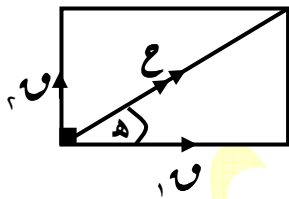
٢ - القوتان لهما نفس خط العمل و في إتجاهين متضادين :



$$R = |F_1 - F_2|$$

المحصلة لها نفس خط عمل و في نفس الإتجاه القوة الأكبر مقداراً " أصغر قيمة للمحصلة "

٣ - القوتان متعامدتان :



$$R = \sqrt{F_1^2 + F_2^2}$$

$$\cos \gamma = \frac{F_2}{R}$$

٤ - القوتان متساويتان في المقدار :

$$R = 2F_1 \cos \frac{\alpha}{2}$$

$$R = 2F_1 \cos \frac{\alpha}{2}$$

، $\gamma = \frac{\alpha}{2}$ أي أن : خط عمل المحصلة ينصف الزاوية بين القوتين

أمثلة:

١ - قوتان متلاقيتان في نقطة مقدارهما ٣ ، ٥ ث جم أوجد مقدار وإتجاه محصلتهما إذا كان قياس الزاوية بين خط عمليهما ٦٠°

الحل

$$ع = ٣ + ٥ + ٢ \times ٣ \times ٥ \times \frac{1}{2} = ٩ + ٢٥ + ١٥ = ٤٩$$

$$\therefore ع = ٧ \text{ ث جم}$$

$$٥ \text{ حا } ٦٠ = \frac{\frac{3\sqrt{2}}{2} \times ٥}{\frac{1}{2} \times ٥ + ٣} = \frac{٥ \text{ حا } ٦٠}{٣ + ٥} = \frac{٣\sqrt{2}}{١١}$$

$$\therefore ه = ١٢ / ٣٨$$

٢ - قوتان متلاقيتان في نقطة مادية مقدارهما ٣ ، ٥ نيوتن و مقدار محصلتهما ٦٧ نيوتن أوجد قياس الزاوية بينهما

الحل

$$\therefore ع = ١ + ١ + ١ + ١ = ٤ \text{ حتاى}$$

$$\therefore ٦٧ = ١٢ + ٢٥ + ٢ \times ٣ \times ٥ \times \text{حتاى}$$

$$\therefore ٣٠ = ٤$$

$$\therefore \frac{3\sqrt{2}}{2} = \text{حتاى}$$

٣ - قوتان تؤثران في نقطة مادية فإذا كان أكبر قيمة لمحصلتهما = ١٧ ث كجم ، كانت أصغر قيمة لمحصلتهما = ٧ ث كجم أوجد مقدار كل من القوتين

الحل

$$\therefore ١٧ = ١ + ١ \quad (١) \quad ، \quad ٧ = ١ - ١ \quad (٢)$$

$$\text{بالجمع ينتج : } ٢٤ = ١ + ١ \quad \therefore ١٢ = ١ \text{ ث كجم}$$

$$\text{بالتعويض فى (١) ينتج : } ٥ = ١ \text{ ث كجم}$$

٤ - قوتان متلاقيتان في نقطة مقدارهما ٤ ، ١ نيوتن و قياس الزاوية بينهما ١٣٥° فإذا كانت محصلتهما تميل على القوة الأولى بزاوية قياسها ٤٥° أوجد قيمة ١ و مقدار المحصلة

الحل

$$\therefore ه = ٤٥$$

$$\therefore ١ = \frac{\frac{1}{\sqrt{2}} \times ١}{\frac{1}{\sqrt{2}} \times ١ + ٤}$$

$$\therefore ١ = ١ \text{ نيوتن}$$

$$ع = ١٦ + ٨ + ٢ \times ٤ \times ١ \times \frac{1}{\sqrt{2}} = ٨$$

$$\therefore ع = ٢ \text{ نيوتن}$$

٥ - قوتان متساويتان و تحصران بينهما زاوية قياسها 120° ، و إذا تضاعفت القوتان و أصبح قياس الزاوية بينهما 60° زادت محصلتهما بمقدار ١١ وحدة عن الحالة الأولى أثبت أن :
مقدار كل من القوتين $= 1 + \sqrt{3}$ وحدة

الحل

بفرض أن مقدار كل من القوتين = u وحدة
في الحالة الأولى :

$$c = u \text{ ، } u \text{ حتا } 60^\circ = u^2 \times \frac{1}{2} = u$$

$$(1) \quad u = c$$

في الحالة الثانية :

$$c + 11 = u^2 \text{ حتا } 30^\circ = \frac{\sqrt{3}}{2} \times u^2 \times 2 = u$$

$$(2) \quad u = c + 11 + \sqrt{3}$$

من (١) ، (٢) بالطرح ينتج : $u(1 - \sqrt{3}) = 11$

$$\therefore u = \frac{1 + \sqrt{3}}{1 - \sqrt{3}} \times \frac{11}{1 - \sqrt{3}} = 1 + \sqrt{3} \text{ وحدة}$$

٦ - الفرق بين مقدارى قوتين مؤثرتين في نقطة مادية هو 4 ث كجم ، و مقدار محصلتهما هو $6\sqrt{2}$ ث كجم فإذا كانت محصلتهما عمودية على القوة الصغرى أوجد مقدار كل من القوتين و قياس الزاوية بينهما

الحل

نفرض أن مقدارى القوتين هما u ، v ، $u + v = 4$ ث كجم ، قياس الزاوية بينهما $u \perp v$

$$\therefore u + (u + v) = 4 \text{ حتا } u = 0$$

$$(1) \quad (u + v) - u = 4 \text{ حتا } v = 4$$

$$6\sqrt{2} = (u + v) + u^2 + (u + v)^2 \times (u + v) = 0$$

بالتعويض من (١) ينتج :

$$72 = u^2 + u + 8 + u + 16 + u^2 \times (u - u)$$

$$\therefore 72 = u^2 + u + 8 + u + 16 + u^2$$

$$\therefore 16 + 8 = 72$$

$$\therefore u = 7 \text{ ث كجم}$$

بالتعويض في (١) ينتج :

$$\text{حتا } u = \frac{7}{11}$$

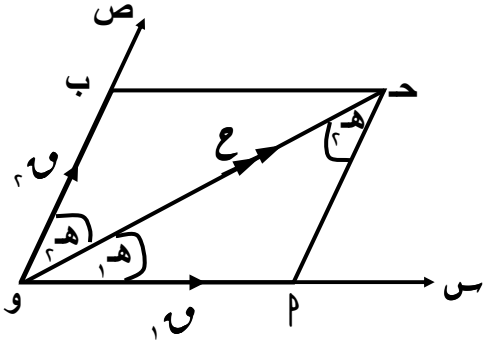
$$\therefore u = 31 / 129$$

تمارين

- ١ - قوتان مقدارهما ٣ ، $\sqrt{3}$ ث جم تؤثران في نقطة مادية و قياس الزاوية بينهما 45° أوجد مقدار واتجاه محصلتهما
- ٢ - قوتان مقدارهما ٥ ، ١٠ ث كجم تؤثران في نقطة مادية و قياس الزاوية بينهما 120° أوجد مقدار واتجاه محصلتهما
- ٣ - قوتان مقدارهما ١ ، $\sqrt{2}$ نيوتن تؤثران في نقطة مادية و قياس الزاوية بينهما 135° اثبت أن مقدار محصلتهما = ١ نيوتن ثم أوجد قياس الزاوية بين المحصلة و القوة الأولى
- ٤ - قوتان مقدارهما ١٥ ، ٨ ث كجم تؤثران في نقطة مادية فإذا كان مقدار محصلتهما ١٣ ث كجم أوجد قياس الزاوية بين القوتين
- ٥ - قوتان متلاقيتان في نقطة مقدارهما ٤ ، ١ نيوتن و قياس الزاوية بينهما 120° فإذا كانت محصلتهما تميل عمودية على القوة الأولى أوجد قيمة ١ و مقدار المحصلة
- ٦ - قوتان متساويتان في المقدار مقدار محصلتهما $\sqrt{15}$ نيوتن و قياس الزاوية بين المحصلة و إحداها 30° أوجد مقدار كل من القوتين
- ٧ - قوتان متلاقيتان في نقطة مقدار محصلتهما $\sqrt{10}$ ث جم إذا كانتا متعامدتين ، و مقدار محصلتهما $\sqrt{13}$ ث جم إذا كان قياس الزاوية بينهما 60° أوجد مقدار كل منهما
- ٨ - قوتان متلاقيتان في نقطة مقدار محصلتهما ٤ نيوتن ، و إذا عكس اتجاه خط عمل القوة الثانية أصبح مقدار محصلتهما $\sqrt{3}$ نيوتن و في اتجاه عمودي على المحصلة الأولى أوجد قياس الزاوية بين القوتين
- ٩ - قوتان متعامدتان تؤثران في نقطة مادية و مقدار محصلتهما = ٤٠ نيوتن فإذا كانت محصلتهما تميل بزاوية قياسها 30° على القوة الأولى أوجد مقدار كلاً من القوتين
- ١٠ - قوتان متعامدتان تؤثران في نقطة مادية و مقدار إحداها $\frac{2}{3}$ مقدار الأخرى ، و مقدار محصلتهما $\sqrt{13}$ ث جم أوجد مقدار كلاً من منهما واتجاه محصلتهما
- ١١ - قوتان متساويتان في المقدار تؤثران في نقطة مادية و مربع مقدار محصلتهما = ثلاثة أمثال مربع مقدار أى منهما أوجد قياس الزاوية بين اتجاهي القوتين
- ١٢ - قوتان تؤثران في نقطة مادية فإذا كان أكبر قيمة لمحصلتهما = ٧٠ ث جم ، كانت أصغر قيمة لمحصلتهما = ٢٤ ث جم أوجد مقدار كل من القوتين
- ١٣ - قوتان مقدارهما ١٦ ، ١٠ ث جم تؤثران في نقطة مادية ، مقدار محصلتهما = ١٤ ث جم أوجد قياس الزاوية بين القوتين ثم أوجد الإتجاه الذي تعمل فيه قوة ثالثة في نفس النقطة مقدارها ٦ ث جم حتى يكون مقدار محصلة القوى الثلاثة :
- * أصغر ما يمكن ** أكبر ما يمكن مع تعيين مقدار المحصلة في كل حالة
- ١٤ - قوتان مقدارهما ٨٠ ، ٧٠ ث جم تؤثران في نقطة مادية ، قياس الزاوية بينهما 60° أوجد مقدار واتجاه محصلتهما ، و إذا أثرت قوة مقدارها ٥٠ ث جم في نفس النقطة أوجد مقدار واتجاه محصلة القوى الثلاثة
- ١٥ - قوتان تؤثران في نقطة مادية ، قياس الزاوية بينهما 120° و مقدار محصلتهما ٧ ث كجم فإذا كان ظل قياس الزاوية بين محصلتهما و القوة الأولى = $\sqrt{4}$ أوجد مقدار كل من القوتين
- ١٦ - قوتان تؤثران في نقطة مادية فإذا كان أكبر مقدار لمحصلتهما هو ٧ ث جم ، و إذا كانت الزاوية بينهما قائمة فإن مقدار محصلتهما = ٥ ث جم أوجد مقدار كل من القوتين

تحليل القوة إلى مركبتين

مركبتا قوة معلومة في إتجاهين معلومين :
في الشكل المقابل :



إذا كان : قوة مقدارها C تؤثر في نقطة مادية و

فإنه : يمكن تحليل هذه القوة إلى قوتين مقدارهما C_1 ، C_2 ،

حيث إتجاه C_1 يميل على إتجاه C بزواوية قياسها α ،

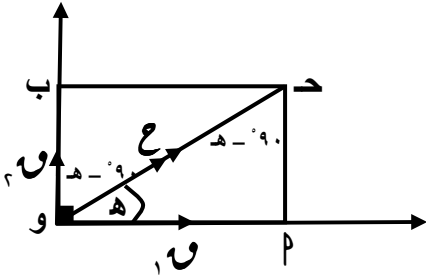
، إتجاه C_2 يميل على إتجاه C بزواوية قياسها β ،

من Δ و P و بتطبيق قانون الجيب يكون :

$$\frac{C \sin \alpha}{\sin \beta} = C_1 \quad , \quad \frac{C \sin \beta}{\sin \alpha} = C_2$$

مركبتا قوة معلومة في إتجاهين متعامدين :

في الشكل المقابل :



يمكن تحليل القوة C إلى قوتين مقدارهما C_1 ، C_2 ،

في إتجاهين متعامدين حيث $\alpha + \beta = 90^\circ$ قياس الزاوية بين خطي

عمل C_1 ، C_2 ،

من Δ و P و بتطبيق قانون الجيب و ملاحظة أن $\alpha + \beta = 90^\circ$ = حتا β يكون :

$C_1 =$ (مقدار المركبة في الإتجاه المعلوم) = C حتا α

" مسقط C في إتجاه C_1 "

$C_2 =$ (مقدار المركبة في الإتجاه العمودي على الإتجاه المعلوم) = C حتا β

" مسقط C في إتجاه C_2 "

محصلة عدة قوى مستوية متلاقية في نقطة :

لإيجاد محصلة عدة قوى مستوية متلاقية في نقطة نوجد :

* $S_x =$ المجموع الجبري للمركبات في إتجاه معلوم و S_x

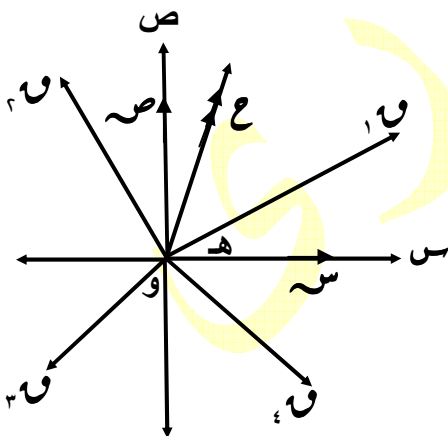
* $S_y =$ المجموع الجبري للمركبات في إتجاه عمودي على

الإتجاه المعلوم و S_y

$$C = \sqrt{S_x^2 + S_y^2}$$

$$\alpha = \tan^{-1} \frac{S_y}{S_x}$$

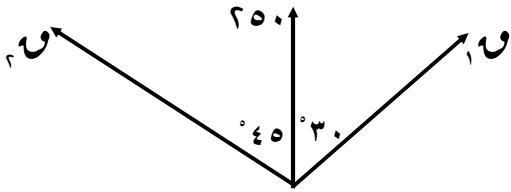
حيث : α قياس الزاوية بين إتجاه C ، إتجاه S_x



أمثلة:

١ - حل قوة مقدارها ٢٥٠ نيوتن وتؤثر رأسياً لأعلى إلى مركبتين في جهتين مختلفتين منها وتصنعان معها زاويتين قياسيهما ٣٠° ، ٤٥° على الترتيب

الحل

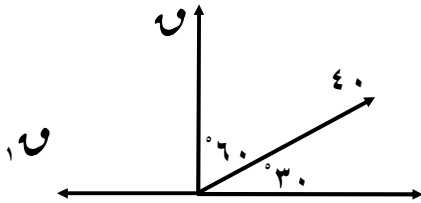


$$F_1 = \frac{250 \text{ حـا } 30^\circ}{75} = 183 \text{ نيوتن}$$

$$F_2 = \frac{250 \text{ حـا } 45^\circ}{75} = 129 \text{ نيوتن}$$

٢ - حلت قوة مقدارها ١٠ نيوتن في إتجاه الشمال إلى مركبتين الأولى في إتجاه ٣٠° شمال الشرق و مقدارها ٤٠ نيوتن و الأخرى في إتجاه الغرب أوجد مقدار ١٠ و مقدار المركبة الثانية

الحل



$$40 = \frac{10 \text{ حـا } 90^\circ}{150} \therefore 10 = 20 \text{ نيوتن}$$

$$10 = \frac{20 \text{ حـا } 60^\circ}{150} \therefore 35 = 10 \text{ نيوتن}$$

٣ - أثرت القوى ٢ ، ٣ ، ٤ ، ٥ ث جم في نقطة مادية وكانت قياسات الزوايا بين كل قوتين متتاليتين كما يأتي على الترتيب ٦٠° ، ٣٠° ، ١٥٠° أوجد محصلة هذه القوى

الحل

من الشكل المقابل:

$$S = 2 \text{ حـا } 0^\circ + 3 \text{ حـا } 60^\circ + 4 \text{ حـا } 90^\circ + 5 \text{ حـا } 120^\circ + 3\sqrt{2} \text{ حـا } 150^\circ$$

$$= 2 \text{ حـا } 0^\circ + 3 \text{ حـا } 60^\circ - 4 \text{ حـا } 90^\circ + 5 \text{ حـا } 120^\circ + 3\sqrt{2} \text{ حـا } 150^\circ$$

$$= 2 \times 1 + 3 \times \frac{1}{2} - 4 \times 1 + 5 \times \frac{1}{2} + 3\sqrt{2} \times \frac{1}{2}$$

$$= 2 \text{ حـا } 0^\circ + 3 \text{ حـا } 60^\circ - 4 \text{ حـا } 90^\circ + 5 \text{ حـا } 120^\circ + 3\sqrt{2} \text{ حـا } 150^\circ$$

$$= 2 \text{ حـا } 0^\circ + 3 \text{ حـا } 60^\circ - 4 \text{ حـا } 90^\circ + 5 \text{ حـا } 120^\circ + 3\sqrt{2} \text{ حـا } 150^\circ$$

$$= 1 \times \sqrt{2} + \frac{3\sqrt{2}}{2} \times 5 - \frac{3\sqrt{2}}{2} \times 3 + 0 \times 2 = \text{صفر}$$

$$\therefore C = \sqrt{0 + 1} = \sqrt{ص + ص} = 1$$

$$، \text{ ظاه } = \frac{ص}{ص} = 1 \therefore \text{ هـ } = 0$$

∴ المحصلة = ١ ث جم وتعمل في إتجاه القوة الأولى

ملاحظة: " بأخذ قياسات الزوايا بين إتجاهات القوى و محور السينات و ملاحظة إشارات الدوال المثلثية لها " لذا يمكن إختصار المجموع الجبر لمركبات القوى كالتالي:

$$S = 2 \text{ حـا } 0^\circ + 3 \text{ حـا } 60^\circ - 4 \text{ حـا } 90^\circ + 5 \text{ حـا } 120^\circ + 3\sqrt{2} \text{ حـا } 150^\circ$$

$$، \text{ ص } = 3 \text{ حـا } 60^\circ - 4 \text{ حـا } 90^\circ + 5 \text{ حـا } 120^\circ - 3\sqrt{2} \text{ حـا } 150^\circ = \text{صفر}$$

٤ - أثرت القوى $و$ ، $٣\sqrt{٤}$ ، $٣\sqrt{١٢}$ ، ٣٦ ث كجم في نقطة مادية وكانت الثلاثة الأخيرة في اتجاهات الشمال، ٦٠° غرب الشمال، ٦٠° جنوب الشرق على الترتيب فإذا كانت محصلة هذه القوى = ٨ ث كجم في اتجاه الشرق عين $و$ واتجاه عملها

الحل

من الشكل المقابل:

$$س = و \text{ حتا } ١٠ + ٣\sqrt{٤} \text{ حتا } ٩٠ + ٣\sqrt{١٢} \text{ حتا } ١٥٠ + ٣٦ \text{ حتا } ٣٠٠$$

$$و \text{ حتا } ١٠ = \frac{١}{٢} \times ٣٦ + \frac{\sqrt{٣}}{٢} \times ٣\sqrt{١٢} - ٠ \times ٣\sqrt{٤} + و \text{ حتا } ١٠$$

$$ص = و \text{ حتا } ١٠ + ٣\sqrt{٤} \text{ حتا } ٩٠ + ٣\sqrt{١٢} \text{ حتا } ١٥٠ + ٣٦ \text{ حتا } ٣٠٠$$

$$و \text{ حتا } ١٠ = \frac{\sqrt{٣}}{٢} \times ٣٦ + \frac{١}{٢} \times ٣\sqrt{١٢} + ١ \times ٣\sqrt{٤} + و \text{ حتا } ١٠$$

$$و \text{ حتا } ١٠ = ٣\sqrt{٨}$$

$$\therefore ع = ٨$$

$$\therefore ٦٤ = و \text{ حتا } ١٠ + و \text{ حتا } ١٠ - ٣\sqrt{١٦} + و \text{ حتا } ١٠ = ١٩٢$$

$$\therefore و = ١٦ - ٣\sqrt{١٦} + و \text{ حتا } ١٠ = ١٢٨ \quad (١)$$

$$\therefore ه = ٠$$

∴ ع تعمل في اتجاه الشرق

$$\therefore و = ٣\sqrt{٨} \quad (٢)$$

بالتعويض في (١) ينتج: $و = ١٦$ ث كجم ، بالتعويض في (٢) ينتج: $و = ٦٠$

أي أن: $و = ١٦$ ث كجم وتعمل في اتجاه ٦٠° شمال الشرق

٥ - ب د ع ه و سداسي منتظم مركزه م أثرت القوى ١، ٢، ٣، ٤، ٥، ٦ نيوتن في نقطة م في اتجاهات م، م، م، م، م، م على الترتيب أوجد محصلة القوى

الحل

من الشكل المقابل وملاحظة خواص السداسي المنتظم:

$$س = ٣ \text{ حتا } ٠ + ٤ \text{ حتا } ٦٠ + ٥ \text{ حتا } ١٢٠ + ٦ \text{ حتا } ١٨٠ + ١ \text{ حتا } ٢٤٠ + ٢ \text{ حتا } ٣٠٠$$

$$= ٣ + ٤ \text{ حتا } ٦٠ - ٥ \text{ حتا } ٦٠ - ٦ \text{ حتا } ٦٠ + ١ \text{ حتا } ٦٠ + ٢ \text{ حتا } ٦٠ = ٣$$

$$= ٣ - \frac{١}{٢} \times ٤ + \frac{١}{٢} \times ٥ - ٦ - \frac{١}{٢} \times ١ + \frac{١}{٢} \times ٢ = ٣$$

$$ص = ٣ \text{ حتا } ٠ + ٤ \text{ حتا } ٦٠ + ٥ \text{ حتا } ١٢٠ + ٦ \text{ حتا } ١٨٠ + ١ \text{ حتا } ٢٤٠ + ٢ \text{ حتا } ٣٠٠$$

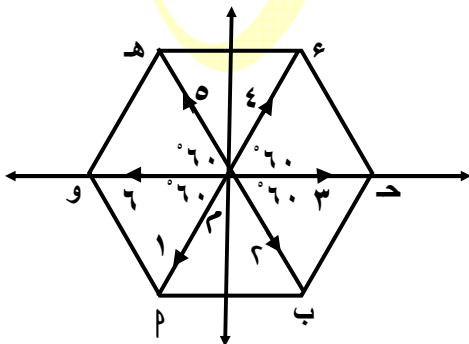
$$= ٣ + ٤ \text{ حتا } ٦٠ + ٥ \text{ حتا } ١٢٠ + ٦ \text{ حتا } ١٨٠ + ١ \text{ حتا } ٢٤٠ - ٢ \text{ حتا } ٦٠ = ٣$$

$$٣\sqrt{٣} = \frac{\sqrt{٣}}{٢} \times ٦ = ٦ \text{ حتا } ٦٠$$

$$\therefore ع = \sqrt{٩ + ٢٧} = ٦ \text{ نيوتن}$$

$$، \text{ ظاه} = \frac{\sqrt{٣} \times ٣}{٣} = \sqrt{٣}$$

∴ المحصلة = ٦ نيوتن وتعمل في اتجاه م ه

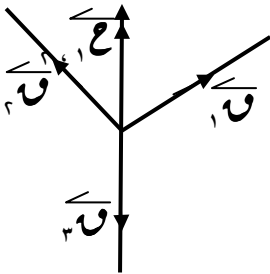


تمارين

- ١ - حلل قوة مقدارها ٤٠ ث جم تؤثر أفقياً إلى مركبتين يميلان على إتجاه القوة بزوايتين قياسهما ٣٠° ، ٥٠° وفي جهتين مختلفتين منها
- ٢ - حلل قوة مقدارها ١٤ ث كجم تؤثر في إتجاه يميل بزاوية قياسها ٣٠ شمال الشرق إلى مركبتين متعامدتين إحداهما تؤثر في الشرق
- ٣ - قوتان مقدارها ١٠ تؤثر في إتجاه زاوية قياسها ٥٠ شمال الغرب حيث طا هـ = $\frac{3}{4}$ فإذا حللت هذه القوة إلى مركبتين متعامدتين إحداهما تؤثر نحو الغرب و مقدارها ١٦ نيوتن أوجد ١٠ و مقدار المركبة الأخرى
- ٤ - جسم وزنه ٥٤ نيوتن موضوع على مستو يميل على الأفقى بزاوية قياسها ٣٠° أوجد مركبتى الوزن في إتجاه خط أكبر ميل للمستوى و الإتجاه العمودى عليه
- ٥ - ثلاث قوى مستوية مقدارها ٢ ، ٤ ، ٦ ث جم تؤثر في نقطة مادية في الإتجاهات ٣٠° شمال الشرق ، ٦٠° شمال الغرب ، الجنوب على الترتيب أوجد مقدار و إتجاه محصلة هذه القوى
- ٦ - أثرت القوى المستوية التى مقاديرها ٣ ، ٦ ، ٩ ، ١٢ ث كجم في نقطة مادية و كان قياس الزاوية بين الأولى و الثانية ٦٠° ، بين الثانية و الثالثة ٩٠° ، بين الثالثة و الرابعة ١٥٠° أوجد مقدار و إتجاه محصلة هذه القوى
- ٧ - أثرت القوى المستوية التى مقاديرها ٢ ، ١٠ ، ٥ ، ٧ ث جم في نقطة مادية بحيث كانت الأولى تعمل نحو الشرق ، و قياس الزاوية بين الأولى و الثانية هـ حيث حتا هـ = $\frac{3}{5}$ ، هـ حادة موجبة ، و القوة الثالثة تقع بين الشمال و الغرب و عمودية على القوة الثانية و الرابعة في إتجاه الجنوب أوجد مقدار و إتجاه محصلة هذه القوى
- ٨ - Δ ب د متساوى الأضلاع أثرت القوى التى مقاديرها ١٠ ، ١٢ ، ١٤ ث جم في نقطة و فى الإتجاهات \vec{b} ، \vec{d} ، \vec{a} على الترتيب أوجد مقدار و إتجاه محصلة هذه القوى
- ٩ - Δ ب د قائم الزاوية فى ب ، ب د = ٤٠ سم ، ب د = ٣٠ سم ، $\vec{a} \supseteq \vec{b}$ بحيث ب د = ٤٠ سم أثرت القوى التى مقاديرها ٨ ، ١٢ ، ١٥ ، ١٠ نيوتن فى نقطة و فى الإتجاهات \vec{b} ، \vec{d} ، \vec{a} ، \vec{c} على الترتيب أوجد مقدار و إتجاه محصلة هذه القوى
- ١٠ - ب د هـ هو سداسى منتظم مركزه م أثرت القوى ٢ ، ٤ ، ٨ ، ٢ ، ٤ نيوتن فى نقطة م فى الإتجاهات \vec{b} ، \vec{d} ، \vec{a} ، \vec{c} ، \vec{e} ، \vec{f} و على الترتيب أوجد محصلة القوى
- ١١ - ب د هـ مستطيل فيه ب د = ٧ سم ، ب د = ٣ سم ، و $\vec{a} \supseteq \vec{b}$ بحيث ب د = ٣ سم أثرت القوى ٢ ، ٣ ، ٥ ، ٦ ، ٢ ث كجم فى نقطة و فى الإتجاهات \vec{b} ، \vec{d} ، \vec{a} ، \vec{c} ، \vec{e} ، \vec{f} أوجد مقدار محصلة هذه القوى و أثبت أنها توازى \vec{b}
- ١٢ - ب د هـ مربع طول ضلعه ٤ سم ، هـ منتصف ب د ، و منتصف ع د أثرت القوى التى مقاديرها ١ ، ٢ ، ٣ ، ٤ ، ٥ ، ٦ نيوتن فى نقطة م فى الإتجاهات \vec{b} ، \vec{d} ، \vec{a} ، \vec{c} ، \vec{e} ، \vec{f} و على الترتيب أوجد مقدار و إتجاه محصلة هذه القوى
- ١٣ - ب د هـ مربع طول ضلعه ٨ سم ، هـ $\supseteq \vec{b}$ ، هـ $\supseteq \vec{d}$ ، هـ $\supseteq \vec{a}$ ، هـ $\supseteq \vec{c}$ ، هـ $\supseteq \vec{e}$ ، هـ $\supseteq \vec{f}$ سم أثرت القوى التى مقاديرها ٧ ، ٢ ، ٣ ، ٤ ، ٥ ، ٦ ، ٧ ، ٨ ، ٩ ، ١٠ ث جم فى نقطة ب فى الإتجاهات \vec{b} ، \vec{d} ، \vec{a} ، \vec{c} ، \vec{e} ، \vec{f} ، \vec{g} ، \vec{h} على الترتيب فإذا كان مقدار محصلة هذه القوى ١٠ ث جم أوجد ١٠ و إتجاه محصلة هذه القوى
- ١٤ - تؤثر قوى مقاديرها ١٠ ، ١٧ ، ١٤ ، ١٠ نيوتن فى نقطة مادية فى إتجاهات الشرق ، الشمال ، شمال الغرب بزواية قياسها ٣٠° ، جنوب الشرق بزواية قياسها ٦٠° على الترتيب و كانت محصلة هذه القوى مقدارها ١٥ نيوتن و تؤثر فى إتجاه ٦٠° شمال الشرق أوجد مقدارى ١٠ ، ١٠

توازن مجموعة من القوى المستوية المتلاقية في نقطة

* إذا أترن جسم تحت تأثير قوتين فقط تكون القوتين متساويتين في المقدار و متضادتين في الإتجاه و يكون خط عملهما واحد

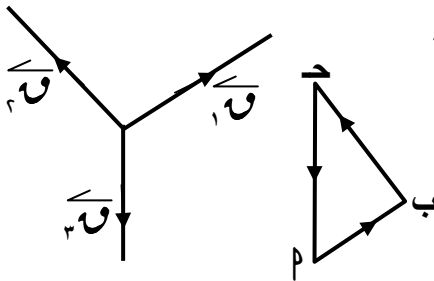


* إذا أترنت ثلاث قوى مستوية و متلاقية في نقطة فإن محصلة أى قوتين منها تكون مساوية في المقدار لمقدار القوة الثالثة و مضادة لها في الإتجاه و لهما نفس خط العمل لا حظ الشكل المقابل

* إذا أمكن تمثيل ثلاث قوى مستوية و متلاقية في نقطة بأضلاع مثلث مأخوذة في ترتيب دورى واحد فإن هذه القوى تكون متزنة

* لكى تتزن ثلاث قوى مستوية متلاقية في نقطة يجب أن تكون مقاديرها تصلح لأن تكون أطوال أضلاع مثلث

قاعدة مثلث القوى :



إذا أترنت ثلاث قوى مستوية و متلاقية في نقطة و رسم مثلث أضلاعه توازى خطوط عمل القوى الثلاث و فى إتجاه دورى واحد فإن أطوال أضلاع المثلث تتناسب مع مقادير القوى المناظرة من الشكل المقابل :

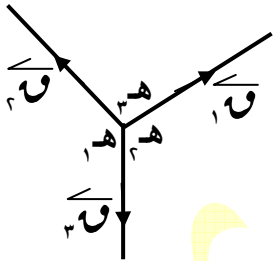
$$\frac{F_1}{b} = \frac{F_2}{c} = \frac{F_3}{a}$$

ملاحظات :

* من الممكن رسم مثلث القوى بحيث يكون ضلعان من أضلاعه محمولان على خطى عمل قوتين و الضلع الثالث يوازى خط عمل القوة الثالثة

* إذا مقادير ثلاث قوى متزنة و رسم مثلث أطوال أضلاعه تتناسب مع مقادير هذه القوى فإن قياسات زوايا المثلث تكون هى مكملات لقياسات الزوايا بين خطوط عمل القوى الثلاث

قاعدة لامي :



إذا أترنت ثلاث قوى مستوية و متلاقية في نقطة فإن مقدار كل قوة يتناسب مع جيب الزاوية المحصورة بين القوتين الأخرين من الشكل المقابل :

$$\frac{F_1}{\sin A} = \frac{F_2}{\sin B} = \frac{F_3}{\sin C}$$

تلاقى خطوط عمل القوى الثلاث المتزنة :

إذا أترن جسم تحت تأثير ثلاث قوى مستوية بحيث إتقى خطا عمل إثنين منها فى نقطة فإن خط عمل القوة الثالث لايد و أن يمر بهذه النقطة

توازن مجموعة من القوى المستوية المتلاقية في نقطة :

إذا إتزنت مجموعة من القوى المستوية و المتلاقية فى نقطة فإن المجموع الجبرى للمركبات الجبرية لهذه القوى فى كل من إتجاهين متعامدين يتلاشى

أى أن : إذا إتزنت مجموعة من القوى المستوية و المتلاقية فى نقطة

$$\sum V = 0, \sum H = 0$$

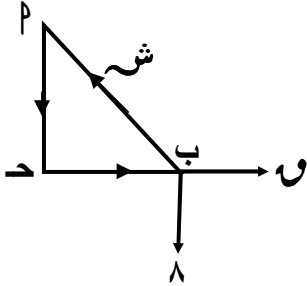
و بالتالى : إذا إتزنت مجموعة من القوى المستوية و المتلاقية فى نقطة فإن محصلة هذه القوى = صفر

أمثلة :

١ - جسم وزنه ٨ نيوتن معلق في أحد طرفي خيط طوله ٥٠ سم و الطرف الآخر للخيط مثبت في نقطة على حائط رأسى جذب الجسم بقوة أفقية حتى أتزن على بعد ٣٠ سم من الحائط أوجد مقدار القوة و مقدار الشد في الخيط

الحل

من الشكل المقابل : Δ ب ح هو مثلث القوى حيث : $ح = ٤٠$ سم " فيثاغورث "



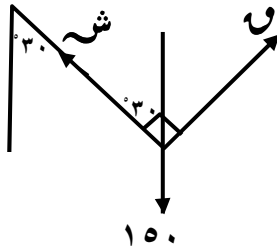
$$\frac{ش}{٣٠} = \frac{٨}{٤٠} = \frac{١}{٥}$$

$$\therefore ١ = \frac{٣٠ \times ٨}{٤٠} = ٦٠ \text{ نيوتن}$$

$$ش = \frac{٥٠ \times ٨}{٤٠} = ١٠ \text{ نيوتن}$$

٢ - جسم وزنه ١٥٠ ث جم معلق في أحد طرفي خيط خفيف طرفه الآخر مثبت في نقطة من سقف حجرة أثرت عليه قوة فأتزن عندما كان الخيط يصنع مع الرأسى زاوية قياسها ٣٠° و كانت القوة عمودية على الخيط أوجد مقدار القوة و مقدار الشد في الخيط

الحل



من الشكل المقابل : بتطبيق قاعدة لامى

$$\frac{١٥٠}{٩٠ \text{ ح}} = \frac{ش}{١٢٠ \text{ ح}} = \frac{١}{١٥٠}$$

$$\therefore ١ = \frac{١٥٠ \text{ ح} \times ١٥٠}{٩٠ \text{ ح}} = ٧٥ \text{ ث جم}$$

$$ش = \frac{١٢٠ \text{ ح} \times ١٥٠}{٩٠ \text{ ح}} = ٢٠٠ \text{ ث جم}$$

٣ - وضع جسم وزنه ٦ ث كجم على مستو أملس يميل على الأفقى بزاوية قياسها ٣٠° و حفظ توازنه بواسطة قوة أفقية أوجد مقدار القوة و رد فعل المستوى

الحل

الجسم متزن تحت تأثير ثلاث قوى هي : وزنه ، و القوة الأفقية

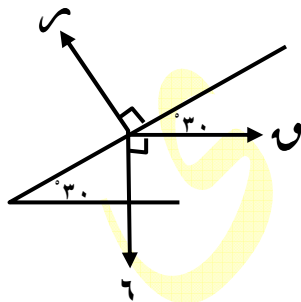
، قوة رد فعل المستوى و هي عمودية على المستوى

من الشكل المقابل : بتطبيق قاعدة لامى

$$\frac{٦}{٩٠ \text{ ح}} = \frac{٦}{١٢٠ \text{ ح}} = \frac{١}{١٥٠}$$

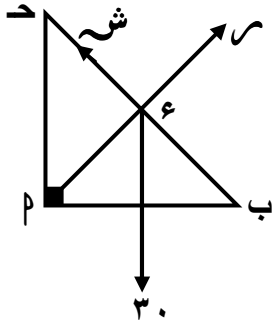
$$\therefore ١ = \frac{١٥٠ \text{ ح} \times ٦}{١٢٠ \text{ ح}} = ٤ \text{ ث كجم}$$

$$ح = \frac{٩٠ \text{ ح} \times ٦}{١٢٠ \text{ ح}} = ٢ \text{ ث كجم}$$



- ٤ - ب قضيب منتظم طوله ١٢٠ سم و وزنه ٣٠ ث جم يتصل بطرفه م بمفصل في حائط رأسى حفظ في حالة توازن في وضع أفقى بواسطة خيط خفيف يتصل بالطرف ب و بنقطة د على الحائط رأسياً فوق م بحيث م د = ٥٠ سم أوجد كل من مقدار قوتى الشد في الخيط و رد فعل المفصل

الحل



∴ القضيب متزن تحت تأثير ثلاث قوى

، ألتقى خطا عمل كل من وزنه و الشد في الخيط في نقطة ع
∴ خط عمل رد فعل المفصل لابد أن يمر بنقطة ع

من هندسة الشكل : ب د = ١٣٠ سم ، م د = ٥٠ سم ، م ب = ٦٥ سم

∴ ∆ م د ب هو مثلث القوى

$$\therefore \frac{30}{50} = \frac{\text{ش}}{65} = \frac{\text{م}}{65} \text{ ومنها ش} = \text{م} = 39 \text{ ث جم}$$

- ٥ - أثرت القوى ٩ ، ٦ ، ٤ ، ٢ ، ٥ نيوتن في نقطة واحدة و تحصر بين اتجاهاتها بين كل قوتين متتاليتين زوايا قياسها ٩٠ ، ٤٥ ، ٩٠ ، ٤٥ على الترتيب لأثبت أن هذه القوى متزنة

الحل

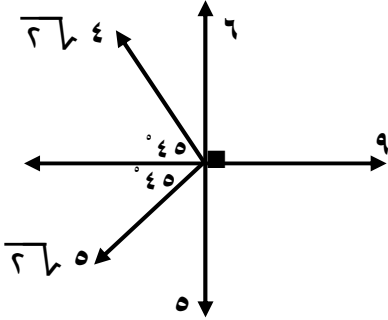
من الشكل :

$$\text{ص} = 9 - 6 = 3 \text{ حتا } 45^\circ - 45^\circ \text{ حتا } 2 = 0$$

$$\text{ص} = 6 + 4 = 10 \text{ حتا } 45^\circ - 45^\circ \text{ حتا } 5 = 0$$

$$\therefore \text{ع} = 0$$

∴ القوى متزنة



- ٦ - أثرت القوى ٥ ، ٧ ، ٩ ، ٣ ، ٦ ، ٤ نيوتن في نقطة واحدة ، قياس الزاوية بين كل قوتين متتاليتين ٦٠ ، فإذا كانت القوى متزنة أوجد ٧ ، ٤

الحل

∴ القوى متزنة ∴ ص = ٠ ، س = ٠

$$\therefore 5 + 7 \text{ حتا } 60^\circ \text{ حتا } 6 + 9 \text{ حتا } 60^\circ \text{ حتا } 3 - 6 = 0$$

$$\therefore \frac{1}{6} + 7 \frac{1}{6} + 9 \frac{1}{6} - 6 + 3 = 0$$

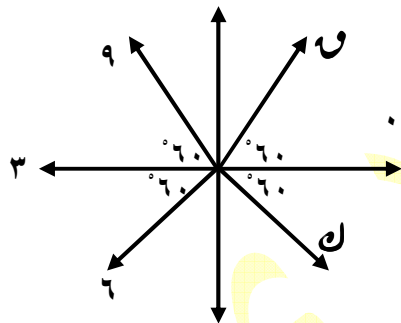
$$\therefore 11 = 6 + 7 \quad (1)$$

$$\therefore 7 \text{ حتا } 60^\circ - 6 \text{ حتا } 60^\circ + 9 \text{ حتا } 60^\circ \text{ حتا } 3 = 0$$

$$\therefore \frac{3\sqrt{3}}{2} + 9 \frac{\sqrt{3}}{2} - 6 \frac{\sqrt{3}}{2} + 3 = 0$$

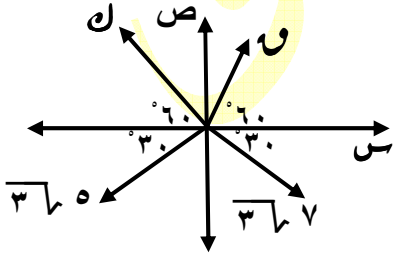
$$\therefore 7 - 6 = 3 \quad (2)$$

بحل (١) ، (٢) معاً ينتج : ٧ = ٤ نيوتن ، ٧ = ٧ نيوتن



تمارين

- ١ - جسم وزنه ٢٤ نيوتن معلق في أحد طرفي خيط طوله ١٣٠ سم و طرفه الآخر مثبت في نقطة من حائط رأسى أثرت قوة أفقية عليه فأتزن أوجد مقدار قوة الشد في الخيط عندما :
- ٢ - يكون الجسم على بعد ٥٠ سم من الحائط
ب - عندما يميل الخيط على الرأسى بزاوية قياسها ٣٠°
- ٢ - كرة مصمتة وزنها ١٥ ث كجم و طول نصف قطرها ٣٠ سم علق بواسطة خيط طوله ٢٠ سم من نقطة على سطحها و ثبت الطرف الآخر في نقطة في حائط رأسى أعلى نقطة التماس لسطح الكرة مع الحائط أوجد في وضع التوازن مقدار قوة الشد في الخيط و الضغط على الحائط
- ٣ - علق جسم وزنه ٦٨ نيوتن بواسطة خيطين طولهما ٨ سم ، ١٥ سم و ثبت الطرف الآخر لهما في نقطتين في مستوى أفقى واحد البعد بينهما ١٧ سم أوجد في وضع التوازن مقدار قوة الشد في كل من الخيطين
- ٤ - جسم وزنه ٦ نيوتن موضوع على مستوى يميل على الأفقى بزاوية قياسها ٣٠° فأتزن تحت تأثير قوة شد في إتجاه خط أكبر ميل للمستوى لأعلى أوجد مقدار هذه القوة و مقدار رد فعل المستوى على الجسم
- ٥ - مستوى أملس يميل على الأفقى بزاوية جيبها $\frac{3}{5}$ وضع جسم وزنه ١٢ ث جم و حفظ من الإنزلاق " إتزن " بتأثير قوة أفقية أوجد مقدار هذه القوة و مقدار رد فعل المستوى على الجسم
- ٦ - ٢ ب قضيب منتظم وزنه ٥٠ نيوتن يستند في حالة توازن بطرفه ٢ على حائط رأسى أملس و بطرفه ب على مستوى أملس يميل على الحائط بزاوية قياسها ٤٥° أوجد مقدار رد فعل الحائط و رد فعل المفصل على طرفي القضيب
- ٧ - ٢ ب قضيب منتظم طوله ٢٥٠ و وزنه ٧٥٠ ث جم ربط طرفيه بخيطين خفيفين طولهما ٧٠ سم ، ٢٤٠ سم و ثبت الطرفان الآخران للخيطين في نقطة د في سقف حجرة أوجد في وضع التوازن مقدار قوة الشد في كل من الخيطين
- ٨ - سلم منتظم وزنه ٢٤ ث كجم يستند بأحد طرفيه على حائط رأسى أملس عند نقطة على ارتفاع ٢.٤ م من سطح الأرض و يرتكز بطرفه الآخر على أرض أفقية خشنة تبعد عن الحائط ٢ م أوجد مقدار قوتي رد فعل كل من الحائط و الأرض على السلم
- ٩ - أثرت قوى مقاديرها ٣٥ ، ٥ ، ١٢ ، ٢٣ ، ١٧ ث جم في نقطة مادية وكان قياس الزاوية بين إتجاهي كل قوتين متتاليين ٦٠° أثبت أن النقطة متزنة
- ١٠ - أثرت القوى المستوية ٩ ، ٨ ، ١٠ ، ٢ ، ٢ ث جم في نقطة مادية و كان قياس الزوايا بين كل قوتين متتاليتين كالآتى ١٣٥° ، ٩٠° ، ٤٥° على الترتيب فإذا كانت القوى متزنة أوجد كلاً من ٩ ، ١٠
- ١١ - ٢ ب د ع مربع ، هـ ٢ أثرت القوى التي مقاديرها ٤ ، ٤ ، ٣ ، ١٠ ث جم في نقطة ب في الإتجاهات ب \vec{A} ، ب \vec{B} ، ع \vec{C} ، ب \vec{D} ، على الترتيب فإذا كانت هذه القوى متزنة أوجد :
٩ (٢ ب هـ) و قيمة ٩
- ١٢ - في الشكل المقابل : قوى مقاديرها ٩ ، ١٠ ، ٣ ، ٥ ، ٧ ث جم نيوتن تؤثر في نقطة و تصنع مع محور السينات زوايا قياساتها كما بالشكل فإذا كانت القوى متزنة أوجد كل من ٩ ، ١٠

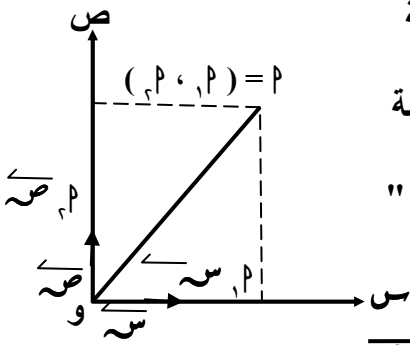


- ١٣ - خيط خفيف طوله ٢٥ سم مثبت من نهايته في مسمارين ب ، د يقعان على خط أفقى واحد ، ب د = ١٥ سم لخصمت حلقة صغيرة ملساء وزنها ١٢٥ ث جم في الخيط ثم جذبت بقوة أفقية حتى أتزنت رأسياً أسف نقطة د أوجد مقدار الشد في كل من فرعي الخيط عندئذ و مقدار القوة الأفقية

العزوم

مفاهيم أساسية :

- * الكمية المتجهة : هي الكمية التي تتعين بمعرفة مقدارها وإتجاهها مثل : الإزاحة ، السرعة ، العجلة ، القوة
- * الكمية القياسية : هي الكمية التي تتعين بمعرفة مقدارها مثل : الزمن ، الكتلة ، الحجم
- * معيار المتجه : إذا كان \vec{p} متجه فإن مقداره يسمى معيار المتجه ويرمز بالرمز p أو $\|\vec{p}\|$
- * يمكن تمثيل المتجه هندسياً بقطعة مستقيمة موجهة بحيث يكون طولها ممثلاً لمعيار المتجه " وفق مقياس رسم مناسب " وإتجاهها هو إتجاه المتجه
- * متجه الموضع لنقطة معلومة :
- إذا كانت $\vec{p} = (p_x, p_y)$ وفق نظام إحداثي متعامد فيه :



- \vec{s} متجه وحدة أساسي " متجه تمثله قطعة مستقيمة موجهة مبدؤها نقطة الأصل " و " لنظام إحداثي متعامد ومعياره الوحدة في إتجاه \vec{s} و \vec{v} ،
- \vec{v} متجه وحدة أساسي " متجه تمثله قطعة مستقيمة موجهة مبدؤها نقطة الأصل " و " لنظام إحداثي متعامد ومعياره الوحدة في إتجاه \vec{v} و \vec{s} فإن : و \vec{p} " \vec{p} " يسمى متجه الموضع لنقطة p بالنسبة لنقطة الأصل " و " ، يسمى p_x المركبة الجبرية للمتجه \vec{p} في إتجاه \vec{s} ، يسمى p_y المركبة الجبرية للمتجه \vec{p} في إتجاه \vec{v} ،

$$* \text{ إذا كان } \vec{p} = (p_x, p_y) = p_x \vec{s} + p_y \vec{v} \text{ فإن } \sqrt{p_x^2 + p_y^2} = p$$

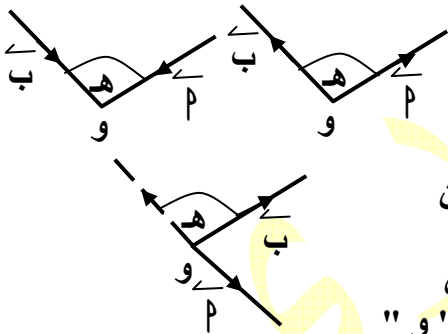
$$* \text{ إذا كان } \vec{p} = p_x \vec{s} + p_y \vec{v} \text{ ، } \vec{b} = b_x \vec{s} + b_y \vec{v} \text{ و كان :}$$

$$* \vec{b} - \vec{b}' = \vec{p} - \vec{b}' = (p_x - b'_x) \vec{s} + (p_y - b'_y) \vec{v}$$

$$* \vec{p} \parallel \vec{b}' \text{ فإن } p_x b'_y - p_y b'_x = \text{صفر}$$

$$* \vec{p} \perp \vec{b}' \text{ فإن } p_x b'_x + p_y b'_y = \text{صفر}$$

* الزاوية بين متجهين :



هي الزاوية الصغرى المحصورة قطعتين مستقيمتين موجهتين لهما نفس نقطة البداية أو النهاية " خارجتين من (داخلتين في) نفس النقطة "

* إذا كان h قياس الزاوية الصغرى بين متجهين فإن $0^\circ \leq h \leq 180^\circ$

ملاحظة :

في الشكل المقابل : إذا كانت القطعتان المستقيمتان الموجهتان لمتجهين إحداهما خارجة من نقطة " و " ، و الأخرى خارجة من نقطة " و " فإن : الزاوية الصغرى بين المتجهين تكون هي الزاوية المحصورة بين إحدى القطعتين الموجهتين و إمتداد القطعة الموجهة الأخرى من جهة " و "

* حاصل الضرب القياسي لمتجهين :

هو الكمية القياسية المساوية لحاصل ضرب معيار المتجه الأول في معيار المتجه الثاني في جيب تمام الزاوية الصغرى المحصورة بينهما

$$\text{أى أن : } \vec{p} \odot \vec{b} = p b \cos h$$

حيث : $\vec{p} \odot \vec{b}$ حاصل الضرب القياسي ، p ، b معيارى المتجهين

$$* \text{ إذا كان } \vec{p} = p_x \vec{s} + p_y \vec{v} \text{ ، } \vec{b} = b_x \vec{s} + b_y \vec{v}$$

$$\text{فإن : } \vec{p} \odot \vec{b} = p_x b_x + p_y b_y$$

* نتائج :
 حيث : $\vec{0}$ هو المتجه الصفري $\vec{0} = \vec{0} \otimes \vec{0} = \vec{0} \otimes \vec{p} = \vec{0} \otimes \vec{b}$
 $\vec{p} \otimes \vec{b} = \vec{b} \otimes \vec{p}$

* حاصل الضرب القياسي لأي متجه في نفسه يساوي مربع معياره

أي أن : لأي متجه \vec{p} يكون : $\vec{p} = \vec{p} \otimes \vec{p}$

* حاصل الضرب القياسي لمتجهين غير صفريين يكون :

* موجباً إذا كانت الزاوية الصغرى حادة

* سالباً إذا كانت الزاوية الصغرى منفرجة

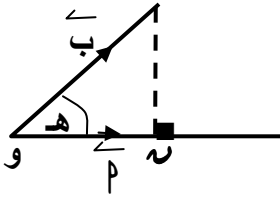
* صفراً إذا كانت الزاوية الصغرى قائمة

* المسقط الجبري لمتجه في اتجاه متجه آخر :

المسقط الجبري للمتجه \vec{b} في اتجاه المتجه \vec{p} هو الكمية القياسية $b \cos \theta$ حيث θ هو قياس الزاوية الصغرى المحصورة بين المتجهين ،

و يكون موجباً أو سالباً أو صفراً حسب نوع الزاوية θ حادة أو منفرجة أو قائمة

في الشكل المقابل :



و $b \cos \theta$ هي مسقط \vec{b} في اتجاه \vec{p}

ملاحظة :

$$\vec{p} \otimes \vec{b} = \vec{b} \otimes \vec{p} = \text{المسقط الجبري للمتجه } \vec{b} \text{ في اتجاه المتجه } \vec{p}$$

$$= \vec{b} \otimes \vec{p} = \text{المسقط الجبري للمتجه } \vec{p} \text{ في اتجاه المتجه } \vec{b}$$

* نتيجة :

$$\vec{s} \otimes \vec{s} = \vec{s} \otimes \vec{s} = 1, \quad \vec{s} \otimes \vec{v} = \vec{v} \otimes \vec{s} = 0, \quad \vec{s} \otimes \vec{s} = 0$$

* متجه الوحدة في اتجاه متجه معلوم :

$$\frac{\vec{p}}{\|\vec{p}\|} \text{ هو المتجه متجه الوحدة في اتجاه } \vec{p}$$

* المركبة الجبرية للمتجه \vec{v} في اتجاه المتجه \vec{p}

$$= \vec{v} \otimes \frac{\vec{p}}{\|\vec{p}\|} \text{ " المسقط الجبري "}$$

* حاصل الضرب الإتجاهي لمتجهين :

إذا كان \vec{p} ، \vec{b} متجهين غير صفريين فإن حاصل الضرب الإتجاهي للمتجه \vec{p} في المتجه \vec{b}

" يرمز له بالرمز $\vec{p} \times \vec{b}$ " يعرف كالآتي : $\vec{p} \times \vec{b} = (\|\vec{p}\| \|\vec{b}\| \sin \theta) \vec{e}$

حيث θ قياس الزاوية الصغرى بين المتجهين ، \vec{e} متجه وحدة عمودي على المستوى الذي يقع فيه المتجهين

إذا كان : $\vec{p} = p_1 \vec{s} + p_2 \vec{v}$ ، $\vec{b} = b_1 \vec{s} + b_2 \vec{v}$ فإن :

$$\vec{p} \times \vec{b} = (p_1 b_2 - p_2 b_1) \vec{e}$$

حيث : \vec{e} متجه وحدة عمودي على الذي يجمع \vec{s} ، \vec{v} " \vec{s} ، \vec{v} ، \vec{e} مجموعة يمينية "

* ملاحظات و نتائج :

$$\vec{p} \times \vec{p} = \vec{0} \text{ ، معياره } = \|\vec{p} \times \vec{p}\| = 0 \text{ ، } \vec{p} \times \vec{b} = \vec{b} \times \vec{p}$$

$$\frac{\vec{p} \times \vec{b}}{\|\vec{p} \times \vec{b}\|} = \text{متجه الوحدة في اتجاه } \vec{p} \times \vec{b} \text{ هو المتجه } \vec{e}$$

$$\vec{0} = \vec{0} \times \vec{0} = \vec{p} \times \vec{0} = \vec{0} \times \vec{p}$$

$$\vec{p} \times (\vec{b} \times \vec{c}) = (\vec{p} \times \vec{b}) \times \vec{c} - \vec{b} \times (\vec{p} \times \vec{c})$$

$$\vec{0} = \vec{p} \times \vec{b} \text{ ، فإن } \vec{p} \times \vec{b} = \vec{0}$$

$$\begin{aligned} \vec{c} &= \vec{s} \times \vec{v} , & \vec{s} &= \vec{c} \times \vec{v} , & \vec{c} &= \vec{s} \times \vec{v} * \\ \vec{c} - &= \vec{s} \times \vec{v} - & \vec{s} - &= \vec{c} \times \vec{v} - & \vec{c} - &= \vec{s} \times \vec{v} * \\ \vec{s} - &= \vec{c} \times \vec{v} - & \vec{c} - &= \vec{s} \times \vec{v} - & \vec{s} - &= \vec{c} \times \vec{v} * \\ \vec{v} - &= \vec{s} \times \vec{c} - & \vec{v} - &= \vec{s} \times \vec{c} - & \vec{v} - &= \vec{s} \times \vec{c} * \end{aligned}$$

* المعنى الهندسي لمعيار حاصل الضرب الإتجاهي لمتجهين :

معيار حاصل الضرب الإتجاهي لأي متجهين يمثلته هندسياً مساحة سطح متوازي الأضلاع الذي فيه القطعتين المستقيمتين الموجهتين الممثلتين لهذين المتجهين ضلعين متجاورين فيه أو يساوي ضعف مساحة سطح المثلث الذي فيه هاتين القطعتين ضلعين في المثلث

أمثلة :

١ - أوجد قياس الزاوية بين المتجهين $\vec{p} = 4\vec{s} + 3\vec{v}$ ، $\vec{b} = (0, 4)$
ثم عين المسقط الجبري للمتجه \vec{p} في إتجاه المتجه \vec{b}

الحل

$$\vec{p} \odot \vec{b} = 4 \times 3 + 0 \times 4 = 12$$

$$p = \sqrt{16 + 9} = 5 , \quad b = \sqrt{0 + 16} = 4$$

$$\therefore p \odot b = 12 \quad \therefore 4 \times 5 = 12 \quad \therefore \text{حتاه} = \frac{12}{5}$$

$$\therefore h = \frac{12}{5}$$

المسقط الجبري للمتجه \vec{p} في إتجاه المتجه \vec{b} = $p \cos \theta = \frac{12}{5}$ ،

٢ - إذا كان $\vec{p} = 4\vec{s} + 3\vec{v}$ ، $\vec{b} = 8\vec{s} + 5\vec{v}$ أوجد :

$\vec{p} \times \vec{b}$ و فسر المعنى الهندسي لمعياره ثم أوجد متجه وحدة عمودي على كل من هذين المتجهين

الحل

$$\vec{p} \times \vec{b} = (\vec{p}_1, \vec{p}_2) - (\vec{b}_1, \vec{b}_2) = \vec{c} (8 \times 3 + 5 \times 4 -) = \vec{c} (24 + 20 -) = \vec{c} (44 -)$$

$$\therefore \|\vec{p} \times \vec{b}\| = 44 = \text{وحدة مساحة}$$

أي أن : مساحة سطح متوازي الأضلاع الذي فيه ضلعان متجاوران يمثلان هذين المتجهين = 44 وحدة مساحة

$$\text{متجه الوحدة العمودي على كل من هذين المتجهين} = \frac{1}{44} (\vec{p} \times \vec{b})$$

٣ - إذا كانت $\vec{p} = (1, 2)$ ، $\vec{b} = (-3, 2)$ ، $\vec{d} = (3, 6)$ أثبت أن $\vec{p} \perp \vec{b}$ ثم أوجد

المركبة الجبرية للقوة \vec{w} = $6\vec{s} + 4\vec{v}$ في إتجاه \vec{p}

، إذا كانت $\vec{e} = (3, 6)$ أوجد قيمة n التي تجعل $\vec{p} \parallel \vec{e}$

الحل

$$\vec{p} \odot \vec{b} = 1 \times 2 - 2 \times (-3) = 2 + 6 = 8 \neq 0$$

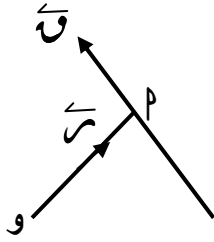
$$\vec{w} \odot \vec{p} = \frac{6 \times 1 + 4 \times 2}{\sqrt{1 + 4}} = \frac{14}{\sqrt{5}}$$

$$\therefore \vec{p} \parallel \vec{e}$$

$$\therefore n = 1 \times 3 - 2 \times 6 = -9$$

عزم قوة بالنسبة لنقطة :

* تعريف :

يعرف عزم القوة \vec{Q} بالنسبة للنقطة " و " وويرمز له بالرمز \vec{M}_O على أنه الكمية المتجهة $\vec{r} \times \vec{Q}$ أي أن : $\vec{M}_O = \vec{r} \times \vec{Q}$ حيث : \vec{r} متجه الموضع لأي نقطة " م مثلاً " على خط عمل القوة بالنسبة للنقطة " و "

ملاحظات :

$$1- \|\vec{M}_O\| = r \sin \alpha = l \sin \alpha$$

حيث : α قياس الزاوية الصغرى بين \vec{r} ، \vec{Q} ، $l = r \cos \alpha$ ، l هو ذراع القوة (طول العمود الساقط على خط عمل القوة من النقطة " و "2- وحدة قياس معيار عزم قوة بالنسبة لنقطة = وحدة قياس طول \times وحدة قياس معيار قوة

3- عزم قوة بالنسبة لنقطة ثابت لأي نقطة على خط عمل القوة

4- عزم قوة بالنسبة لأي نقطة على خط عملها هو المتجه الصغرى

" معيار عزم قوة بالنسبة لأي نقطة على خط عملها = صفر "

أو يساوى ضعف مساحة سطح المثلث الذي فيه هاتين القطعتين ضلعين في المثلث

أمثلة :

1- القوة $\vec{Q} = 4\vec{s} - 3\vec{v}$ تؤثر في النقطة $د = (8, 5)$ أوجد عزم هذه القوة بالنسبة للنقطة $ب = (5, 3)$ ثم أوجد طول العمود المرسوم من $ب$ على خط عمل هذه القوة

الحل

$$\vec{r} = \vec{b} - \vec{d} = \vec{b} - \vec{d} = \vec{s}_2 - \vec{s}_3 = \vec{s}_2 + \vec{v}_3 - \vec{s}_3$$

$$\vec{M}_B = \vec{r} \times \vec{Q} = (\vec{s}_2 + \vec{v}_3 - \vec{s}_3) \times (4\vec{s} - 3\vec{v}) = 18\vec{e}$$

$$\therefore \|\vec{M}_B\| = 18 = \|\vec{Q}\| \cdot l \Rightarrow l = \frac{18}{\sqrt{16+9}} = 3$$

$$\therefore \text{طول العمود المرسوم من } ب \text{ على خط عمل القوة} = \frac{18}{3} = 6$$

2- قوة $\vec{Q} = 4\vec{l} + 3\vec{m}$ تؤثر في النقطة $د = (3, 1)$ ، القياس الجبرى لعزمها بالنسبةللنقطة $ب = (1, 5)$ يساوى 21 وحدة عزم ، و ينعدم عزمها بالنسبة للنقطة $ع = (7, 2)$ أوجد مقدار \vec{Q} و معادلة خط عملها

الحل

$$\vec{r}_1 = \vec{b} - \vec{d} = (1, 5) - (3, 1) = (-2, 4)$$

$$\therefore \vec{M}_B = \vec{r}_1 \times \vec{Q} = (-2, 4) \times (4\vec{l} + 3\vec{m}) = 21\vec{e} \quad (1)$$

$$\vec{r}_2 = \vec{c} - \vec{d} = (7, 2) - (3, 1) = (4, 1)$$

$$\therefore \vec{M}_C = \vec{r}_2 \times \vec{Q} = (4, 1) \times (4\vec{l} + 3\vec{m}) = 0 \quad (2)$$

$$\therefore \text{بحل (1)، (2) ينتج : } 4 = 3\vec{m} - 4\vec{l} \quad (1)$$

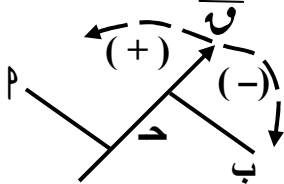
$$\therefore \text{ميل } \vec{Q} = \frac{4}{3} \quad \therefore \text{معادلة خط عملها هي : } 4 = 3 + 4(\text{س} - 1)$$

عزوم القوى المستوية :

جميع متجهات عزوم القوى المستوية " التي تقع خطوط عملها في مستو واحد " بالنسبة لنقطة واقعة في نفس المستوى تكون متوازية و عمودية على مستوى هذه القوى و معيار كل منها يساوي حاصل ضرب معيار القوة في طول العمود الساقط من النقطة على خط عملها

قاعدة الإشارة لعزم قوة حول نقطة :

عزم قوة حول نقطة يكون موجباً إذا كانت القوة تعمل على الدوران حول النقطة في عكس اتجاه دوران عقارب الساعة ، و يكون سالباً إذا كانت القوة تعمل على الدوران حول النقطة في نفس اتجاه دوران عقارب الساعة ، و يكون صفراً إذا كان خط عمل القوة يمر بنفس النقطة



ففي الشكل المقابل :

عزم P حول O موجب

عزم P حول B سالب

عزم P حول C = صفر

نتائج :

* إذا كان عزم P حول O = عزم P حول B

فإن خط عمل P // OB

* إذا كان عزم P حول O = - (عزم P حول B)

فإن خط عمل P يمر بمنتصف OB

نظرية العزوم :

مجموع عزوم عدة قوى متلاقية في نقطة بالنسبة لأي نقطة في الفراغ يساوي عزم محصلة هذه القوى بالنسبة لنفس النقطة

أمثلة :

١ - P, B, C, D, E, H نقط على مستقيم واحد حيث $P = B = 2, C = 3, D = 6, E = 2, H = 10$ سم

أثرت القوى التي مقاديرها $30, 20, 15, 10, 25$ نيوتن P, D, C, B, E على الترتيب

في اتجاه عمودي على P بحيث كانت القوتين عند B, E في اتجاه مضاد للقوى عند P, C, D, H

أوجد المجموع الجبري لعزوم هذه القوى حول C, E, P

الحل

المجموع الجبري لعزوم هذه القوى حول C =

$$= -30 \times P + 10 \times B + 20 \times C - 20 \times D + 15 \times E - 25 \times H$$

$$= -30 \times 30 + 10 \times 20 + 20 \times 20 - 20 \times 30 + 15 \times 15 - 25 \times 10$$

$$= -700 \text{ نيوتن } \cdot \text{سم}$$

المجموع الجبري لعزوم هذه القوى حول E =

$$= -30 \times P + 10 \times B + 6 \times C - 6 \times D + 15 \times E - 25 \times H$$

$$= -30 \times 30 + 10 \times 20 + 6 \times 20 - 6 \times 30 + 15 \times 15 - 25 \times 10$$

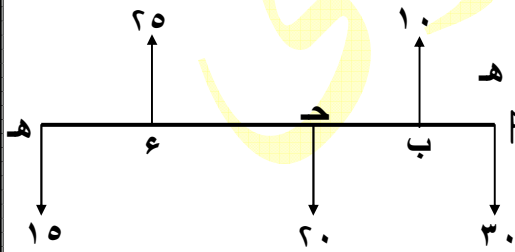
$$= -1600 \text{ نيوتن } \cdot \text{سم}$$

المجموع الجبري لعزوم هذه القوى حول P =

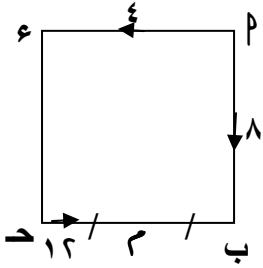
$$= -30 \times 0 + 10 \times B + 20 \times C - 20 \times D + 15 \times E - 25 \times H$$

$$= -30 \times 0 + 10 \times 20 + 20 \times 20 - 20 \times 30 + 15 \times 15 - 25 \times 10$$

$$= -200 \text{ نيوتن } \cdot \text{سم}$$



٢- ب د ع مربع طول ضلعه أثرت القوى ٨ ، ٤ ، ١٢ نيوتن في م ب ، م ع ، د ب على الترتيب
أوجد مجموع عزوم هذه القوى حول كل من : ع ، منتصف ب د



الحل

$$\begin{aligned} \text{مجموع عزوم هذه القوى حول كل من ع} &= \\ &= 10 \times 12 - 0 \times 4 + 10 \times 8 = 40 \text{ نيوتن} \cdot \text{سم} \\ \text{مجموع عزوم هذه القوى حول كل من منتصف م ب} &= \\ &= 10 \times 12 - 10 \times 4 + 0 \times 8 = 50 \text{ نيوتن} \cdot \text{سم} \end{aligned}$$

٣- تؤثر القوة \vec{Q} = $\vec{S}_3 - \vec{S}_2$ في النقطة هـ (١ ، ٤) فإذا كانت ب = (٢ ، ١) ،
د = (٠ ، ٢) ، ع = (٢ ، ٤) أثبت أن خط عمل \vec{Q} يوازي $\vec{B D}$ ويمر بمنتصف د ع

الحل

$$\begin{aligned} \vec{S}_3 - \vec{S}_2 &= (2, 1) - (1, 4) = \vec{S}_1 \\ \vec{Q} &= \vec{S}_3 - \vec{S}_2 = \vec{S}_1 \end{aligned}$$

$$\begin{aligned} \vec{S}_6 + \vec{S}_2 &= (0, 2) - (1, 4) = \vec{S}_4 \\ \vec{Q} &= \vec{S}_6 + \vec{S}_2 = \vec{S}_4 \end{aligned}$$

$$\begin{aligned} \vec{S}_3 &= (2, 4) - (1, 4) = \vec{S}_5 \\ \vec{Q} &= \vec{S}_3 = \vec{S}_5 \end{aligned}$$

$$\vec{Q} \parallel \vec{B D} \quad \therefore \vec{Q} = \vec{S}_1$$

$$\vec{Q} \parallel \vec{D E} \quad \therefore \vec{Q} = \vec{S}_4$$

٤- تؤثر القوى $\vec{Q}_1 = \vec{S}_2 + \vec{S}_3$ ، $\vec{Q}_2 = \vec{S}_5 + \vec{S}_6$ ، $\vec{Q}_3 = \vec{S}_2 + \vec{S}_3$ في نقطة د (٢ ، ٣) اثبت أن خط عمل المحصلة لهذه القوى يمر بنقطة الأصل " و " ،
ثم أوجد طول العمود الساقط من نقطة ب (١ ، ١) على خط عمل المحصلة

الحل

$$\vec{S}_2 - \vec{S}_3 = \vec{S}_7$$

مجموع عزوم القوى حول " و " = $\vec{Q}_1 \times \vec{S}_7 + \vec{Q}_2 \times \vec{S}_7 + \vec{Q}_3 \times \vec{S}_7 = 0$

$$\begin{aligned} (\vec{S}_2 + \vec{S}_3) \times (\vec{S}_2 - \vec{S}_3) &= (\vec{Q}_1 + \vec{Q}_2 + \vec{Q}_3) \times \vec{S}_7 = \\ &= 0 \quad \therefore \vec{Q}_1 + \vec{Q}_2 + \vec{Q}_3 = 0 \end{aligned}$$

\therefore خط عمل المحصلة لهذه القوى يمر بنقطة الأصل " و "

$$\vec{S}_1 = (3, 2) - (1, 1) = (2, 1)$$

$$\vec{Q}_1 \times \vec{S}_7 = (\vec{S}_2 + \vec{S}_3) \times (\vec{S}_2 - \vec{S}_3) = 0$$

$$\begin{aligned} \text{طول العمود الساقط من ب على خط عمل المحصلة} &= \frac{\|\vec{B S}_7\|}{\|\vec{S}_7\|} = \frac{5}{\sqrt{5}} = \sqrt{5} \end{aligned}$$

تمارين

- ١ - إذا كانت $\vec{p} = (1, 1)$ ، $\vec{b} = (5, -2)$ ، $\vec{d} = (3, 6)$ أوجد قيمة $\vec{p} \times \vec{b}$
- ثم أحسب مساحة سطح المثلث \vec{p} ب \vec{d}
- ٢ - إذا كانت \vec{p} ، \vec{b} ، \vec{d} متجهات وحدة بحيث كان قياس الزاوية بين \vec{p} ، \vec{b} = قياس الزاوية بين $(\vec{p} \times \vec{b})$ ، \vec{d} = \vec{h} أثبت أن $(\vec{p} \times \vec{b}) \odot \vec{d} = \frac{1}{2} \vec{h}$
- ٣ - إذا كانت $\vec{v}_1 = \vec{s}_2 - \vec{s}_3$ تؤثر في نقطة $\vec{p} = (3, -1)$ وكانت $\vec{b} = (1, -2)$ أوجد المركبة الجبرية للقوة \vec{v} لإي إتجاه \vec{p}
- ٤ - إذا كان $\vec{p} = 8$ ، $\vec{b} = 5$ أثبت أن $(\vec{p} \odot \vec{b}) + \|\vec{p} \times \vec{b}\| = 1600$
- ٥ - إذا كانت \vec{v}_1 ، \vec{v}_2 ، \vec{v}_3 ثلاث متجهات يمثلها تمثيلاً تاماً أضلاع المثلث \vec{p} ب \vec{d} مأخوذة في ترتيب دوري واحد أثبت أن $\vec{v}_1 \times \vec{v}_2 = \vec{v}_2 \times \vec{v}_3 = \vec{v}_3 \times \vec{v}_1$
- ٦ - إذا كانت $\vec{v} = \vec{m} - \vec{s}_3 - \vec{s}_2$ تؤثر في نقطة $\vec{p} = (5, 3)$ وكان عزمها بالنسبة لنقطة $\vec{b} = (7, -4)$ يساوي 20 ع أوجد قيمة \vec{m}
- ٧ - تؤثر القوى $\vec{v}_1 = \vec{s}_2 - \vec{s}_3$ ، $\vec{v}_2 = \vec{s}_5 - \vec{s}_3$ ، $\vec{v}_3 = \vec{s}_3 - \vec{s}_2 + \vec{s}_2$ في نقطة $\vec{p} = (3, -5)$ أوجد متجه عزم محصلة هذه القوى حول النقطة $\vec{b} = (1, 7)$ ثم أوجد البعد بين خط عمل المحصلة ونقطة \vec{b} و أثبت أن خط عمل المحصلة يمر بالنقطة $\vec{d} = (5, -1)$
- ٨ - إذا كانت $\vec{b} = (1, 2)$ ، $\vec{d} = (9, -4)$ وكان متجه عزم القوة \vec{v} هو المتجه الصفري، و متجه عزمها حول $\vec{b} =$ عزمها حول $\vec{d} = 5.5$ ع عين معيار القوة و بعد خط عملها عن \vec{b}
- ٩ - Δ \vec{p} ب \vec{d} قائم الزاوية في \vec{b} فيه $\vec{p} = 12$ سم، $\vec{b} = 16$ سم أثرت قوة في مستوى المثلث و كان عزمها حول $\vec{p} =$ عزمها حول $\vec{d} = 72$ ث جم 0 سم، عزمها حول $\vec{b} = 72$ ث جم 0 سم عين مقدار و إتجاه و خط عمل هذه القوة
- ١٠ - تؤثر القوة $\vec{v} = \vec{s}_2 + \vec{s}_3$ في النقطة $\vec{p} = (1, 1)$ فإذا كانت $\vec{b} = (2, 4)$ ، $\vec{d} = (4, 7)$ ، $\vec{e} = (0, -2)$ ، $\vec{h} = (1, -2)$ أثبت أن خط عمل هذه القوة :
- * يوازي \vec{b} \vec{d} ، * ينصف \vec{d} \vec{e} ، * يمر بنقط \vec{h}
- ١١ - \vec{p} ، \vec{b} ، \vec{d} ، \vec{e} ، \vec{h} نقط على مستقيم واحد حيث $\vec{p} = \vec{b} = \vec{d} = \vec{e} = \vec{h} = 20$ سم أثرت القوى التي مقاديرها 5 ، 10 ، 6 ، 8 ، 7 نيوتن \vec{p} ، \vec{d} ، \vec{h} ، \vec{b} ، \vec{e} على الترتيب في إتجاه عمودي على \vec{p} \vec{h} بحيث كانت القوتين عند \vec{b} ، \vec{e} في إتجاه مضاد للقوى عند \vec{p} ، \vec{d} ، \vec{h} فإذا كان مجموع القياسات الجبرية لعزوم القوى حول $\vec{b} =$ مجموع القياسات الجبرية لعزوم القوى حول \vec{d} أوجد \vec{v} ، و أوجد مجموع القياسات الجبرية لعزوم هذه القوى حول \vec{h}
- ١٢ - \vec{p} ب \vec{d} \vec{e} \vec{h} و سداسي منتظم طول ضلعه 10 سم أثرت قوى مقاديرها 4 ، 10 ، 3 ، 5 ، 6 ، 8 نيوتن في \vec{p} ، \vec{b} ، \vec{d} ، \vec{e} ، \vec{h} ، \vec{p} و على الترتيب أوجد مجموع القياسات الجبرية لعزوم هذه القوى حول : نقطة \vec{p} ، مركز المسدس
- ١٣ - \vec{p} ب \vec{d} \vec{e} متوازي أضلاع فيه $\vec{p} = 6$ سم، $\vec{b} = 8$ سم، $\vec{v} = (\vec{b} \times \vec{d}) = 60$ أثرت القوى 7 ، 8 ، 5 ، 3 ث كجم في \vec{p} ، \vec{b} ، \vec{d} ، \vec{e} ، \vec{p} على الترتيب أوجد المجموع الجبري لعزوم هذه القوى حول كل من \vec{p} ، \vec{d}
- ١٤ - \vec{p} ب \vec{d} \vec{e} مربع طول ضلعه 10 سم أثرت القوى 8 ، 10 ، 7 ، 6 ، 3 ث كجم في \vec{p} ، \vec{b} ، \vec{d} ، \vec{e} ، \vec{p} على الترتيب فإذا أنعدم مجموع عزوم هذه القوى حول كل من منتصفى \vec{b} ، \vec{d} أوجد \vec{v} ، \vec{p}

القوى المتوازية المستوية

نعلم أن :

- لتعيين محصلة مجموعة من القوى المتلاقية فى نقطة يلزم معرفة :
- 1 - معيارها
 - 2 - الإتجاه الذى تعمل فيه إذ أن خط عملها يمر بنقطة تلاقى مجموعة القوى
- أما : لتعيين محصلة مجموعة القوى غير المتلاقية فى نقطة و التى تؤثر فى جسم متماسك يلزم معرفة :
- 1 - معيارها
 - 2 - الإتجاه الذى تعمل فيه
 - 3 - خط عملها أى معرفة نقطة من الجسم يمر بها خط عمل المحصلة

* محصلة قوتين متوازيتين :

1 - القوتان متحدتا الإتجاه :

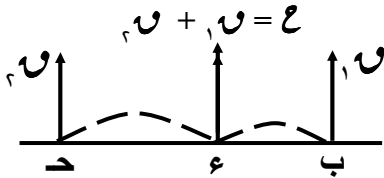
محصلة قوتين متوازيتين و متحدى الإتجاه هى قوة :

$$(1) \text{ معيارها} = \text{مجموع معيارى القوتين أى : } \mathcal{E} = \mathcal{F}_1 + \mathcal{F}_2$$

(2) إتجاهها هو نفس إتجاه القوتين

(3) خط عملها يقسم المسافة بين خطى عمل القوتين من الداخل بنسبة عكسية لمعياريهما

$$\text{أى من الشكل المقابل يكون : } \mathcal{F}_1 \times \text{ب} = \mathcal{F}_2 \times \text{د} - \text{ع}$$



نتائج :

1 - محصلة قوتين متوازيتين و متساويتين فى المعيار و متحدى الإتجاه هى قوة معيارها ضعف معيار إحدى القوتين و فى إتجاههما و خط عملها ينصف المسافة بين القوتين

2 - إذا كان : $\mathcal{F}_1 < \mathcal{F}_2$ فإن : $\text{د} < \text{ب} = \text{ع}$

2 - القوتان متضادتان فى الإتجاه :

محصلة قوتين متوازيتين و متضادتين فى الإتجاه هى قوة :

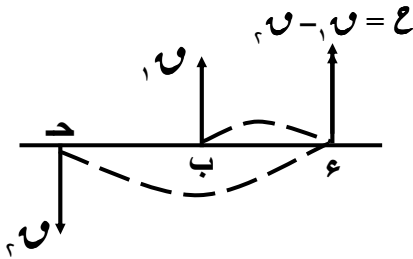
(1) معيارها = الفرق بين معيارى القوتين

$$\text{أى : } \mathcal{E} = \mathcal{F}_2 - \mathcal{F}_1 \text{ حيث : } \mathcal{F}_2 > \mathcal{F}_1$$

(2) إتجاهها هو إتجاه القوة ذات المعيار الأكبر

(3) خط عملها يقسم المسافة بين خطى عمل القوتين من الخارج ناحية القوة الأكبر بنسبة عكسية لمعياريهما

$$\text{أى من الشكل المقابل يكون : } \mathcal{F}_1 \times \text{ب} = \mathcal{F}_2 \times \text{د} - \text{ع}$$



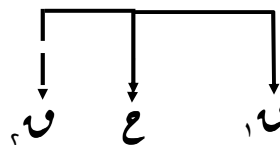
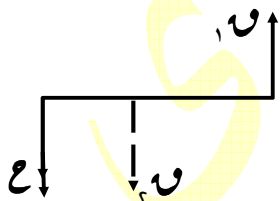
ملاحظة :

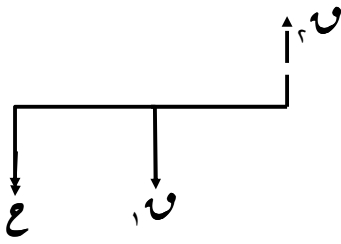
إذا علم معيار إحدى قوتين متوازيتين \mathcal{F}_1 و معيار محصلتيهما \mathcal{E} فلنعين معيار القوة الثانية \mathcal{F}_2 يراعى :1 - إذا كانت \mathcal{F}_1 ، \mathcal{E} فى إتجاهين متضادتين :

$$\text{فإن : } \mathcal{F}_2 = \mathcal{E} + \mathcal{F}_1$$

و خط عمل \mathcal{F}_2 يقع بين خطى عمل \mathcal{F}_1 ، \mathcal{E} و فى إتجاه \mathcal{E} كما بالشكل المقابل2 - إذا كانت \mathcal{F}_1 ، \mathcal{E} فى إتجاه واحد :(1) إذا كان : $\mathcal{F}_1 < \mathcal{E}$

$$\text{فإن : } \mathcal{F}_2 = \mathcal{E} - \mathcal{F}_1$$

خط عمل \mathcal{F}_2 يقع خارج خطى عمل \mathcal{F}_1 ، \mathcal{E} ناحية \mathcal{E} و فى إتجاه \mathcal{E} كما بالشكل المقابل



(٢) إذا كان : $و > ع$

فإن : $و - ع = و$

خط عمل $و$ يقع خارج خطى عمل $و$ ، $ع$ ناحية $و$

وفى إتجاه $ع$ كما بالشكل المقابل

* محصلة عدة قوى متوازية و مستوية :
الخطوات :

١ - نفرض متجه وحدة فى إتجاه إحدى القوى و يكون :

القياس الجبرى للمحصلة = مجموع القياسات الجبرية للقوى

٢ - القياس الجبرى لعزم المحصلة حول نقطة إختيارية فى مستوى القوى = مجموع القياسات الجبرية

لعزوم القوى حول نفس النقطة

* توازن أكثر من ثلاث قوى متوازية مستوية :

إذا أترن جسم متماسك تحت تأثير مجموعة من القوى المستوية فإن :

١ - مجموع القياسات الجبرية لهذه القوى = صفر

٢ - مجموع القياسات الجبرية لعزوم القوى حول أية النقطة فى مستويها = صفر

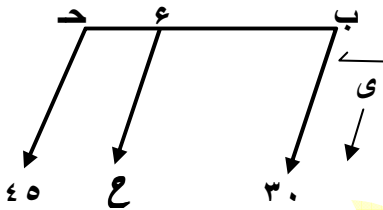
أمثلة :

١ - قوتان متوازيتان مقدارهما ٣٠ ، ٤٥ ث جم تؤثران فى النقطتين ب ، ح على الترتيب من جسم

متماسك حيث ب ح = ١٦ سم عين محصلتهما إذا كانت القوتان :

أولاً : فى إتجاه واحد
ثانياً : فى إتجاهين متضادين

الحل



أولاً : نفرض أن $و$ متجه وحدة فى إتجاه القوتين

$\therefore ع = ٣٠ + ٤٥ = ٧٥$ سم

، بفرض $ع \supseteq ب ح$ و تقع على خط عمل $ع$

$\therefore ٣٠ \times ب = ٤٥ \times (ب - ١٦)$

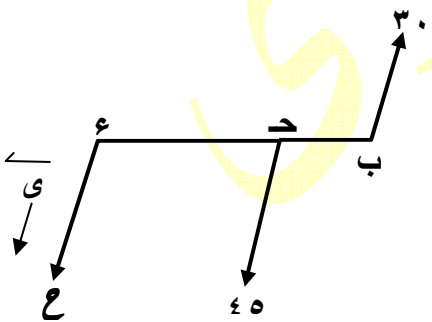
ومنها ينتج : $ب = \frac{٤٨}{٥} = ٩.٦$ سم

ثانياً : نفرض أن $و$ متجه وحدة فى إتجاه القوة الأكبر معياراً :

$\therefore ع = ٤٥ - ٣٠ = ١٥$ سم

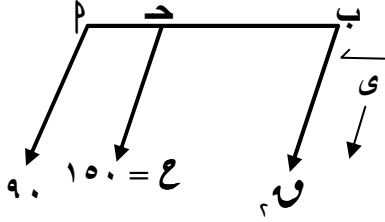
$\therefore ٤٥ \times ح = ٣٠ \times (١٦ + ح)$

ومنها ينتج : $ح = ٣٢$ سم



٢ - قوتان متوازيتان متحداً الإتجاه الأولى مقدارها ٩٠ نيوتن و تؤثر في نقطة م من جسم متماسك و الأخرى في نقطة ب من نفس الجسم فإذا كان مقدار محصلتهما ١٥٠ نيوتن و تؤثر في نقطة د \exists م ب حيث ب د = ٢٤ سم أوجد طول م ب

الحل



$$\therefore 60 < 90 \quad \therefore \text{في نفس إتجاه } 90 \text{ نيوتن}$$

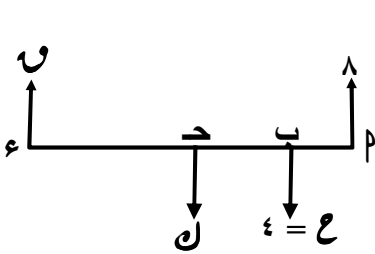
$$\therefore 60 = 90 - 150 = 90 - 150 = 60 \text{ نيوتن}$$

$$\therefore 60 \times 24 = 50 \times 36$$

$$\therefore \text{ومنها: ب د} = 30 \text{ سم} \quad \therefore \text{م ب} = 20 \text{ سم}$$

٣ - م ، ب ، د ، ع نقط تقع على مستقيم واحد حيث م ب = ١٠ سم ، ب د = ٣٠ سم ، د ع = ٤٠ سم أثرت القوتين ٨ ، ٩ نيوتن في م ، ع على الترتيب رأسياً لأعلى ، القوة ١٠ نيوتن في د رأسياً لأسفل فإذا كانت محصلة هذه القوى مقدارها ٤ نيوتن و تعمل رأسياً لأسفل أوجد ٩ ، ٨

الحل



نعتبر ٩ متجه وحدة في إتجاه ع

$$\therefore 4 = 8 - 9 \quad \therefore 12 = 9 - 10 \quad (1)$$

القياس الجبري لعزم المحصلة حول ع

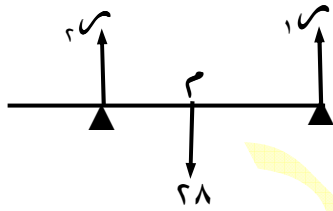
مجموع القياسات الجبرية لعزوم القوى حول ع

$$\therefore 40 \times 9 - 80 \times 8 = 70 \times 4$$

$$\therefore 9 = 23 \text{ نيوتن} \quad \text{بالتعويض في (1) ينتج: } 11 = 9 \text{ نيوتن}$$

٤ - قضيب منتظم طوله ٣ متر و وزنه ٢٨ ث جم يؤثر في منتصفه فإذا أرتكز القضيب في وضع أفقى على حاملين أحدهما عند أحد طرفيه و الآخر على بعد متر واحد من الطرف الآخر أوجد مقدار الضغط على كل من الحاملين

الحل



بفرض أن مركز القضيب هو م

$$\therefore \text{القضيب متزن} \quad \therefore 28 = 1.5 + 1.5 \quad (1)$$

$$\therefore 0 = 1.5 \times 1.5 - 1.5 \times 0.5 \quad (2)$$

من (1) ، (2) ينتج: $1.5 = 21$ ث جم ، $1.5 = 7$ ث جم وهما يساويان الضغط على الحاملين

٥ - م ب قضيب غير منتظم طوله متر واحد يرتكز في وضع أفقى على حاملين عند د ، ع حيث م د = ٢٠ سم ، ب د = ١٠ سم فإذا كان أكبر ثقل يعلق من الطرف م لحفظ التوازن هو ٥ ث كجم و أكبر ثقل يعلق من الطرف ب لحفظ التوازن هو ٤ ث كجم أوجد وزن القضيب و نقطة تأثيره

الحل

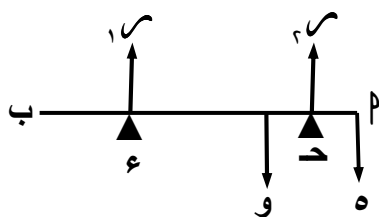
بفرض أن وزن القضيب = و ث كجم

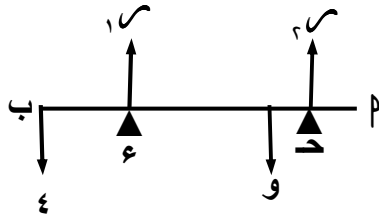
و أنه يؤثر في نقطة م حيث م د = س سم

في الحالة الأولى في وضع الإتزان:

$$0 = 1.5$$

$$\therefore 1.5 = 5 + 0 \quad (1)$$





$$\begin{aligned} & \text{، } | \text{ م } = 0 \\ \therefore & \text{ و س } = 20 \text{ م } \end{aligned} \quad (2)$$

$$\therefore \text{ و } (\text{ س } - 20) = 100 \quad (3)$$

في الحالة الثانية :

$$\text{، } | \text{ م } = 0$$

$$\therefore \text{، } | \text{ م } = 40 + 0 \quad (4)$$

$$\text{، } | \text{ م } = 0$$

$$\therefore \text{ و س } + 90 = 100 \times 4 \quad (5)$$

$$\therefore \text{ و } (\text{ س } - 90) = 360 - 400$$

$$\therefore \text{ و } (\text{ س } - 90) = 40 - 0 \quad (6)$$

بقسمة (3) على (6) ينتج : $\text{س} = 70$ ، بالتعويض في (3) ينتج : $\text{و} = 2$

\therefore وزن القضيب 2 كجم ، و نقطة تأثيره تبعد عن الطرف م مسافة 70 سم

٦ - م ب قضيب منتظم وزنه 50 نيوتن و طوله 160 سم معلق بواسطة خيطين رأسيين عند د ، ع ، حيث م د = ب = ع = 40 سم فإذا علق من الطرف ثقل وزنه 10 نيوتن أوجد الثقل الذي يجب تعليقه من الطرف م ليتزن القضيب في وضع أفقي و يكون الشد في الخيط عند د ضعف الشد في الخيط عند ع

الحل

بفرض أن الشد في الخيط عند ع = ش

\therefore الشد في الخيط عند د = 2 ش

و بفرض أن الثقل عند م = و

في وضع الإتزان :

$$3 \text{ ش} = \text{و} + 60 \quad (1)$$

$$\text{، } | \text{ م } = 0$$

$$\therefore 160 \times 10 + 80 \times 50 = 40 \times \text{ش} + 120 \times 2 \text{ ش}$$

$$3000 = 1600 + 400 \text{ ش}$$

$$\therefore \text{ش} = 28 \text{ نيوتن}$$

بالتعويض في (1) ينتج : $\text{و} = 24$ نيوتن

تمارين

١ - قوتان متوازيتان مقدارهما 30 ، 70 نيوتن تؤثران في نقطتي ب ، د حيث ب د = 200 سم أوجد محصلة القوتين و بعد نقطة تأثيرها عن ب إذا كانت القوتين :

(أولاً) في إتجاه واحد

(ثانياً) في إتجاهين متضادين

٢ - قوتان متوازيتان مقدارهما تؤثران في نقطتي ب ، د حيث ب د = 200 سم فإذا كان مقدار محصلتهما

و تؤثر في نقطة ع تبعد عن ب مسافة 40 سم أوجد مقدار كل من القوتين إذا كانتا :

(أولاً) في إتجاه واحد

(ثانياً) في إتجاهين متضادين

- ٣ - قوتان متوازيتان تؤثران في نقطتي ب ، د أصغرهما عند ب مقدارها ٢٠ ث كجم و الثانية عند د فإذا كان مقدار محصلتهما ١٠ ث كجم و يبعد خط عملها عن د مسافة ٤٠ سم أوجد البعد بين خطي عمل القوتين و مقدار القوة الكبرى
- ٤ - محصلة قوتين متوازيتين ٣٠ نيوتن و إحدى القوتين ٥٠ نيوتن و تعمل على بعد ١٢ سم من المحصلة أوجد مقدار و اتجاه القوة الثانية و البعد بين القوتين إذا كانت :
- أولاً : المحصلة في اتجاه القوة المعلومة
ثانياً : المحصلة تضاد القوة الثانية
- ٥ - قوتان متوازيتان تؤثران في نقطتي م ، ب حيث $m = 20$ سم فإذا كانت $E = 5$ نيوتن ،
 $\vec{Q} = \vec{S} + \vec{H}$ و تؤثر عند نقطة د $\Rightarrow \vec{M}$ ب أوجد كلاً من \vec{Q} ، \vec{H} و طول \vec{M} د في كل حالة
- ٦ - م ، ب ، د ، ع ، هـ تنتمي لمستقيم أفقي واحد حيث $m = 6$ ب = هـ = ٢ د = ٣ د = ٤ = ٦ سم أثرت القوى ٢ ، ٥ ، ١١ نيوتن رأسياً لأعلى عند م ، د ، ع على الترتيب ، و القوتان ٢ ، ٧ نيوتن عند ع ، هـ على الترتيب رأسياً لأسفل أوجد محصلة هذه القوى و بعد نقطة تأثيرها عن م
- ٧ - م ، ب ، د ، ع تنتمي لمستقيم أفقي واحد حيث $m = 2$ ب = ٢ د = ٤ = ٤ سم أثرت القوى المتوازية و العمودية على هذا المستقيم ٣ ، ٤ ، ٥ ، ٦ ، ٧ ث جم م ، ب ، د ، ع على الترتيب و في اتجاه واحد فإذا كانت المحصلة تؤثر عند نقطة تبعد عن م مسافة ٨ سم أوجد المحصلة و قيمة \vec{Q}
- ٨ - م ب قضيب منتظم طوله متر و وزنه ٧٥ ث جم يرتكز في وضع أفقي على حاملين البعد بينهما ٢٤ سم فإذا كان الضغط على أحد الحاملين يساوي ضعف الضغط على الحامل الآخر أوجد بعد كل حامل من الطرف القريب للقضيب " وزن القضيب المنتظم يؤثر في منتصفه ، الضغط على الحامل = رد فعل الحامل "
- ٩ - م ب قضيب طوله متر و وزنه ١٢ ث كجم يؤثر في نقطة تبعد ٣٠ سم عن م و وضع على حامل أملس عند منتصفه أوجد مقدار الثقل الذي يجب أن يعلق من الطرف ب ليتزن القضيب في وضع أفقي
- ١٠ - م د قضيب غير منتظم طوله ١٢٠ سم و وزنه ٦٠ نيوتن علق في وضع أفقي بواسطة خيطين رأسيين عند ب ، د حيث $m = 30$ سم فكان الشد في الخيط عند ب ثلاثة أمثال الشد في الخيط عند د عين نقطة تأثير وزن القضيب و مقدار الشد في كل من الخيطين
- ١١ - م ب قضيب غير منتظم طوله ١٠٠ سم و وزنه ٦٠ ث جم علق من منتصفه بخيط خفيف رأسي و عندما علق ثقل ٣٠ ث جم من أحد طرفيه إترن في وضع أفقي أوجد القوة الرأسية التي يجب أن تؤثر في الطرف الآخر بعد رفع الثقل المعلق ليظل القضيب متزن في وضع أفقي
- ١٢ - م ب قضيب منتظم طوله ١٢٠ سم و وزنه ٦٠ ث جم يرتكز أفقياً يطرفه ب على حامل و يحفظ في حالة توازن بخيط رأسي من نقطة تبعد ٤٠ سم عن م ، و يحمل ثقل ٢٠٠ ث جم من نقطة تبعد ٢٠ سم عن م أوجد الشد في الخيط و الضغط على الحامل و مقدار الثقل الذي يجب تعليقه من م ليصبح القضيب على وشك الانفصال عن الحامل
- ١٣ - م ب قضيب غير منتظم طوله ١٥٠ سم يرتكز في وضع أفقي على وتدين أملسين عند د ، ع حيث $m = 20$ سم ، ب = ٤ = ٣٠ سم لوحظ أن القضيب يكون على وشك الدوران حول د إذا علق من م ثقل قدره ٧ ث كجم و يكون على وشك الدوران حول ع إذا علق من ب ثقل قدره ٢ ث كجم أوجد وزن القضيب و نقطة تأثيره
- ١٤ - أثرت القوى \vec{Q}_1 ، \vec{Q}_2 ، \vec{Q}_3 ، \vec{Q}_4 في م (١ ، ١) ، ب (١ ، ٢) ، د (٣ ، ٣) ،
ع (٠ ، ٢) على الترتيب فإذا كانت $\vec{Q}_1 = \vec{S} + \vec{H}$ ، $\vec{Q}_2 = \vec{Q}_3 = \vec{Q}_4 = 5$ نيوتن و تضاد \vec{Q}_1 أوجد كل من \vec{Q}_2 ، \vec{Q}_3 ، \vec{Q}_4 إذا كانت هذه القوى متزنة

الإزدواجات

تعريف :

الإزدواج هو مجموعة مكونة من قوتين متساويتين في المقدار و متضادتين في الإتجاه و لا يجمعهما خط واحد

نظرية :

عزم الإزدواج هو متجه ثابت ، لا يعتمد على النقطة التي ينسب إليها عزمي قوته ، و هو يساوي عزم إحدى قوته بالنسبة لأي نقطة على خط عمل القوة الأخرى

معيار عزم الإزدواج :

* معيار عزم الإزدواج = معيار إحدى قوته × البعد العمودي بين خطي عملهما

$$\text{أي أن : } \|\vec{J}\| = \|\vec{F}\| \times L$$

(يسمى " ل " البعد العمودي بين خطي عمل قوتي الإزدواج بذراع الإزدواج)

إشارة القياس الجبري لعزم الإزدواج :

يكون القياس الجبري لعزم الإزدواج موجباً إذا كانت قوته تعملان في عكس إتجاه دوران عقارب الساعة ، و يكون سالباً إذا كانت قوته تعملان في نفس إتجاه دوران عقارب الساعة

توازن إزدواجين :

يتوازن إزدواجان مستويان معاً إذا كان مجموع عزميهما هو المتجه الصفري

أي : إذا إنعدم المجموع الجبري للقياسين الجبريين لمتجهي عزميهما

$$\text{" } J_1 + J_2 = \text{صفر} \text{ أو } J_1 = -J_2 \text{ "}$$

تكافؤ إزدواجين :

يتكافؤ إزدواجان مستويان معاً إذا كان وجد إزدواج ثالث في مستويهما يتوازن مع كل منهما

أي : إذا تساوى القياسان الجبريان لمتجهي عزميهما

$$\text{" } J_1 = J_2 \text{ "}$$

مجموع إزدواجين مستويين :

مجموع إزدواجين مستويين هو إزدواج عزمه يساوي مجموع عزمي هذين الإزدواجين

أي : القياس الجبري لعزم مجموع إزدواجين مستويين = مجموع القياسين الجبريين لعزميهما

$$\text{" } J = J_1 + J_2 \text{ "}$$

مجموع أي عدد محدود من الإزدواجات المستوية :

مجموع أي عدد محدود من الإزدواجات المستوية هو إزدواج يساوي مجموع عزوم هذه الإزدواجات

أي : القياس الجبري لعزم مجموع عدة إزدواجات مستوية = مجموع القياسات الجبرية لعزومها

$$\text{" } J = J_1 + J_2 + \dots + J_n \text{ "}$$

ملاحظة : إذا كان : $J = \text{صفر}$ فإن : مجموعة الإزدواجات تكون متوازنة

قاعدة هامة :

إذا أثرت ثلاث قوى مستوية في جسم متماسك و مثلها تمثيلاً تماماً أضلاع مثلث مأخوذة في ترتيب دوري واحد

كانت هذه المجموعة تكافئاً إزدواجاً معيار عزمه يساوي ضعف مساحة سطح المثلث × م

حيث : م ثابت يساوي عدد وحدات مقدار القوة التي تمثلها وحدة الأطوال

$$\text{" } M = \text{مقدار القوة} \div \text{طول الضلع الممثل لها} \text{ "}$$

أمثلة:

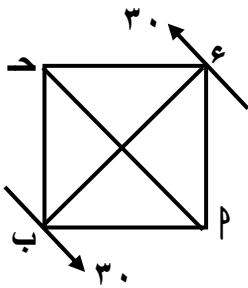
١ - تؤثر القوى $\vec{Q}_1 = \vec{S}_4 + \vec{S}_3$ ، $\vec{Q}_2 = \vec{S}_5 - \vec{S}_4$ ، $\vec{Q}_3 = \vec{S}_6 - \vec{S}_3$ ، $\vec{Q}_4 = \vec{S}_6 + \vec{S}_3$ في P (٣، ٢) ، B (٣، ٢) ، D (٦، ٤) على الترتيب أثبت أن المجموعة تكافئ ازدواجاً و أوجد معيار عزمه

الحل

$\vec{Q}_1 + \vec{Q}_2 = \vec{Q}_3 - \vec{Q}_4 = \vec{S}_6 - \vec{S}_3 = \vec{Q}_1 - \vec{Q}_2$
 $\vec{Q}_1 + \vec{Q}_2 = \vec{C}$ ، $\vec{Q}_3 - \vec{Q}_4 = \vec{C}$ ، القوى إما متزنة أو تكافئ ازدواجاً قوتاهما \vec{Q}_1 ، \vec{Q}_2
 ولكن عزم \vec{C} بالنسبة لنقطة D = مجموع عزمي \vec{Q}_1 ، \vec{Q}_2 بالنسبة لنقطة D
 \therefore عزم \vec{C} بالنسبة لنقطة D = $(36 - 4 - 4) \vec{C} + (18 - 18) \vec{C} = 28 \vec{C}$
 \therefore القوى تكافئ ازدواجاً معيار عزمه = ٤٠ وحدة عزم

٢ - P ب D مربع طول ضلعه ٦ سم أثرت في B ، E قوتان مقدار كل منهما ٣٠ نيوتن و خطا عملهما في اتجاه P ، D ، P أوجد القياس الجبري لعزم الإزدواج لهاتين القوتين

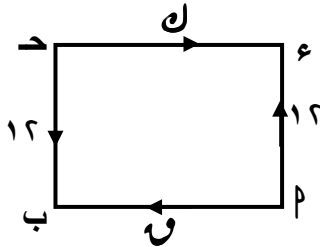
الحل



ل " ذراع الإزدواج " = $b = 6\sqrt{2}$ سم
 القياس الجبري لعزم الإزدواج = $6\sqrt{2} \times 30 = 180\sqrt{2}$ نيوتن . سم

٣ - P ب D E مستطيل فيه P ب = ١٥ سم ، B د = ١٠ سم أثرت قوى مقاديرها Q ، U ، W ، N ، L ، K ث كجم في P ، B ، D ، E ، M ، A على الترتيب فإذا توازنت مجموعة هذه القوى أوجد Q ، N

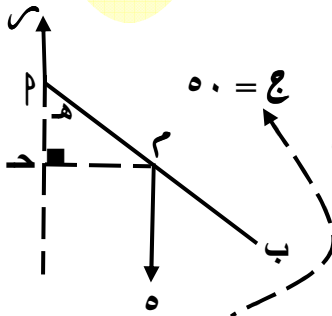
الحل



القوتان (W ، L) تكونان إزدواجاً القياس الجبري لعزمه
 $J = 15 \times 10 = 150$ ث كجم . سم
 \therefore الإزدواج لا يتزن إلا مع إزدواج آخر له نفس العزم في اتجاه مضاد
 \therefore القوتان (U ، N) تكونان إزدواجاً
 القياس الجبري لعزمه = $150 - 180$ ث كجم . سم
 $\therefore U = N = 10$ ، $U - 180 = 10 \times 10 = 100$
 $\therefore U = N = 18$ ث كجم

٤ - P ب قضيب منتظم طوله ٤ سم و وزنه ٥ ث جم يمكنه الدوران بسهولة في مستوى رأسى حول مفصل عند طرفه P فإذا أثر عليه عندما كان رأسياً إزدواج القياس الجبري لعزمه ٥٠ ث جم . سم و يعمل في نفس المستوى الرأسى المار بالقضيب أوجد في وضع الإتزان كلاً من رد فعل المفصل و قياس زاوية ميل القضيب على الرأسى

الحل



في وضع الإتزان
 \therefore الإزدواج لا يتزن إلا مع إزدواج آخر له نفس العزم في اتجاه مضاد
 و بفرض أن رد فعل المفصل = R
 \therefore القوتان (R ، W) تكونان إزدواجاً
 القياس الجبري لعزمه = $50 - 50$ ث جم . سم
 $\therefore R = 50$ ث جم رأسياً لأعلى

$$\therefore \text{م د} = ١٠$$

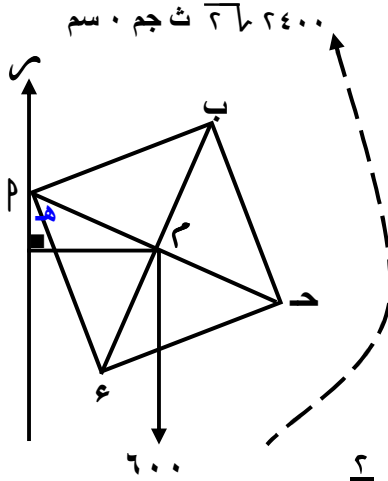
$$\therefore \text{م د} \times ٥ = ٥٠$$

$$\therefore \text{ح هـ} (\text{هـ زاوية ميل القضيب على الرأسى فى وضع التوازن}) = \frac{\text{م د}}{\text{م}} = \frac{١}{٢}$$

$$\therefore \text{هـ} = ٣٠^\circ \text{ أو } ١٥٠^\circ$$

٥ - م ب د ع صفيحة على شكل مربع طول ضلعه ١٢ سم و وزنها ٦٠٠ ث جم يؤثر فى مركزها ثببت الصفيحة فى مستوى رأسى بتعليقها فى مسمار أفقى فى ثقب صغير بالقرب من م أوجد الضغط على المسمار ، و إذا أثر على الصفيحة و فى مستويها إزدواج معيار عزمه $\sqrt{٢٤٠٠}$ ث جم ٠ سم أوجد ميل القطر م د على الرأسى فى وضع الإتزان

الحل



$$\text{م د} = ١٢ \sqrt{٢} \text{ سم} \quad \therefore \text{م د} = ٦ \sqrt{٢} \text{ سم}$$

فى الحالة الأولى :

رد فعل المسمار = وزن الصفيحة = ٦٠٠ ث جم رأسياً إلى أعلى

فى الحالة الثانية :

القياس الجبرى لعزم الإزدواج المؤثر = $\sqrt{٢٤٠٠}$ ث جم ٠ سم

: الإزدواج لا يتزن إلا مع إزدواج آخر له نفس العزم فى إتجاه مضاد

: القوتان (٦٠٠ ، م) تكونان إزدواجاً

القياس الجبرى لعزمه = $\sqrt{٢٤٠٠}$ ث جم ٠ سم

$$\therefore \sqrt{٢٤٠٠} = \sqrt{٢} \times ٦ \times ٦٠٠ \quad \therefore \text{ح هـ} = \frac{٢}{٣}$$

$$\therefore \text{هـ} (\text{هـ زاوية ميل م د على الرأسى فى وضع التوازن}) = ٤٩^\circ / ٤١^\circ$$

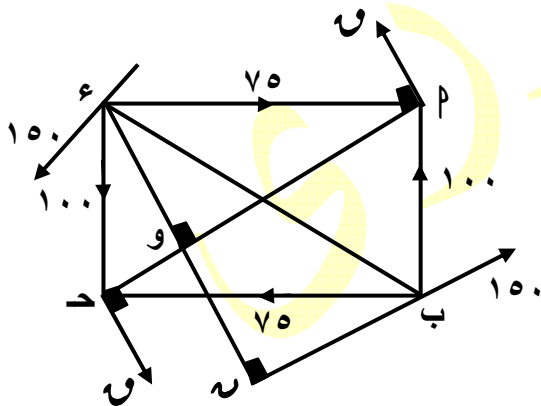
٦ - م ب د ع مستطيل فيه م ب = ٣٠ سم ، ب د = ٤٠ سم أثرت قوى مقاديرها ١٠٠ ، ٧٥ ، ١٠٠ ، ٧٥ ، ١٠٠ ث جم فى ب ، م ، ب ، د ، ع ، م على الترتيب كما أثرت فى ب ، ع قوتان مقدار كل منهما

١٥٠ ث جم فى إتجاهى د ، م ، م على الترتيب أوجد عزم الإزدواج المحصل ، ثم أوجد قوتين

تؤثران فى د ، م عموديتين على م د لى تصبح المجموعة مكافئة لإزدواج معيار عزمه ١٢٥٠٠

ث جم ٠ سم و متجه عزمه فى إتجاه عزم الإزدواج المكون من القوتين ١٠٠ ، ١٠٠ ث جم

الحل



القوتان (١٠٠ ، ١٠٠) تكونان إزدواجاً

القياس الجبرى لعزمه = $٤٠ \times ١٠٠ = ٤٠٠٠$ ث جم ٠ سم

القوتان (٧٥ ، ٧٥) تكونان إزدواجاً

القياس الجبرى لعزمه = $٣٠ \times ٧٥ = ٢٢٥٠$ ث جم ٠ سم

القوتان (١٥٠ ، ١٥٠) تكونان إزدواجاً

القياس الجبرى لعزمه = $١٥٠ \times ٤٠ = ٦٠٠٠$ ث جم ٠ سم

من هندسة الشكل :

$$\text{ب ع} = ٥٠ \text{ سم} ، \text{ع و} = \frac{٤٠ \times ٣٠}{٥} = ٢٤ \text{ سم}$$

$$\therefore \text{ع و} = ٤٨ \text{ سم}$$

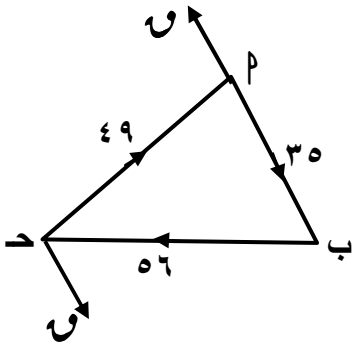
: القياس الجبرى لعزم الإزدواج المحصل = $٤٠٠٠ + ٢٢٥٠ - ٦٠٠٠ = ٨٩٥٠$ ث جم ٠ سم

بفرض أن مقدار كل من القوتين عند د ، م = و

: معيار عزم الإزدواج المكون من (و ، و) = $٣٥٥٠ = ٨٩٥٠ - ١٢٥٠٠$ ث جم ٠ سم

$$\therefore \text{م د} \times \text{و} = ٣٥٥٠ \quad \therefore \text{و} = ٥ \times ٣٥٥٠ \quad \therefore \text{و} = ٧١٠ \text{ ث جم}$$

- ٧ - P ب D مثلث فيه $P = 5$ سم ، $b = 8$ سم ، $\theta = 60^\circ$ أثرت قوى مقاديرها 35 ، 56 ، 49 ث كجم في P ، b ، D ، P على الترتيب أثبت أن هذه المجموعة تكافئ ازدواجاً و أحسب معيار عزمه ثم أوجد قوتين تؤثران عند P ، D عموديتين على P لكي تتزن مع القوى الثلاث المعلومة



الحل

من قاعدة جيب التمام :

$$(D P) = (5) + (8) - (49) = 2 \times 8 \times 5 \times \cos 60^\circ = 49$$

$$\therefore D P = 7 \text{ سم}$$

$$\therefore 7 = \frac{49}{5} = \frac{56}{8} = \frac{35}{5}$$

\therefore القوى ممثلة تمثيلاً تاماً بأضلاع المثلث P ب D و في إتجاه دورى واحد

$$\therefore \text{المجموعة تكافئ ازدواجاً معيار عزمه} = 2 \times \left(\frac{1}{5} \times 8 \times 5 \times \cos 60^\circ \right) \times 7$$

$$= 140 \sqrt{3} \text{ ث كجم . سم}$$

\therefore الإزدواج لا يتزن إلا مع إزدواج آخر له نفس العزم في إتجاه مضاد

\therefore القوتان (Q, Q) عند P ، D تكونان إزدواجاً معيار عزمه $= -140 \sqrt{3}$ ث كجم . سم

$$\therefore -140 \sqrt{3} = -Q \times 7 \quad \therefore Q = 20 \sqrt{3} \text{ ث كجم}$$

تمارين

- تؤثر القوتان $(Q, Q) = P$ سم - S_2 - S_4 ، $Q = S_2 - S_4$ ، $Q = S_2 + S_4$ في النقطتين $D(1, 2)$ ، $E(1, 3)$ على الترتيب فكونت إزدواج أوجد قيمتي P ، b ، و متجه عزم الإزدواج و البعد العمودى بين القوتين
- أثرت القوى $(Q, Q) = S_2 - S_4$ ، $Q = S_2 - S_4$ ، $Q = S_2 + S_4$ في النقط $P(1, 1)$ ، $b(2, 3)$ ، $D(0, 1)$ أثبت أن هذه القوى تكافئ إزدواج و أوجد معيار عزمه
- P ب D مستطيل فيه $P = 30$ سم ، $b = 40$ سم ، و منتصف D ، E منتصف P أثرت القوى 40 ، 60 ، 40 ، 50 ، 50 في الإتجاهات P ، D ، E ، P ، D ، و E على الترتيب أثبت أن المجموعة تكافئ إزدواج و أوجد معيار عزمه
- P ب D مستطيل فيه $P = 40$ سم ، $b = 30$ سم أثرت قوتان مقدار كل منهما 20 نيوتن في P ، D ، E كما أثرت قوتان مقدار كل منهما Q عند P ، D توازيان b ، E عین قيمة Q حتى يتكافئ الإزدواجان
- P ب D مربع طول ضلعه 20 سم أثرت القوى 3 ، 5 ، 3 ، 5 ث كجم في الإتجاهات P ، b ، D ، E على الترتيب كما أثرت القوتان $4\sqrt{2}$ ، $4\sqrt{2}$ ث كجم عند P ، D في إتجاهي b ، E أوجد عزم الإزدواج المحصل
- P ب D مستطيل فيه $P = 13$ سم ، $b = 5$ سم أثرت مجموعة القوى 1 ، 5 ، 6 ، 7 ، 13 ث جم في الإتجاهات P ، b ، D ، E ، P ، D ، E على الترتيب أثبت أن المجموعة تكافئ إزدواج و أوجد معيار عزمه

- ٧ - P ب د ع شبه منحرف قائم الزاوية في ب ، $P \parallel \overline{b}$ ، $P = 20$ سم ، $P = 15$ سم أثرت القوى
 12 ، 18 ، 15 ، 9 نيوتن في الإتجاهات \overrightarrow{P} ، \overrightarrow{b} ، \overrightarrow{d} ، \overrightarrow{e} ، \overrightarrow{P} على الترتيب أثبت أن المجموعة
تكافئ إزدواج و أوجد معيار عزمه
- ٨ - P ب د ع مستطيل فيه $P = 12$ سم ، $b = d = 5$ سم أثرت مجموعة القوى 34 ، 12 ، 34 ، 12 نيوتن
في الإتجاهات \overrightarrow{P} ، \overrightarrow{b} ، \overrightarrow{d} ، \overrightarrow{e} ، \overrightarrow{P} على الترتيب أثبت أن المجموعة تكافئ إزدواج و أوجد معيار
عزمه ثم أوجد قوتين تؤثران عند P ، d و توازيان \overline{b} بحيث تتزن مع المجموعة السابقة
- ٩ - P ب د ع مثلث متساوي الساقين فيه $P = b = d = 5$ سم ، $b = d = 8$ سم أثرت القوى 20 ، 32 ، 20
ث جم في الإتجاهات \overrightarrow{P} ، \overrightarrow{b} ، \overrightarrow{d} ، \overrightarrow{P} على الترتيب أثبت أن المجموعة تكافئ إزدواج و أوجد معيار
عزمه ثم أوجد قوتين تؤثران عند ب ، d و عموديتين على \overline{b} بحيث تتزن مع المجموعة السابقة
- ١٠ - P ب د ع هـ وسداسي منتظم أثرت القوى 3 ، 9 ، 9 ، 3 ، 9 ، 3 ث كجم في الإتجاهات \overrightarrow{P} ، \overrightarrow{b} ، \overrightarrow{d} ،
 \overrightarrow{e} ، \overrightarrow{d} ، \overrightarrow{e} ، \overrightarrow{h} ، \overrightarrow{h} ، \overrightarrow{P} و على الترتيب أوجد قيمة كل من u ، l لكي تتزن المجموعة
- ١١ - P ب د ع متوازي أضلاع فيه $P = 8$ سم ، $b = 4$ سم ، $u = (b \times 60)$ ، و منتصف \overline{P} ،
هـ منتصف \overline{b} أثرت القوى 12 ، 16 ، 9 ، l ، 16 ، 12 ث جم في الإتجاهات \overrightarrow{P} ، \overrightarrow{b} ، \overrightarrow{d} ،
 \overrightarrow{h} ، \overrightarrow{P} ، \overrightarrow{d} ، \overrightarrow{e} ، \overrightarrow{P} على الترتيب أوجد قيمة كل من u ، l لكي تتزن المجموعة
- ١٢ - P ب د ع شبه منحرف فيه $P \parallel \overline{b}$ ، $P = 12$ سم ، $b = 6$ سم ، $b = d = 9$ سم ، $P = 3$ سم
أثرت القوى 1 ، 9 ، 9 ، 3 ، 30 نيوتن في الإتجاهات \overrightarrow{P} ، \overrightarrow{e} ، \overrightarrow{d} ، \overrightarrow{b} ، \overrightarrow{P} على الترتيب
فإذا كانت المجموعة تكافئ إزدواج معيار عزمه 360 نيوتن سم في الإتجاه e د ب P أوجد مقدار
كل من u ، 9 ، 9 ، 3
- ١٣ - P ب قضيب منتظم طوله 20 سم يدور حول مسمار في ثقب صغير عند نقطة d تقع على القضيب حيث
 $P = d = 15$ سم فإتزن القضيب في وضع أفقي بتأثير قوتين مقدار كل منهما 50 نيوتن تؤثران عند
طرفيه P ، b في إتجاهين متضادين و تصنعان مع القضيب زاوية قياسها 30° أوجد وزن القضيب و
مقدار رد فعل المسمار
- ١٤ - P ب قضيب منتظم طوله 40 سم و وزنه 3 ث جم يتصل بمفصل في حائط رأسى عند طرفه P أثر على
القضيب إزدواج معيار عزمه 30 ث جم ، 0 سم فإتزن القضيب في وضع يميل على الحائط بزواوية قياسها
هـ أوجد مقدار و إتجاه رد فعل المفصل و قياس الزاوية هـ
- ١٥ - P ب د ع صفيحة رقيقة منتظمة مربعة الشكل طول ضلعها 50 سم و وزنها 300 ث كجم تثبت في ثقب
صغير بالقرب من الرأس P و علقت في مسمار أفقي في مستوى رأسى و أثر عليها إزدواج معيار عزمه
 7500 ث كجم ، 0 سم أوجد ميل P د على الرأسى في وضع التوازن
- ١٦ - P ب د ع صفيحة رقيقة منتظمة مستطيلة الشكل فيها $P = 18$ سم ، $b = d = 24$ سم ، وزنها 20
نيوتن علقت في مسمار رفيع في ثقب صغير بالقرب من الرأس e بحيث كان مستواها رأسياً و أثر عليها
إزدواج معيار عزمه 150 نيوتن سم أوجد ميل \overrightarrow{e} ب على الأفقى في وضع التوازن
- ١٧ - P ب د صفيحة رقيقة على هيئة مثلث قائم الزاوية في ب وزنها 6 نيوتن يؤثر في نقطة تلاقي متوسطات
المثلث الذي فيه $P = 12$ سم ، $b = d = 15$ سم علقت في مسمار من ثقب صغير بالقرب من الرأس P
ثم أثر عليها إزدواج في مستويها فإتزنت عندما كان \overline{b} رأسياً أوجد رد فعل المسمار و معيار عزم
الإزدواج