

# المحاضرة الأولى

## الدوال Functions

### العناصر الأساسية في المحاضرة:

- ١- مفهوم الدالة وأمثلة.
  - ٢- تعريف النطاق الطبيعي للدالة .
  - ٣- بعض الخواص العامة للدوال:
- (أ) الزوجية والفرديّة وتمائل منحنى الدالة حول أحد محوري الإحداثيات  
أو حول نقطة الأصل.
- (ب) اطراد الدوال.

### بند ١: مفاهيم أساسية: (Basic Concepts)

**تعريف (١.١.١):** الدالة هي علاقة من مجموعة ما  $X$  إلى مجموعة أخرى  $Y$  بحيث أن كل عنصر في  $X$  يرتبط بعنصر وحيد في  $Y$ .

ونكتب  $f: X \rightarrow Y$  لتعني أن  $f$  دالة من  $X$  إلى  $Y$ ، كما نكتب  $y = f(x)$  (أو  $(x, y) \in f$ ) لتعني أن العنصر  $y$  الذي ينتمي إلى المجموعة  $Y$  هو صورة العنصر  $x$  الذي ينتمي إلى المجموعة  $X$  تحت تأثير الدالة  $f$ ، ويقال إن المتغير  $y$  دالة في المتغير  $x$  وتسمى  $x$  بالمتغير المستقل،  $y$  بالمتغير التابع. وبالتالي فإن  $f$  تكون دالة من المجموعة  $X$  إلى المجموعة  $Y$  إذا حققت أنه لكل  $y, z \in Y$ ؛  $x \in X$ ، بحيث  $(x, y) \in f$ ،  $(x, z) \in f$ ، فإن  $y = z$ .

المجموعة  $X$  تسمى نطاق تعريف الدالة  $f$  أو اختصاراً نطاق أو مجال (domain) الدالة  $f$  ويرمز له بالرمز  $D_f$ ، والمجموعة  $Y$  تسمى بالنطاق المصاحب أو المجال المقابل (co-domain) للدالة  $f$ . عناصر المجموعة  $Y$  والمرتبطة بعناصر من المجموعة  $X$  تحت تأثير الدالة  $f$  تسمى مدى (range) الدالة، ويرمز لهذه المجموعة بالرمز  $f(X)$  أو  $R_f$ ، أي أن:

$$R_f = \{f(x) : x \in X\}$$

### أمثلة (١.١.٢):

١ - نفرض أن  $h$  علاقة معرفة من المجموعة  $X = \{-1,1,2,3\}$  إلى المجموعة  $Y = \{1,4,9\}$  بحيث أن

$$h(-1) = h(1) = 1, h(2) = 4, h(3) = 9$$

إذن العلاقة  $h$  تمثل دالة ونلاحظ أن  $h(x) = x^2$  لجميع قيم  $x$  التي تقع في نطاق تعريف الدالة وهي المجموعة

$$X = \{-1,1,2,3\}, \text{ ونطاقها المصاحب هو مداها، أي أن } Y = R_h = \{1, 4, 9\}.$$

٢ - نفرض أن  $f: \mathbb{R} \rightarrow [0, \infty[$  معرفة كما يلي:

$$f(x) = |x| = \begin{cases} x; & x \geq 0 \\ -x; & x < 0 \end{cases}$$

إذن  $f$  تمثل دالة وهذه الدالة تسمى دالة القيمة المطلقة أو دالة المقياس (absolute value function) للعدد  $x$ ،

ومدى هذه الدالة هي الفترة  $[0, \infty[$ .

٣ - نفرض الدالة  $h(x) = \sqrt{x}$  حيث أن  $\sqrt{x}$  معرفة فقط لجميع قيم  $x \geq 0$ . واضح أن نطاق هذه الدالة

هو  $[0, \infty[$  ونجد أن مداها هو أيضا  $[0, \infty[$ .

مما سبق يتضح أن الدالة هي عبارة عن علاقة بين متغيرين تحت شروط خاصة فعندما نكتب  $y = f(x)$  نعى أن

العنصر  $x$  الموجود في النطاق مرتبط بالعنصر  $y$  الموجود في النطاق المصاحب.

في جميع الأمثلة السابقة كانت العلاقة دائماً بين متغيرين مستقل ومتغير تابع، في هذه الحالة تسمى الدالة دالة

المتغير الواحد (one variable function).

نهتم في هذا المقرر بشكل أساسي بالدوال ذات المتغير الواحد والتي نطاقها ونطاقها المصاحب مجموعات جزئية من

مجموعة الأعداد الحقيقية  $\mathbb{R}$ ، وتسمى هذه الدوال بالدوال الحقيقية ذات المتغير الحقيقي الواحد.

إذا لم يذكر نطاق الدالة  $f$  فإننا نعتبر نطاقها هو أقصى مجموعة جزئية ممكنة من مجموعة الأعداد الحقيقية  $\mathbb{R}$

والتي عناصرها  $x$  تجعل قيم الدالة  $f(x)$  حقيقية ويسمى **النطاق الطبيعي** للدالة  $f$ .

فيما يلي سوف نعطي بعض الأمثلة المتنوعة لتحديد النطاق والمدى لبعض الدوال.

### أمثلة (١.١.٣):

١ - أوجد نطاق ومدى الدالة المعرفة بالقاعدة  $g(x) = \sqrt{1-x^2}$ ؟

**الحل:** لكي تكون الدالة  $g(x)$  دالة حقيقية يجب أن يكون كل من نطاقها ومداها مجموعات جزئية من مجموعة

الأعداد الحقيقية  $\mathbb{R}$ ، وبالتالي يجب أن يكون المقدار تحت الجذر التربيعي غير سالب، أي أن  $1-x^2 \geq 0$ ، وهذا

يكافئ أن  $x^2 \leq 1$ ، وبالتالي  $|x| \leq 1$ ، وعليه فإن  $|x| \leq 1$ . إذاً  $-1 \leq x \leq 1$  ويكون نطاق الدالة  $g$  هو

$D_g = [-1,1]$ . الآن لتحديد مدى الدالة نلاحظ أن:

$$x \in D_g \Leftrightarrow -1 \leq x \leq 1 \Leftrightarrow 0 \leq x^2 \leq 1 \Leftrightarrow 0 \geq -x^2 \geq -1$$

بإضافة العدد واحد لأطراف المتباينة نحصل على  $1 \geq 1-x^2 \geq 0$ ، وبأخذ الجذر التربيعي للأطراف

نجد أن  $1 \geq g(x) = \sqrt{1-x^2} \geq 0$  ويكون إذاً مدى الدالة هو  $R_g = [0,1]$ .

$$٢ - \text{حدد نطاق ومدى الدالة } h(x) = \frac{1}{1+x^2}$$

**الحل:** واضح أن الدالة عبارته عن خارج قسمة كثيرتي حدود ويلاحظ أنه لجميع قيم  $x$  الحقيقية فإن المقام لا ينعدم ، وبالتالي فإن الدالة معرفة لجميع قيم  $x$  الحقيقية. أي أن نطاق الدالة هو  $D_h = \mathbb{R}$  . والآن لتحديد مدى الدالة نلاحظ أن:

$$x \in D_h = \mathbb{R} \Leftrightarrow x^2 \geq 0 \Leftrightarrow 1+x^2 \geq 1 \Leftrightarrow 0 < \frac{1}{1+x^2} \leq 1$$

إذاً مدى الدالة هو الفترة  $R_h = ]0,1[$  .

٣ - حدد مدى الدالة  $f(x) = x^4 - 1$  إذا كان نطاقها هو الفترة  $]-2,2[$  .؟

**الحل:** واضح أن  $x \in D_f = ]-2,2[$  إذا وفقط إذا كان  $0 \leq |x| < 2$  وهذا يكافئ أن  $0 \leq |x|^4 = x^4 < 16$  . بطرح العدد 1 من جميع الأطراف نحصل على  $-1 \leq f(x) = x^4 - 1 < 15$  . إذاً مدى الدالة  $f$  هو الفترة  $R_f = [-1,15[$  .

## بند ٢: خواص هامة للدوال : Important Properties for functions

### (I) الدوال الزوجية والفردية: (odd and even functions)

**تعريف (١ . ٢ . ١):** منحنى الدالة  $f$  (Graph of the Function) هو مجموعة أزواج الأعداد المرتبة  $(x, f(x))$  لجميع العناصر  $x$  التي تقع في نطاق الدالة  $f$  .

**تعريف (٢ . ٢ . ١):** يقال إن المجموعة الجزئية  $A$  من مجموعة الأعداد الحقيقية  $\mathbb{R}$  مجموعة متماثلة (Symmetric) حول نقطة الأصل إذا تحقق أن:  $\forall x: x \in A \Rightarrow -x \in A$  .

**مثال (٣ . ٢ . ١):** المجموعة  $A = [-5,5]$  متماثلة حول نقطة الأصل ، بينما المجموعة  $B = [-1,2]$  ليست متماثلة حول نقطة الأصل .

**تعريف (٤ . ٢ . ١):** يقال إن الدالة  $f: A \rightarrow B$  دالة زوجية (even function) إذا كان نطاقها متماثل حول نقطة الأصل وتحقق:  $f(-x) = f(x); \forall x \in A$  . ويكون منحنى الدالة الزوجية متماثلاً حول محور الصادات.

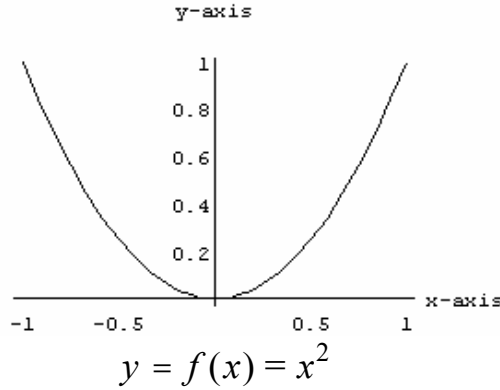
ويقال إن الدالة  $f: A \rightarrow B$  دالة فردية (odd function) إذا كان نطاقها متماثل حول نقطة الأصل وتحقق  $f(-x) = -f(x); \forall x \in A$  . وعليه فإن منحنى الدالة الفردية يكون متماثلاً حول نقطة الأصل .

### أمثله (١ . ٢ . ٥):

١ - الدالة  $f(x) = \frac{1}{(x+1)^2}$  نطاقها الطبيعي هو  $\mathbb{R} - \{-1\}$  وهو نطاق غير متماثل حول نقطة الأصل، وعليه فإن الدالة لا زوجية ولا فردية.

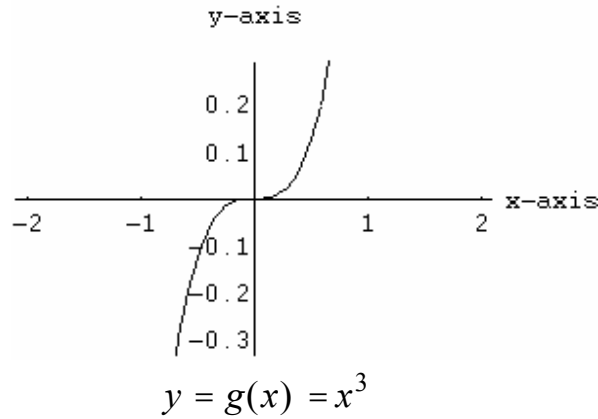
٢ - الدالة  $f: [-1,1] \rightarrow \mathbb{R}$  المعرفة بالقانون  $f(x) = x^2$  دالة زوجية وذلك لأن نطاقها  $[-1,1]$  متماثل حول نقطة الأصل وتحقق:

$$f(-x) = (-x)^2 = x^2 = f(x); \forall x \in [-1,1]$$



٣ - الدالة  $g(x) = x^3$  دالة فردية لأن نطاقها هو  $\mathbb{R}$  وهو متماثل حول نقطة الأصل وتحقق:

$$g(-x) = (-x)^3 = -x^3 = -g(x); \forall x \in \mathbb{R}$$



٤ - إبحث ما إذا كانت الدالة  $h(x) = |x|^3$  دالة زوجية أو فردية أم خلاف ذلك؟

### الحل:

نطاق هذه الدالة الطبيعي هو  $\mathbb{R}$ ، وهو متماثل حول نقطة الأصل ويلاحظ أن

$$h(-x) = |-x|^3 = |x|^3 = h(x)$$

إذن الدالة  $h$  زوجية.

٥ - من أمثله الدوال الزوجية أيضاً الدوال:

(i)  $g(x) = x^{2n}; \forall n \in \mathbb{Z}$

والمعرفة على النطاق  $\mathbb{R}$  فيما عدا عندما تكون  $n$  سالبه فتكون معرفة على النطاق  $\mathbb{R} - \{0\}$ . النطاق متمائل حول نقطة الأصل، والدالة تحقق:  $g(-x) = (-x)^{2n} = x^{2n} = g(x)$ .

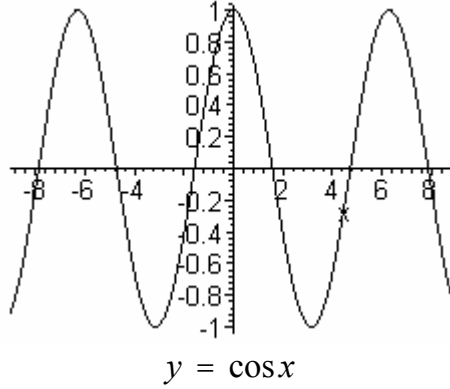
(ii)  $f(x) = \cos x$

جتاس

حيث نطاقها الطبيعي هو  $\mathbb{R}$  وهو متمائل حول نقطة الأصل، وتحقق:

$$f(-x) = \cos(-x) = \cos x = f(x)$$

أنظر الرسم أدناه



٦ - من أمثلة الدوال الفردية الدوال:

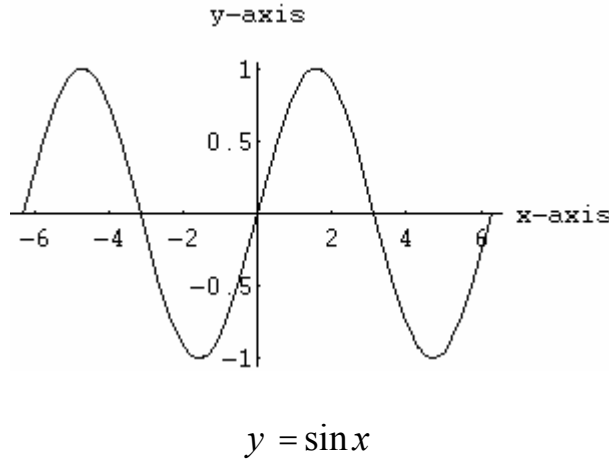
(i)  $y = f(x) = \sin x$

جاس

حيث نطاقها الطبيعي هو  $\mathbb{R}$  وهو متمائل حول نقطة الأصل، وتحقق:

$$f(-x) = \sin(-x) = -\sin x = -f(x)$$

أنظر رسم دالة الجيب أدناه



(ii)  $g(x) = x^{2n+1}; \forall n \in \mathbb{Z}, x \neq 0$

والمعرفة على النطاق  $\mathbb{R}$  فيما عدا عندما تكون  $n$  سالبه فتكون معرفة على النطاق  $\mathbb{R} - \{0\}$ . النطاق متمائل حول نقطة الأصل، والدالة تحقق:

$$g(-x) = (-x)^{2n+1} = -x^{2n+1} = -g(x)$$

## (II) إطراد الدوال : Monotonicity of Functions

**تعريف (٦.٢.١):**

يقال للدالة  $f : A \rightarrow B$  أنها تزايدية (increasing) إذا حققت أن:

$$\forall x_1, x_2 \in A: x_1 < x_2 \Rightarrow f(x_1) < f(x_2)$$

ويقال للدالة  $f : A \rightarrow B$  أنها تناقصية (decreasing) إذا حققت أن:

$$\forall x_1, x_2 \in A: x_1 < x_2 \Rightarrow f(x_1) > f(x_2)$$

ويقال للدالة  $f : A \rightarrow B$  أنها غير تزايدية (non increasing) إذا حققت أن:

$$\forall x_1, x_2 \in A: x_1 < x_2 \Rightarrow f(x_1) \geq f(x_2)$$

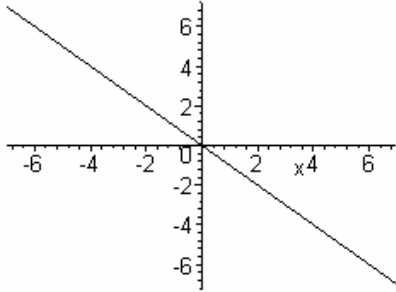
ويقال للدالة  $f : A \rightarrow B$  أنها غير تناقصية (non decreasing) إذا حققت أن:

$$\forall x_1, x_2 \in A: x_1 < x_2 \Rightarrow f(x_1) \leq f(x_2)$$

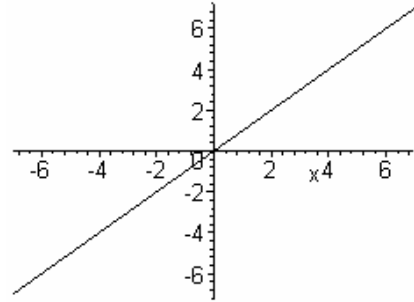
**أمثله (٧.٢.١):**

١ - الدالة  $f(x) = x$  دالة تزايدية على النطاق  $\mathbb{R}$  ، لأن

$$\forall x_1, x_2 \in A: x_1 < x_2 \Rightarrow f(x_1) < f(x_2)$$



$$f(x) = -x$$



$$f(x) = x$$

٢ - الدالة  $g(x) = -x$  دالة تناقصية على النطاق  $\mathbb{R}$  ، لأن

$$\forall x_1, x_2 \in \mathbb{R}: x_1 < x_2 \Rightarrow -x_1 > -x_2 \Rightarrow g(x_1) > g(x_2)$$

٣ - الدالة  $h(x) = x^2$  تزايدية على الفترة  $[0, \infty[$  وتناقصية على الفترة  $]-\infty, 0[$ .

وذلك لأن :

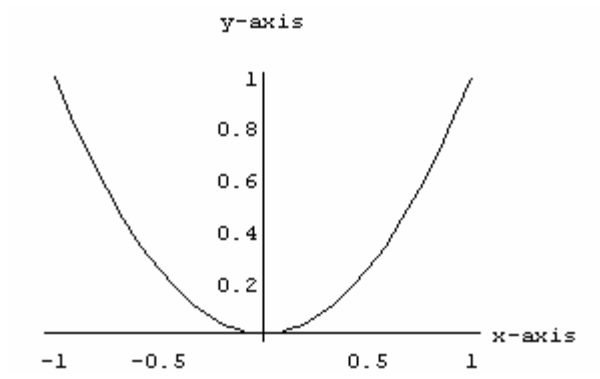
$$\forall x_1, x_2 \in [0, \infty[: x_1 < x_2 \Rightarrow x_1^2 < x_2^2 \Rightarrow h(x_1) < h(x_2)$$

فهى تزايدية في هذه الفترة .

وحيث أن :

$$\forall x_1, x_2 \in ]-\infty, 0[: x_1 < x_2 \Rightarrow x_1^2 > x_2^2 \Rightarrow h(x_1) > h(x_2)$$

فهي تناقصية في هذه الفترة. أنظر الرسم أدناه



$$y = f(x) = x^2$$

