

أفرع علم الجيولوجيا	أوجه الدراسة
❖ الجيولوجيا الطبيعية Physical Geology	يختص بدراسة <u>العوامل الخارجية والداخلية</u> وتأثيرها على الصخور
❖ الجيولوجيا التركيبية Structural Geology	تختص بدراسة <u>التراكيب والبنى المختلفة</u> التي تتواجد عليها الصخور الناتجة من تأثير كل من القوى الخارجية والداخلية التي تعمل باستمرار وبدرجات قوة متباينة على الأرض
❖ علم الطبقات Stratigraphy	يختص بدراسة <u>القوانين و الظروف المختلفة</u> المتحكمة في تكوين الطبقات الصخرية و أماكن ترسيبها بعد تفتيتها و نقلها بواسطة عوامل طبيعية مختلفة
❖ علم الجيو كيمياء Geochemistry	تختص بدراسة <u>الحانب الكيمائي للمعادن والصخور</u> وتوزيع العناصر في القشرة الأرضية وتحديد نوع ونسبة الخامات المعدنية فيها
❖ علم الجيو فيزياء Geophysics	يبحث عن أماكن تواجد <u>الثروات البترولية والخامات المعدنية</u> وكل ما هو تحت سطح الأرض بعد الكشف عنها بالأجهزة الكاشفة الحساسة

❖ أذكر أهم فوائد علم الأرض

① التنقيب عن <u>الخامات المعدنية</u>	← كالأذهب والحديد والفضة وغيرها
② البحث عن <u>المواد الأولية</u>	← المستخدمة في الصناعات الكيميائية كالصوديوم والكلور والكبريت لتصنيع أسمدة ومبيدات حشرية وأدوية
③ البحث عن <u>مواد البناء المختلفة</u>	← مثل الحجر الجيري والطفل والرخام والجبس وغيرها
④ الكشف عن <u>مصادر الطاقة المختلفة</u>	← مثل الفحم والبتروول والغاز الطبيعي والمعادن المشعة
⑤ الكشف عن <u>مصادر المياه الأرضية</u>	← نعتمد عليها في استصلاح الأراضي
⑥ تساعد في <u>تخطيط المشاريع العمرانية</u>	← كبناء مدن جديدة وسدود وأنفاق وشق طرق آمنة
⑦ تساهم في <u>انجاح العمليات العسكرية</u>	

وجه المقارنة	لب خارجي Outer Core	لب مركزي (داخلي) Inner Core
① السمك	( 2100 ) كيلومتر	( 1386 ) كيلومتر
② يتألف من	مصهور الحديد و النيكل	صخور صلبة عالية الكثافة
③ الكثافة	( 10 جم / سم 3 )	( حوالي 14 جم / سم 3 )
④ الضغط	يوازي ( 3 ) مليون ضغط جوي	أكبر من ( 3 ) مليون ضغط جوي

❖ إن التطور الصناعي والاقتصادي قائم على الجيولوجيا (علل)

لان التطور الصناعي والاقتصادي يعتمد على ما يتم استخراجه من ثروات من باطن الأرض واستغلاله

❖ كيف تمكن العلماء من التعرف على مكونات مادة الأرض

← عن طريق دراسة الزلازل والموجات المصاحبة لها

❖ كيف تمكن العلماء من تفسير أصل المجال المغناطيسي للأرض (علل)

بسبب وجود لب خارجي من مواد مصهورة تدور حول لب داخلي صخري صلب

المجال المغناطيسي | ظاهرة ناشئة بسبب حركة مصهور اللب الخارجي حول اللب الداخلي الصلب

❖ الوشاح العلوي يتكون من صخور لدنه مائعة (علل)

لأنها تتصرف تصرف السوائل تحت ظروف خاصة من الضغط و درجة الحرارة

و تسمح لانتشار دوامات تيارات الحمل فيها والتي تساعد علي حركة القارات فوقها

❖ لا تبقى الصخور الرسوبية على الحالة التي نشأت عليها (علل)

لأنها تتعرض من وقت لآخر لقوى داخلية او خارجية مما يجعلها تتخذ أشكالاً جديدة

❖ يقل الضغط الجوي إلى النصف لكل ارتفاع قدره 5.5 كم حتى يندم تقريباً في الطبقات العليا (يكون ربع قيمة عند 11 كم ) ✓

❖ الوشاح يتكون من بعض أكاسيد الحديد و الماغنسيوم و السليكون

❖ أقصى عمق في البحار المحيطات (11 كم)

❖ نسبة الأكسجين تقل كلما ارتفعنا لذا يشعر الإنسان بالاختناق عند الارتفاعات الشاهقة

منشأ الغلاف الجوي	منشأ الغلاف المائي
حدث أثناء تكون بنية كوكب الأرض إذ استطاعت بعضاً من العناصر والمركبات الكيميائية التي كانت تصاحب كتلة المواد المنصهرة أن تظل منفردة في حالتها الغازية لتكون وعلى مر السنين ذلك الغلاف الجوي	أثناء تكوين كل من اليابسة والغلاف الهوائي أن أخذت كميات هائلة من بخار الماء الموجودة أصلاً نتيجة الثورات البركانية القديمة في التكتاف الشديد محدثة أمطاراً غزيرة أخذت تنهمر على اليابسة لتملأ الفجوات والثغرات والأحواض الضخمة التي كانت قد تشكلت على سطحها أثناء تصلبها مكونة الغلاف المائي

التعريف	① التراكيب الأولية	② التراكيب الثانوية (التكتونية)
	هي الأشكال التي تتخلف في الصخور	عبارة عن التشققات والتصدعات الضخمة والألتواءات العنيفة التي تشوه صخور القشرة الأرضية
السبب	تكونت عوامل مناخية وبيئية خاصة	تكونت بفعل القوى الداخلية المنبعثة من باطن الأرض
مثال	تراكيب التطبق المتقاطع - علامات النيم التدرج الطبقي - التشققات الطينية	الطيات - الفوالق - الفواصل

🔄 كيفية تحديد نوع الفالق

يحدد الاتجاه الذي تحركت فيه مجموعة الصخور الموجودة على أحد جانبي مستوى الفالق بالنسبة لاتجاه حركة نفس المجموعة الصخرية على الجانب الأخر

📌 أساس تصنيف الطية

① المظهر الذي تنكشف عليه الطيات في الحقل

② الأوضاع التي تتخذها العناصر التركيبية للطية في الطبيعة

③ نوعية وطبيعة القوى التكتونية التي أثرت على الصخور أثناء عملية الطي الميكانيكية

☑ تظهر تراكيب الطيات والفوالق في الصخور الرسوبية بصورة أكثر وضوحاً من الصخور النارية

والمنحولة (علل\*) ❖ ← لأن الصخور الرسوبية ذات طابع طباقى التكوين

( أي تظهر على شكل طبقات تختلف في السمك والامتداد في الطبيعة )

❖ نتيجة اختلاف الصخور الرسوبية عن بعضها البعض من حيث

السمك ← اللون ← النسيج ← المادة اللاصقة ← المحتوى الحفري ← التركيب المعدنى والكيميائى

← يمكن تمييز سطح عدم التوافق الانقطاعى بين الطبقات من خلال المحتوى الحفري لها

❖ نادراً ما تتواجد الطية منفردة في الطبيعة (علل)

ولكن غالباً ما تجد عدة طيات متصلة معا فنجد أن الغالبية

العظمى منها قد تعقد شكلها بالكسور والتشققات

## الطية غير ثابتة الأشكال (علل)

- ❖ الثبات من أهم التراكيب الجيولوجية في الصخور الرسوبية (علل)
- ❖ ① تشكل المكامن (المصايد) لتجميع زيت البترول والمياه الجوفية والخامات المعدنية
- ❖ ② تحديد العلاقة الزمنية (من حيث الأقدم والأحدث) بين الصخور (أهمية جيولوجية)
- ❖ ③ يستدل منها على أحداث جيولوجية (أهمية جيولوجية)
- ❖ تتخلف المسافة بين كل فاصل وآخر

من عدة سنتيمترات إلى عشرات الأمتار وهذا يعتمد على :

- ① نوع الصخر ② سمكة ③ طريقة استجابته للقوى المؤثرة عليه

② الطيات المقعرة	① الطيات المحدبة
① الطبقات منحنية لأسفل	① الطبقات منحنية لأعلى
② الطبقات الأحدث توجد في المركز	② الطبقات الأقدم توجد في المركز

2- الفالق المعكوس	1- الفالق العادي
↔ الكسر الناتج من الضغط →	↔ الكسر الناتج عن الشد →
↔ تتحرك على مستواه صخور الحائط العلوى إلى أعلى بالنسبة لصخور الحائط السفلى	↔ تتحرك على مستواه صخور الحائط العلوى إلى أسفل بالنسبة لصخور الحائط السفلى

4- فالق ذو حركة أفقية	3- الفالق الدسر
① تتحرك صخوره المهشمة حركة أفقية في نفس المستوى دون وجود إزاحة رأسية	① مستوى الفالق أفقياً قليل الميل
	② تزحف صخور المهشمة أفقياً بمسافة على مستوى الفالق (الزحفى) - احد انواع الفالق المعكوسة

6- الفالق الخسفى	5- الفالق البارز
❖ تتأثر الصخور بفالقين عاديين يتحدان في صخور الحائط العلوى (الخدق - الجرابن)	❖ تتأثر الصخور بفالقين عاديين يتحدان في صخور الحائط السفلى (السواتر - الهورست)

❖ السلم الجيولوجي لا يوجد في مكان واحد كاملاً وإنما يوجد انقطاع (علل)

◆ حيث تختفي بعض الطبقات وذلك

بسبب عمليات التعرية أو انقطاع الترسيب لفترة زمنية وهو ما يسمى بأسطح عدم التوافق

❖ ما أهم الوسائل المتعددة لتقدير عمر الأرض هي :

① تحلل المواد المشعة

② تطور الحياة

❖ الحفرية المرشدة حفرية ذات انتشار جغرافي واسع و مدى زمني محدود

❖ من أهم الوسائل المتعددة لتقدير عمر الأرض هي :

② تطور الحياة	① تحلل المواد المشعة
التي تعتمد على الحفرية المرشدة	قدرت عمر الأرض بحوالي 4.6 بليون سنة ( 4600 مليون سنة )
حفرية ذات انتشار جغرافي واسع ومدى زمني محدود	

## ② دهر الحياة المعلومة

### ① حقب الحياة القديمة حقب اللافقاريات

الكامبري	الأردوفيشي	السيلوري	الديفوني	الكربوني	البرمي
① سيادة ثلاثية الفصوص ★ ② بداية الكائنات الهيكلية	① بداية النباتات الخضراء والفطريات ★ على اليابسة ② تنوع اللافقاريات	① بداية النباتات الوعائية ★ ② بداية الأسماك ★ أول الفقاريات	① بداية معراة البذور ★ والأشجار ② الحشرات ③ سيادة الأسماك	① ظهور أشجار حرشفية وسراخس كونت الفحم ② انتشار البرمائيات ★	① انتشرت نباتات بذرية حقيقية ② بداية الزواحف ★ وازدهرت الحياة البحرية

## ② حقب الحياة المتوسطة 167 حقب الزواحف

الترياسي 49	الجوراسي 46	الطباشيري 72
① الثدييات الأولية ★ ② انتشرت الزواحف البرية والمائية والهوائية ③ الأمونيات لافقاريات بحرية منقرضة تنتمي إلى الرأس قديمات	① انتشرت ثدييات صغيرة الحجم (الثدييات الكيسية) ★ ② سادت زواحف عملاقة ③ ظهور أول الطيور ★	① ظهرت الثدييات المشيمية ★ ② اختفت الديناصورات مع نهايته ③ انتشرت النباتات الزهرية ★ ④ ظهرت أسماك عظمية حديثة ⑤ تطورت الطيور

## ③ حقب الحياة الحديثة

### عصر الثدييات

العصر الثالث		العصر الرابع	
الباليوسين	الأوليوسين	الميو سين	البليو سين
① انقراض الديناصورات والعديد من الكائنات الأخرى ③ ظهور النيوليت ⑤ تطور كل من الثدييات والطيور	② سادت النباتات الزهرية ④ ظهرت الحيوانات الرعوية ⑥ ظهور الانسان ( بالترتيب )		

### ✳ بدراسة السجل الجيولوجي

ثبت وجود تقدم للبحر على اليابس فتكونت فترات ترسيب وتراجع للبحر فتكونت فترات انقطاع ترسيب أو تعرية  
 مما أدى إلى تكون تراكيب جيولوجية هي تراكيب عدم التوافق

### ✶ سطح عدم التوافق

هو سطح تعرية أو سطح عدم ترسيب واضح ومميز يفصل ما بين مجموعتين صخريتين يدل على غياب الترسيب لفترات زمنية تصل إلى عشرات الملايين من السنين

### ✶ الشواهد التي تدل على وجود عدم التوافق

- ① وجود طبقة من الحصى المستدير ( الكونجولميرات ) تقع تحت سطح عدم التوافق مباشرة
- ② تغير مفاجئ في تتابع المحتوى الحفري بين الطبقات
- ③ اختلاف ميل الطبقات على جانبي سطح عدم التوافق
- ④ وجود تراكيب جيولوجية أو العروق في إحدى الطبقات وعدم وجودها في الطبقات الأخرى رأفت عطية

عدم التوافق المتباين	عدم التوافق الزاوي	عدم التوافق الانقطاعي
يتكون هذا النوع بين الصخور الرسوبية وهي الأحدث والصخور النارية أو المتحولة وهي الأقدم	في هذا النوع بين مجموعتين من الصخور الرسوبية ① تكون مجموعة الطبقات الأقدم مانلة و مجموعة الطبقات الأحدث أفقية ② تكون المجموعتان مانلتين في اتجاهين مختلفين	يكون عدم التوافق بين مجموعتان من الصخور الرسوبية في وضع أفقي تقريباً * تحدث بسبب التعرية أو انقطاع الترسيب * يصعب على الجيولوجي تحديد سطح عدم التوافق ↳ يمكن تمييز الطبقات من خلال المحتوى الحفري لها

②

- ✱ (ليس من الضروري ان يكون الصخر صلباً (علل\* ②))  
تتنوع الصخور في طبيعتها فالبعض منها صلب وبعضها مثل الرمل غير متحجر وغير متماسك
- ✱ الشق الأساسي في تعريف المعدن كونه مادة متبلرة يتحكم النظام البلوري لها في شكل المعدن وخصائصه الطبيعية من لون وصلابة وانقسام ومكسر بل وفي خصائصه الكيميائية
- ✱ قسمت بلورات المعادن إلى عدة فصائل (أنظمة) بلورية مختلفة ويعتمد التقسيم على  
① أطوال المحاور البلورية وعددها ② الزوايا بين هذه المحاور ومستوى التماثل
- ✱ تعرض الكوارتز لطاقة إشعاعية عالية  
الكوارتز بلون الدخان الرمادي الذي ينتج لونه من كسر بعض الروابط بين ذرات عناصره

✱ حك الهيماتيت - البيريت بقطعة خزف

① الهيماتيت الرمادي الغامق يتحول إلى أحمر ③ البيريت الذهبي يتحول إلى أسود

✱ محور التماثل الرأسي

الخط الذي يمر بمركز البلورة وتدور حوله فيتكرر ظهور أوجه أو حروف أو زوايا البلورة مرتين أو أكثر  
خاصية عين الهر

✱ خاصية تموج بريق المعدن ذو النسيج الأليافي (الليفى) باختلاف النظر إليه

✱ اللون خاصية قليلة الأهمية في التعرف على المعدن (علل\* ②) لأن لون المعدن يتغير بسبب:

① احتواء المعدن على نسبة من الشوائب

② اختلاف طفيف في تركيبها الكيميائي دون تغيير في التركيب الذري لها

✱ كيف يمكن وصف المعادن التي لها أكثر من مستوى انقسام

✱ يمكن وصفها بعدد المستويات والزوايا بينها

✱ المخدش أدق من اللون (علل\* ②) لأن لون المخدش ثابت في المعادن التي يتغير لونها

↳ معدن لا ينقسم	الكوارتز
↳ أحسن المعادن كمثل لخاصية الانقسام	الميكال (صفاحي جيد في إتجاه واحد)
↳ معدن عنصري	الماس - الذهب - الجرافيت
↳ معدن أخضر اللون ثابت	المالاكيت
↳ أعلى المعادن بريقا	الذهب - الجالينا
↳ أكثر العناصر انتشارا في القشرة الأرضية	الأكسجين
↳ أكثر المجموعات المعدنية شيوعا	السيليكات

① مجموعة السيليكات	② الكربونات	③ أكاسيد	④ الكبريتيدات	⑤ الكبريتات	⑥ معادن عنصرية
الكوارتز - الارثوكليز الميكال البلاجيوكليز - الاوليفين الامفيبول - البيروكسين - الصوان	الكالسيت الدولوميت	الهيماتيت ماجنتيت	البيريت الجالينا السفاليريت	الجبس الأنهيدريت الباريت	الذهب - النحاس

استخدام الإنسان المعادن الان	استخدام الإنسان المعادن من قديم
<p>1- الكالسيوم يستخدم في صناعة الأسمتت</p> <p>2- الكوارتز ( الرمل ) في المصنوعات الزجاجية</p> <p>3- أكاسيد الحديد (الماجنيثيت و الهيماتيت )</p> <p>فتدخل في صناعة الحديد والصلب اللازمة في البناء وصناعة السيارات وسكك الحديد</p> <p>4- الفلسبار في صناعة الخزف</p> <p>5- تعامل مع الفلزات ممثلة في النحاس والذهب بعد أن شكلها لتناسب استخدامات الحياة المتعددة</p>	<p>1- استخدم إنسان العصر الحجري معدن الصوان في عمل سكاكين و حراب</p> <p>2- استعمل الأصباغ المعدنية الحمراء و الصفراء ممثلة في الهيماتيت - الليمونيت في الرسم علي الكهوف</p> <p>3- بعد أن عرف الإنسان النار ازدهرت صناعة الفخار من الطين</p> <p>4- الإنسان المصري القديم أول من استخدم الأحجار من فيروز وجمشت ومالاكيت وزمرد كأحجار للزينة</p>

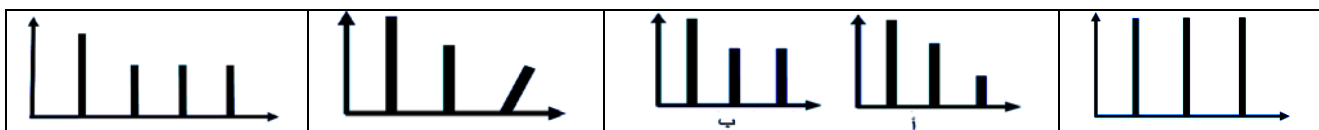
الكوارتز بلون الدخان الرمادي ⑤	الكوارتز الأبيض في لون الحليب ④	الكوارتز البنفسجي ③	الكوارتز الوردي ②	الكوارتز الأبيض النقي ①
ينتج لونه من كسر بعض الروابط بين ذرات عناصره للتعرض لطاقة إشعاعية عالية	لوجود شوائب من فقاعات غازية كثيرة	الإميشيت لوجود شوائب من أكاسيد الحديد	لوجود شوائب من المنجنيز	أبيض شفاف البللور الصخري

النظام المعيني القائم	النظام الرباعي	النظام المكعبي	أوجه المقارنة
* ثلاثة محاور متعامدة $\alpha = \beta = \gamma = 90^\circ$	* ثلاثة محاور متعامدة $\alpha = \beta = \gamma = 90^\circ$	* ثلاثة محاور متعامدة $\alpha = \beta = \gamma = 90^\circ$	أوجه الشبه
ثلاثة محاور مختلفة $C \neq b \neq a$	محوران متساويان والثالث يختلف عنهم في الطول $C \neq a_2 = a_1$	ثلاثة محاور متساوية $a_3 = a_2 = a_1$	أوجه الاختلاف

النظام أحادي الميل
ثلاثة محاور مختلفة محوران متعامدان والثالث مائل عليهما $C \neq b \neq a$ $\alpha = \gamma \neq \beta$

النظام ثلاثي الميل
ثلاثة محاور مختلفة الطول غير متعامدة $C \neq b \neq a$ $\alpha \neq \gamma \neq \beta$

النظام السداسي	النظام الثلاثي
<p>أربعة محاور</p> <p>ثلاثة محاور بلورية أفقية متساوية في الطول وتتقاطع مع بعضها</p> <p>① محور رأسي سداسي التماثل</p> <p>② يوجد مستوى تماثل أفقي</p> <p><math>C \neq a_3 = a_2 = a_1</math></p>	<p>أربعة محاور</p> <p>ثلاثة محاور بلورية أفقية متساوية في الطول وتتقاطع مع بعضها</p> <p>محور رأسي ثلاثي التماثل</p> <p>لا يوجد مستوى تماثل أفقي</p> <p><math>C \neq a_3 = a_2 = a_1</math></p>



الجالينا	البيريت	الذهب	الماس
مجموعة الكبريتيدات الوزن النوعي $\leftarrow$ 7.5 الهريق $\leftarrow$ فلزي الأنفصام $\leftarrow$ مكعبي	مجموعة الكبريتيدات الهريق $\leftarrow$ فلزي اللون $\leftarrow$ الذهبي المخدش $\leftarrow$ أسود	المعادن العنصرية المنفردة الوزن النوعي $\leftarrow$ 19.3 الهريق $\leftarrow$ فلزي	المعادن العنصرية المنفردة الهريق $\leftarrow$ لا فلزي ماسي يفرق شعاع الضوء نتيجة انكساره إلى اللونين الأحمر والبنفسجي الصلادة $\leftarrow$ 10

وجهة المقارنة	الكالسيت	الكوارتز
وجودة	مجموعة الكربونات	مجموعة السيليكات
النركيب الكيميائي	*كربونات الكالسيوم	*ثاني أكسيد السيليكون
الصلادة	3	7
الانفصام	معين الأوجه في أكثر من مستوي انفصام	لا تظهر فيه خاصية الانفصام
المكسر	المسنن و الخشن	محاري (المخدش أبيض)
البريق	زجاجي	زجاجي
الاستخدام	الاسمنت	الزجاج
يدخل في تركيب	① الحجر الجيري $\leftarrow$ رسوبي ② الرخام $\leftarrow$ متحول	① الحجر الرملي $\leftarrow$ رسوبي ② الكوارتزيت $\leftarrow$ متحول

**الشكل البلوري** ( تركيب المعدن - الهيكل البنائي للمعدن )

ترتيب ذرات العناصر داخل المعدن الواحد ترتيباً منتظماً متناسقاً

مثال الهاليت ( كلوريد الصوديوم ) الملح الصخري  
الذي يتكون من اتحاد أيونات الصوديوم الموجبة مع أيونات الكلور السالبة في نظام تكراري ينتج عنه نظام بلوري مميز لمعدن الهاليت يكون على شكل مكعب

**البلورة** جسم هندسي مصمت لها أسطح خارجية مستوية تعرف بالأوجه البلورية  
المخدش أدق من اللون (علل\*) لأن لون المخدش ثابت في المعادن التي يتغير لونها

المعدن	اللون	المخدش
① الهيماتيت	الرمادي الغامق	أحمر
② الكوارتز	متعددة الألوان	الأبيض
③ البيريت	الذهبي	أسود

\* تتوقف درجة التماثل البلوري على

① أطوال المحاور البلورية	وعددتها
② الزوايا بين هذه المحاور	ومستوى التماثل

✓ ❁ كيف يمكن تعيين صلادة معدن ؟

↳ يمكن تعيين صلادة معدن باستخدام التدرج العددي لمقياس موه (أقلام الصلادة) الذي يتراوح درجاته بين الأقل صلادة (التلك 1) وبين الأعلى صلادة (الماس 10) و إذا لم تتوافر أقلام الصلادة نستخدم الوسائل الشائعة :

1- أظافر الإنسان	ذات صلادة	2.5
2- عملة نحاسية	ذات صلادة	3.5
3- قطعة زجاج نافذة	ذات صلادة	5.5
4- لوح المخدش الخزفي	ذات صلادة	6.5 تقريباً

✓ كيف يمكن التمييز بين الأحجار الكريمة والأحجار المزيفة ؟

✓ ↳ يمكن التمييز بين الأحجار الكريمة والأحجار المزيفة عن طريق أقلام الصلادة حيث أن

- 1- الأحجار الكريمة درجة صلادتها تزيد عن 7.5 ❁ أما الأحجار المزيفة درجة صلادتها تقل عن 6  
2- الأحجار الكريمة ذات ألوان زاهية براقية

2- الانفصام

هو قابلية المعدن للتشقق في مستويات ضعيفة الترابط نسبياً

تنتج عنها سطوح ملساء عند كسر المعدن أو الضغط عليه

② الانفصام في أكثر من اتجاه		① أنفصام في اتجاه واحد	
لبعض المعادن أكثر من مستوى انفصام <u>يمكن</u> وصفها بعدد المستويات والزوايا بينها		② قاعدي	① صفانحي
		جيد	جيد
② أنفصام معيني	① أنفصام مكعبي	الجرافيت	المبكا
الكالسيت	الهاليت (ملح الطعام) والجالينا	في اتجاه مواز لقاعدة البلورة	ينكسر أو يتشقق مكوناً رقائق أو صفائح رفيعة

③ الكوارتز

معادن ليس لها انفصام

❁ لبعض المعادن أكثر من مستوى انفصام يمكن وصفها بعدد المستويات والزوايا بينها

❁ النسبة بين كتلة معدن الى كتلة نفس الحجم من الماء		❁ الوزن النوعي
حيث تتراوح المعادن بين الخفيفة و متوسطة النقل والثقيلة مثل		
الذهب	الجالينا	
19.3	7.5	

③

3- الصخور الرسوبية	2- الصخور المتحولة	1- الصخور النارية
① طباقية الشكل ② نادرة التبخر ③ غالباً مسامية ④ تحتوى على أحافير	① كتلية أو ورقية صفائحية ② متبلرة ③ غير مسامية ④ قد تحتوى على أحافير مشوهة	① كتلية الشكل ② متبلرة ③ غير مسامية ④ لا تحتوى على أحافير
أمثلته   الحجر الرملى والطيني والجيري	أمثلته   الرخام - الشيست الميكاني	أمثلته   الجرانيت - الانديزيت - البازلت



## فان نيل - البركان

### متسلسلة تفاعلات بووين

يتضح في هذا المخطط فرعين

↓ الفرع اليسار	↓ الفرع اليميني
① الأوليفين أول المعادن تبلورا ② البيروكسين ③ الأمفيبول ④ الميكا السوداء البيوتيت	يوضح التفاعل المتصل حيث يتكون ① فلسبار غنى بالكالسيوم ② فلسبار غنى بالكالسيوم والصوديوم ③ فلسبار غنى بالصوديوم

#### ↓ المرحلة الأخيرة للتبلر

وبعد أن يكون معظم الصهير قد تصلب يحدث تبلور للصهير على هيئة معادن  
 ⑤ فلسبار البوتاسيوم ثم الميكا البيضاء مسكوفيت وأخيرا معدن الكوارتز آخر معادن الصهير تبلورا

#### أسس تقسيم الصخور

الصخور الرسوبية	الصخور المتحولة	الصخور النارية
① حسب طريقة تكونها ② الصخور الرسوبية الفتاتية علي حسب الحجم السائد لمكوناتها الصلبة	① الحرارة ② الحرارة و الضغط	① مكان تبلور الصخور ② التركيب المعدني للصخور

البازلت الأنديزيت الرايوليت الأوبسيديان الحجر الخفاف	ميكروجرانيت ميكرو دايوريت دوليرايت	الجرانيت الدايوريت الجابرو
بوكاني - زجاجي	المتداخلة - بورفيرى	جوفى - خشن
* التبريد السريع * لا يعطى فرصة لتجمع الأيونات على مركز التبلور * البللورات صغيرة الحجم * كثيرة العدد	* التبريد المتوسط * يندفع الصهير لاعلى فيتداخل فى الصخور المحيطة به ثم يبرد ويتخذ أشكالا متعددة ويتكون نسيجها من بلورات كبيرة تكونت عندما كان الصهير فى باطن الأرض يبرد ببطء * بلورات أصغر حجما تبلورت فى الموقع الجديد الأقرب إلى السطح سرعة التبريد أكبر	* التبريد البطئ * أعطى فرصة لتجمع الأيونات على مركز التبلور * البللورات كبيرة الحجم * قليلة العدد

- البازلت - الجابرو الجوفى الخشن - الدوليرايت البورفيرى	الدايوريت الميكرو دايوريت الأنديزيت	الجرانيت الميكروجرانيت الرايوليت الأوبسيديان الحجر الخفاف
قاعدي - غامق	متوسطة - بين الفاتح والغامق	حامضى - فاتح وردي
(45% - 55%) - * الكالسيوم والماغنسيوم والأوليفين والبيروكسين والفلسبار البلاجيوكليز الكلسى وبعض الأمفيبول	السيلكا (55% - 66%) الكوارتز قليلة جدا الفلسبار البلاجيوكليز * الغنى بالكالسيوم والصوديوم البيروكسين والأمفيبول والميكا والكوارتز ونسبة من الفلسبار البوتاسى	* السيلكا أكثر من 66% * الكوارتز 25% * غنية بعناصر الصوديوم والبوتاسيوم والأمفيبول والميكا والكوارتز والفلسبار البوتاسى والصودى

الدولوميت	الدوليرايت
من الصخور الرسوبية الجيرية كيميائية النشأة- من مجموعة الكربونات	من الصخور النارية المتداخلة القاعدية ذو نسيج بورفيرى - غامق اللون

① الصخور الطينية	② الطفل (الطين الصفحي)
<ul style="list-style-type: none"> <li>من الصخور الرسوبية الفتاتية الأقل من 62 ميكرونا (الصلصال أقل من 4 ميكرون - الغرين من 4 : 62 ميكرونا)</li> </ul>	
يتكون من تماسك حبيبات الطين (بالجفاف)	يتكون من تضاعف حبيبات الطين ثم تماسكها (الضغط ثم الجفاف)
① لة خاصة التورق بتضاعف وتماسك مكوناته بالضغط والجفاف مثل أغلب مكونات تربة مصر الزراعية	② يتحول بالضغط المرتفع وحرارة منخفضة الى اردواز

الكوارتزيت	الرخام
<ul style="list-style-type: none"> <li>ناتج من تحول الكوارتز بالحرارة</li> <li>عند ملاصقة الكوارتز لكتلة من الصهير</li> <li>حيث يحدث زيادة في حجم</li> <li>النسيج   حبيبي</li> </ul>	<ul style="list-style-type: none"> <li>ناتج من تحول الحجر الجيري بالحرارة</li> <li>عند ملاصقة الحجر الجيري لكتلة من الصهير</li> <li>ويحدث زيادة في حجم البلورات</li> <li>النسيج   حبيبي</li> </ul>

الاردواز	النيس	الشيست الميكاني
<ul style="list-style-type: none"> <li>صخر ناتج من تحول الطفل تحت ضغط مرتفع وحرارة منخفضة</li> <li>النسيج متورق</li> <li>يستخدم في البناء</li> </ul>	<ul style="list-style-type: none"> <li>صخر ناتج من تحول الجرانيت بالحرارة والضغط</li> <li>النسيج متورق</li> <li>بلورات معادنه مرتبة في صفوف متوازية ومتقطعة</li> </ul>	<ul style="list-style-type: none"> <li>صخر ناتج من تحول الشيست بالحرارة والضغط</li> <li>النسيج متورق</li> <li>تكون على هيئة رقائق أو صفائح رقيقة متشابهة في تركيبها المعدني</li> <li>متصلة غير متقطعة</li> </ul>

التورق في الطفل (الطين الصفحي)	التورق في الشيست الميكاني
<ul style="list-style-type: none"> <li>نتيجة تضاعف ثم تماسك مكوناته (الضغط والجفاف)</li> </ul>	<ul style="list-style-type: none"> <li>نتيجة ترتيب بلورات الميكا في الصخر الطيني بعد نمو البلورات بتأثير ارتفاع الحرارة في اتجاه عمودي على اتجاه الضغط لتقليل تأثيره</li> </ul>

البريشيا	البريشيا البركانية
<ul style="list-style-type: none"> <li>ناتج عن تحجر الحبيبات ذات الحواف الحادة يستعمل في زينة الجدران</li> </ul>	<ul style="list-style-type: none"> <li>نتيجة عن تكسّر أعناق البراكين قطع صخرية كبيرة ذات زوايا حادة تنتشر حول البركان</li> </ul>

(بريشيا الفوالق) ← فئات من الصخور المهشمة ذات حواف حادة

### \*الصخور النارية المكافئة\*

هي صخور لها نفس التركيب الكيميائي والمعدني وتختلف في مكان النشأة والنسيج وحجم الحبيبات

جوفى خشن	الميكروجرانيت	الرايوليت
الجرانيت	متداخل البورفيرى	سطحي دقيق

② العروق	③ الجدد
تنتج من تداخل الماجما في الصخور المحيطة بها بحيث تكون رأسيا قاطعة لها	تنتج من تداخل الماجما في الصخور المحيطة بها بحيث تكون موازية وغير قاطعة لها

② لوبوليث	① لا كوليث
عندما تصعد المagma قليلة اللزوجة خلال فتحة ضيقة وتتجمع وتضغط على ما أسفلها من الطبقات ( القبة المقلوبة - الطبقة - طية مقعرة )	عندما تصعد المagma عالية اللزوجة خلال فتحة ضيقة وتتجمع وتضغط على ما يعلوها من الطبقات ( القبة العادية - ثنية محدبة )

التركيب الكيميائي		حامضي	متوسط	قاعدى	فوق قاعدى
مكان التبريد		فاتح وردى	بين الفاتح والغامق	غامق	اسود غامق
جوفى	خشن	الجرانيت	الدايورائيت	الجابرو	البيريديوتيت
متداخل	بورفيرى	الميكروجرانيت	الميكرو دايورائيت	الدوليرائيت	-
بركاني	دقيق التبلور زجاجى فقاعى	الرايوليت الأوبسيديان الحجر الخفاف	الأنديزيت	البازلت	الكوماتيت
GEOLOGIA					
نسبة السيلكا ①	أكثر من 66%	من 66 - 55%	45% - 55%	تقل عن 45%	
نسبة الكوارتز ②	25%	بنسبة قليلة جدا	-	-	
درجة الحرارة ③	أقل من 800 °م	متوسطة	أكثر 1100 °م	1200 °م	
غنية بعناصر ④	الكوارتز والميكا والأمفيبول والفلسبار البوتاسى والصودى	الكوارتز والميكا والأمفيبول والبيروكسين والبلاجيوكليز الكلسى والصودى ونسبة من الفلسبار البوتاسى	Fe-ca- mg والبيروكسين الأوليفين و الأمفيبول	Fe-ca- mg والأوليفين والبيروكسين	

③ المقذوفات القنابل البركانية	② المواد النارية الفتاتية	① الطفوح البركانية
<ul style="list-style-type: none"> <li>كتل صخرية بيضاوية الشكل تتألف من مواد اللافا تجمدت بالقرب من سطح الأرض</li> </ul>	<ul style="list-style-type: none"> <li>ناتجة عن تكسير أعناق البراكين</li> </ul>	<ul style="list-style-type: none"> <li>اللافا المتصلدة على سطح الأرض تنتج من ثورات البراكين</li> <li>تأخذ أشكال الحبال أو الوسائد</li> </ul>
	<ul style="list-style-type: none"> <li>الرماد البركاني ②</li> <li>قطع صخرية دقيقة جدا تنتشر حول البركان أو تحملها الرياح إلى مناطق قارية أو بحرية</li> </ul>	

## أسباب حدوث البراكين وثوراتها

← طاقة الغازات المحبوسة تعتبر القوة الرئيسية لتفجير البراكين  
 ➤ يتضح ذلك في مناطق إيلاج أو تداخل الألواح التكتونية حيث تؤدي إلى حدوث تشققات تنطلق منها هذه البراكين

### (علل) البراكين من عوامل البناء لصخور القشرة الأرضية

- ① **الصخور البركانية** : تضيف إلى سطح القشرة ملايين الأطنان سنويا من الصخور البركانية التي تكون غطانات كبيرة الامتداد تظهر على شكل هضاب او جبال بركانية
- ② **الجزر البركانية** : ظهور جزر بركانية جديدة إذا حدث الثوران تحت سطح الماء في البحر
- ③ **التربة الخصبة** : تتكون من الرماد البركاني
- ④ **البحيرات مستديرة** : تتكون نتيجة تجمع مياه الأمطار

## مصادر الطاقة في الصخور الرسوبية

### ① الفحم

### الفحم

● يتكون نتيجة تراكم البقايا النباتية ودفنها تحت رواسب سميكة بعيداً عن الأوكسجين لمدة طويلة حتى تفقد الأنسجة النباتية المواد الطيارة بفعل الضغط والحرارة المرتفعة ➤ حيث تتركز عنصر الكربون \* يوجد الفحم في مناطق المستنقعات خلف مصبات الأنهار **علل** ●  
 بسبب الظروف الملائمة من حيث

- ① الطمر (الدفن) السريع للبقايا النباتية
  - ② بم عزل عن الهواء
  - ③ الضغط والحرارة المرتفعة
- العصر الكربوني  
 ● بيئة تكوينية

① **ظروف مناخية دافئة ورطبة**  
 ② **سهول منبسطة ذات تربة غنية بالعناصر اللازمة لغذاء النبات**  
 ● تهيأت الفرصة لتحويل تلك البقايا النباتية إلى طبقات من الفحم ➤ تتفاوت جودتها باختلاف درجة تحولها **بدعه وثورا**  
 جنوب غرب سيناء- قبة المغارة

① الانزلاق القاري

الفحم	بيئة استوائية	قرب المنطقة القطبية
② الحركات أرضية		
طبقات الفحم	البحر بقايا نباتية أرضية توجد أعلى من منسوب سطح	توجد بعمق تحت مستوى سطح البحر

### ② النفط والغاز

- ① لا يعتبر من الرواسب إلا انهما يتكونان ويخترنان في الصخور الرسوبية
- ② يتكون النفط من تحلل بقايا الكائنات البحرية الدقيقة المترسبة مع الصخور الطينية

صخور الخزانات المسامية	صخور المصدر
<p>★ <b>صخور رسوبية</b>  <b>الرمال والحجر الرملي والحجر الجيري أحياناً</b>            وهي تختزن البترول والغاز الطبيعي والمياه الجوفية</p>	<p>★ <b>صخور رسوبية طينية عضوية النشأة</b>            تحتوى مواد هيدروكربونية نتيجة دفن بقايا نباتية وحيوانية على عمق 2:4 كم فتعرض لحرارة 70 : 100 °م فتنتج و يتكون البترول والغاز الطبيعي تهاجر المواد البترولية بعد تكوينها حيث مكان التكوين</p>

### ③ الطفل النفطي (الكيروجين)

- ① أحد الصخور الرسوبية الطينية  
 ② غنى بالمواد الهيدروكربونية ذات الأصل النباتي يوجد في حالة شمعية صلبة (الكيروجين)  
 ③ تتحول إلي مواد نفطية عند تسخينها إلى درجة حرارة **480** درجة مئوية  
 ☆ لا يستغل حالياً نظراً للتكلفة العالية  
 لكنه يبقى كاحتياطي لحين نفاذ كميات البترول من الأرض  
 ☆ هو مصدر مهم من مصادر الطاقة لن يبدأ استغلاله كوقود قبل أن يصبح سعر إنتاجه منافساً لسعر النفط

#### لماذا تتغير الصخور بالتحول؟ صف تلك التغيرات. أين يتم ذلك؟

الصخر الرسوبي أو الناري إذا تعرض للحرارة والضغط يتغير لصورة أخرى تعمل على إعادة توازنه وتبلوره ليتلاءم مع الظروف التي يتعرض لها

مظاهر التحول في:

- ① تتغير معادنه إلى معادن جديدة  
 ② نسيجه الصخري يصبح أكثر تبلورا  
 ③ تترتب معادنه في اتجاهات عمودية على اتجاه الضغط الواقع عليها لتقليله

أسباب وأماكن التحول (يتم ذلك)

- ① أثناء الحركات البانية للجبال  
 ② ملامسة الصخور لكتل الصهير (تحول حراري بالتلامس) في باطن الأرض أو حول قسبة البركان  
 ③ على مستويات الصدوع نتيجة تحرك كتلتين من الصخور واحتكاكهما وتولد حرارة عالية

#### ② صخور متحولة متورقة

☆ نشأت تحت تأثير الحرارة والضغط  
 حيث تترتب البلورات التي نمت تحت تأثير الحرارة في اتجاهات محددة وتكون على هيئة رقائق أو صفائح متعامدة على اتجاه الضغط

#### النسيج | متورق

- ① الاردواز الناتج من تحول الطفل تحت ضغط مرتفع وحرارة منخفضة أقل من **200** م° ويستخدم في البناء  
 ② النيس الناتج من تحول الجرانيت - بلورات معادنه مرتبة في صفوف متوازية ومتقطعة  
 ③ الشيبست الميكاني الناتج من تحول الشيبست - يتكون من صفائح رقيقة متشابهة في تركيبها المعدني متصلة غير متقطعة

#### ① صخور متحولة كتلية

☆ نشأت تحت تأثير الحرارة  
 عند ملامسة أو ملاصقة الصخر لكتلة من الصهير حيث يحدث زيادة في حجم البلورات - يقل التأثير كلما ابتعدنا عن منطقة التلامس

#### النسيج | جبلي

- ① الكوارتزيت الناتج من تحول الكوارتز  
 ② الرخام الناتج من تحول الحجر الجيري  
 ☆ الرخام يستخدم للزينة (علل) ☆  
 كثير من أنواع الرخام ذات ألوان وتعرق متغير بسبب أنواع من الشوائب مما يجعل استخدامه كواحد من أحجار الزينة أمراً مستحباً  
 ☆ الرخام أكثر صلابة من الحجر الجيري  
 - حيث تتلاحم بلورات الكالسيت وتتداخل مما يزيد من صلابة الرخام وقوة تماسكه ✓

الكوارتز	[ Δ ]	الكوارتزيت	←	كتلية	حبيبي
الحجر الجيري ( الكالسيت )	[ Δ ]	الرخام	←		
الطفل	[ ضغط مرتفع وحرارة منخفضة أقل من 200 م° ]	الاردوز	←	متورقة	متورق
الجرانيت	[ p + Δ ]	النيس	←		
الشيست	[ p + Δ ]	الشيست الميكاني	←		

④

### اختلفت الظروف البيئية على مدار الزمن الجيولوجي نتيجة

- ① اختلاف مساحة اليابسة إلى مساحة المسطح المائي
- ② اختلاف ملامح التضاريس
- ③ انتقال المناطق المناخية من مداراته نتيجة لزحزحة قطبي الأرض

↓ ↓ ↓ النتيجة

\* هذا الاختلاف في الظروف البيئية أدى إلى

- ① تأثر المجموعات الحياتية ( الحياة النباتية والحيوانية )
- وما يترتب عن ذلك هجراتها أو تكديسها أو ندرتها في مناطق أخرى
- ② تغيرات وراثية تؤدي بعد فترة إلى ظهور أنواع متطورة أكثر تكيفاً مع البيئة

### أمثلة على ملائمة البيئة للكائنات الحية خلال الزمن الجيولوجي :

④ <u>الغطاء الجليدي</u>	③ <u>رواسب الفوسفات</u>	② <u>الملح الصخري</u>	① <u>كثافة الغطاء النباتي</u>
العصر الجليدي	الطباشيري العلوي	العصر البرمي	العصر الكربوني
مليون سنة	90 مليون سنة	250 مليون سنة	300 مليون سنة
تقدم الغطاء الجليدي جنوباً في نصف الكرة الشمالي	① حرارة معتدلة	① زيادة البحر	① ظروف مناخية دافئة ورطبة
① مكوناً الفترات الجليدية المطيرة في المناطق الجنوبية من نصف الكرة الشمالي	② مياة ضحلة	② زيادة تركيز الأملاح	② سهول منبسطة ذات تربة غنية
② ارتفاع البحر	③ ذات ملوحة عادية (R)	حيث انتشرت أحواض ترسيبه واسعة وعمق قليل ثم انفصلت عن ماء المحيط مع ترسيبها في طبقات	بالعناصر اللازمة لغذاء النبات
③ ازدهر الغطاء النباتي والحيواني	تتكون من بقايا لحيوانات بحرية فقارية في شمال أفريقيا		تهيأت الفرصة لتحول تلك البقايا النباتية إلى طبقات من الفحم تتفاوت جودتها باختلاف درجة تحولها
وعند تراجع الغطاء الجليدي شمالاً مكوناً ① الفترات الجافة التي تخللت بين الفترات المطيرة			
② انخفاض البحر			
③ تدهور الغطاء النباتي والحيواني			

<p>طبقات الفحم الحجري - بدعه وثورا جنوب غرب سيناء - قبة المغارة أشجار حرشفية وسراخس كونت الفحم</p>	<p>الملح الصخري وسط أوربا</p>	<p>صخور الفوسفات 1- سفاجة والقصير بالبحر الأحمر 2- السباعية بوادي النيل 3- أبو طرطور بالوادي الجديد</p>	<p>استمرت تلك الدورات وانتهت منذ أكثر من (20) ألف سنة ربت ونمت التربة خاصة في شمال الصحراء الكبرى بأفريقيا وأنتجت مزارع وفيرة الإنتاج للجنس البشري</p>
--	-----------------------------------	---	--

<p>1 - الحركة البانية للقارات ← حركة بطيئة - مستمرة - متعاقبة ← تؤثر على أجزاء كبيرة من القارة أو قاع البحر ← تؤدي إلى ارتفاع أو هبوط الصخور بدون تشكيلها بالطى العنيف أو التصدع ← تصبح الطبقات أفقية أو في صورة طيات منبسطة ← تلعب دوراً مهماً في توزيع وعلاقة القارات والمحيطات في الأزمنة الجيولوجية مثال: نشأة الأخدود العظيم لنهر كلرادو حيث تظهر الرواسب البحرية فوق سطح البحر في على ارتفاع 1580 متر</p>	<p>2- الحركة البانية للجبال ← حركة سريعة - خاطفة - مؤقتة ← تؤثر على نطاق ضيق تمتد لمسافات طويلة ← تؤدي إلى ارتفاع أو هبوط الصخور بطى عنيف وخسف شديد بواسطة فوالق ذات ميول قليلة وإزاحة جانبية كبيرة ← تصبح الطبقات متراكمة فوق بعضها في حيز محدود ← ينتج عنها سلاسل الجبال ذات الامتداد القطري ① سلاسل جبال أطلس ④ سلاسل جبال مصر من قبة المغارة بشمال سيناء إلى الواحات البحرية بالصحراء الغربية مروراً بمناطق شبراويت وأبو رواش غرب القاهرة</p>
---	---

### علاقة نشاط الصحارة بالحركة البانية للجبال

<p>تتسبب الحركات البانية للجبال في : ① تشوه صخور القشرة ② تكوين الفوالق السحيقة نتيجة عمليات الطي والتصدع فتنشط الصحارة وتصعد من الأعماق عبر هذه الفوالق وبالتالي هناك احتمالين : ① تبرد الصحارة وتتجمد مكونة صخور نارية متداخلة دقيقة التبلور بين الطبقات أو قاطعة لها ② قد تندفع الصحارة وتصعد إلى سطح الأرض وتظهر في صورة براكين تقذف الحمم والغازات وتنسب منها اللافا مكونة المخروط البركاني أو تستقر بالمناطق المنخفضة حول المخروط س/ قد تتشوه القشرة الأرضية أو تنشأ البراكين أثناء الحركات البانية للجبال... ناقش</p>
--

### لا حظ

الحركة البانية للجبال تؤدي إلى ارتفاع أو هبوط الصخور بطى عنيف وخسف شديد بواسطة فوالق ذات ميول قليلة وإزاحة جانبية كبيرة ④

### شروط انتشار الشعاب المرجانية ( شرم الشيخ )

<p>① بيئة مدارية - تنمو على الرصيف القاري - حول خط 30 جنوب وشمال خط الاستواء ② تنمو في مياه دافئة و صافية ③ ملوحة مرتفعة ذات طاقة عالية متأثرة بإضاءة شديدة ومياه غنية بالمواد العضوية</p>
--

الشعاب المرجانية تؤيد ظاهرتين هما الحركات الارضية والانجراف القاري

كبير معلمين اراقت عطية

السيال	السيما
الوشاح الخارجي الخفيف (القشرة القارية)	الوشاح الداخلي (القشرة المحيطية)
غني بمادة السيلكا 70%	نسبة السيلكا 45% ومعها الماغنسيوم
يكون جسم القارات	يكون قاع المحيطات و اسفل القارات

بدأت أم القارات في الانفصال متباعدة منذ حقبة الحياة المتوسطة

(منذ حوالي 220 مليون سنة) إلى أن أخذت أوضاعها الحالية أثناء عصر البليوستوسين  
نسب فيجنر سبب هذا الانفصال إلى التيارات الناقلة للحرارة في السيماء حيث تعمل هذه التيارات على تجعد و  
تصدع القشرة الأرضية مما سبب اختلاف التضاريس خاصة على حواف القارات  
يعتبر المغناطيسية القديمة لإثبات حدوث الزحزحة القارية ناقش هذه العبارة

### 1 المغناطيسية القديمة

هي مغناطيسية الصخور التي تحتوى على معادن قابلة للمغطة مثل أكاسيد الحديد والتي تتأثر بالمجال المغناطيسى للأرض أثناء تكون تلك الصخور

الأدلة على حدوث انجراف قاري من خلال المغناطيسية القديمة

1 تشابه بعض المعادن المغناطيسية في الصخور في اتجاه وشدة المجال المغناطيسى عند تكوينها

وتعطى شواهد على سلوك المجال المغناطيسى للأرض في العصور المختلفة

2 زاوية انحراف الإبرة المغناطيسية وجد أن مقدار انحرافها عند القطب 90° وعند خط الاستواء صفر ومن ثم يمكن

تحديد الموقع الأصلي للصخر أثناء تكونه إذا كان في موقع مختلف عن موضعه الأصلي

- فوجود صخر ذو زاوية انحراف مغناطيس 20° قرب القطب الشمالى يدل على زحزحة كتلة الصخر عن موقعها الأصلي مما يؤكد نظرية الانجراف القارى

3 تماثل الأشربة المغناطيسية وتغيراتها على جانبي الحديد

يعتبر المناخ القديم من الشواهد لإثبات حدوث الزحزحة القارية ناقش هذه العبارة

تنظم الأحزمة المناخية الآن متوازية وتمتد من الشرق إلى الغرب ويتدرج المناخ من

1 الاستوائى	2 المدارى ( الصحراوي )	3 المعتدل (منطقة المراعى أو الأعشاب)
4 منطقة الغابات متساقطة الأوراق	5 الغابات الصنوبرية	6 المتجمد القطبي

بدراسة السجل الجيولوجي نستدل على الزحف القارى من خلال

الدليل	بيئة التكوين	توجد الان فى مناطق
1 المتبخرات القديمة الرواسب الملحية	مناطق مناخية جافة قاحلة	شديدة البرودة شمال أوروبا وكندا
2 أحافير الشعاب المرجانية	بيئة مدارية	قرب المنطقة القطبية
3 الفحم	بيئة استوائية	قرب المنطقة القطبية

المتبخرات القديمة هي طبقات الملح الصخري والتي تكونت نتيجة تبخر المحاليل الحاوية لها

تعتبر ثلجات حقبة الحياة القديمة من الشواهد لإثبات حدوث الزحزحة القارية ناقش هذه العبارة

1 مجموعة من الصخور	( تؤرخ من نهاية حقبة الحياة القديمة إلى العصر الطباشيري ) تظهر في نصف الكرة الجنوبي متشابهة فيما بينها بشكل مثير رغم انتشارها في قارات مختلفة ( قارة جوندوانا )
2 توزيع رواسب الثلجات	على كتل اليابسة بجنوب هذه القارات تؤيد وجود حركة انجراف قاري
3 رسوبيات الغطاء الجليدى	متشابهة تماما بكل من أمريكا الجنوبية وإفريقيا يؤكد ان القارتين كانتا كتلة واحدة في الماضى ثم انفصلت وابتعدت عن بعضها

تعتبر الأحافير الحيوانية والنباتية من الشواهد لإثبات حدوث الزحزحة القارية ناقش هذه العبارة



① وجود أحافير بعض الزواحف من جنس واحد	( لا تستطيع خوض المحيطات ) منحصرة في صخور القارات الجنوبية فقط
② وجود أحافير أوراق وبذور نباتات أولية برية	في القارات الجنوبية والهند يدل على الاتصال بين هذه القارات

يعتبر البناء الجيولوجي للقارات من الشواهد لإثبات حدوث الزحزحة القارية ناقش هذه العبارة  
التركيبة الجيولوجية تكمل بعضها البعض مما يرجح أن تلك الجبال كانت متصلة وتباعدت عن بعضها البعض

① تكامل الشاطئ الغربي لأفريقيا مع الشاطئ الشرقي لأمريكا الجنوبية
② التشابه والربط بين جبال جنوب أفريقيا ونظيراتها في الأرجنتين إلى الغرب و جبال غرب استراليا إلى الشرق

أسباب حركة الألواح التكتونية

← تحدث الحركة بسبب تباين توزيع الحرارة في الوشاح الموجودة في الطبقة العليا من الوشاح  
← تيارات الحمل الهورانية نوعان

- ① تيارات هابطة تسبب تكوين  
② تيارات صاعدة تسبب تكوين  
أغوار عميقة  
حيد وسط المحيط

③ الحركة الانزلاقية الحركة القطاعية	② الحركة التقاربية الحركة الهدامة		① الحركة التباعدية الحركة البنائية		
تنشأ من حركة حافة لوح على حافة لوح آخر مكونة	تنشأ عند تحرك لوحين باتجاه بعضهما فيلتقيان ويتصادمان معا		تنشأ من قوى شد حيث يتحرك لوح مبتعداً عن لوح آخر		
① صدوع انتقالية عمودية مسببة تكسيرا أو تشوها صدع سان أندرياس صدع خليج العقبة ② براكين وزلازل	③ الحركة بين لوحين أحدهما قاري والآخر محيطي	② الحركة بين لوحين محيطيين	① الحركة بين لوحين قاريين	② بين عدة قارات	① بين قارتين
	يغوص اللوح المحيطي أسفل اللوح القاري في طبقة الوشاح وينصهر كلياً وتكون سلاسل جبال	ينزلق أحدهما تحت الآخر فيتكون	تكوين سلاسل جبلية ضخمة	تكوين المحيطين	ابتعاد اللوح العربي عن اللوح الأفريقي
	جبال الأنديز في أمريكا الجنوبية يظهر أيضاً في البحر المتوسط	① أغوار بحرية عميقة ② قوس جزر بركانية	جبال الهمالايا	الهندي والأطلسي	البحر الاحمر

* تكوين الأغوار العميقة	* تكوين حيد وسط المحيط
① نتيجة الحركة التقاربية	① نتيجة الحركة التباعدية
② نتيجة حدوث تيارات الحمل الهورانية الهابطة	② نتيجة حدوث تيارات الحمل الهورانية الصاعدة

نشأة المحيط الأطلسي والمحيط الهندي	نشأة البحر الأحمر
<p>❖ حركة تباعدية بين عدة قارات</p> <p>❶ نشأة المحيط الأطلسي والمحيط الهندي من تفتق قارة جوندوانا (القارة الجنوبية العظمى)</p>	<p>❖ حركة تباعدية بين قارتين</p> <p>❶ نشأ البحر الأحمر من تفتق القارة الإفريقية (بواسطة تيارات الحمل)</p>
<p>❷ نشأة حوض محيطي من الأغوار تدريجياً وببطء شديد</p> <p>❸ تستمر الإزاحة بمعدل بطيء (2.5 سم   سنة)</p>	

## ❖ أسباب حدوث الزلازل ( الانكسار الفجائي للكتل الصخرية )

نتيجة لتعرضها لضغط شديد أو عملية شد لا تقوى الصخور على تحملها فتتكسر

- تتحرر طاقة الوضع الهائلة التي كانت بها وتتحول إلى طاقة حركة
- تنتقل هذه الطاقة من مركز الزلزال على شكل موجات زلزالية تنتشر إلى مسافات شاسعة
- تعمل على اهتزاز الصخور التي تمر بها حتى تصل إلى سطح الأرض فتعمل على اهتزاز كل ما عليها من منشآت مما يؤدي إلى تصدعها أو دمارها

شدة الاضطراب الميكانيكي تتناقص بسرعة خارج هذه المنطقة

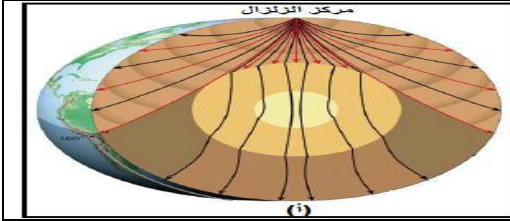
\* جهاز تسجيل الزلازل يسمى السيزموجراف

③ زلازل بلوتونية	② زلازل تكتونية	① زلازل بركانية
يرتبط حدوثها بحركة الصخور	يرتبط حدوثها بحركة الألواح التكتونية	يرتبط حدوثها بالنشاط البركاني
هزات يوجد مركزها على عمق سحيق تحت سطح الأرض قد يصل إلى أكثر من 500 كم	هزات في المناطق التي تتعرض فيها الصخور للتصدع نتيجة لحركة الألواح التكتونية النوع الشائع كثير الحدوث	هزات محلية لا يمتد تأثيرها في مساحات كبيرة

ثانياً الموجات السطحية (الموجات الطويلة)	أولاً : الموجات الداخلية	
	② الموجات الثانوية	① الموجات الأولية
<p>← موجات معقدة ذات سعة كبيرة</p> <p>← تنتقل قرب سطح الأرض</p> <p>← تتولد من الطاقة الناتجة عن الموجات الأولية والثانوية ← آخر الموجات وصولاً لأجهزة الرصد ← يعزى إليها الدمار الشامل</p>	<p>← موجات مستعرضة اهتزازية</p> <p>← أبطأ في السرعة من الموجات الأولية</p> <p>← تنتقل خلال الأجسام الصلبة فقط</p>	<p>← موجات طولية ابتدائية</p> <p>← سريعة جداً أول من تصل إلى آلات الرصد الزلزالية</p> <p>← تنتشر خلال الأجسام الصلبة والسائلة والغازية</p>

قدر الزلازل	شدة الزلازل
الكمية الكلية للطاقة المنطلقة من زلزال ما	قياس نوعي لنوعية الدمار الناتج عن الزلزال وطبيعة رد فعل الناس به

مقياس ريختر	مقياس ميركالي
<p>① يقيس مقياس ريختر قدر الزلازل</p> <p>② يبدأ هذا المقياس برقم (1)</p> <p>☞ بلغ قدر أقوى زلزال حتى الآن حوالي 8.9</p> <p>③ مقياس ريختر سنة 1935</p>	<p>① أكثر مقاييس الشدة استخداماً في الولايات المتحدة</p> <p>② مقسم إلي اثني عشر قسم تتراوح فيه بين الزلازل التي يشعر بها الإنسان والزلازل التي تسبب دماراً شامل</p> <p>③ مقياس ميركالي سنة 1931</p>

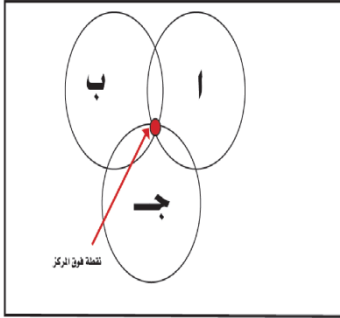


وقع زلزال وكان مركزه كما هو موضح بالشكل الذي امامك

1- ما أهم خصائص الموجات التي يمكن تسجيلها عند محطة الرصد ( أ )

2 - ما الوحدات المستخدمة لقياس كل من شدة الزلزال قدر الزلزال

### تحديد نقطة فوق المركز



① يتم ذلك بالتعاون بين ثلاث محطات لرصد الزلازل ( أ - ب - ج )

② تقوم كل محطة بتحديد أزمنا الوصول النسبية لأنواع الموجات الثلاث

③ تحدد المسافة بين محطة الرصد والمركز السطحي للزلزال بمعرفة سرعة الموجات وزمن وصولها

☞ ترسم ثلاث دوائر على خريطة

على أن تكون كل محطة رصد من هذه المحطات الثلاث هي مركز الدائرة

☞ تكون النقطة التي تتقاطع عندها الدوائر الثلاث هي نقطة فوق المركز ( فوق بؤرة الزلزال )

### ⑤

التضاريس | أشكال وتراكيب جيولوجية ناتجة من أثر العوامل الخارجية و الداخلية على شكل القشرة الأرضية

تخفيف الحمل نتيجة للتعرية ( ظاهرة التقشير ) ظهور صخور نارية جوفية فجأة على سطح الأرض

☞ تخفيف الحمل نتيجة للتعرية ☞ يقل الضغط على الصخور عندما ☞

① يزال سمك كبير من الصخور كان ثقل طبقاته يضغط على ما تحته من صخور

② ظهور صخور نارية جوفية على السطح كانت تحت ضغط كبير في باطن الأرض

☞ يؤدي ذلك إلى تمدد الصخور لعدم وجود مقاومة نتيجة تخفيف الحمل وانفلاتها حيث تنفصل عن الصخر

الأصلي

☞ تظهر هذه الخاصية في صخور الجرانيت ذات القشور الكروية الشكل

( يساعد تحلل الفلسبار على إتمام عملية الانفصال )

علل تسير التجوية الكيميائية جنباً إلى جنب مع التجوية الميكانيكية

لأن التجوية الكيميائية تعمل على تحول المعادن الي مكونات معدنية جديدة أضعف وأقل تماسكاً من المعادن

الأصلية مما يساعد بل ويسرع بظهور تأثير عمليات التجوية الميكانيكية التي تسير جنباً إلى جنب مع

التجوية الكيميائية بحيث تتفكك الطبقة السطحية للصخر

☞ ما ناتج عملية التجوية الكيميائية للصخور النارية والمتحولة

☞ تتكون غالبيتها من معادن السيليكات تتمثل في فلسبارات وميكا و معادن تحوي الحديد والماغنيسيوم

يتكون أساساً من مجموعة من معادن الطين توجد في التربة الزراعية مخلوطة بنواتج أخرى لعمليات التجوية

يُلب الماء دوراً رئيسياً في عمليات التجوية الميكانيكية والكيميائية على السواء

- ① الميكانيكية: يعتبر تجمد الماء في الشقوق والفواصل الصخرية في المناطق الباردة أو الجبلية المرتفعة من أهم عوامل التجوية الميكانيكية من المعروف عملياً أن حجم الماء يزداد بمقدار العشر تقريباً عند تجمده ومن ثم :- فان تكرار تجمد الماء ليلاً وذوبانه نهاراً أو في مواسم متبادلة يؤدي إلى اتساع الشقوق والفواصل القريبة من سطح الأرض والتي تملئ بالماء وبالتكرار فان الشقوق تفصل جزء من الصخر عن الصخر الأم ويصبح سائباً حتى يسقط ذلك الفتات عند قدم الجبل مكوناً ما يعرف بالمنحدر الركامي
- ② كيميائياً: لأن الماء يؤدي إلى تحلل الصخور عن طريق تغير مكوناتها المعدنية إلى معادن جديدة وتحلل المعادن نتيجة إضافة عنصر أو أكثر إلى تركيبها أو بفقدها بعض العناصر مما يغير تركيبها الكيميائي مثال معدن انهيدريت يتحول إلى الجبس بإضافة الماء ( تميؤ - تمييه )

التجوية الكيميائية للجرانيت	التجوية الميكانيكية للجرانيت
الميكال (السوداء) تتحول إلى معادن طينية الفلسبار البوتاسي يتحول إلى الكولينايت ( سليكات ألومنيوم مائية ) الكوارتز فهو ثابت لا يتحلل	① إذا تفتت في حجم الحصى فإن كل قطعة تحتوي 3 معادن فلسبار و ميكال و كوارتز ② إذا تفتت في حجم الرمل فإن كل قطعة تحتوي معدن واحد فقط ( فلسبار أو ميكال أو كوارتز )

ما تأثير المياه المذاب فيها ثاني أكسيد الكربون على صخر الجرانيت و الحجر الجيري ؟

الحجر الجيري	الجرانيت
يتكون أساساً من معدن الكالسيت يذوب في حمض الكربونيك الناتج من ذوبان CO <sub>2</sub> في الماء ويذوب مكوناً المغارات أو الكهوف ثم يحدث ترسيب للكالسيت وتتدلى من سقف المغارة (الهوابط - استالاكتيت) أو تنمو من أرضيه المغارة (الصواعد - استالاجميت)	يتكون الجرانيت من معادن أساسية هي الفلسبار والميكال و الكوارتز يذوب CO <sub>2</sub> في الماء مكوناً حمض الكربونيك ① معدن الكوارتز لا يتأثر بحمض الكربونيك ② معدن الفلوسبار البوتاسي يتأثر بحمض الكربونيك ( يتحول إلى كاولين ) ③ الميكال خاصة الميكال السوداء تتحلل أيضاً إلى معادن من فصيلة الطين

كلما زاد الاختلاف بين ظروف تكوين المعدن وبين ظروف البيئة السطحية يكون احتمال التغير بالنحوية الكيميائية أكثر

المعادن التي تبلورت من الصهير في درجات الحرارة المرتفعة في باطن الأرض تكون أكثر تعرضاً وقابلية التجوية من تلك التي تكونت في درجات حرارة منخفضة وتحت ضغط أقل

مثال: الجرانيت يتكون من ( الكوارتز - الفلوسبار - الميكال )

الميكال	الفلوسبار	الكوارتز
خاصة الميكال السوداء تتحلل أيضاً إلى معادن من فصيلة الطين	ضعيف جدا تحت تأثير حمض الكربونيك الناتج من ذوبان CO <sub>2</sub> في مياه الأمطار فيتحلل بسهولة ويتحول إلى الكاولينيت ( سيليكات ألومنيوم مائية ) ويظهر ذلك في انطفاء بريقه وتحوله إلى الحالة الترابية	آخر المعادن تبلوراً في درجات حرارة منخفضة كذلك تركيبه الكيميائي وصفاته الفيزيائية تجعله ثابتاً بحيث لا يتأثر بالتجوية الكيميائية

ما نتائج التجوية الميكانيكية لصخر النيس / الرايولايت / البيومس (الحجر الخفاف)

نفس إجابة الجرانيت

ما نتائج التجوية الميكانيكية لصخر البازلت أو الجابرو ؟

إذا تفتت في حجم الحصى فإن كل قطعة تحتوي 3 معادن  
أما إذا تفتت في حجم الكوارتز فإن كل قطعة تحتوي على معدن واحد فقط

( فلوسبار و أوليفين و بيروكسين )

( فلوسبار أو أوليفين أو بيروكسين )

1- الكثبان المستطيلة ( الغرد )	2- الكثبان الهلالية	3- الكثبان الساحلية
<ul style="list-style-type: none"> <li>← اتجاهها هو اتجاه الريح</li> <li>← غرد أبوالمحاريق يمتد 300 كم</li> <li>من الشمال الغربي إلى الجنوب الشرقي بين الواحات البحرية وحتى الواحات الداخلة في الصحراء الغربية )</li> </ul>	<ul style="list-style-type: none"> <li>← هلالية الشكل</li> <li>← انحدارها بسيط في اتجاه الريح وشديد في الجهة المضادة</li> <li>← أكثر أنواع الكثبان انتشاراً</li> </ul>	<ul style="list-style-type: none"> <li>← حبيبات جيرية متماسكة</li> <li>← مثل الممتدة على الساحل بين الإسكندرية ومرسى مطروح</li> </ul>

التصحّر زحف الرمال على المناطق المستصلحة والمجتمعات العمرانية ويسبب أضرار كبيرة عليها  
( تدهور خصوبة الأراضي المنتجة ونقص قدرة الإنتاج البيولوجي للأرض )

العمل الهدمي للسيول	العمل البنائي للسيول
<ul style="list-style-type: none"> <li>← تكتسح السيول كل ما يقابلها من طين ورمال وحصى وجماميد</li> <li>← تعمل علي نحت وتعميق الخور ( يكون ضيقاً ولكن مع مرور الزمن يزداد عمقاً )</li> <li>*يظهر أثرها في الصحراء لندرته ما بها من نبات</li> </ul>	<ul style="list-style-type: none"> <li>عند خروج السيول من الأخوار تفقد المياه سرعتها وقوتها وقدرتها على حمل ما تحمله من شحنة فترسبها على هيئة :</li> </ul>
① مخروط السيل ( مروحة )	② الدلتا الجافة Δ
<ul style="list-style-type: none"> <li>← الترسيب على شكل نصف دائرة مركزها مخرج الخور</li> </ul>	<ul style="list-style-type: none"> <li>← الترسيب على شكل مثلث</li> <li>← يترسب الجلاميد و الحصى الكبير عند مخرج الخور ويتناقص حجمه تدريجياً</li> <li>← الطين والرمال عند قاعدة المثلث</li> </ul>

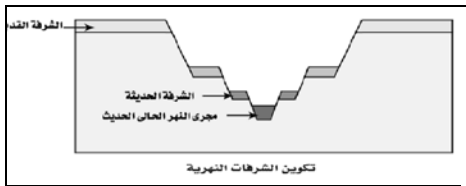
<ul style="list-style-type: none"> <li>→ البحيرات القوسية</li> <li>① يزداد تقوس الالتواءات النهرية حيث يزداد النحت في الجانب الخارجي يزداد الترسيب في الجانب الداخلي</li> <li>② يقطع النهر مساراً جديداً تاركاً قوس على صورة بحيرة قوسية هلالية</li> </ul>	<p>مراد تكون البحيرات القوسية</p>
--	-----------------------------------

✓ ← العوامل التي تؤدي إلى ترسيب النهر حمولته هي

① سرعة التيار	عندما تقل سرعة النهر يفقد النهر القدرة على نقل حمولته فترسب الحمولة بسبب
② حجم الماء	<ul style="list-style-type: none"> <li>① وجود عوائق تعترض مجرى الماء</li> <li>② قلة انحدار المجرى كما هو الحال عند مصبات الأنهار</li> </ul>
③ ان يصب النهر في مياه ساكنة	قلة حجم الماء في النهر نتيجة للبخر الشديد أو تسرب الماء في الصخور المسامية أو الشقوق داخل الأرض

### الشرفات النهرية ( الأسرة النهرية )

← تتكون الشرفات النهرية مع تغير منسوب المياه عند الفيضان وعندما يجدد النهر شبابه  
 ← يترسب الحصى و المواد الغليظة في أعلى الوادي و في وسط مجراه  
 ← تترسب الرمال و الرواسب الدقيقة عند المصب و على جانبي الوادي  
 ( الشرفات العليا أقدم من الشرفات السفلي )



### ✓ → شروط حدوثها

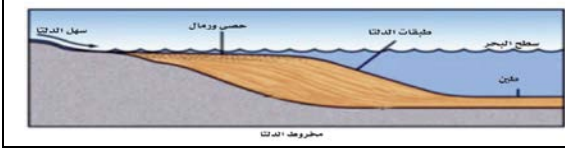
- ① مع تغير منسوب المياه عند الفيضان
- ② عندما يجدد النهر شبابه

## ظاهرة أسر الأنهار

تحدث نتيجة تفاوت الروافد في قوة النحت  $\Rightarrow$  فالفرع ذو النحت القوي (مستوى المياه فيه منخفض) يأسر المياه من الفرع ذو النحت الضعيف (مستوى المياه فيه مرتفع) ويعتبر مصبا له

الدلتا  $\Delta$ 

تتكون عند تلاقي ماء النهر بمياه البحار أو البحيرات فتترسب حمولة النهر في قاع البحر مكونا دلتا



## شروط تكوين الدلتا

- 1 خلو البحر من التيارات الشديدة والمد والجزر الشديد
- 2 لا يميل قاع البحر للهبوط

الرمال السوداء في مصر رواسب دلتاوية ذات قيمة اقتصادية توجد على طول ساحل البحر الأبيض من رشيد وحتى العريش تحتوي على 1 معدن المونازيت ( معدن يحتوي على اليورانيوم المشع) 2 الألمنيوم 3 الزركون ( يستخدم في السيراميكات)

## قطاع النهر أو البروفيل

$\Leftarrow$  أن شكل القطاع أو البروفيل يتغير بتغير عمر النهر

لماذا يكون شكل المقطع أو بروفييل النهر الشاب V ضيق بينما النهر الناضج V متسع والنهر العجوز قوس؟

1 النهر الشاب : عند المنبع يشتد الحفر نتيجة سرعة تيار النهر وشدة انحداره فهو يحمل الفتات الغليظة

المتدرجة على القاع فتعمل على نحت القاع أكثر من الجانبين

$\Rightarrow$  يساعد ذلك عوامل التعرية في هذه الأماكن الرطبة ويصبح قطاعه شكل V

الحصى المحمول بواسطة الأنهار	الحصى المحمول بواسطة الرياح
مستدير ومصقول من جميع الجهات	هرمي الشكل مثلث الأوجه - مصقول من الناحية المواجهة للرياح

## العمل الجيولوجي للمياه الجوفية

## العمل الهدمي

الهدم الميكانيكي	الهدم الكيميائي
عندما تتشبع كتل الصخور المنفذة للماء فأنها تنهار على جوانب السفوح الجبلية بفعل الجاذبية	$\Leftarrow$ الماء الجوفي يحتوي على ثاني أكسيد الكربون و املاح حامضية مذابة تعمل على إذابة الصخور الجيرية فتتكون الكهوف والمغارات

## العمل البنائي

## 1 الهوابط و الصواعد

نتيجة ذوبان المواد الجيرية بفعل المياه الأرضية المحملة ثاني أكسيد الكربون فتترسب هذه المحاليل داخل المغارات والكهوف مكونة

↑↑ الصواعد ( ستالاجميت )	↓↓ الهوابط ( ستالاكتيت )
رواسب من مواد جيرية تنمو من أرضية المغارة	رواسب من مواد جيرية تتدلى من سقف المغارة

## 2 (الغابات المتحجرة)

\* تذيب المياه القلوية أو المختلطة بالاحماض العضوية كثيرا من المواد كمعدن السليكا (عمل الهدمي) وتجعلها تحل محل المواد الجيرية في الحفريات أو محل ألياف الأشجار مكونة الأشجار المتحجرة (عمل البنائي)  $\Leftarrow$  بذلك تعتبر هذه العملية عمل هدمي وترسيبي

المغارات الارضية	المغارات الساحلية
عمل هدمى للمياة الارضية	عمل هدمى للبحار
الماء الجوفي يحتوى علي ثانى أكسيد الكربون تعمل علي إذابة الصخور الجيرية فتتكون الكهوف والمغارات	تختلف درجة مقاومة الصخور بناء على نوعها حيث تتآكل الطبقات الرخوة و تظل الطبقات الصلبة بارزة و من هنا تنشأ المغارات الساحلية و التعرجات و الخللان

المياه الجوفية في حاله حركه دائمة ويتحكم في حركتها ما يلي :

① نوع الصخور	من حيث حجم حبيباتها وشكلها وطريقة ترسيبها والمواد اللاصقة لها
② مسامية الصخور	تعتبر الصخور الرسوبية المسامية مثل الهمل و الحجر الرملى و الحجر الجيري من أفضل الصخور لخرن المياه الجوفية والبتروول والغاز الطبيعي
③ المسامية	النسبة المئوية للمسام ( والشقوق والفراغات الموجودة داخل الصخر ) وبين الحبيبات
④ النفاذية	قدرة الصخر على الإ نفاذ * مقدار سهولة حركة المياه خلال مسام الصخر
③ الميل العام للطبقات	الحاوية للمياه
④ التراكيب الجيولوجية	( التثنيات والكسور ، والفواصل ، والسدود النارية )

عينات رسوبية مدرجة علي الشاطئ

هي علامات متدرجة تدل كل منها علي منسوب المياه وقت المد والجزر

### تعمل الأمواج كعامل تعرية و عامل ترسيب

① تعمل الأمواج على تآكل الشواطئ

② نقل وترسيب الفتات إلى المياه العميقة في البحر أو موازية للساحل

الأسنة بروز أرضى عند البحر نتيجة تقابل تيارين يسيران في الاتجاه المعاكس تقريباً ترسب حمولتها عند خط احتكاكهما

تكلم عن رواسب كلا من

المنطقة	منطقة حافة الأعماق	منطقة المياه الضحلة	المنطقة
تسمى	منطقة المنحدر القارى	منطقة الرف القارى	المنطقة
العمق	من 200 م إلى 2000 م	حتى عمق 200 متر	العمق
الخصائص	هادئة القاع منخفضة الحرارة لا ينفذ الضوء للقاع	الحياة مزدهرة تتأثر بدرجة الحرارة الجو والضوء	الخصائص
الرواسب	① رواسب دقيقة الحبيبات رواسب طينية حاوية علي رواسب دقيقة عضوية جيرية وسليسية (بقايا الأوليات كالفورامينيفرا والدياتومات والرادبولاريا )	① رواسب قارية من الحصى والرمال قرب المنطقة الشاطئية الطمي والطين تجاه الداخل ② الرواسب الطينية الرواسب الجيرية الناتجة من تراكم محارات الحيوانات بعد موتها	الرواسب
	منطقة الأعماق	منطقة الأعماق	منطقة الأعماق
	منطقة الأعماق السحيقة	منطقة الأعماق السحيقة	منطقة الأعماق السحيقة
	يزيد عن 2000 متر	يزيد عن 2000 متر	يزيد عن 2000 متر
	درجة حرارتها ثابتة تكاد تقترب من الصفر	درجة حرارتها ثابتة تكاد تقترب من الصفر	درجة حرارتها ثابتة تكاد تقترب من الصفر
	① رواسب بركانية ( الطين الأحمر ) * ② رواسب عضوية دقيقة جيرية وسليسية بقايا كائنات دقيقة كالفورامينيفرا والدياتومات		



## العوامل التي يتوقف على تأثرها سمك التربة

1- التركيب الكيميائي والخواص الطبيعية للصخور الأصلية	2- شدة تأثير عوامل المناخ المختلفة
3- تأثير الكائنات الحية	4 - العامل الزمني

اختلاف سمك التربة الوضعية في منطقتين متباعدتين بالرغم من أن الصخر المكون لها واحد ... علل يرجع ذلك لاختلاف تأثير عوامل التعرية ( تجوية - نقل - ترسيب ) في المنطقتين

التربة المنقولة	التربة الوضعية
تكونت في مكان مختلف عما تفتت فيه تفككت في مكان ثم نقلت لمكان آخر	تكونت في مكانها من نفس الصخر أسفلها
تختلف في الغالب عن الصخر الأصلي الذي تعلوه في التركيب المعدني والكيميائي ( تربة طينية تعلو صخر رملي أو تربة رملية فوق صخر جيري )	تشبه الصخر الأصلي في التركيب المعدني والكيميائي وتختلف عن الصخر الأصلي باختلاف نوع التأثير الجوي
لا يوجد نسيج متدرج - يوجد الحصى مستدير الزوايا - تتعرض التربة دائماً لعوامل التعرية والنقل المختلفة	تمتاز بتدرج النسيج نجد الصخر الأصلي تعلوه منطقة تشقق ← منطقة جلاميد حاد الحواف ← حصى حاد الزوايا ← تربة خشنة ← التربة الناعمة السطحية

الهدم الميكانيكي للمياه الجوفية	العمل الميكانيكي للأمطار
عندما تتشعب كتل الصخور المنفذة للماء فأنها تنهار على جوانب السفوح الجبلية بفعل الجاذبية	← تعمل الأمطار المصاحبة لرياح شديدة على نقل المواد المفتتة أو تفتت أجزاء أخرى مثال : نحت الأمطار للصخور الجيرية فتتكون الأخاديد والجروف قليلة الارتفاع ( كما في شبة جزيرة سيناء )

الهدم الكيميائي للمياه الجوفية	العمل الكيميائي للأمطار
الماء الجوفي يحتوي على ثاني أكسيد الكربون تعمل على إذابة الصخور الجيرية فتتكون الكهوف والمغارات	مياه الأمطار بما تحملة من عناصر ذائبة (CO <sub>2</sub> - O <sub>2</sub> ) تعمل على تنشيط عملتي الأكسدة والكربنة للصخور المختلفة ( فتعمل على تفكك الصخور )

## هناك عوامل جيولوجية تعيد إلى الأنهار شبابها

- ① تنشأ حركات أرضية رافعة قريبة من منطقة المنبع
- ② عند اعتراضة طفوح بركانية

## ماذا يحدث عند تجديد النهر لشبابه

فيزداد انحداد مجرى النهر و سرعة التيار فيبدأ النهر في النحت من جديد

- ① يستأنف تعميق مجراه
- ② يقل التآكل الجانبي أو يتوقف نهائياً
- ③ يصبح قطاعه على شكل شرفات نهريّة

## تعمل الأمواج كعامل تعرية وعامل ترسيب

- ① تعمل الأمواج على تآكل الشواطئ
- ② نقل وترسيب الفتات إلى المياه العميقة في البحر أو موازية للساحل



الرمال السوداء في مصر رواسب دلتاوية ذات قيمة اقتصادية توجد على طول ساحل البحر الأبيض من رشيد وحتى العريش تحتوي على ① معدن المونازيت ( معدن يحتوي على اليورانيوم المشع ) ② الألمنيت ③ الزركون ( يستخدم في السيراميكات )

ظهور صخور نارية جوفية فجأة على سطح الأرض

يؤدي ذلك إلى تمدد الصخور لعدم وجود مقاومة نتيجة تخفيف الحمل

وانفلاتها حيث تنفصل عن الصخر الأصلي

تظهر هذه الخاصية في صخور الجرانيت ذات القشور الكروية الشكل

( يساعد تحليل الفلسبار على إتمام عملية الانفصال )

①

الكائنات المحللة حارسة الطبيعة (علل) \* حيث :

① تحلل أجسام الكائنات الحية بعد موتها

② تحرر المواد والعناصر الغذائية

وتخلص البيئة منها

وتعيدها إلى التربة

بدون الكائنات المحللة

لا يتم تحلل بقايا الحيوانات والنباتات كما أن الكائنات المحللة هي التي تطلق مركبات عناصر ( الكربون ، الفوسفور ، النيتروجين وغيرها ) إلى التربة ليعاد استخدامها لتؤمن بذلك استمرار النظام الإيكولوجي مثل ( البكتيريا والفطريات الرمية )

التحدى الكبير الذى يواجهه الإيكولوجيون اليوم هو

① محاولة معرفة ما يدور فى النظم البيئية

② كيفية تغير هذه النظم بمرور الزمن

دراسة النظم الإيكولوجية وعلاقتها بالإنسان شديدة الأهمية (علل) \*

لأن حياتنا متوقفة على سلامة هذه النظم

أسباب تعقيد النظام الإيكولوجي

① ما يحويه من عوامل فيزيائية وكيميائية وكائنات حيه متنوعة

② العلاقات المتبادلة والمتشابكة بين الكائنات الحية بعضها البعض وبين العوامل غير الحية

هذا التعقيد هو أحد العوامل الأساسية فى سلامة كل نظام بيئي

إذ يحد من أثر التغيرات الإيكولوجية

\*الساق منتحي ضوئي موجب (علل) \* بسبب استطالة خلايا الساق البعيدة

عن الضوء بدرجة أكبر من خلايا الساق المواجهة للضوء - لأن تركيز الأكسينات ( المواد المحفزة للنمو ) فى الجانب المظلم يكون أعلى من الجانب المضي فتستجيب خلايا الساق للنمو بصورة أكبر فى الظلام عنها فى الضوء

\*إذا زرع نبات القمح خلال شهري فبراير ومارس ( 2 - 3 ) فإنه ينمو خضريا فقط دون أن يزهر (علل) \* لعدم ملائمة العوامل البيئية للتغيرات الداخلية اللازمة لمرحلة الإزهار

نشاط الحيوانات

يمكن تقسيم نشاط الحيوانات على اربع فترات ضوئية خلال اليوم هي

① فترة الفجر	يقل	نشاط الحيوانات الليلية تدريجيا ثم تعود إلى ملاجئها
② فترة النهار	تنشط	الحيوانات النهارية
③ فترة الغسق	يقل	نشاط الحيوانات النهارية تدريجيا ثم تعود إلى ملاجئها
④ فترة الليل	تنشط	الحيوانات الليلية

\*

\* لضوء القمر

تأثير على أحياء الشواطئ البحرية التي تتعرض للمد والجزر فبعض الأحياء تنشط عندما تغمرها مياه المد و تبقى غير نشطة عند تعرضها للجزر

\* تتباين استجابات الحيوانات المائية ويتوقف ذلك على

الحالة الفسيولوجية - العمق - الموسم - المرحلة

التي يمر بها الكائن الحي من تاريخ حياته

\* طول فترة النهار يؤثر على نشاط الطيور ❗ \* (علل)

لأن الضوء يؤثر على حجم الغدد الجنسية الذي

يزداد بزيادة طول فترة النهار ويقل بنقصانه

الأحياء الهائمة ❗ \* القشريات الهائمة تظل طوال النهار على عمق حوالي 27م وذلك لتأثره بالأشعة فوق البنفسجية ثم تهجر ليلاً إلى السطح وقد يحدث العكس لأحياء أخرى

البكتريا	←	الجراثيم	الحيوانات الأولية الاميبيا ←	الحوصلات
البرمائيات والزواحف	←	البيات الشتوي	الرخويات والحشرات ←	الخمول الصيفي

❗ غير أن هناك بعض الأحياء المجهرية التي تتحمل درجات حرارة تقل عن الصفر وأخرى تتحمل درجات حرارة أعلى من 50 °م وذلك أن فاعلية الكائن الحي يحددها المدى الذي يبقى فيه البروتوبلازم حياً

← البيئة البحرية	بيئة ثابتة نسبياً نظراً لاتصال مياه البحار والمحيطات
← البيئات الأرضية	تباين الظروف الفيزيائية والكيميائية والبيولوجية نظراً لانفصالها على شكل قارات وجزر متباعدة وهي بيئات مناسبة لكثير من الأحياء النباتية والحيوانية والدقيقة

## ❗ ( التمدد الشاذ للماء )

← عندما تنخفض درجة حرارة المياه إلى 3 درجة فيتمدد ويتكون الجليد الذي يطفو لأعلى لقله كثافته ثم يتجمد مما يحافظ على الأحياء المائية أسفله من التجمد من الأسفل ( لذا تعيش الأسماك في المناطق القطبية والباردة (علل) \* )

❗ دفع المناطق الساحلية

المناطق الساحلية تنعم بالاستقرار الحراري عن المناطق القارية البعيدة عن البحار (علل) \* والتي تنقلب فيها الحرارة ليلاً ونهاراً وفي الفصول المختلفة ← لأن مياه البحار تخزن كمية كبيرة من حرارة الشمس نهاراً ثم تسربها ليلاً إلى الفضاء واليابسة المحيطة

ضغط الماء

❗ يزيد ضغط عمود الماء بمعدل 1 ضغط جوى لكل 10متر تحت الماء بالإضافة إلى الضغط الجوي (العمق ÷ 10 + 1) ❗ تتميز الحيوانات في الأعماق بقدرات جسمية فسيولوجية (علل) \* تجعلها تتحمل ❶ الضغط الزائد ❷ القدرة على الحياة في ظروف الأعماق من برودة شديدة وظلام دامس

\* خصائص سلاسل الغذاء البحرية

❶ تشغل الهائمات الحلقة الأولى والثانية في سلسلة الغذاء البحرية (علل) \* ❗ لان بعضها نباتي يقوم بتحضير الغذاء ( كائنات منتجة ) والآخر حيواني يقوم بالتغذية عليها ( كائنات مستهلكة )  
❷ تتسم الحياة البحرية بطول السلسلة الغذائية وتعدد حلقاتها (علل) \* ❗ لان معظم الأحياء البحرية أكلة لحوم مفترسة مما يسبب إهدار نسبة كبيرة من الطاقة تفقد خلال الانتقال من حلقة لأخرى  
❸ الطاقة تتناقص إلى العشر تقريبا عند الانتقال من مستوى غذائي لآخر

❷ الجنود

❶ رأسياً لعمق كبيرة في التربة (علل) \* ❗ للوصول و امتصاص المياه الجوفية  
❷ أفقياً تحت سطح التربة (علل) \* ❗ للحصول على أكبر قدر من ماء الندى و المطر

<b>ثعلب الفنك</b>	<b>اليرابيع</b>
له آذان كبيرة 1- لتجميع الموجات الصوتية من مسافات بعيدة 2- إشعاع الحرارة من الجسم	1- يتركز بولها ويشح عرقها جدا للاقتصاد في الماء 2- لا يقرب الماء طيلة حياته التي تستخلص الماء من البذور والنباتات العصارية التي تتغذى عليها

<b>أكلات العشب في النظام البحري</b>	<b>أكلات عشب في النظام الصحراوي</b>
هائمات حيوانية مجموعة كبيرة من الأوليات والديدان والقشريات الدقيقة واليرقات المختلفة تتغذى جميعها على الهائمات النباتية (كائنات مستهلكة للغذاء)	الحشرات الصحراوية الجراد والخنافس وبعض الزواحف تتغذى على النباتات الصحراوية المتباعدة اكتسبت هذه الكائنات لها أغطية جافة محكمة حول أجسامها للاحتفاظ بالماء الثدييات الصحراوية القوارض مثل اليرابيع والغزلان التي تكيفت للحياة في تلك البيئة القاسية. معظمها ينشط بالليل أو في الصباح الباكر وتختبئ بالنهار في حفر أو كهوف رطبة يتركز بولها ويشح عرقها جدا للاقتصاد في الماء حيث إن بعضها لا يقرب الماء طيلة حياته التي تستخلص الماء من البذور والنباتات العصارية التي تتغذى عليها

2

<b>الموارد غير المتجددة</b>	<b>الموارد المتجددة</b>
هي موارد ليس لها القدرة على الإستمرار والتجديد تختفي من البيئة إن عاجلا أو آجلا ويتوقف ذلك على حسن تعامل الإنسان معها أو سوء استغلاله لها <b>مثال</b> البترول والفحم والغاز الطبيعي والمعادن سواء الفلزات أو اللافلزات	هي موارد لها القدرة على الإستمرار والتجديد تظل متوافرة في البيئة الطبيعية ما لم يتسبب الإنسان في إنقراضها أو استنزافها وتدهورها <b>مثال</b> النبات والحيوان والماء والهواء والتربة

<b>* الأسمدة العضوية</b>	<b>* الأسمدة الكيميائية</b>
① تنشيط عمل الكائنات الحية بالتربة ② تدخل في سلاسل الغذاء ③ تكسب التربة خواصاً فيزيقية مرغوبة	① تؤدي إلى تدهور التربة ② جعلها أكثر عرضة للانجراف

<b>الإفراط في استخدام المبيدات الحشرية والفطرية</b>	<b>أدى إلى :</b>
① القضاء على حشرات نافعة كانت تتغذى على الحشرات ضارة فتحولت الضارة إلى آفات خطيرة ② فقدان البكتريا العقدية لمميزاتها الشكلية والوظيفية ③ موت ديدان الأرض التي كانت تقوم بتهوية التربة وتوفير النيتروجين بها	

<b>* فوائد الأشجار في الغابات</b>
1- في المناطق الصناعية   تعمل كمصفاة طبيعية لغاز CO2 وتمدنا ب O2 2- في المناطق الزراعية   ① تعمل كمصدات للرياح لحماية المزروعات ② توفر الظل والخشب 3- في الغابات   الأوراق المتساقطة من أشجار الغابات تتحلل إلى مواد عضوية تزيد من الخصوبة <b>* الديبال</b> مادة عضوية ناتجة من تحلل الأوراق المتساقطة من أشجار الغابات تزيد من خصوبة التربة 4- تؤمن درجة حرارة ثابتة تقريبا للحيوانات البرية التي تمثل الغابة لها • ملجأ مناسب للحيوانات 5- مورد متجدد للخشب والسليلوز اللازمين لصناعة الورق والملابس

## ❖ علاج مشكلة تعامل المزارعين غير السوى فى الزراعة يلزم :

- 1- عدم زراعة محصول واحد لسنوات متتالية وإتباع نظام الدورات الزراعية
- 2- تنظيم استخدام الأسمدة والمبيدات الكيميائية
- 3- تحويل المخلفات الزراعية إلى سماد عضوى
- 4- تحويل المواد العضوية فى القمامة إلى سماد عضوى
- 5- استخدام الألياف الصناعية بدلاً من القطن لتوفير الأراضى لزراعة محاصيل الحبوب

الرعى الجائر ← معدل نمو الحشائش أقل من معدل استهلاك الحيوانات لهذه الحشائش  
المراعى الطبيعية ← مساحة من الارض توفر الغذاء للماشية

يؤدى إلى <u>تآكل الغطاء النباتى</u> وسيادة الأنواع غير المستساغة أو التى تكمل دورة حياتها فى فترة وجيزة فلا تتمكن الحيوانات من القضاء عليها	① <u>الرعى فى مناطق الأعشاب</u>
يسبب <u>زيادة فى أعداد وأحجام تلك الشجيرات</u> نتيجة ازالة الأعشاب التى تنافسها على الماء	② <u>الرعى فى مناطق الشجيرات والأشجار</u>

الصيد الجائر للحيوانات البرية والبحرية

\* صيد مجموعة من الحيوانات إلى الحد الذى تصبح فيه أعدادها قليلة جدا غير قادرة على استمرار التكاثر (صيد الحيوانات بمعدل يفوق تكاثرها)

### ❖ مظاهر الإسراف فى إستعمال الماء

① الري بالغمر	② الاستخدام الأدمى غير الرشيد	③ زيادة أعداد المستهلكين للماء
---------------	-------------------------------	--------------------------------

### ❖ علاج إهدار الماء وتلوثه

- ① ترشيد الاستهلاك عن طريق الري بالرش أو بالتنقيط  
← نستخدم ما نوفره من ماء النهر فى زراعة مساحات جديدة
- ② تجنب الري بالغمر  
← استخدام الري بالرش أو بالتنقيط لتوفير الماء
- ③ عدم إهدار الماء فى الاستخدام الشخصى  
← استخدام صنابير تعمل بالأشعة تحت الحمراء لتوفير الماء
- ④ معالجة الماء المستعمل فى المنازل لإستخدامه فى ري الأشجار الخشبية
- ⑤ البحث عن المياه الجوفية الصالحة للرى والإستخدام الشخصى  
و تحلية مياه البحر و تجميع مياه الأمطار

### ❖ جهود الدولة لمكافحة تلوث نهر النيل

- ① تحديد نسبة الملوثات المسموح صرفها على نهر النيل
- ② اختيار المبيدات والأسمدة التى لا تلوث المجارى المائية
- ③ إلزام المصانع بمعالجة مياه الصرف الصناعى قبل صرفها فى النيل
- ④ التفتيش المستمر على المجارى المائية وإزالة أسباب التلوث  
- "يتعرض نهر النيل هذا الشريان الحيوى للتلوث"  
وضح مصادر التلوث ، ثم وضح جهود الدولة لمكافحة تلوث نهر النيل.

### ✻ علاج استنزاف المعادن ✻

- ① استخدام اللدائن ( البلاستيك ) ← في صناعة المواسير بدل المعادن الغير متجددة
- ② استخدام الفلسبار في السيراميك والفخار ( أواني الطهي ) بدل المعادن الغير متجددة
- ③ إعادة استخدام بطاريات السيارات بعد معالجتها
- ④ إعادة معالجة وتشكيل المصنوعات البلاستيك والمصنوعات الزجاجية وإستخدامها
- ⑤ إعادة صهر وتشكيل وإستخدام المعادن الخردة الغير صالحة للاستعمال

### البتروكيماويات

- ← صناعات حديثة تعتمد على البترول ومشتقاته  
 ← ترشد من استهلاك البترول وإطالة فترة الانتفاع به
- ① لها عائد إقتصادي ضخم  
 مثل / الألياف الصناعية والأصبغ والطلاء والمنظفات وأكياس التعبئة والأدوية وغيرها من الصناعات التي أصبحت من مستلزمات الحياة

### علاج استنزاف الوقود الحفري

- ① ترشيد استهلاك الوقود الحفري والبحث عن بديل
- ② استخدام الطاقة الشمسية وطاقة الرياح
- (أنسب مصادر الطاقة في مصر لأن كليهما متوافر طوال العام)
- ③ استخدام الفحم بدل البترول لتوفره أكثر مع حل مشكلة التلوث
- ④ إقامة المفاعلات لتوليد الطاقة من الوقود النووي باستخدام اليورانيوم بدل البترول غير أن استخدامها مازال محدوداً بسبب
- ① التكاليف الكبيرة
- ② احتياطات الأمان الكثيرة الواجب اتخاذها لحماية الإنسان والبيئة من خطورته
- ⑤ صناعة سيارات تعمل بالكهرباء بإستخدام الخلايا الشمسية لأنها توفر الوقود من البترول ولا تلوث البيئة
- ⑥ تحويل مخلفات الحيوان والمخلفات الزراعية إلى غاز الميثان ( البيوجاز ) كوقود
- ⑦ إعادة إستخدام زيوت السيارات بعد معالجتها