

امتحان شامل جغرافيا ٢٠١٨

(١) ضع علامة صح أمام العبارات الصحيحة، وعلامة خطأ أمام العبارات الخاطئة مع ذكر السبب:

١. كان للجغرافيا السياسية دور مهم في حل المشكلات السياسية

٢. ظهر مصطلح الجيوبولتيك أول مره على يد الجغرافى راتزال

(٢) اختر الاجابة الصحيحة مما بين القوسين:

١. أشهر مؤلفاته فى الجغرافيا السياسية كتاب السياسة

أ. ابن خلدون ب. ارسطو ج. كلين د. راتزل

٢. تعد دولة مثالاً للدولة الفيدرالية

أ. مصر ب. فرنسا ج. الصين د. البرازيل

(٣) دتل جغرافياً على صحة العبارات التالية:

١. يعد أرسطو أشهر من كتب فى الجغرافيا السياسية.

(٣) ما العلاقة بين تطور وسائل الاتصالات - وتطور علم الجغرافيا السياسية

(٤) بم تفسر

١. تحاول الدولة أن تكون عاصمتها محصنة وبعيدة عن الحدود

٢. أهمية الموقع البحرى للدولة

(٥) ما المقصود بـ

١. قلب الدولة

٢. عواصم قديمة

(٦) " المواقع الاستراتيجية تكتسب أهمية بالغة للدولة " فى ضوء ذلك ما نتائج موقع مصر الاستراتيجية

(٧) دتل جغرافياً على صحة هذه العبارة: يعد الشكل المنتظم أكثر الأشكال أهمية للدولة فى الجغرافيا السياسية

(٨) اختر أحد السؤالين (أ) أو (ب)

أ) يؤدى المناخ المتطرف (الحار والبارد) إلى الحد من فاعلية الأنشطة البشرية .

ب) الطابع السهلى له آثار إيجابية على الدولة .

٩) اختر أحد السؤالين (أ) أو (ب) ما النتائج المترتبة على
أ) إحاطة دولة بدولة أخرى من جميع الجهات
ب) التقدم العلمى والتكنولوجى وتأثيره على مناخ الدولة

١٠) ضع علامة صح أمام العبارات الصحيحة، وعلامة خطأ أمام العبارات الخاطئة مع ذكر السبب

١. الشكل المجزأ للدول تكون فيه أراضى الدولة مترابطة جغرافياً

٢. يعتمد التقدم الصناعى للدول فى الوقت الحالى على وفرة المواد الخام الأولية .

٣. تعد كندا من الدول ذات الاكتفاء الذاتى النسبى .

١١) دلل جغرافياً على صحة هذه العبارات:

١. الحجم الكبير للسكان له مميزاتة وسلبياتة.

٢. تعد وسائل النقل من الأمور الضرورية للدول العصرية.

٣. للهجرة السكانية آثار إيجابية وأخرى سلبية على الدول المرسله والدول المستقبلة للمهاجرين.

١٢) دلل على صحة أو خطأ العبارة

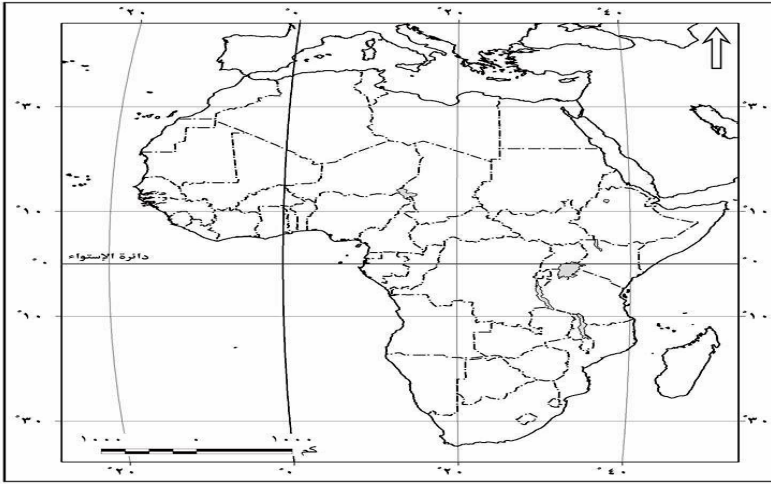
١. ارتفاع فئة صغار السن فى (دون سن الخامسة) فى الدول النامية يمثل إنذار خطر

٢. نقص إنتاج المواد الغذائية فى الدول النامية يمثل ضغوط خارجية

١٣) ما الفرق بين النظام السياسى فى صورته الاجتماعية والنظام السياسى فى صورته المؤسسية.

١٤) قارن بين النظام الرئاسى، النظام البرلمانى.

١٥) أمامك خريطة صماء لإفريقيا، حدد عليها ما يلي:



خريطة إفريقيا السياسية (صماء)

١٦) ضع علامة صح أمام العبارات الصحيحة، وعلامة خطأ أمام العبارات الخاطئة مع ذكر السبب :

١. التكامل الاقتصادي بين الدول يقوم بطبيعته على التنوع

.....

٢. القوة العسكرية أساس نجاح واستمرار أى كتلة اقتصادية

.....

١٧) بمرئفسر

١. فشل وانهيار عصابة الأمم

.....

٢. نشأة الأمم المتحدة ١٩٤٥م

.....

٣. هناك اعتبارات تؤخذ على هيئة الأمم المتحدة رغم جهودها الدولية

.....

١٨) أمامك خريطة للعالم وضح ما يلي

١. دولة أقام بها مؤتمر الصلح

٢. دولة دعت لحلف وارسو

٣. دولة حصلت على مقعد دائم بمجلس الأمن لثقلها السكاني

٤. دولة حدث بها إعصار كاترينا

١٩) دلل جغرافيا على مدى صحة العبارات التالية

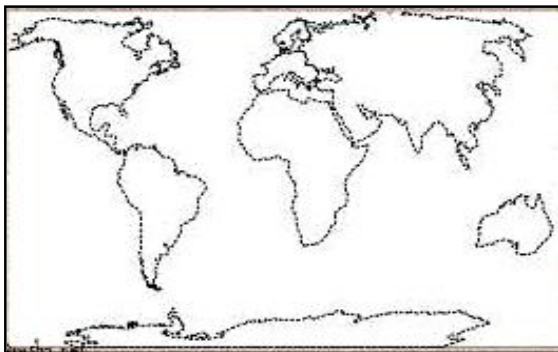
١. نشأه الحدود السياسيه الخطيه بين الدول

.....

.....

٢٠) ما العلاقة بين نشأة الحدود والفصل بين الدول

.....



٢١) إذكر المفهوم الجغرافي

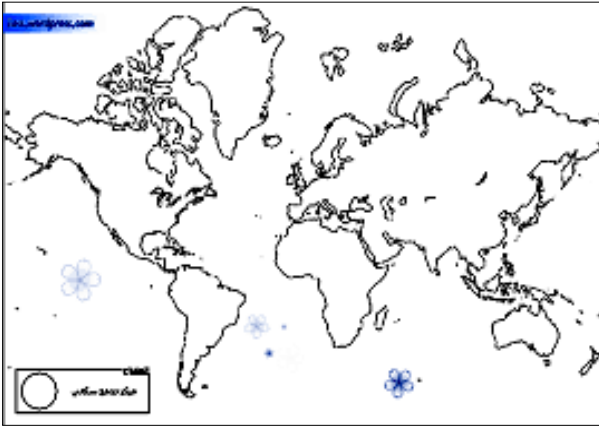
١. مجموعة بشرية تشترك في صفات خاصة تختلف عن مثيلاتها في مجتمع الأكثرية

٢. أى تهديد يمس سيادة الدولة واستقرارها فى الداخل والخارج

٢٢) إذكر أوجه الشبه والاختلاف بين الهجرة الإجبارية والهجرة غير الشرعية

٢٣) كان الاستعمار لكشمير سببا لظهور مشكلة إقليم كشمير (وضح)

٢٤) مارأيك ... لم يكن ظهور النظام العالمى الجديد وليد أحداث راهنة



٢٥) أمامك خريطة للعالم وضح عليها

١. حد جبلى يفصل أسبانيا عن فرنسا

٢. دولة طولية الشكل بقارة آسيا

٣. دولة مجزأة بحرية

٤. دولة نقلت عاصمتها لعامل الحماية

٥. دولة تتسم بالسهول

٦. دولة هامشية

٢٦) هناك عوامل يتوقف عليها الحد البحرى إذكرها

٢٧) ظهور مشكلات فى استخدام الأنهار كحدود طبيعية

٢٨) ماوجه الشبه والاختلاف بين الأقلية العرقية فى أمريكا وجنوب إفريقيا

٢٩) ماهى المقومات الطبيعية والبشرية لموقع مصر ودورها فى قوة الدولة

٣٠) صنف أنواع الحدود تبعا للدول التالية وأيهما تفضل ولماذا

أ. ألمانيا وفرنسا

ب. شيلى والأرجنتين

٣١) ما العلاقة بين سياسة جورباتشوف وحل حلف وارسو ١٩٩١

مع التمنيات بالتوفيق والنجاح (الأستاذة / رانيا حمدان)