

## السؤال الأول اختر الإجابة الصحيحة

- ١- تكتسب جدر الخلايا الإسكارنشيمية الصلابة إذا ترسب عليها ..... ( الكيوتين - السيوبرين - السليلوز - كل ما سبق )
- ٢- تتميز الفقرة رقم ٢٠ بأنها ..... ( عريضة - ملتحمة - مفلطحة - كبيرة )
- ٣- عظمة يوجد بطرفها العلوى تجويف يستقر فى النتوء الداخلى للعضد ( لوح الكتف - التجويف الأرواح - الزند - التجويف الحقى )
- ٤- تتصل الفقرة رقم ١٠ من العمود الفقرى بالضلع رقم ..... ( ١٠ - ١٣ - ٣ - ٧ )
- ٥- أصغر وحدة انقباض فى العضلية الهيكلية ..... ( الليفة العضلية - القطعة العضلية - اللييفة العضلية - الميوسين )
- ٦- العدد الكلى لعظام عرقوب وقدم الإنسان فى طرف واحد ..... ( ١٤ - ١٧ - ٢٧ - ٢٦ )
- ٧- الفقرة رقم (٢٧) من العمود الفقرى هى الفقرة ..... ( القطنية الثانية - العجزية الثالثة - العصبية الرابعة - القطنية الأولى )
- ٨- يصل وتر أخيل العضلة التوأمية بعظمة ..... ( الشظية - مشط القدم - القصبة - الكعب )
- ٩- الأيون المسئول عن النقل السيل العصبى من النهايات العصبية إلى الألياف العضلية هو ..... ( البوتاسيوم - الكالسيوم - الصوديوم - الكلور )
- ١٠- توجد المناطق الداكنة والمضيئة فقط فى العضلات ..... ( الهيكلية - الملساء - القلبية - الهيكلية والقلبية )
- ١١- عند انقباض العضلة الهيكلية فإن المنطقة المضيئة ..... ( يزداد طولها - يقل طولها - يتضاعف طولها - لا يطرأ عليها تغيير )
- ١٢- تتشابه الأوتار مع الأربطة فى كلاً مما يلي ما عدا أنها ..... ( قوية ومتينة - تتكون من نسيج ضام - تتصل بالعظام - على درجة عالية من المرونة )
- ١٣- أى من الهرمونات التالية يؤثر فى الأنسجة غير الغدية ؟ ..... ( ADH - FSH - ACTH - TSH )
- ١٤- تحاط الغدة الدرقية بغشاء من نسيج ..... ( عضلى - ضام - طلائي - غضروفى )
- ١٥- جميع الوظائف التالية تقوم بها الغدة الدرقية ما عدا ..... ( التحكم فى نمو الجسم - تنظيم عمليات الأيض - التحكم فى كمية البول - تنظيم نسبة الكالسيوم فى الدم )
- ١٦- بعد إجراء عدة فحوصات لعينة دم انسان ، لوحظ نقص حاد ومستمر فى مستويات الصوديوم فيعزى ذلك إلى وجود خلل فى إفراز هرمون ..... ( الكورتيزون - الكورتيزون - الألدوستيرون - الأدرينالين )

١٧- يتأثر الكبد فى الإنسان بهرمون ..... ( الأنسولين - الأدرينالين - الجلوكاجون - جميع ما سبق )

- ١٨- تعرف خلايا البنكرياس التى تفرز انزيمات هاضمة باسم ..... ( خلايا بينية - جزر لانجرهانز - خلايا بيتا - خلايا حويصلية )
- ١٩- يعانى مريض البول السكرى من ارتفاع نسبة الجلوكوز فى الدم عن المعدل الطبيعى نتيجة ..... ( زيادة أكسدة الجلوكوز - تحول الجلوكوز إلى جليكوجين - نقص إفراز الأنسولين - الخلل فى أيض البروتينات )
- ٢٠- الأندروجينات هى هرمونات ..... ( الكورتيزون والكورتيكوستيرون - الإستروجين والبروجسترون - التستوستيرون والأندوستيرون - الأدرينالين والنور أدرينالين )
- ٢١- زيادة فرص التباين الوراثى فى الأجيال تتم خلال التكاثر بطريقة ..... ( الانشطار الثنائى - التبرعم - تكوين الجراثيم - الأمشاج )
- ٢٢- إذا كان عدد الكروموسومات فى بويضة حشره المن ١٨ كروموسوم فإن عدد الكروموسومات فى خلية جناحها ..... ( ٣٨ - ٣٦ - ١٨ - ٩ ) كروموسوم
- ٢٣- تلتحم أغلفة المبيض مع أغلفة البويضة فى ثمرة ..... ( القمح - الفول - التفاح - البسلة )
- ٢٤- يبدأ إفراز هرمون البروجسترون فى اليوم ..... من بدء الطمث . ( الأول - الخامس - الرابع عشر - الثامن والعشرون )
- ٢٥- جميع الكائنات الحية التالية تتكاثر جنسيا بالأمشاج ما عدا ..... ( الإسبيروجيرا - الفوجير - البلازموديوم - الإنسان )
- ٢٦- كل ما يلي خلايا ثنائية المجموعة عدا ..... ( أمهات المنى - خلايا جرثومية أمية - طلائع منوية - خلايا منوية أولية )
- ٢٧- يتكاثر طحلب إسبيروجيرا لا جنسياً فى حالة ..... ( تغيير درجة حرارة الماء - تغيير نقاوة الماء - تعرضها للجفاف - نقاوة الماء ووفرة الأكسجين )
- ٢٨- إذا كان عدد الصبغيات فى النواة المولدة = س فإن عدد الصبغيات فى النواة الذكرية = ..... (  $\frac{1}{2}$  س - س - ٢س - ٣س )
- ٢٩- يتكون الإندوسيرم من اندماج نواة ذكرية مع ..... ( نواة البويضة - النواة الأنبوبية - الخليتان المساعدتان - نواتا الكيس الجنينى )
- ٣٠- تتكاثر الهيدرا بكل من الطرق التالية ما عدا ..... ( الجنسى - التجدد - التبرعم - التجزئ )
- ٣١- من النباتات التى تتكاثر بالجراثيم ثم بالأمشاج ..... ( الفوجير - عيش الغراب - البكتريا - بلازموديوم ملاريا )
- ٣٢- المسئول عن حماية أجزاء الزهرة الداخلية من الجفاف أو الأمطار والرياح ..... ( البتلات - الأسدية - السبلات - الكرابل )

- ٣٣- بذور الطماطم عبارة عن ..... ( بويضة مخصبة - بيضة مخصبة - مبيض ناضج - زيجوت ناضج )
- ٣٤- إذا كان العدد الزوجى للكروموسومات فى نبات ما هو ١٨ كروموسوم فكم يكون عدد الكروموسومات فى خلية الإندوسيرم : ( ١٨ - ٩ - ٢٧ - ٣ )
- ٣٥- يحدث الانقسام الميوزى الثانى فى ..... ( حويصلة جراف - بطانة الرحم - قناة فالوب - زراعة الأنسجة )
- ٣٦- أعلى مستوى تركيز لهرمون LH يكون فى اليوم ..... من بداية الطمث . ( الخامس - التاسع - الرابع عشر - الحادى والعشرين )
- ٣٧- الحيوان المنوى لذكر نحل العسل يحتوى على ..... عدد صبغيات الخلية الجسمية لذكر نحل العسل . ( نصف - نفس - ضعف - ثلاثة أضعاف )
- ٣٨- تحتوى خلايا طحلب الإسبيروجيرا على ..... عدد صبغيات لاقحة الإسبيروجيرا . ( ضعف - نصف - ربع - نفس )
- ٣٩- التغير فى حجم الخلايا مع ثبات عددها وعدد الصبغيات فيها عند تكوين الحيوان المنوى يكون فى مرحلة ..... ( التضاعف - النمو - النضج - التشكل النهائى )
- ٤٠- فى نبات الفوجير تسمى الأمشاج المذكورة ..... ( الأنتريديا - الأرشيجونيا - السابحة المهديبة - البويضة )
- ٤١- تصلب الأغلفة البيضية فى بذور ذات الفلقتين يؤدى إلى تكوين ..... ( القصرة - التخت - البويضة - الثمرة )
- ٤٢- تتكون جيوب اللقاح فى المتك نتيجة حدوث ..... ( انقسام ميوزى فقط - انقسام ميتوزى فقط - انقسام ميوزى يليه ميتوزى - انقسام ميتوزى يليه ميوزى )
- ٤٣- تظهر أعراض حمى الملاريا عند ..... ( لدغ البعوضة للإنسان - تحرر الميروزويتات من الكبد - تحرر الميروزويتات من الدم - مهاجمة الأسبوروزويت للكبد )
- ٤٤- تنشأ الطلائع المنوية فى الخصية فى مرحلة ..... ( النضج - النمو - التشكل النهائى - التضاعف )
- ٤٥- المادة التى لا تنتقل عبر المشيمة من الأم إلى الجنين ... ( البوريا - الأكسجين - الجلوكوز - الأحماض الأمينية )
- ٤٦- يتم توقف عملية التبويض من المبيضين فى أنثى الإنسان عند ..... ( تناول أقراص منع الحمل - حدوث الحمل - سن اليأس - كل ما سبق )
- ٤٧- التركيب الذى يعتبر جهاز تنفسى للجنين داخل الرحم ..... ( الرنتين - غشاء الرهل - غشاء السلى - المشيمة )
- ٤٨- عند المرأة البالغة تتم دورة الطمث التى تستغرق ٢٨ يوم ويحدث التبويض فى اليوم ..... ( التاسع من بدء الطمث - الرابع عشر من بدء الطمث - التاسع من انتهاء الطمث - الثانى عشر من بدء الطمث )

# مراجعات ليلة الامتحان في مادة الأحياء للأستاذ / محمد عبد المولى ٠١٠٠٥٢٥٨٢٢٦

٧٨. انتقال الشفرة الوراثية من النواة إلى السيتوبلازم يتم عن طريق جزيئات .....
- ( البروتين - mRNA - tRNA - rRNA )
٧٩. الجزيء المسئول عن قراءة نغمة الأحماض الأمينية والنيوكليوتيدات هو .....
- ( RNA بوليمر - mRNA - tRNA - DNA )
٨٠. التتابع الذي يقع جهة الطرف 3' لجزيء tRNA هو .....
- ( UAA - UGA - CCA - AUG )
٨١. مضاد الكودون للحمض النووي tRNA الذي يحمل الميثونين هو .....
- ( UAC - CCA - TAC - AUG )
٨٢. لكل حمض أميني .....
- ( كودون واحد و tRNA واحد - أكثر من كودون وأكثر من tRNA - كودونان و tRNA واحد - كودونان وجزيئات tRNA )
٨٣. أي مما يلي يمثل تتابع تعرف لإنزيم قصر ما ؟
- 5... A - G - T - C ...3 | 5... G - G - C - C - ...3  
3... - T - C - A - G ...5 | 3... C - C - G - G ...5  
5... A - A - G - G ...3 | 5... A - C - C - A ...3  
3... T - T - C - C ...5 | 3... T - G - G - T ...5
٨٤. كل ما يلي من خصائص DNA المعزول من خلايا حقيقيات النواة عدا .....
- ( التنظيم على شكل صبغى حلقي - الارتباط مع الهستونات - الانتظام على شكل نيوكليوسومات - إمكانية حدوث طفرة به )
٨٥. تتشابه جميع جزيئات tRNA في .....
- ( التركيب الكيميائي - الشكل العام - الحمض الأميني الذي تحمله )
٨٦. أول حروف الشفرة التي توجد على جزيء DNA بعد المحفز هي .....
- ( ACT - TAC - AUG - UAG )
٨٧. يتحدد نوع الحمض الأميني الذي يرتبط بالناقل على .....
- ( شفرة ال DNA - مضاد الكودون على tRNA - كودونات الرسول - موقع الارتباط على الناقل )
٨٨. تعمل الثقوب التي توجد في الغشاء النووي على انتقال .....
- ( السيتوبلازم )
٨٩. يوجد جين الهيموجلوبين على الكروموزوم رقم .....
- ( ٨ - ٩ - ١٠ - ١١ )
٩٠. استطاع العالم .....
- ( إنتاج جين صناعي وإدخاله داخل البكتيريا )
- ( واطسون - فرانكلين - خورانا - جريفت )

٦٢. تنتج الأجسام المضادة بواسطة .....
- ( الخلايا البانية البلازمية - الخلايا التائية - الخلايا البلعمية الثابتة - الخلايا البانية البلازمية - الخلايا البلعمية الدوارة )
٦٤. يعمل الجسم المضاد IGN في الجسم بطريقة .....
- ( التعادل - التلازن - الترسيب - التحلل )
٦٥. تفرز الخلايا .....
- ( مواد مولدة للالتهاب - الصارية والتائية - البانية والتائية - الصارية والبانية - البلعمية والليمفاوية )
٦٦. يطلق على المناعة المكتسبة .....
- ( المناعة غير المتخصصة - المناعة الفطرية - خط الدفاع الثاني - خط الدفاع الثالث )
٦٧. تقوم الخلايا البلعمية الكبيرة بابتلاع الأنثيجين وتفكيكه عن طريق .....
- ( الإنترفيرونات - الإنترليوكينات - إنزيمات الليسوسومات - المستقبلات المناعية )
٦٨. تقوم الخلايا التائية المساعدة المنشطة بإطلاق مواد بروتينية تسمى .....
- ( الإنترفيرونات - الكيموكينات - الإنترليوكينات - الأنثيجينات )
٦٩. تحتوى الدموع على .....
- ( إنترليوكينات - مواد محللة للميكروب - خلايا طبيعية قاتلة - مواد مولدة للالتهاب )
٧٠. يثقب غشاء الجسم الغريب عند ارتباطه بالخلايا التائية السامة بواسطة إفراز .....
- ( بروتين البيرفورين - السموم الليمفاوية - بروتين السيتوكينين - بروتينات الليمفوكينات )
٧١. إفراز بروتينات .....
- ( تثبط الاستجابة المناعية أو تعطلها - البيرفورين - السيتوكينين - الليمفوكينات - جميع ما سبق )
٧٢. الخلايا المسنولة عن الاستجابة المناعية الثانوية هي .....
- ( الخلايا البانية - الخلايا التائية - خلايا الذاكرة - الخلايا البلازمية )
٧٣. لا يحتوى الكروموسوم على .....
- ( سيتوزين - يوراسيل - جوانين - أدنين )
٧٤. تلعب البروتينات التركيبية غير الهستونية دوراً في .....
- ( الارتباط بمجموعات الفوسفات لجزيء DNA - تحديد شفرة DNA المستخدمة في بناء RNA - التنظيم الفراغى لجزيء DNA - لا شئ مما سبق )
٧٥. كل الإنزيمات التالية توجد في البكتيريا عدا إنزيم .....
- ( الربط - البلمرة - دى أكسى ريبونوكليز - اللولب )
٧٦. يتم تضاعف DNA وهو على صورة .....
- ( كروماتين - صبغى - نيوكليوسومات - جميع ما سبق )
٧٧. تستخدم مادة الكولشيسين في إحداث الطفرات .....
- ( المشيحية - التلقائية - الجينية - المستحدثة )

٤٩. يتكون الجهاز العظمى في .....
- ( من مراحل تكوين الجنين - المرحلة الأولى - المرحلة الثانية - المرحلة الثالثة - مرحلة الطفولة )
٥٠. يعمل إنزيم الهيالورونيداز في .....
- ( الحويصلات المنوية - الجسم الأصفر - قناة فالوب - الخصيتين )
٥١. عند التعقيم الجراحى يربط قناتى فالوب فيؤدى ذلك إلى .....
- ( عدم نضج البويضة - توقف الدورة الشهرية - عدم حدوث إخصاب - جميع ما سبق )
٥٢. من الوسائل المناعية التركيبية التي توجد في النبات بصورة دائمة .....
- ( التيلوزات - الجدار الخلوى - الصمغ - التراكيب المناعية الخلوية )
٥٣. من أمثلة وسائل المناعة التركيبية في النباتات الناتجة كاستجابة للإصابة بالميكروبات .....
- ( ترسيب الصمغ - الجدار الخلوى - إنتاج الفينول - إنتاج الجلوكوزيدات )
٥٤. من أمثلة المناعة البيوكيميائية في النباتات .....
- ( تكوين الفلين - إنتاج الفينولات - ترسيب الصمغ - تكوين التيلوزات )
٥٥. تتكون .....
- ( نتيجة تعرض الجهاز الوعائى في النباتا للقطع أو الغزو من الكائنات المرضية )
- ( الصمغ - الأشواك - التيلوزات - التراكيب المناعية الخلوية )
٥٦. من المركبات الكيميائية السامة التي تعمل كمواد واقية للنبات ويدخل في تركيبها أحماض أمينية غير بروتينية .....
- ( الفينولات - الجلوكوزيدات - الكاتافين - جميع ما سبق )
٥٧. المواد التي لا تعمل إلا في وجود الأجسام المضادة هي .....
- ( الكيموكينات - الإنترليوكينات - المتممات - الإنترفيرونات )
٥٨. يتم نضج الخلايا الليمفاوية الجذعية إلى الخلايا التائية T وتمايزها إلى أنواعها المختلفة في .....
- ( نخاع العظام - الغدة التيموسية - الطحال - اللوزتان )
٥٩. أعلى نسبة من الخلايا الليمفاوية في الجسم هي .....
- ( الخلايا البانية - الخلايا التائية - الخلايا القاتلة الطبيعية - الخلايا الملتهمة )
٦٠. الخلايا الليمفاوية التي تهاجم الخلايا السرطانية والأعضاء المزروعة هي .....
- ( الخلايا التائية المساعدة - الخلايا التائية السامة - الخلايا التائية المثبطة - جميع ما سبق )
٦١. تتحول الخلايا .....
- ( إلى خلايا بلعمية عند الحاجة - القاعدية - الحامضية - المتعادلة - وحيدة النواة )
٦٢. تنتج الإنترفيرونات بواسطة .....
- ( الخلايا التائية المنشطة - الخلايا البلعمية الكبيرة - خلايا الأنسجة المصابة بالفيروس - جميع ما سبق )

## السؤال الثاني ماذا يحدث في الحالات الآتية :

١- حدوث التواء في مفصل الركبة .

قد يؤدي ذلك إلى حدوث تمزق للأربطة .

٢- غياب السائل الزلالي من مفصل الركبة .

يحدث احتكاك بين الغضاريف التي تكسو العظام عند مفصل الركبة مما يؤثر على حركته .

٣- عدم وجود أوتار في جسم الإنسان .

لن ترتبط العضلات بالعظام وبالتالي تصعب الحركة عند انقباض وانبساط العضلات .

٤- ينفض الحلاق قدرته على الالتصاق بالذمامة أثناء حركته الدورانية .

لا يستطيع النبات المتسلق ان يستقيم رأسيًا ثم يذبل المحلاق ويموت

٥- ضمور عضلات الجسم مع سلامة الجهاز العصبي والهيكل .

تتعطل الحركة في الكائن الحي لان الحركة تتم بالتعاون والتناسق بين اجهزه ثلاثه رئيسيه هي :-

الجهاز العضلي - الجهاز العصبي - الجهاز الهيكلي .

٦- غياب انزيم الكولين استيريز من منطقه التشابك العصبي العضلي .

يستمر تأثير الاستيل كولين لان انزيم الكولين استيريز مسنول عن تحطيمه وبالتالي تستمر العضله في حاله انقباض لعدم زوال المؤثر الاول وتظل العضله تحت تأثير هذا المؤثر ولا تستطيع الاستجابة لاي مؤثر اخر

٧- غياب ايونات الكالسيوم من الالياف العضلية .

لا تخرج النواقل العصبية من الحويصلات في التشابك العصبي- العضلي ولا ينتقل السيل العصبي ولا تتكون الروابط المستعرضة وبالتالي لا تنقبض العضله .

٨- غياب الروابط المستعرضة من الليزمة العضلية .

لم تنقبض العضلة لان دور الرابط المستعرضة هي سحب خيوط الأكتين في اتجاه بعضها فتنبض العضلة .

٩- انقباض العضله بصوره متتاليه وسريعه .

حدث تعب واجهاد للعضله وبالتالي توقفها عن الحركة حتي تصل للعضله كميه كافيه من الاكسجين لتقوم بعملية التنفس الخلوي .

١٠- نقص إفراز هرمون FSH بذكر الإنسان بدرجة كبيرة .

لن تتكون الايبيبيبات المنوية وبالتالي لن تتكون الحيوانات المنوية في الخصية .

١١- حقن شخص بالهرمون القابض للأوعية الدموية .

يرتفع ضغط الدم كما تقل كمية البول لان هذا الهرمون يعمل على إعادة امتصاص الماء في النفرون .

١٢- حقن امرأة حامل في شهرها الخامس بخلصة الفص الخلفي للغدة النخامية .

حدث الإجهاض نتيجة زيادة تقلصات عضلات الرحم استجابة لهرمون الأوكسيتوسين .

١٣- إزالة الفص الخلفي من الغدة النخامية لامرأة حامل .

حدث خلل في إفراز هرمونات الجزء العصى للغدة النخامية في الشهر الأخير من الحمل .

تعسر عملية الولادة واحتمالية عدم نزول الحليب من الغدد اللبنية وذلك لنقص إفراز الهرمون المنبه لعضلات الرحم (الأوكسيتوسين)

١٤- انخفاض إفراز الغدة جارات الدرقيّة .

يصاب الإنسان بتشنجات عضلية مؤلمة .

١٥- حدوث تورم لقشرة الغدة الكظرية .

حدث ضمور بالغدة التناسلية وخلل في الصفات الجنسية الثانوية بالإضافة إلى حدوث خلل في باقي إفرازات هرمونات قشرة الغدة الكظرية وهي الهرمونات السكرية والهرمونات المعدنية .

١٦- تناقص خلايا بيتا في جزر لانجرهانز في البنكرياس .

نقص إفراز هرمون الأنسولين مما يؤدي لحدوث خلل في أيض كل من الجلوكوز والدهون في الجسم فترتفع نسبة السكر في الدم عن المعدل الطبيعي مما ينتج عنه إصابة الفرد بمرض البول السكري .

١٧- لدغ بعوضة الأنوفيليس إنسان مصاب بالملاريا ؟

ينتقل إليها الأطوار المشيجية لتكمل الدورة الجنسية في معدة البعوضة .

١٨- ارتفاع درجة الحرارة في بركه يعيش بها الامبيا .

تفرز الامبيا حولها غلاف من الكيتين لحمايتها من الحرارة المرتفعة وعادة ما تنقسم بداخله بالانشطار الثنائي المتكرر لانتاج العديد من الامبيبات الصغيرة التي تتحرر عند تحسن الظروف .

١٩- إخصاب كل البيض الناتج من ملكة نحل العسل .

ينتج اناث محتواها الصبغى ٢ن وتتحول بعد ذلك الي ملكات او شغالات حسب نوع الغذاء .

٢٠- تعرض بيضات الضفادع لصدمة كهربيه .

تتضاعف صبغيات البويضه وتنقسم الي فرد جديد فيما يعرف بالتوالد البكري الصناعي .

٢١- زراعته الانسجه النباتيه في الماء بدلا من لبن جوز الهند .

لا تنمو الانسجه النباتيه الي افراد جديده لغياب الهرمونات النباتيه والعناصر الغذائية اللازمة للنمو .

٢٢- جفاف بركه بها طحلب الاسبيروجيرا .

يلجأ طحلب الاسبيروجيرا الي التكاثر الجنسي بالاقتران وتتكون اللاقحة الجرثومية التي تحاط بجدار سميك لحمايتها من الظروف غير المناسبة وتبقى ساكنه حتي تتحسن الظروف .

٢٣- لدغ انثى بعوضة الأنوفيليس لإنسان مصاب بمرض الملاريا .

تنتقل الاطوار المشيجية للبلبلا زموديوم من الانسان المريض الي البعوضه حيث يتم اندماج الامشاج وتكوين اللاقحه في معدة البعوضه ثم تتحول اللاقحه الي طور حركي يخترق جدار المعده

فينقسم ميوزيا مكونا كيس البيض الذي تنقسم نواته ميتوزيا بالتجرثم وتنتج العديد من الاسبوروزويتات التي تتحرر وتتجه الي الغدد اللعابية استعدادا لاصابه اسنان جديد

٢٤- تفتت كرات الدم الحمراء المصابه بميروسيتات بلازموديوم الملاريا .

تتحرر الميروسيتات بأعداد هائله (كل يومين) بعد تفتت كريات الدم المصابه فيظهر علي المصاب اعراض حمي الملاريا (كارتفاع درجه الحراره -العرشه-العرق الغزير).وتتحول الميروسيتات بعد ذلك الي اطوار مشيجيه تنتقل من دم المصاب الي البعوضه .

٢٥- احيط نبات الفوجير بجو جاف مده طويله .

هناك اكثر من احتمال-

- عدم انبات الجراثيم: لان انباتها يحتاج الي تربه رطبه وهكذا لا يتكون النبات المشجي فلا تكتمل دوره الحياه

- لا يتم التلقيح والاصحاب : لان السابحات الذكرية المهديه يلزمها ان تسبح في ماء التربيه لتصل الي الارشيجونه الناضجه حيث تخصب البويضه الموجوده داخلها .

٢٦- تحلل النبات المشيجي بعد الاخصاب مباشره .

لا تكتمل دوره الحياه لان النبات الجرثمي الصغير يعتمد في بدايه حياته علي النبات المشيجي في الحصول منه علي الماء والغذاء اللازم لتكوينه .

٢٧- احاطه البويضه في النباتات اثناء تكويتها احاطه تامه بغلافها .

لن يتكون النقيير وبالتالي لن يحدث اخصاب البويضه

٢٨- تحدث عمليه الاندماج الثلاثي داخل الكيس الجنيني .

لن تتكون نواة الاندوسيرم التي تنتج من اندماج نواتا الكيس الجنيني مع احد النواتين الذكريتين وبالتالي لن يتكون نسيج الاندوسيرم اللازم لتغذية الجنين في مراحل نموه الاولى .

٢٩- درش مجلول مائي او اثري لخلاصه حبوب اللقاح علي مياهم بعض الازهار .

تتكون ثمار بدون بذور ((الثمار العذري)) لانها تكونت بدون عمليه الاخصاب حيث يثير المبيض لتكوين ثمرة بدون اخصاب .

٣٠- عند تلقيح الزهرة ولكنها لم تخصب .

- يثار المبيض ويكون ثمرة بدون اخصاب( اثمار عذري)

٣١- بعد نضج الثمار والبذور في النباتات الجويه .

يتعطل نمو النبات او يموت نتيجة استهلاك الغذاء المدخر وتثبيط الاوكسينات .

٣٢- إزالة البروستاتا بعملية جراحية .

يصبح الرجل عقيما لغياب سائل البروستاتا القلوي الذي يعمل في معادله الوسط الحمضي في قناه مجري البول مما يسبب الضرر بالحيوانات المنوية .

٣٣- غياب القطعه الوسطي من الحيوان المنوي .

لا يتحرك الحيوان المنوي بسبب عدم وجود القطعه الوسطي التي تحتوي علي الميتوكوندريا المسنولة عن انتاج الطاقه وبالتالي يصبح الحيوان المنوي غير قادر علي اخصاب البويضه .

**السؤال الثالث** ما مدى صحة العبارات التالية :

- ١- توجد المفصلات الغضروفية بين جميع فقرات العمود الفقري .
- ٢- لا يصل الدم إلى الغضاريف .
- ٣- توجد المناطق شبه المضنية فى العضلات الملساء .
- ٤- كل الهرمونات تتكون من مواد بروتينية .
- ٥- تسمى الغدة فوق الكلوية بغدة الانفعال .
- ٦- يمكن أن تتكون الثمار لحدوث عملية التلقيح فقط .
- ٧- يتم التكاثر الجنسى أحياناً بواسطة الخلايا الجسدية .
- ٨- يتلاشى النقيير بمجرد إخصاب البويضة فى النبات .
- ٩- تستطيع أنثى الإنسان برغم انسداد قناة فالوب .
- ١٠- تتحكم الخلايا TS فى عمل الخلايا الليمفاوية .
- ١١- تعتبر عظام الطرف العلوى عظام مسطحة .
- ١٢- تستطيع الخلايا الليمفاوية الجذعية القضاء على الميكروبات .
- ١٣- للجزء المتغير من الجسم المضاد القدرة على الارتباط بالأنتيجينات .
- ١٤- يمكن لإنزيم دى أكسى ريبونيوكليز كسر الروابط التساهمية والهيدروجينية .
- ١٥- كل الفيروسات تحتوى مادتها الوراثية على RNA .
- ١٦- الميتوكوندريا والبلاستيدات الخضراء لا تحتوى على نيوكلوسومات .
- ١٧- جميع الأحماض الأمينية تحتوى على مجموعة الألكيل .
- ١٨- أقل عدد من جزيئات الناقل فى الخلية حوالى ٢٠ حمض .
- ١٩- الصبغى رقم ٩ أكبر حجماً من الصبغى الحامل للهيموفيليا .
- ٢٠- تقاس درجة تهجين DNA بمقدار الحرارة اللازمة لفصل الشريطين .

- ٤٥- تغير ترتيب القواعد النيتروجينية لجين احد الصبغيات يؤدي الى ظهور انزيم جديد ثم صفة وراثية جديدة اى طفرة جينية
- ٤٦- اختفاء انزيمات اللولب من الخلايا الجسمية لطفل صغير موت الطفل لان اختفاء انزيمات اللولب من خلايا جسم الطفل يؤدي الى توقف تضاعف حمض DNA بخلايا الطفل وعدم انقسام الخلايا
- ٤٧- اختفاء مجموعة انزيمات الربط من الخلايا الجسمية بشخص بالغ تنتج تغيرات خطيرة فى بروتينات الخلية وذلك نتيجة تلف جزيئات DNA وحدوث تغير فى المعلومات الموجودة به حيث تقوم انزيمات الربط باصلاح ما يتلف من جزيئات DNA
- ٤٨- تعرض DNA للاشعاع او للمركبات الكيميائية او للجراحة يتعرض DNA للتلف حيث يحدث تغير فى المعلومات الموجودة به مما ينتج عنه تغيرات خطيرة فى بروتينات الخلية واذا لم يتم اصلاحه يؤدي الى حدوث طفرة جينية
- ٤٩- تملك احدى القواعد النيتروجينية على احد شريطى DNA تقوم انزيمات الربط بالتعرف على موضع التلف واصلاحه باستبدال النيوكليوتيدة التى بها القواعد النيتروجينية التالفة بنيوكليوتيدة اخرى تتزاوج مع النيوكليوتيدة الموجودة على الشريط المقابل
- ٥٠- عدم قدرة بكتيريا الايكولى على تكوين انزيمات معدلة تقوم انزيمات القصر بالتعرف على DNA وهضمه الى اجزاء صغيرة وبالتالي يتم التخلص من البكتيريا .
- ٥١- معالجة النمة النامية لنبات ما بكاراكترال او مادة الكوريشين ضمر خلايا القمة النامية للنبات وموتها لتتجدد تحتها انسجة جديدة تحتوى خلاياها على عدد مضاعف من الصبغيات
- ٥٢- حدوث تضاعف صبغى فى ثمرة نبات ما تصبح اكبر حجماً وذات مذاق حلو وخالية من البذور وذلك لان جين الصفة يكون ممثل بعدد اكبر فيكون تأثيره اوضح
- ٥٣- اختفاء الذيل عديد الادينين من جزيء mRNA تحلل mRNA بواسطة الانزيمات الموجودة فى السيتوبلازم لأن الذيل عديد الادينين يعلم على حماية mRNA من التحلل بواسطة الانزيمات الموجودة فى السيتوبلازم .
- ٥٤- غياب الجينات المكونة لجزيء rRNA من خلايا احد الاجنة لا تتكون الريبوسومات فى الخلية وبالتالي لا يتكون البروتين ويتوقف تضاعف الخلايا فيتوقف النمو ويموت الجنين .
- ٥٥- إدخال جين هرمون النمو من فار من النوع الكبير او من انسان الى فار من النوع الصغير ينمو الفار الصغير ويصبح ضعف حجمه الطبيعى وتنتقل هذه الصفة الى أجياله التالية .
- ٥٦- تبادل أجزاء بين صبغين غير متماثلين أثناء انقسام الخلايا التسانسية يؤدي ذلك إلى تغيير ترتيب الجينات على الصبغيات فيما يعرف بطفرة فى تركيب الصبغى فتؤدي إلى ظهور صفات وراثية جديدة .

- ٣٤- عدم حدوث الانقسام الميوزي الثانى فى مرحلة نضج البويضه. لن تتكون البويضه (ن) وبالتالي لم تتم عليه الاخصاب عند حدوث التزاوج.
- ٣٥- افراز كميات غير كافية من الهرمونين LH وFSH عند امرأة متزوجة. لن تحدث الدورة الشهرية ولن يتم الحمل وذلك لعدم نضج حويصلة جراف وبالتالي لن يتم انطلاق بويضه جديد من احد المبيضين بالإضافة الى عدم افراز هرموني الاستروجين والبروجسترون وبالتالي لن يحدث انماء لبطانه الرحم ولم يتم تغذيتها بالاوغيه الدمويه وكذلك عدم زيادتها فى السمك واعادها لاستقبال الجنين .
- ٣٦- ضمور الجسم الاصفر فى الشهر الثانى من الحمل. يتوقف افراز هرمون البروجسترون الذي يعمل على تماسك بطانه الرحم وتثبيت الجنين مما يؤدي الى تهدم بطانه الرحم وحدوث الاجهاض.
- ٣٧- ازاله المبيضين من امرأة حامل فى شهرها الاول. يحدث اجهاض للمرأة لعدم تواجد الجسم الاصفر وبالتالي توقف افراز هرمون البروجسترون الذي يعمل على تماسك بطانة الرحم وتثبيت الجنين مما يؤدي الى تهدم بطانه الرحم.
- ٣٨- ربط الوضائى الثانيلان فى الجهاز التناسلى الذكري. يصبح الرجل عقيماً لعدم خروج الحيوانات المنوية من خلالهما لاخصاب البويضة.
- ٣٩- مهاجمة خيوط الغزل الضرى لنبات. يقوم النبات بإحاطة خيوط الغزل الفطرى بغلاف عازل يمنع انتقاله من خلية لأخرى .
- ٤٠- إصابة النباتات ببكتيريا سامة. يقوم النبات بإفراز مركبات كيميائية سامة مثل الفينولات والجلوكوزيدات التى تقتل البكتيريا أو تثبط نموها وكذلك يتم تحفيز النبات لتكوين بروتينات لها القدرة على التفاعل مع السموم التى تفرزها هذه البكتيريا وتحوها الى مركبات غير سامة للنبات .
- ٤١- تناقص اعداد الخلايا الثانية المساعدة T<sub>H</sub>1 يقل إنتاج الخلايا البانية B للأجسام المضادة ، ويقل تنشيط الأنواع الأخرى من الخلايا الثانية مما يقلل من استجابتها المناعية .
- ٤٢- ارتباط الأجسام المضادة بالسموم. تتكون مركبات من الأجسام المضادة والسموم فتقوم هذه المركبات بتنشيط المتممات فتتفاعل مع السموم تفاعلاً متسلسلاً مما يؤدي إلى إبطال مفعولها كما يساعد على التهامها من قِبل الخلايا البلعمية.
- ٤٣- غياب خلايا الذكورة. لن يستطيع الجهاز المناعى الاستجابة لنفس الكائن الممرض الذى سبق وأصاب الفرد بصورة سريعة فتكون الاستجابة المناعية بطيئة مما يؤدي إلى ظهور أعراض المرض وانتشار العدوى فى الجسم بصورة واسعة .
- ٤٤- معاملة RNA او البروتين بإنزيم دى أكسى ريبونيوكليز لا يتأثر اى منهما لعدم تأثير هذا الانزيم عليهم اذ انه يحلل DNA فقط

## السؤال الرابع اكتب المفهوم العلمي

- ١- نوع من الأنسجة الدعامية توجد فى الخلايا اللبغية والحجرية.
- ٢- عظمة مفلطحة ومدببة من أسفل وجزءها السفلى غضروفى .
- ٣- عظمة باطنية رفيعة تتصل بنتوء على عظمة لوح الكتف .
- ٤- عظمة مقوسة تنحنى إلى أسفل وتتصل من الخلف بجسم الفقرة وتكونها المستعرض .
- ٥- عظمة يوجد بطرفها العلوى تجويف يستقر فيه عظمة العضد.
- ٦- نوع من الأنسجة الضامة لا تحتوى خلاياها على أوعية دموية
- ٧- مفاصل تربط عظام الجمجمة ببعضها من خلال أطرافها المسننة .
- ٨- مفاصل لا تسمح بالحركة للعظام التى تربطها .
- ٩- مفاصل مرنة تتحمل الصدمات .
- ١٠- نسيج ضام قوى يربط العضلات بالعظام عند المفاصل .
- ١١- وتر يصل العضلة التوأمية بعظمة الكعب .
- ١٢- مجموعة من الألياف العضلية محاطة بغشاء .
- ١٣- مناطق فى اللييفة العضلية تنشأ من تراكم خيوط الميوسين.
- ١٤- اتصال خلية عصبية بعدد من الألياف العصبية ( تقدر من ٥-١٠٠ )
- ١٥- الغشاء الخلوى المحيط بسيتوبلازم الخلية ( الليفة ) العضلية .
- ١٦- هرمون يفرزه الفص الأمامى للغدة النخامية ويسيطر على تمثيل الغذاء .
- ١٧- هرمون يساعد على تكوين كل من الأنبيبات المنوية والحيوانات المنوية فى الخصية .
- ١٨- منطقة بالمخ تحتوى على خلايا عصبية مفرزة لهرمونات الجزء العصبى للغدة النخامية .
- ١٩- هرمون يعمل على تقليل كمية البول عن طريق إعادة امتصاص الماء فى النفرون .
- ٢٠- هرمون يؤثر على معدل الأيض الأساسى ويتحكم فيه .
- ٢١- هرمون ينظم نسبة الكالسيوم فى الدم ويفرز من الغدد جارات الدرقية .
- ٢٢- مجموعة خلايا غدية صغيرة تحافظ على ثبات مستوى السكر فى الدم .
- ٢٣- خلايا فى الخصية تفرز هرمون الأندروستيرون .
- ٢٤- هرمون يسبب ارتخاء الارتفاق العانى للمرأة لتسهيل عملية الولادة
- ٢٥- هرمون يفرز من الغشاء المخاطى للأمعاء .
- ٢٦- الواقى الخارجى للخلايا النباتية .
- ٢٧- نموات زائدة تنشأ نتيجة تمدد الخلايا البارانشيمية المجاورة لقصبية الخشب فى النبات وتمتد داخلها من خلال النقر.
- ٢٨- نوع من الأحماض الأمينية لا تدخل فى بناء البروتين وتعمل كمواد واقية للنبات .
- ٢٩- قدرة النبات على التخلص من النسيج المصاب لمنع انتشار الكائن الممرض إلى أنسجته السليمة .

- ٣٠- نوع من خلايا الدم البيضاء المتخصصة فى النقاط الميكروبات أو الخلايا الجسدية المسنة وتفتيتها إلى مكوناتها الأولية .
- ٣١- عُقد صغيرة من الخلايا الليمفاوية تتجمع على شكل لطع .
- ٣٢- نوع من الخلايا الليمفاوية تختص بالتعرف على الميكروبات والالتصاق بها ، ثم إنتاج أجسام مضادة لها لتقوم بتدميرها .
- ٣٣- نوع من الخلايا الليمفاوية الثانية تختص بتنشيط الأنواع الأخرى من الخلايا الثانية وتحفزها للقيام باستجاباتها المناعية .
- ٣٤- نوع من خلايا الدم البيضاء تتحول إلى خلايا بلعمية عند الحاجة.
- ٣٥- نوع من الخلايا البلعمية تحمل المعلومات التى تم جمعها عن الميكروبات والأجسام الغريبة .
- ٣٦- بروتينات وإنزيمات خاصة تنشط ارتباط الأجسام المضادة مع الأنتيجينات .
- ٣٧- مادة تفرزها الأذن تعمل على قتل الميكروبات التى تدخل الأذن.
- ٣٨- استجابة فورية لأنسجة الجسم المصابة بجسم غريب كالبكتيريا .
- ٣٩- مواد كيميائية توجد على سطح الميكروبات تتعرف عليها الخلايا الليمفاوية البائية B وتلتصق بها .
- ٤٠- بروتينات تفرزها الخلايا الثانية المساعدة المنشطة وتعمل على تنشيط الخلايا البائية والثانية والخلايا القاتلة الطبيعية.
- ٤١- بروتين يعمل على تثقيب غشاء الجسم الغريب عند ارتباط الخلايا الثانية السامة بالانتيجين الموجود على سطحه الخارجى.
- ٤٢- نوع من الخلايا يتكون أثناء الاستجابة المناعية الأولية ويعيش لعشرات السنين .
- ٤٣- خلايا وحيدة متحورة للنمو مباشرة إلى نباتات كاملة .
- ٤٤- من الأوليات الجرثومية التى تتطفل على الإنسان وأنثى بعوضة الأنوفيليس .
- ٤٥- أشكال مغزلية دقيقة فى دورة حياة البلازموديوم تعتبر هى الاطوار المعدى للإنسان .
- ٤٦- الطور الذى يتلاشى فى دورة حياة السرخسيات .
- ٤٧- ساق تحورت أوراقها لتكون الأجزاء الزهرية المختلفة .
- ٤٨- المحيطان الخارجيان فى أزهار معظم نباتات الفلقة الواحدة كالتبويب والبصل .
- ٤٩- ثمرة وحيدة البذور التحمت فيها أغلفة المبيض مع أغلفة البويضة .
- ٥٠- زوائد تناسلية ذكورية تنمو على مقدمة السطح السفلى للطور المشيجى لنبات الفوجير .
- ٥١- إنباء نسيج حى فى وسط غذائى شبه طبيعى حتى ينتج فرد جديد .
- ٥٢- خلايا كبيرة الأنوية (٢ن) تملأ أكياس نبات الزنبق فى المتك .
- ٥٣- نسيج غذائى يحيط بالكيس الجنينى فى بويضات مغطاة البذور
- ٥٤- تنشيط مبيض الزهرة بأندول حمض الخليك للحصول على ثمرة خالية من البذور .
- ٥٥- الخلايا الأربعة لنتاجة من انقسام الخلايا الجرثومية الأم ميوزياً أثناء تكوين حبوب اللقاح .

- ٥٦- خلايا تفرز سائل يغذى الحيوانات المنوية داخل الخصية .
- ٥٧- غشاء خارجى يحمى الجنين ويساهم فى تكوين المشيمة .
- ٥٨- توأم يولد ملتصق فى مكان ما بالجسم وقد يتم الفصل بينهما جراحيا
- ٥٩- جسم خلوى يفرز هرمون الأستروجين وينضج البويضة.
- ٦٠- أحد مراحل التكوين الجنينى التى يبدأ فيها تكوين الجهاز العصبى .
- ٦١- الخلايا المبطننة لكل أنببية منوية .
- ٦٢- كيس عضلى مرن يوجد بين عظام الحوض فى المرأة ومزود بجدار عضلى سميك قوى .
- ٦٣- الفترة الزمنية التى يتوقف فيها نشاط المبيضين عن إنتاج البويضات وتقل الهرمونات وتنكمش خلالها بطانة الرحم .
- ٦٤- تحرر البويضة من حويصلة جراف فى اليوم الرابع عشر من بدأ الطمث .
- ٦٥- كائنات حية لديها DNA من النوع الدائرى .
- ٦٦- تغير مفاجئ فى طبيعة بعض العوامل الوراثية يودى إلى تغير صفات معينة فى الكائن الحى .
- ٦٧- إنزيم يقوم بإضافة نيوكليوتيدات جديدة لجزئ DNA عند تضاعفه .
- ٦٨- طفرات تحدث نتيجة لتغير كيميائى فى تركيب الجين .
- ٦٩- سلالة بكتيرية تسبب التهاب رئوى للفنان ولا تسبب موتها .
- ٧٠- إنزيمات تتعرف على عيوب DNA وتعمل على إصلاحه .
- ٧١- بروتينات تلعب دوراً رئيسياً فى التنظيم الفراغى لجزئ DNA فى داخل النواة .
- ٧٢- إنزيم يوقف عمليات التحول البكتيرى .
- ٧٣- أول من استخدم تقنية حيود أشع إكس فى الحصول على صور DNA .
- ٧٤- مركبات تضم كلاً من الأدينين والجوانين وتحتوى على حلقتين .
- ٧٥- نوع من البروتينات تحدد ما إذا كانت شفرة DNA ستستخدم لبناء RNA أم لا .
- ٧٦- مجموعة غير متجانسة من البروتينات التركيبية والتنظيمية التى تدخل فى تشكيل الكروماتين .
- ٧٧- كل كمية DNA الموجودة فى نواة الخلية .
- ٧٨- عنصر يدخل فى تركيب DNA ولا يدخل فى تركيب البروتين .
- ٧٩- كائنات حية لا يوجد فيها DNA فى صورة صبغيات .
- ٨٠- الطفرة التى تظل متوارثة على مدى الأجيال المختلفة .
- ٨١- أحد عضيات الخلية التى تنتج فى النوية ويقوم بإنتاج البروتين .
- ٨٢- حمض نووى ريبوزى يحمل الأحماض الأمينية إلى الريبوسومات.
- ٨٣- شفرة وراثية تتكون من ثلاثة نيوكليوتيدات على شريط mRNA وتمثل شفرة حمض أمينى معين .
- ٨٤- كودون يقع فى نهاية mRNA يتسبب فى إيقاف عملية تخليق البروتين
- ٨٥- تفاعل كيميائى يحدث فى الريبوسومات وينتج عنه تكوين رابطة ببتيدية بين الحمض الأمينى والحمض الذى يليه .
- ٨٦- البروتين الذى يرتبط بكودون الوقف بعد توقف عملية بناء البروتين

## السؤال الخامس ما أهمية كلاً من :

|  |  |
|--|--|
| الثقب العصبى                             | يمر من خلاله الحبل الشوكى فى العمود الفقرى   |
| المفاصل الزلالية                         | * مرنة تتحم الصدمات لأنها تحتوى على سائل مصلى أو زلالى يسهل من انزلاق الغضاريف التى تكسو أطراف العظام .<br>* تسمح بسهولة حركة العظام حيث ، يغطى سطح العظام المتلامسة فى هذه المفاصل طبقة رقيقة من مادة غضروفية شفافة والعظام ملساء مما يسمح بحركة العظام بسهولة وبأقل احتكاك |
| الخلايا البينية فى الهيدرا               | تنمو منها البراعم لتكوين أفراد جديدة   |
| التكاثر بالجراثيم                        | سرعة الإنتاج - تحمل الظروف القياسية - الانتشار لمسافات بعيدة   |
| لبن جوز الهند فى زراعة الأنسجة           | وسط غذائى مناسب يحتوى على جميع الهرمونات النباتية والعناصر الغذائية اللازمة لنمو النباتات  |
| النيتروجين السائل فى عملية زراعة الأنسجة | حفظ الأنسجة المختارة للزراعة لتبريدها لمدة طويلة مع الإبقاء على حيويتها لحين زراعتها وبالتالي يمكن التحكم فى وقت زراعتها .   |
| الأدمة الخارجية لسطح النبات              | * تمثل حائط الصد الأول فى مقاومة مسببات المرض بما تمتلكه من تركيب مناعية ، مثل الطبقة الشمعية والشعيرات والأشواك   |
| خلايا الدم البيضاء وحيدة النواة          | * تدمير الأجسام الغريبة .<br>* تتحول إلى خلايا بلعمية عند الحاجة ، والتى تلتهم بدورها الكائنات الغريبة عن الجسم .  |
| سلسلة المتممات (المكملات)                | * تقوم بتحليل أغلفة الأنتيجينات وإذابة محتوياتها فيسهل التخلص منها بواسطة الخلايا البلعمية .<br>* تتفاعل مع السموم تفاعلاً متسلسلاً يؤدي إلى إبطال مفعولها كما يساعد على اتهامها من قبل الخلايا البلعمية .   |
| بروتين البيرفورين (البروتين صانع الثقوب) | يعمل على تنقيب غشاء الجسم الغريب أو الميكروب عند ارتباط الخلايا التائية السامة به  |

|   |  |
|---|--|
| النواة الأنوبية                               | اختراق الميسم والقلم حتى موضع النقيب فى المبيض لتمر من خلالها النواتان الذكريتان لحدوث الإخصاب المزوج .  |
| أنول حمض الخليك                               | يذاب فيه حبوب اللقاح المطحونة لرشها على مياسم الأزهار لتنبية المبيض لتكوين الثمرة بالإثمار العذرى  |
| الحوصلة المنوية                               | تفرز سائل قلووى يحتوى على سكر فركتوز لتغذية الحيوانات المنوية  |
| غثا كوبر وغدة البروستاتا                      | تفرزان سائل قلووى يمر فى قناة مجرى البول ( قبل مرور الحيوانات المنوية مباشرة ) فيعادل وسطها الحمضى ليصبح وسطاً مناسباً لمرور الحيوانات المنوية   |
| الإنترفيرونات                                 | هى بروتينات توقف تضاعف الفيروسات وخاصة التى محتواها RNA مثل شلل الأطفال والإنفلونزا حيث تمنع RNA الفيروسى من التضاعف داخل الخلية السليمة .   |
| DNA الذى لا يمثل شفرة                         | - يعتقد أنه يعمل على احتفاظ الصبغيات بتركيبها<br>- يمثل إشارات للمناطق التى يبدأ عندها بناء mRNA ( الرسول ) وتعتبر هذه المناطق هامة فى بناء البروتين   |
| - غاز الخردل - مادة الكولشيسين - حمض النيتروز | مواد أو مركبات كيميائية تعامل بها النباتات لإحداث طفرات مستحدثة مثل التضاعف الصبغى   |
| المحفز  | يوجه إنزيم بلمرة mRNA إلى شريط DNA القالب فى الاتجاه 3' ← 5' الذى يبدأ منه نسخ mRNA  |
| النوية  | عضية داخل الخلية يتكون بداخلها الريبوسومات المسنولة عن بناء البروتين   |
| مضاد (مقابل) الكودون                          | موقع على tRNA تتزوج قواعده مع كودونات mRNA المناسبة عند مركب mRNA والريبوسوم حيث يحدث ارتباط مؤقت بين mRNA و tRNA مما يسمح للحمض الأمينى المحمول على tRNA أن يدخل فى المكان المحدد فى سلسلة عديد الببتيد |
| إنزيم النسخ العكسى                            | يعمل على بناء شريط DNA مفرد من شريط mRNA الذى يتكامل معه   |
| الخلايا الصارية                               | تنتج مادة الهستامين المسنولة عن خط الدفاع الثانى كاستجابة للالتهاب .   |

## السؤال السادس علل ما يأتى :

## ١-الدعامة الفسيولوجية مؤقتة اما التركيبية دائمة

وذلك لان الخلية تكتسب الدعامة الفسيولوجية عند امتصاصها للماء وتفقدتها عند فقدها للماء اما الدعامة التركيبية فتتمثل فى ترسيب مواد صلبة وقوية على جدران الخلية .

٢- ذبول وارتخاء النبات عند العطش الشديد وإذا ما رويت استعادت استقامتها

نتيجة العطش الشديد وفقد خلاياها الماء فإذا ما رويت دخل الماء الفجوة العصارية بالخاصية الازموزية فيضغط على البروتوبلازم ويدفعه ناحية الخارج ناحية الجدار الخلوى فيتمدد وتكتسب الخلية دعامة فسيولوجية

## ٣- وجود الأحمزة عند اتصال أطراف الحيوان بهيكله المحورى .

لتسهيل الحركة حيث يعمل الأحمزة على ربط الطرف العلوى والسفلى بالهيكل المحورى فى الإنسان .

٤- تحصل الغضاريف على الغذاء والأكسجين من خلايا العظام بالانتشار لأنها لا تحتوى على أوعية دموية .

٥- تسمح المفاصل الزلالية بحركة العظام التى تربطها بسهولة وبأقل احتكاك .

لأنه يغطى سطح العظام المتلامسة فى هذه المفاصل طبقة رقيقة من مادة غضروفية شفافة كما أن هذه العظام ملساء مما يسمح بحركة العظام بسهولة وبأقل احتكاك .

٦- مفصل الكتف من المفاصل واسعة الحركة ، بينما مفصل الكوع من المفاصل محدودة الحركة .

لأن مفصل الكتف يسمح بحركة العظام فى اتجاهات مختلفة ، بينما مفصل الكوع يسمح بحركة العظام فى اتجاه واحد فقط .

## ٧- قد يحدث تمزق للأربطة فى بعض الحالات .

حيث يتم ذلك عند حدوث التواء فى بعض المفاصل كما فى الرباط الصليبي فى مفصل الركبة أو عندما تفقد الأربطة مرونتها .

## ٨- حدوث إجهاد للعضلة

وذلك عند بذل العضلة لمجهود كبير فتستنفذ الاكسجين الموجود بها فتلجأ الى التنفس اللاهوائى فتحول الجلوكوجين المخزن بها الى جلوكوز والجلوكوز الى حمض لاكتيك فيحدث إجهاد للعضلة

## ٩- استقامة ساق نبات البسلة بالرغم من أنها ساق ضيقة

ذلك بسبب حركة الشد فى المحاليق حيث يدور المحلاق فى الهواء الجوى حتى يلمس جسم صلب فيلتف حوله بإحكام ثم ينمو المحلاق فى حركة لولبية فيقل طولة فيشد الساق ناحية الدعامة فتستقيم الساق رأسيًا

## ١٠- استمرار سير الدم فى الأوعية الدموية

بسبب العضلات الملساء المحيطة بجدران الاوعية الدموية

## ١١- انتشار المحلاق حول الدعامة

ذلك بسبب بطء نمو المنطقة الداخلية التى تلامس الدعامة وسرعة نمو المنطقة الخارجية التى لا تلامس الدعامة



١٢- تعتبر فرضية الخيوط المنزقة أشهر الفرضيات لتفسير انقباض العضلة ذلك لأنه اعتمد في تفسيره على انقباض العضلة على التركيب الدقيق لليفة العضلية وقارن بالمجهر الالكتروني لليفة عضلية في حالة انقباض واخرى في حالة انبساط

١٣- الإفراز في إفراز الغدة الدرقية لهرمون الثيروكسين يسبب نقص في وزن الجسم .

لأنه يؤدي إلى زيادة أكسدة الغذاء وبالتالي نقص في وزن الجسم .

١٤- ظهور علامات الذكورة على بعض الإناث البالغة .  
نتيجة لحدوث خلل بين توازن الهرمونات الجنسية المفترزة من قشرة الغدة الكظرية والهرمونات الجنسية المفترزة من الغدة المختصة .

١٥- تعتبر المشيمة في الإنسان من الغدد الصماء .  
لأن المشيمة ليس لها قنوات خاصة بها ولكنها تصب إفرازاتها من هرمون البروجسترون وهرمون الريلاكسين في الدم مباشرة .

١٦- شعور مريض السكر دائماً بالعطش .  
لأن ارتفاع نسبة الجلوكوز في البول يصاحبه إخراج كميات كبيرة من الماء .

١٧- يعمل البنكرياس على ثبات نسبة سكر الجلوكوز في الدم .  
تعرف جزر لانجرهانز بالخلية المنظمة للسكر .

لوجود خلايا ألفا وخلايا بيتا التي تفرز هرموني الجلوكاجون والأنسولين وكلا الهرمونين لهما علاقة مباشرة باستخدام السكر في الجسم وبالتالي الحافظ على المستوى الثابت للسكر في الدم والذي يبلغ حوالي ( ٨٠ - ١٢٠ ملليجرام / ١٠٠ سم<sup>٣</sup> ) .

١٨- تنقل النادرة على التكيف مع ظروف البيئة في الأفراد الناتجة من التكاثر الاجنسي

لأن الأفراد الناتجة من التكاثر اللاجنسي تكون صورة طبق الاصل من ابائها فلا تستطيع ان تتكيف مع ظروف البيئة ما لم تكن ابائها قد تكيفت مع هذه الظروف

١٩- لا يعتبر التبرعم انتشاراً ثنائياً

ذلك لأن انقسام النواة والسيتوبلازم في الانتشار الثنائي الى قسمين متماثلين اما في التبرعم الى قسمين غير متماثلين كما ان الفرد الابوي في الانتشار الثنائي ليس له وجود اما في التبرعم في الفرد الابوي موجود .

٢٠- وجود علاقة عكسية بين التجدد والرقى

ذلك لان التجدد في الفقاريات قاصر على التمام الجروح والاوعية الدموية اما التجدد في القشريات قاصر على تعويض الاجزاء المفقودة اما التجدد في الكائنات البدائية فصورة من صور التكاثر اللاجنسي

٢١- يختلف التوالد البكري في نحل العسل عن في حشرة النع

ذلك لان التوالد البكري في نحل العسل يعطى ذكور فقط تركيبها الصبغى (ن) اما التوالد البكري في حشرة المن فيعطى ذكور واثاث تركيبها الصبغى (٢ن) وهي ناشئة من خلايا جسمية .

٢٢- اللاقحة في طحلب الأيسبروجيرا ن وتعطى خيط جديد ن

ذلك بان اللاقحة ناتجة من اندماج خليتين بكل خلية ن وقبل انباتها وعند تحسن الظروف البيئية تنقسم ميوزيا

٢٣- تظهر اعراض حمى الملاريا على نوبات

ذلك لان الاعراض تظهر عند انفجار كرات الدم الحمراء وكرات الدم تتفجر مرة كل يومين

٢٤- تتميز دورة حياة نبات الفوجير بظاهرة تعاقب الاجيال

ذلك لأنه يتعاقب في دورة حياته طور جراثيمي يتكاثر لاجنسي عن طريق الجراثيم مع طور مشيجي يتكاثر جنسي عن طريق الامشاج

٢٥- يطلق على بعض الأزهار انها جالسة

ذلك لعدم احتوائها على عنق وتتصل مباشرة بالساق.

٢٦- حبه القمح شهرة لا بذرة.

ذلك لان فيها التحتت اغلفه البويضة معا اغلفه المبيض فتكونت ثمره بها بذره واحده تسمى حبه .

٢٧- لا يدخل أكثر من حيوان منوى لإخصاب البويضة .

لان بعد إخصاب البويضة تفرز غشاء يمنع دخول اي حيوان منوى آخر . يتضخم جدار الرحم ويصبح غديا بمجرد إخصاب البويضة .

لتكون الجسم الأصفر الذى يفرز البروجسترون الذى يعمل على زيادة سمك بطانة الرحم بالشعيرات الدموية .

٢٨- عدم حدوث التبييض في أنثى الإنسان خلال فترة الحمل .

لوجود هرمون البروجسترون المفرز من الجسم الأصفر ثم المشيمة طوال أشهر الحمل فيظل الرحم نامى فيمتنع التبييض .

٢٩- تعتبر المشيمة رئة وكلية للجنين .

ذلك لأنه يحصل من خلالها على الاكسجين ويتخلص من خلالها من غاز ثاني اكسيد الكربون والفضلات الضارة .

٣٠- ازالته المبيض قبل الشهر الرابع تؤدي الي حدوث اجهاض .

ذلك لان الجسم الاصفر يوجد داخل المبيض فعند ازالته يتوقف افراز البروجسترون فلا تتحمل بطانه الرحم الجنين فيحدث الاجهاض .

٣١- تتكون الحيوانات المنوية في ذكور نحل العسل بالانقسام الميتوزي .

ذلك لان ذكور نحل العسل تركيبها الصبغى ن حيث انها ناتجة من توالد بكرى وبذلك تحتوي على نصف المادة الوراثية فلا تحتاج الى تنصيف

٣٢- تكون جسم قطبي في بداية مرحلة النضج أثناء مراحل تكيرين البويضة .

لكي يخلص البويضة من نصف عدد الصبغيات .

٣٣- تضاف خلاصة حبوب اللقاح على مياهم بعض الأزهار

ذلك حتى ينشط المبيض ويكون ثمار بدون بذور ( حدوث إثمار عذرى صناعي )

٣٤- تتميز بعض النباتات بالحساسية المضربة

لأنها يفتتل النباتات بعض أنسجته الإصابة بالميكروب

لمنع انتشار الكائن الممرض من الأنسجة المصابة إلى الأنسجة السليمة للنبات وبالتالي يتخلص النبات من الكائن الممرض بموت النسيج المصاب .

٣٥- يلجأ الإنسان أحيانا إلى التزبية النباتية

لإنتاج سلالات نباتية مقاومة للأمراض والحشرات وبالتالي يمكن حماية ووقاية النباتات من الأمراض .

٣٦- لا تستطيع الخلايا الليمفاوية حيطة التكوين القضاء على الميكروبات

لان ليس لها قدرة مناعية حيث انها تحتاج ان تمر بعملية نضوج وتمايز في الأعضاء الليمفاوية لتتحول بعدها إلى خلايا ذات قدرة مناعية .

٣٧- تقوم خلايا الدم البيضاء القاعدية والحامضية والمتعادلة بدور هام في مكافحة العدوى البكتيرية والالتهابات .

لأنها : تحتوي على حبيبات تقوم بتفتيت خلايا الكائنات الممرضة المهاجمة للجسم ، تقوم ببعلمة ( ابتلاع وهضم ) الكائنات الممرضة .

٣٨- تزداد الكيموكينات في دم الشخص المصاب بميكروب .

لأنها تلعب الكيموكينات دورا هاما في الحد من تكاثر الميكروب .

لأنها تعمل على جذب الخلايا المناعية الليمعية المتحركة مع الدم بأعداد كبيرة نحو موقع تواجد الميكروب وذلك للحد من تكاثر وانتشار الميكروب المسبب للمرض .

٣٩- الخلايا المناعية البائية البلازمية خلايا متخصصة

لأن كل مجموعة منها تتخصص لإنتاج نوع واحد من الأجسام المضادة لتضاد نوع واحد من الأنتيجينات التي توجد على سطح الكائنات الحية الدقيقة والجزيئات الغريبة عن الجسم .

٤٠- يختلف شكل المواقع المختصة بالارتباط بالانتيجين من جسم مضاد لآخر .

لاختلاف تشكيل الأحماض الأمينية ( تابعها وأنواعها وشكلها الفراغي ، ... ) المكونة للسلسلة الببتيدية في الجزء المتغير من الجسم المضاد والتي تحدد تخصص كل جسم مضاد لنوع واحد من الأنتيجين .

٤١- الأجسام المضادة متخصصة

لأن كل جسم مضاد يختص بنوع واحد من الأنتيجينات .

لأن لكل جسم مضاد موقعين متماثلين للارتباط بالانتيجين الموجود على سطح الميكروب ، ويختلف شكل هذه المواقع من جسم مضاد لآخر نظراً لاختلاف تشكيل الأحماض الأمينية المكونة للسلسلة الببتيدية في هذا الجزء التركيبي والتي تحدد تخصص كل جسم مضاد لنوع واحد من الأنتيجينات .

٤٢- يعتبر الارتباط بين الأجسام المضادة والانتيجينات امرا مؤكدا .

لأن الأجسام المضادة ثنائية الارتباط ن بينما الأنتيجينات فلها مواقع ارتباط متعددة وهذا يجعل الارتباط بينهما أمرا مؤكدا فتقوم الأجسام المضادة بإيقاف عمل الأنتيجينات .

٤٣- تزداد اعداد الخلايا الصارية وخلايا الدم البيضاء الحامضية والخلايا الليمفاوية التائية عند حدوث جرح قطعي في الجلد .

لإفراز كميات من مواد مولدة للالتهاب من أهمها مادة الهيستامين التي تعمل على :

- تمدد الأوعية الدموية عند موقع الإصابة إلى أقصى مدى .

- زيادة نفاذية جدران الأوعية الدموية الصغيرة والشعيرات الدموية للسوائل من الدورة الدموية للسماح بنفوذ المواد الكيميائية المذيبة والقاتلة للبكتيريا بالتوجه إلى موقع الإصابة وإتاحة الفرصة لخلايا الدم البيضاء المتعادلة ووحيدة النواة وكذلك الخلايا البلعمية الكبيرة لمحاربة وقتل الأجسام الغريبة والميكروبات .

٤٤- خلايا البلازمية غير فعالة في تدمير الخلايا الغريبة كالخلايا المصابة بالتهربوس .

لأن الأجسام المضادة التي تكونها الخلايا البلازمية غير قادرة على المرور عبر أغشية الخلايا بسبب جزيئاتها الكبيرة نسبياً ، وبالتالي لا تستطيع الوصول إلى الفيروس الذي يتكاثر داخل الخلية ، وفي هذه الحالة تتم مقاومة هذه الخلايا الغريبة بواسطة الخلايا الليمفاوية التائية T .

## السؤال السابع ما الفرق بين :

- ١- الفقرة رقم ٢٠ والفقرة رقم ٣٠ من حيث : حجمها - مكان وجودها .
- ٢- الشد بالمحاليق والشد بالجذور الشادة من حيث : طريقة الشد - أهميتها .
- ٣- الرباط الصليبي ووتر أخيل من حيث : مكان وجوده - أهميته .
- ٤- المنطقة الداكنة والمنطقة المضيئة من حيث : مكوناتها - التغيرات التي تحدث لها عند الانقباض .
- ٥- التكاثر في الخميرة والأيبيا من حيث : نوع التكاثر اللاجنسي - الفرد الأبوي
- ٦- الأسبوروزويت والميروزويت في البلازموديوم من حيث : مكان وجوده - الخلايا التي يهاجمها
- ٧- الجسم الأصفر وحوصلة جراف من حيث : الفترة التي تتكون فيها أثناء الدورة الشهرية .
- ٨- الغدة الدرقية والغدة الدرقية من حيث : الموقع - الهرمونات التي تفرزها .
- ٩- الأنثريديا والتمك من حيث : مكان وجوده وطريقة تكوين الأمشاج فيه .
- ١٠- النبات المشيجي والنبات الجرثومي من حيث : طريقة التكاثر - المحتوى الصبغي .
- ١١- تكوين الفلين والتيلوزات من حيث : نوع المناعة - أهميتها .
- ١٢- البلازميد والنيوكلوسوم من حيث : التركيب .
- ١٣- إنزيم اللولب وإنزيم البلمرة من حيث : الأهمية .
- ١٤- التضاعف الصبغي في النبات والإنسان من حيث : التأثير .
- ١٥- الطفرة التلقائية والمستحدثة من حيث : سبب حدوث كلاً منها .
- ١٦- التعادل والتلازن من حيث : التأثير .
- ١٧- الخلايا T القاتلة والخلايا القاتلة الطبيعية من حيث : التأثير .
- ١٨- الخلايا البلعمية الثابتة والدوارة من حيث : مكان وجودها وأهميتها .
- ١٩- الحمض الأميني الجلايسين والميثونين من حيث : التركيب الكيميائي .
- ٢٠- إنزيم القصر وإنزيم النسخ العكسي من حيث : مكان وجودها والأهمية .

٥٤- وجود نسختين من المعلومات الوراثية واحدة على كل شريط - اللولب المزدوج حيوي لثبات الوراثة - الكائنات التي محتواها الوراثة DNA تتميز بمعدل منخفض من التغيرات

ذلك لوجود نسختين من المعلومات الوراثية واحدة على كل شريط فإذا حدث خلل في احدى الشريطين فإن انزيمات اللولب تستخدم الشريط الاخر كقالب لاصلاح الخلل على هذا الشريط

٥٥- الفيروسات سريعة التغيرات ذلك لان محتواها الوراثة شريط مفرد من RNA او DNA وبذلك اذا حدث خلل عليه لا يمكن اصلاحه

٥٦- لا توجد علاقة بين المحتوى الجيني وتعاقد الكائن الحي ذلك لان المحتوى الجيني للسلمندر ٣٠ مرة قدر المحتوى الجيني للثدييات ومع ذلك تكون خلايا كمية اقل من البروتين ورفيه اقل

٥٧- يتعين فك الالتصاق والتكسد في جزيء DNA قبل أن يعمل كقالب لبناء DNA أو RNA .

لأنه عندما يكون جزيء DNA مكتف في صورة كروماتين لا تصله الانزيمات الخاصة بتضاعفه ، لذا يتعين فك هذا الالتفاف على الأقل إلى مستوى شريط من النيوكليوسومات لضمان وصول انزيمات التضاعف اليه .

٥٨- أهمية DNA الذي لا يمثل شفرة ربما يعمل على احتفاظ الصبغيات بتركيبها- ربما يمثل اشارة على المناطق التي ينسخ منها mRNA وهي تمثل مناطق هامة في تخليق بروتين الخلية

٥٩- حدوث تضاعف صبغي في بعض الخلايا وذلك بعدم انفصال الكروماتيدات بعد انقسام السنتروميير او بسبب عدم تكوين جدار فاصل بين الخليتين البنويتين

٦٠- حدوث تغير في تركيب الصبغ ذلك عند زيادة او نقص جزء من الصبغ او عند انفصال قطعة من الصبغ ودورانها حول نفسها ١٨٠ ثم اعادتها بالصبغ من جديد او عند تبادل صبغين غير متماثلين

٦١- تنشأ طفرة نتيجة تغير ترتيب القواعد النيتروجينية هذه الطفرة جينية وتؤدي لظهور إنزيم جديد ثم صفة وراثية جديدة

٦٢- يتم بناء الراك الريبوسومات في الساعة في خلايا حقيقيات النواة لاحتواء DNA في خلايا حقيقيات النواة على أكثر من ٦٠٠ نسخة من جينات RNA الريبوسومي الذي يشترك في بناء الريبوسومات ووجود ٧٠ نوع من عديد الببتيد تدخل في بناء الريبوسومات .

٦٣- يمكن نقل الحمض tRNA بين كائنات من أنواع مختلفة دون أن يضر ذلك بالوظائف الخلوية الطبيعية .

لأن جميع جزيئات tRNA لها نفس الشكل العام والوظيفة في جميع الكائنات الحية ، كما أن كل نوع من tRNA تخصص في نقل نفس الحمض الأميني في جميع الكائنات الحية .

٤٥- لا يصاب الإنسان بالحصبة إلا مرة واحدة . لأنه اكتسب مناعة ضد الإصابة بالمرض في المرة الأولى نتيجة لتكوين خلايا الذاكرة فأتداء المجابهة الثانية مع فيروس الحصبة تستجيب خلايا الذاكرة له فور دخوله إلى الجسم فتبدأ في الانقسام سريعاً وينجم عن نشاطها السريع إنتاج العديد من الأجسام المضادة والعديد من الخلايا الثانية النشطة خلال وقت قصير .

٤٦- الاستجابة المناعية الأولية بطيئة بينما الاستجابة المناعية الثانوية سريعة . لأن الاستجابة المناعية الأولية تستغرق ما بين ١٠:٥ أيام لكي تصل إلى أقصى إنتاجية من الخلايا البائية والثانية والتي تكون في حاجة إلى الوقت كي تتضاعف لذا يصاحبها ظهور أعراض المرض ، بينما في الاستجابة المناعية الثانوية غالباً ما يتم تدمير الكائن الممرض قبل أن تظهر أعراض المرض بسبب توافر خلايا الذاكرة لهذا الكائن الممرض التي تنقسم سريعاً فور دخوله إلى الجسم وينجم عن نشاطها إنتاج العديد من الأجسام المضادة والخلايا الثانية المنشطة خلال وقت قصير .

٤٧- يحتوي المشيج على نصف المادة الوراثية للخلاية الجسمية ذلك لان الفرد الجديد يتكون من اتحاد مشيج مذكر مع مشيج مؤنث فلا بد ان يكون بكل منهما نصف المادة الوراثية

٤٨- هيكل سكر فوسفات غير متماثل ذلك لان القواعد النيتروجينية تبرز على جانب واحد فقط ولان الطرف ٥/ ينتهي بمجموعة فسفات حرة والطرف ٣/ ينتهي بمجموعة هيدروكسيل حرة

٤٩- المسافة بين شريطي DNA على طول الجزيء تكون متساوية او عرض درجات سلم DNA تكون متساوية

ذلك لان كل قاعدتين يرتبطان ببعضهما احدهما ذات حلقتين والاخرى ذات حلقة واحدة

٥٠- غياب انزيمات اللولب من خلايا طفل تؤدي الى موته ذلك لعدم تضاعف DNA فتتوقف الخلية عن الانقسام فيقف نمو الطفل وجروحة لا تشفى وفي النهاية يصاب باضرار خطيرة تؤدي الى موته

٥١- حدوث تضاعف DNA قبل انقسام الخلية ذلك حتى تستقبل كل خلية نفس عدد الصبغيات الموجودة بالخلية الاصلية

٥٢- اعتناح العلماء ان البلاستيدات والميتوكوندريا نشأت كاوليات نواة متماثلة على حقيقيات النواة ثم استقرت بها بعد ذلك ذلك بان البلاستيدات والميتوكوندريا تحتوي على DNA يشبه DNA الموجود في اوليات النواة ثم تطلفت داخل حقيقيات النواة واستقرت بها على صورتها .

٥٣- حدوث خلل لجزيء DNA بسبب حرارة الخلية التي تعمل على كسر الروابط التساهمية في السكريات الخماسية - البيئة المائية للخلية - التعرض للعديد من المركبات الكيميائية والاشعاع



## السؤال الثامن : ما المقصود بكلاً من (عَرِّف) :

|                          |  |
|--------------------------|--|
| الضلع العائمة            | الزوجان الأخيران من ضلوع القفص الصدري وهما زوجان قصيران لا يتصلان بعظمة القص.  |
| الغضاريف                 | نوع من الأنسجة الضامة تتكون من خلايا غضروفية ولا تحتوي على أوعية دموية   |
| المفاصل الزلالية         | نوع من أنواع المفاصل تشكل معظم مفاصل الجسم وهي مفاصل مرنة تتحمل الصدمات وتسمح بسهولة الحركة  |
| وتير أخيل                | وتر يصل العضلة التوأمية (عضلة بطن الساق) بعظمة الكعب ويساعد على المشي  |
| الخلايا العصبية المفترزة | خلايا عصبية توجد في منطقة تحت المهاد بالمخ وتقوم بإفراز هرمونات الجزء العصبى من الغدة النخامية ، والتي تصل إلى الفص الخلفى للغدة النخامية    |
| الجليكوجين               | مادة كربوهيدراتية تخزن داخل الأنسجة الحيوانية (مثل : الكبد والعضلات أو أنسجة الجسم الأخرى)   |
| الحركة الكلية            | يتحرك بها الكائن الحي من مكان لآخر بحثاً عن الغذاء أو سعياً وراء الجنس الآخر أو تلافياً لخطر ما في بيئته وهي تؤدي إلى زيادة انتشار الحيوان . |
| الروابط المستعرضة        | خيوط تم تكوينها بمساعدة أيونات الكالسيوم تمتد من خيوط الميوسين لى تتصل بخيوط الأكتين .   |
| الوحدة الحركية           | الوحدة الوظيفية للعضلة الهيكلية ، وهي عبارة عن مجموعة من الألياف العضلية والخلية العصبية التي تغذيها .                                       |
| التوالد البكرى           | قدرة البويضة على النمو لتكوين فرد جديد بدون إخصاب من المشيج الذكرى .   |
| زراعة الأنسجة            | إنماء نسيج حي ( تحتوي خلاياه على المعلومات الوراثية الكاملة ) في وسط غذائي شبه طبيعي ثم متابعة تميز أنسجتها وتقدمها نحو إنتاج أفراد كاملة .  |
| التلقيح الخاطئ           | انتقال حبوب اللقاح من متك زهرة على نبات إلى ميسم زهرة على نبات آخر من نفس النوع عن طريق الحشرات أو الهواء أو الماء أو الإنسان .              |
| اللقابة                  | ورقة تخرج من إبطها الزهرة وهي تختلف في الشكل واللون من نبات لآخر .   |
| النورة                   | تجمع الأزهار على المحور الزهرى في تنظيمات متنوعة كما في الفول والمنثور .   |
| الإخصاب المزدوج          | يشمل مرحلتين :<br>• إخصاب البويضة : عملية اندماج أحد النواتين الذكريتين لحبة اللقاح مع نواة البويضة المؤنثة لتكوين الزيجوت .                 |

|   |                          |
|---|--------------------------|
| نواة ذكورية (ن) + نواة البويضة (ن) تعطى زيجوت (٢ن)  | نواة الكاذبة             |
| • الاندماج الثلاثى : عملية اندماج أحد النواتين الذكريتين لحبة اللقاح مع النواة الناتجة من اندماج نواتا الكيس الجنينى لتكوين نواة الإندوسبرم                                     | الإثمار العذرى البربخ    |
| نواة ذكورية (ن) + نواتا الكيس الجنينى (ن+) تعطى نواة الإندوسبرم (٣ن)  | سن اليأس                 |
| الثمرة التي يتشحم فيها أى جزء غير مبيضها بالغذاء مثل ثمرة التفاح التي يتشحم فيها التخت (وهو ما يؤكل) .  | دورة التزاوج             |
| إنتاج ثمار بدون بذور لأنها تتكون بدون عملية الإخصاب ( وهو لا يعتبر تكاثر )  | غشاء الرهل (أمنيون)      |
| قناة تلتف حول نفسها تخرج من قاعدة الخصية ، وتصب في قناة تسمى الوعاء الناقل  | زراعة الأنوية            |
| السن الذى يتوقف عنده نشاط المبيضين ويتوقف عن إنتاج البويضات فى أنثى الإنسان فتقل الهرمونات وتتشمس بطانة الرحم ، وهو ما يتراوح ما بين ٤٥ : ٥٠ سنة .                              | التوأم السيامي           |
| فترات معينة فى حياة الثدييات المشيمية ينشط فيها المبيض فى الأنثى البالغة بصفة دورية منتظمة وتتزامن هذه الفترات مع وظيفة التزاوج والإنجاب  | التيلوزات                |
| غشاء يحيط بالجنين ويحتوى على سائل يحمى الجنين من الجفاف ويساعده على تحمل الصدمات  | الحساسية المفرطة للنبات  |
| هى استبدال نواة جنين متقدم (٢ن) محل نواة البويضة بعد تفتيتها بالإشعاع فتتمو إلى فرد كامل يحمل صفات نواة الجنين المتقدم  | بقع باير                 |
| توأم تماثل يولد ملتصق فى مكان ما بالجسم ويمكن الفصل بينهما جراحياً فى بعض الحالات   | الخلايا البلعمية الكبيرة |
| نموات زائدة تنشأ نتيجة تمدد الخلايا البارانشيمية المجاورة لقصببات الخشب وتمتد داخلها من خلال النقر وهي تتكون بسبب تعرض الجهاز الوعائى للنبات للقطع أو الغزو من الكائنات الممرضة |                          |
| تخلص النبات من الكائن الممرض بموت النسيج المصاب حيث يقوم النبات بنقل أنسجته المصابة لمنع انتشار الكائن الممرض منها إلى أنسجته السليمة   |                          |
| عقد صغيرة من الخلايا الليمفاوية تتجمع على شكل لطح أو بقع ، وتنتشر فى الغشاء المخاطى المبطن للجزء السفلى من الأمعاء الدقيقة  |                          |
| نوع من خلايا الدم البيضاء المتخصصة تقوم بالتقاط الميكروبات أو الأجسام الغريبة أو الخلية الجسمية الهرمة (المسنة) ككريات الدم الحمراء   |                          |

|  |                            |
|--|----------------------------|
| المسنة وتفتتها إلى مكوناتها الأولية ليتخلص منها الجسم ويقوم بعضها بالإضافة إلى ذلك بحمل المعلومات عن الميكروبات والأجسام الغريبة لتقدمها للخلايا المناعية المتخصصة                       | سلسلة المتممات أو المكملات |
| مجموعة متنوعة من البروتينات والإنزيمات (مواد كيميائية مساعدة) تساعد الآليات المتخصصة للجهاز المناعى فى تدمير الميكروبات الموجودة بالدم بعد ارتباط الأجسام المضادة وجزئيات المكملات بها . | الالتهاب                   |
| استجابة فورية لأنسجة الجسم التى أصيبت بجسم غريب مثل البكتيريا ويتم ذلك بحدوث بعض التغيرات فى موقع الإصابة  | خلايا الذاكرة              |
| نوع من الخلايا تختزن معلومات عن الالتهابات التى حاربها الجهاز المناعى فى الماضى .  | التحول البكتيري            |
| ظاهرة اكتشفها العالم جريفت أثبت بها أن المادة الوراثية هى DNA عندما وجد تحول إحدى سلالات البكتيريا إلى سلالة بكتيرية أخرى نتيجة انتقال المادة الوراثية إليها .                           | البلازميدات                |
| جزئيات صغيرة دائرية من DNA لا تعتقد بوجود بروتين معها ويوجد منها واحدة أو أكثر فى بعض الخلايا البكتيرية .  | البروتينات الهستونية       |
| مجموعة محددة من البروتينات التركيبية الصغيرة توجد فى كروماتين الخلية بكميات كبيرة وتحتوى على قدر كبير من الحمضين الأمينيين القاعديين الأرجنين والليسين .                                 | المحتوى الجينى لفرد ما     |
| كل الجينات ( أو DNA ) الموجودة فى خلية هذا الفرد   | الطفرة الجينية             |
| تغير كيميائى فى تركيب الجين ( تحديداً فى ترتيب القواعد النيتروجينية فى جزيء DNA ) مما يؤدي إلى تكوين إنزيم مختلف يعمل على ظهور صفة جديدة   | أسباب التضاعف الصبغى       |
| تضاعف يحدث نتيجة عدم انفصال الكروماتيدات بعد انقسام السنتروميترات وعدم تكون الغشاء الفاصل بين الخليتين البنويتين.  | مضاد الكودون               |
| هو تتابع من النيوكليوتيدات على RNA الناقل يزدوج مع كودونات RNA الرسول عند موقع ارتباط الريبوسوم بالرسول يسمح للحمض الأمينى بالدخول فى سلسلة عديد الببتيد                                 |                            |

## السؤال التاسع مكان ووظيفة :

| المكان   | الوظيفة  | التقريب الكبير    |
|--|--|-------------------|
| مؤخرة الجزء الخلفي (المخى) من الجمجمة  | يصل المخ بالحبل الشوكى   | التجويف الحقي     |
| عند موضع اتصال الحرقفة بالورك  | تستقر فيه رأس عظمة الفخذ   | الغضاريف          |
| توجد غالباً عند أطراف العظام خاصة عند المفصلات وبين فقرات العمود الفقري ، تشكل بعض أجزاء الجسم مثل الأذن ، الأنف ، الشعب الهوائية للرتين | حماية العظام من التآكل نتيجة احتكاكها المستمر ببعضها .   | الرباط الصليبي    |
| يصل بين عظمة الفخذ وعظمة القصبة عند مفصل الركبة  | يساعد فى حركة العظام عند مفصل الركبة   | وتر أخيل          |
| يصل العضلة التوأمية (عضلة بطن الساق) بعظمة الكعب   | يساعد على المشى  | المفاصل الليفية   |
| بين عظام الجمجمة   | تصل عظام الجمجمة ببعضها عند أطرافها المسننة اتصالاً متيناً لحماية المخ                               | المفاصل الغضروفية |
| بين فقرات العمود الفقري  | تسمح بحركة محدودة للعمود الفقري  | الجذور الشادة     |
| الأبصال والكرومات  | تعمل على سحب البصلة والكورمه إلى مستوى مناسب من سطح التربة لتدعمها وحماية أجزائها الهوائية من الرياح | الأسيتيل كولين    |
| التشابك العصبى - العضلى  | ناقل عصبى فى النهايات العصبية ينقل السيال العصبى إلى الليفة العضلية لتقوم بالانقباضات المطلوبة       | الأنثريديا        |
| مقدمة السطح السفلى للظرو المشجى فى السراخس   | مناسل مذكرة تنتج السباحات المهديّة   | النواة الأثيوبية  |
| حبة اللقاح   | تكوين أنبوبة لقاح تخترق الميسم والقلم حتى تصل إلى موضع النقيير فى المبيض                             | نسيج الإندوسيرم   |
| يحيط بالجنين داخل البذرة   | يغذى الجنين فى مراحل نموه الأولى   | خلايا سرتولى      |
| داخل الأنبيبات المنوية فى الخصية   | تفرز سائل يعمل على تغذية الحيوانات المنوية داخل الخصية ويعتقد أن لها وظيفة مناعية أيضاً              | الخلايا البينية   |
| توجد بين الأنبيبات المنوية فى الخصية   | تفرز هرمون التستوستيرون الذى يسبب ظهور الصفات الذكرية الثانوية عند البلوغ                            |                   |

| الجسم القمى            | فى مقدمة رأس الحيوان المنوى   | يفرز إنزيم الهيالوريناز الذى يعمل على إذابة جزء من غلاف البويضة وهرمونات تنظيم دورة الطمث وتكوين الجنين  |
|------------------------|---|--|
| حويصلة جراف            | المبيض  | - تحمل بداخلها البويضة الى حين نضجها وتنطلق منها الى خارج المبيض بعد انفجارها .<br>- تفرز هرمون الإستروجين الذى يعمل على إنماء بطانة الرحم .<br>- تكون بقاياها (بعد خروج البويضة) الجسم الأصفر الذى يفرز هرمون البروجسترون |
| غشاء الرهل (أمنيون)    | يحيط بالجنين فى الرحم   | يحتوى على سائل يحمى الجنين من الجفاف ويساعده على تحمل الصدمات  |
| غشاء السلى (كوريون)    | يحيط بغشاء الرهل فى الرحم   | يحمى الجنين ، كما تخرج من خملات أصعبية الشكل تنغمس فى بطانة الرحم وتلاصق فيها الشعيرات الدموية للجنين والام وتسمى " المشيمة "  |
| الغدة التيموسية        | على القصبة الهوائية أعلى القلب وخلف عظمة القص   | إفراز هرمون التيموسين الذى يحفز نضج الخلايا الليمفاوية الجذعية إلى الخلايا التانية T وتمايزها إلى أنواعها المختلفة داخل الغدة التيموسية  |
| بقع باير               | تنتشر فى الغشاء المخاطى المبطن للجزء السفلى من الأمعاء الدقيقة  | وظيفتها الكاملة غير معروفة ولكنها تلعب دوراً فى الاستجابة المناعية ضد الكائنات الحية الدقيقة التى تدخل الأمعاء وتسبب الأمراض   |
| العقد الليمفاوية       | على طول شبكة الأوعية الليمفاوية الموجودة فى جميع أجزاء الجسم ، مثل (تحت الإبطين - على جانبي العنق - أعلى الفخذ - بالقرب من أعضاء الجسم الداخلة) | تنقى الليمف من أى مواد ضارة أو ميكروبات ، تختزن خلايا الدم البيضاء ( الخلايا الليمفاوية ) التى تساعد فى محاربة أى مرض أو عدوى  |
| الخلايا الملتصقة       | داخل جيوب العقدة الليمفاوية   | تخلص الليمف مما به من جراثيم وحطام الخلايا   |
| الصملاخ                | الأذن   | قتل الميكروبات التى تدخل الأذن مما يعمل على حمايتها  |
| المستقبلات المناعية    | على سطح الخلايا الليمفاوية البانية B  | تتعرف على أنتيجينات الكائنات الممرضة وتلتصق بها  |
| المستقبل المناعى (CD4) | على سطح الخلايا التانية المساعدة T <sub>H</sub>   | تتعرف من خلاله الخلايا التانية المساعدة T <sub>H</sub> بالمركب الناتج من ارتباط الأنتيجين وبروتين التوافق النسيجي MHC2 وترتبط به   |

| لتتحول إلى خلايا تانية مساعدة نشطة  | على سطح الخلايا التانية السامة T <sub>C</sub>  | الستقبل المناعى (CD8)  |
|---|--|--|
| تتعرف من خلاله الخلايا التانية السامة T <sub>C</sub> على الأجسام الغريبة كالخلايا السرطانية أو الأنسجة المزروعة فى الجسم أو أنتيجينات الميكروبات التى تدخل الجسم وترتبط بها ثم تقضى عليها   | على سطح الخلايا التانية المثبطة T <sub>S</sub> | يرتبط بالأنتيجين الموجود على سطح الميكروب فتتعرف من خلاله الخلايا التانية المساعدة T <sub>H</sub> على الأنتيجين مما يسهل عملية القضاء عليه |
| ترتبط من خلاله الخلايا التانية المثبطة T <sub>S</sub> مع الخلايا البلازمية والخلايا التانية المساعدة T <sub>H</sub> والخلايا التانية السامة T <sub>C</sub> وذلك لتحفيزها على إفراز بروتينات الليمفوكينات التى تثبط الاستجابة المناعية أو تعطلها . | داخل الخلايا البلعمية الكبيرة                  | الروابط الهيدروجينية   |
| يرتبط بالأنتيجين الموجود على سطح الميكروب فتتعرف من خلاله الخلايا التانية المساعدة T <sub>H</sub> على الأنتيجين مما يسهل عملية القضاء عليه  | بين القواعد النيتروجينية فى جزيء الـ DNA       | البلازميد  |
| تعمل على ربط شريطي الـ DNA معاً   | أوليات النواة - الخميرة                        | البروتينات الهستونية   |
| - يستخدم فى تجارب الهندسة الوراثية حيث يمكن زراعة جينات عليه ومضاعفتها مستغلين قدرة البلازميد على التضاعف مع الـ DNA الرئيسى  | الصبغى   | الحيبيات الطرفية   |
| يلتف الـ DNA حولها مما تؤدى إلى تقصير طول جزيء الـ DNA كما أن مجموعة الألكايل الموجودة بها ترتبط مع مجموعة الفوسفات السالبة فى جزيء الـ DNA مما تعطى للصبغ حالة ثبات .  | على صبغيات حقيقيات النواة                      |  |
| حماية التركيب الصبغى تمثل إشارات لنسخ RNA الرسول  |  |  |

## السؤال العاشر

قارن بين :

| (١) تركيب الحزام الصدري                 | تركيب الحزام الحوضي                                     |
|---|---|
| ★ يرتك من جزئين منفصلين.                | ★ يتركب من جزئين متمثلين                                |
| ★ يرتك من عظمة الترقوة ولوح الكتف.      | ★ يلتحمان من الناحية الباطنية في منطقة الارتفاق العاني. |
| ★ يتصل بالطرف العلوي بواسطة عظمة العضد. | ★ يرتك من عظمة الحرقفة عظمة العانة عظمة الورك.          |
|   | ★ يتصل بالطرف السفلي بواسطة عظمة الفخذ.                 |

| (٢) المناطق الداكنة في القطعة العضلية  | المناطق المضيئة في القطعة العضلية  |
|--|--|
| ★ تتكون من خيوط بروتينية رفيعة تسمى الأكتين وخيوط بروتينية سميكة تسمى الميوسين ويقطعها في منتصفها منطقة شبه مضيئة يرمز لها بالرمز (H) وهي تحتوي على خيوط الميوسين السميكة. | ★ تتكون من خيوط بروتينية رفيعة تسمى بروتينية رفيعة تسمى الأكتين ويقطعها في منتصفها خط داكن يرمز له بالرمز (Z). |
| ★ يرمز لها بالرمز (A).   | ★ يرمز لها بالرمز (I).   |

| (٣) الطور الجرثومي في نبات الفوجير   | الطور المشيجي في نبات الفوجير  |
|--|--|
| ★ يتكون من جذور عرضية وريزومة تحمل على سطحها السفلي بثرات بها الخلايا الجرثومية.                           | ★ جسم مفلطح قلبي الشكل يحمل على مؤخرة سطحه السفلي أشباه جذور (الأنثريديا) و (الأرشيجونيا). |
| ★ ثنائي المجموعة الصبغية (٢ن) حيث أنه يتكون بالتكاثر الجنسي بإخصاب السابحة المهيدة الذكرية (ن) للبيضة (ن). | ★ أحادي المجموعة الصبغية (ن) حيث أنه يتكون من إنبات الجرثومة (ن).                          |
| ★ يتكاثر لا جنسياً بالجراثيم.  |  |

| (٤) هرمون التحوصل FSH                               | (الهرمون المصفر) LH   |
|---|---|
| يفرز من الفص الأمامي للغدة النخامية                 | يفرز من الفص الأمامي للغدة النخامية   |
| يتكون أثناء مرحلة نضج البويضة                       | يتكون أثناء مرحلة التبويض   |
| يحفز المبيض لإنتاج حويصلة جراف المحتوية على البويضة | يسبب انفجار حويصلة جراف وتحرر البويضة مع تكون الجسم الأصفر من بقايا حويصلة جراف |

| (٥) DNA في أوليات النواة  | DNA في حقيقيات النواة                                 |
|---|---|
| الشكل : لولب مزدوج ملتحم الأطراف ويتصل بالغشاء البلازمي عند نقطة واحدة أو أكثر. | لولب مزدوج لا تلتحم أطرافه ينتظم في صورة صبغيات .     |
| التواجد : يوجد في السيتوبلازم .   | يوجد داخل النواة في صورة صبغيات (محاط بالغشاء النووي) |
| التعقد بالبروتين : غير معقد بالبروتين .   | معقد بالبروتينات الهستونية وغير الهستونية .           |
| الشفرة الوراثية : معظمة يحمل شفرة وراثية .                                      | بعضه لا يحمل شفرة وراثية .                            |
| البلازميدات : توجد ولا تعتمد بوجود البروتين                                     | لا توجد إلا في فطر الخميرة فقط .                      |

| (٦) البروتينات الهستونية   | البروتينات غير الهستونية  |
|--|---|
| ★ التعريف :- مجموعة محددة من البروتينات التركيبية الصغيرة .  | مجموعة غير متجانسة من البروتينات .  |
| ★ التركيب :- تحتوي على قدر كبير من الحمضين الأمينيين القاعديين الأرجينين والليسينين.   | تتكون من بروتينات تركيبية وبروتينات تنظيمية .   |
| ★ الكمية :- توجد بكمية ضخمة في كروماتين أي خلية .  | كميتها أقل  |
| ★ الوظيفة :- ترتبط بقوة مع مجموعات الفوسفات السالبة الموجودة في جزئ DNA وذلك لأن مجموعة الألكيل الجانبية للحمضين الأمينيين تحمل شحنات موجبة عند الأس الهيدروجيني (pH) العادي للخلية مسنولة عن تقصير جزئ DNA عشر مرات عن طريق تكوين حلقات من النيوكليوسومات . | - البروتينات التركيبية : تلعب دوراً رئيسياً في التنظيم الفراغي لجزئ DNA داخل النواة كما أنها مسنولة عن تقصير جزئ DNA حوالي ١٠٠,٠٠٠ مرة عن طريق تكوين الكروماتين المكثس .<br>- البروتينات التنظيمية : تحدد ما إذا كانت شفرة DNA ستستخدم في بناء RNA والبروتينات والإنزيمات أم لا |

| (٧) الطفرات المشيجية                           | الطفرات الجسمية                                    |
|--|--|
| ★ تحدث في الخلايا التناسلية (الأمشاج) .        | ★ تحدث في الخلايا الجسدية (الجسمية) .              |
| ★ تظهر كصفات جديدة على الجنين الناتج .         | ★ تظهر كأعراض مفاجئة على العضو الذي تحدث بخلاياه . |
| ★ تتم في الكائنات الحية التي تتكاثر تزاوجياً . | ★ أكثر شيوعاً في النباتات التي تتكاثر خضرياً .     |

| (٨) الاستجابة المناعية الأولية  | الاستجابة المناعية الثانوية  |
|---|--|
| * هي استجابة الجهاز المناعي لكائن ممرض جديد .   | * هي استجابة الجهاز المناعي لنفس الكائن الممرض الذي سبق الإصابة به .   |
| * الخلايا الليمفاوية البائية والثانية هي المسنولة عن الاستجابة المناعية الأولية حيث تستجيب لأنتيجينات الكائن الممرض وتهاجمها حتى تقضى عليها . | * خلايا الذاكرة هي المسنولة عن الاستجابة المناعية الثانوية لأنها تحتزن معلومات عن الأنتيجينات التي حاربها الجهاز المناعي في الماضي . |
| * استجابة بطيئة ( تستغرق ما بين ١٠:٥ أيام للوصول إلى أقصى إنتاجية من الخلايا البائية والثانية ، والتي تكون في حاجة إلى الوقت كي تتضاعف ) .    | * استجابة سريعة جداً ( فغالباً ما يتم تدمير الكائن الممرض قبل أن تظهر أعراض المرض) .   |
| * يصاحبها ظهور أعراض واسعة الانتشار .   | * لا يصاحبها ظهور أعراض المرض لأنه يتم تدمير الكائن الممرض بسرعة .   |
| * يتكون خلالها خلايا الذاكرة البائية والثانية وتبقى كامنة .   | * تنشط خلالها خلايا الذاكرة التي سبق تكوينها .   |

| (٩) الوصف   | الأربطة   | الأوتار  |
|---|---|--|
| عبارة عن حزم منفصلة من النسيج الضام الليفي المرن تثبت أطرافها على عظمي المفصل .   | عبارة عن حزم منفصلة من النسيج الضام الليفي المرن تثبت أطرافها على عظمي المفصل .   | عبارة عن نسيج ضام قوى  |
| الوظيفة * ربط العظام ببعضها عند المفصل . * تحديد حركة العظام عند المفصل في الاتجاهات المختلفة .                                   | ربط العضلات بالعظام عند المفصل . * تحديد حركة العظام عند المفصل في الاتجاهات المختلفة .                                     | ربط العضلات بالمفاصل بما يسمح بالحركة عند انقباض وانبساط العضلات |
| مثال * الأربط في مفصل الركبة ، وهي : - الرباط الصليبي الذي ينقسم إلى رباط أمامي ورباط خلفي . - الرباط الوسطى . - الرباط الجانبي . | * الأربط في مفصل الكتف ، وهي : - الرباط الصليبي الذي ينقسم إلى رباط أمامي ورباط خلفي . - الرباط الوسطى . - الرباط الجانبي . | وتر أخيل   |

| (١٠) بويضة البيتونيا  | بويضة الفوجير   |
|---|---|
| * توجد في قاعدة الكربلة كأنفاخ بسيط على الجدار الداخلي للمبيض . | * توجد في مقدمة السطح السفلي للطور المشيجي داخل الأرشيجونيا . |

|      |   |   |                     |
|------|---|---|---------------------|
| (١٥) | الخلايا القاتلة الطبيعية  | الخلايا التائية القاتلة   | نسبتها              |
|      | تشكل حوالى ١٠:٥% من الخلايا الليمفاوية بالدم  | أحد أنواع الخلايا التائية التى تشكل حوالى ٨٠% من الخلايا الليمفاوية بالدم   |                     |
|      | يتم إنتاجها ونضجها فى نخاع العظام الأحمر  | تتكون فى نخاع العظام الأحمر ويتم نضجها فى الغدة التيموسية   | مكان تكوينها ونضجها |
|      | تهاجم خلايا الجسم المصابة بالفيروس والخلايا السرطانية وتقتضى عليها بواسطة الإنزيمات التى تفرزها | تهاجم الخلايا الغريبة عن الجسم ، مثل الخلايا السرطانية والأعضاء المزروعة وخلايا الجسم المصابة بالفيروسات وتقتضى عليها بواسطة إفراز بروتين البيروفرين أو السموم الليمفاوية | وظيفتها             |

|      |   |  |         |
|------|---|--|---------|
| (١٦) | المفاصل الغضروفية                                   | المفاصل الليفية                                  | الوظيفة |
|      | تربط بين نهايات بعض العظام المتجاورة                | تربط عظام الجمجمة ببعضها من خلال أطرافها المسننة |         |
|      | تسمح بحركة محدودة جداً                              | لا تسمح بالحركة                                  | الحركة  |
|      | المفاصل الغضروفية التى توجد بين فقرات العمود الفقرى | المفاصل الليفية التى توجد بين عظام الجمجمة       | مثال    |

|      |  |  |
|------|--|--|
| (١٧) | البذرة   | الحبة  |
|      | * لا إندوسبرمية .<br>* تتصلب فيها الأغلفة البيضية لتكوين القصرة .<br>* مثل : الفول والبسلة . | * إندوسبرمية .<br>* تلتحم فيها أغلفة المبيض مع أغلفة البويضة لتكوين الثمرة .<br>* مثل : القمح والذرة |

|      |  |   |
|------|--|---|
| (١٨) | تأثير FSH فى ذكر الإنسان   | تأثير LH فى ذكر الإنسان                         |
|      | يساعد على تكوين الأنبيبات المنوية وتكوين الحيوانات المنوية فى الخصية | مسئول عن تكوين وإفراز الخلايا البينية فى الخصية |

|  |   |
|--|---|
| * الوظيفة :  | * الوظيفة :   |
| تتعرف من خلاله الخلايا البانية على أنتيجينات الكائنات الممرضة وتلتصق بها | تتعرف من خلاله الخلايا التائية المساعدة T <sub>H</sub> بالمركب الناتج من ارتباط الأنتيجين وبروتين التوافق النسيجي MHC2 وترتبط به لتتحول إلى خلايا تائية مساعدة مُنشطة |

|      |  |  |
|------|--|--|
| (١٦) | تأثير التضاعف الصبغى فى النبات   | تأثير التضاعف الصبغى فى الإنسان  |
|      | ينتج عنه أفراد له صفات جديدة فيكون النبات أكثر طولاً وأعضاؤه أكبر حجماً خاصة الأزهار والثمار | التضاعف الثلاثى تأثيره مميت ويسبب إجهاداً للأجنة ومع ذلك يوجد تضاعف صبغى فى بعض خلايا الكبد والبنكرياس |

|      |   |   |
|------|---|---|
| (١٧) | وظيفة هرمون التحوصل (FSH) فى أنثى الإنسان   | وظيفة الهرمون المصفر (LH) فى أنثى الإنسان   |
|      | يعمل على إنتاج (نمو) الحويصلات فى المبيض وتحولها إلى حويصلة جراف المحتوية على البويضة وذلك فى مرحلة نضج البويضة | يعمل على انفجار حويصلة جراف وتحرر البويضة وتكون الجسم الأصفر من بقايا حويصلة جراف وذلك فى مرحلة التبويض |

|      |   |  |
|------|---|--|
| (١٨) | مجموعة الهرمونات السكرية  | مجموعة الهرمونات المعدنية  |
|      | * تشمل هرمون الكورتيزون وهرمون الكورتيكوستيرون * وظيفتها : تنظيم أيض المواد الكربوهيدراتية (السكريات - النشويات) بالجسم | * منها هرمون الألدوستيرون * وظيفتها : لها دور هام فى الحفاظ على توازن المعادن بالجسم |

|      |  |  |
|------|--|--|
| (١٩) | الحبل السرى فى النبات  | الحبل السرى فى الإنسان   |
|      | * يصل البويضة بجدار المبيض ومن خلاله تصل المواد الغذائية إلى البويضة | * يصل الجنين بالمشيمة ومن خلاله تنتقل :<br>- المواد الغذائية المهضومة والأكسجين والماء والأملاح والفيتامينات من المشيمة إلى الدورة الدموية للجنين .<br>- المواد الإخراجية وثانى أكسيد الكربون من الدورة الدموية للجنين إلى المشيمة |

|   |   |
|---|---|
| * تُخصب بواسطة حبوب اللقاح التى تتحرر من المتك ليكون الزيجوت " اللاقحة " (٢). | * تُخصب بواسطة حبوب اللقاح التى تتحرر من المتك ليكون الزيجوت " اللاقحة " (٢). |
|---|---|

|      |  |   |
|------|--|---|
| (٢٠) | تكوين الفلين   | تكوين التيلوزات   |
|      | * يتكون عند تعرض المناطق النباتية للقطع أو التمزق بسبب :<br>- نمو النبات فى السمك .<br>- جمع الثمار .<br>- سقوط الأوراق فى الخريف .<br>- تعدى الإنسان والحيوان .<br>* الأهمية :<br>يعزل المناطق النباتية التى تعرضت للقطع أو التمزق مما يمنع دخول الكائن الممرض للنبات . | * نموات زائدة تنشأ نتيجة تمدد الخلايا البارانشيمية المجاورة لقصبية الخشب وتمتد داخلها من خلال النقر وهى تتكون بسبب تعرض الجهاز الوعائى للنبات للقطع أو الغزو من الكائنات الممرضة * الأهمية :<br>تعيق حركة الكائنات الممرضة إلى الأجزاء الأخرى فى النبات . |

|      |  |  |
|------|--|--|
| (٢١) | الكيموكينات  | الإنترليوكينات   |
|      | * تمثل عوامل جذب للخلايا المناعية البلعمية المتحركة مع الدم بأعداد كبيرة نحو موقع تواجد الميكروبات أو الأجسام الغريبة وذلك للحد من تكاثر وانتشار الميكروب المسبب للمرض . | * تعمل كأداة اتصال أو ربط بين خلايا الجهاز المناعى المختلفة .<br>* تعمل كأداة اتصال أو ربط بين الجهاز المناعى وخلايا الجسم الأخرى .<br>* مساعدة الجهاز المناعى فى أداء وظيفته الدفاعية . |

|      |  |  |
|------|--|--|
| (٢٢) | التوالد البكرى فى نحل العسل  | التوالد البكرى فى حشرة المن  |
|      | تنتج الملكة بيضاً (ن) ينمو بدون إخصاب لتكوين ذكور النحل ، فتكون الذكور أحادية المجموعة الصبغية (ن) | تتكون البويضات من انقسام ميتوزى (بدون إخصاب) تنمو إلى أفراد ثنائية المجموعة الصبغية (٢ن) |

|      |  |   |
|------|--|---|
| (٢٣) | المفاصل محدودة الحركة  | المفاصل واسعة الحركة  |
|      | * المفهوم :<br>مفاصل تسمح بحركة العظام فى اتجاه واحد فقط<br>* أمثلة : مفصل الكوع والركبة | * المفهوم :<br>مفاصل تسمح بحركة العظام فى اتجاهات مختلفة<br>* أمثلة : مفصل الكتف والفخذ |

|      |   |   |
|------|---|---|
| (٢٤) | المستقبل CD19   | المستقبل CD4  |
|      | * مكان تواجده :<br>على سطح الخلايا الليمفاوية البائية B | * مكان تواجده :<br>على سطح الخلايا الليمفاوية التائية المساعدة T <sub>H</sub> |

\* **الإنترفيرون** : بروتين يتكون داخل خلايا الجسم المصابة بالفيروس  
ويوقف تضاع الفيروسات التي محتواها الجيني RNA ( مثل فيروس شلل  
الأطفال والإنفلوانزا ) .

### س٧: ماذا يحدث عند :

- ١- اختفاء موقع مقابل الكودون من tRNA .
- \* لا يرتبط tRNA ب mRNA وبالتالي يتوقف بناء سلسلة عديد الببتيد  
حيث يتم عند هذا الموقع ارتباط مؤقت بين tRNA و mRNA مما يسمح  
للحمض الأميني المحمول على tRNA أن يدخل في المكان المحدد في  
سلسلة عديد الببتيد .
- ٢- اختفاء الريبوزومات من خلايا طفل حديث الولادة .
- \* يتوقف نموه لعدم قدرة الريبوزومات على تكوين البروتين في خلاياه وتتوقف  
العمليات الحيوية ويموت .
- ٣- اختفاء الكودون AUG أثناء نسخ حمض mRNA .
- \* لن تبدأ تفاعلات بناء البروتين لعدم وجود كودون البدء AUG .
- ٤- انتهاء RNA الناقل من تقديم الحمض الأميني إلى الريبوسوم  
أثناء بناء البروتين .
- \* يخرج إلى السيتوبلازم ليحمل نفس الحمض الأميني لاحتمال استعادته  
عند بناء بروتين جديد وذلك لثبات مضاد الكودون .

### س٨: علل لما يأتي :

- ١- لا تتم ترجمة ذيل عديد الأدينين على الرسول إلى أحماض أمينية .
- \* لأنه لا يمثل شفرة بل يعمل فقط على حماية الرسول من التحلل بواسطة  
الإنزيمات الموجودة في السيتوبلازم .
- ٢- يمكن نقل الحمض tRNA بين أنواع مختلفة دون أن يضر ذلك  
بالوظائف الخلوية .
- \* لأن جميع جزيئات tRNA لها نفس الشكل العام والوظيفة في جميع  
الكانات الحية ، كما أن tRNA يتخصص في نقل حمض أميني معين بين  
الأحياء .
- ٣- قد تتبادل الريبوزومات تحت وحدتها عند بدء عملية بناء البروتين .
- \* لأن كل وحدة ريبوسوم صغرى يمكن أن ترتبط مع وحدة ريبوزوم كبرى عند  
بدء ترجمة شفرة الرسول .
- ٤- الشفرة الوراثية عامة .
- \* لأن كودونات الأحماض الأمينية تمثل شفرات في جميع الكائنات الحية  
وهذا دليل على أن الكائنات الحية نشأت من أصول مشتركة .
- ٥- لكل إنزيم قصر القدرة على قص DNA بغض النظر عن مصدره .
- \* لوجود موقع تعارف به نفس التتابعات فيتعرف عليها إنزيم القصر  
ويجعل أطرافه مفردة .
- ٦- للجينوم البشري أهمية في علم الجريمة .
- \* لأنه يمكن التعرف على الأشخاص من خلال البصمات وفصائل الدم  
حيث يحمل الكروموسوم الثامن جين البصمة والكروموسوم التاسع جين  
فصائل الدم كما يمكن تحديد صفات المجرم من خلال الجينوم البشري  
فيمكن رسم صورة عند فحص شفرة أو حيوان منوى منه .

س٤: يقوم كلاً من إنزيم القصر والربط بدور مهم للحصول على بلازميد  
معاد الاتحاد . وضح التجربة التي قام بها أحد الباحثين لتحقيق ذلك .

ج-  
قام بقص كلاً من DNA والبلازميد بنفس إنزيم القصر ، فتكونت أطراف  
مفردة متكاملة النهايات لاصقة ، وعند إضافة الجين إلى البلازميد تكاملت  
أطرافهم وتم ربطهم بواسطة إنزيم الربط فتكون بلازميد معاد الاتحاد .

### س٥: كيف تمكن العلماء من :

- ١- تغيير صفة لون العيون في حشرة الدروسوفيلا
  - ٢- الحصول على سلالات نباتية لا تحتاج إلى أسمدة نيتروجينية .
  - ٣- الحصول على DNA من RNA رسول .
- ج-  
١- تمكن الباحثون من زرع جين العيون الحمراء من سلالة الدروسوفيلا  
محل جين سلالة أخرى ( ذات عيون بنية ) في خلايا مقرر لها أن تكون  
أعضاء تكاثر فعند نمو الأجنة أنتجت أفراد تحمل صفة الجين المزروع  
( كانت العيون ذات لون أحمر بدلاً من اللون البني ) .
- ٢- نقل جينات ( مسنولة عن تكوين العقد البكتيرية على جذو النباتات  
البقولية ) إلى نباتات محاصل أخرى بهدف الاستفادة من قدرة هذه  
البكتيريا على تثبيت نترجين الهواء بدلاً من تسميد التربة .
- ٣- باستخدام إنزيم النسخ العكسي الذي يعمل على قالب رسول لإنتاج  
شريط مفرد من DNA ثم استخدام إنزيم البلمرة لجعل الشريط المفرد  
مزدوج .

### س٦: عرف كلاً من :-

- \* **الحفز** : تتابع للنوكليوتيدات على DNA يوجه إنزيم بلمرة mRNA إلى  
الشريط الذي سينسخ ( شريط DNA القالب ويكون في الاتجاه ٣ ← ٥ ) ويبدأ منه  
نسخ mRNA في الاتجاه ٥ ← ٣ ) .
- \* **البوليمر عديد الببتيد** : هو بروتين يتكون نتيجة ارتباط  
الأحماض الأمينية معاً بروابط ببتيدية في تفاعل نازع للماء في وجود  
بعض الإنزيمات المفردة من تحت وحدة الريبوسوم الكبيرة .
- \* **تفاعل نقل الببتيد** : تفاعل كيميائي يحدث في الريبوسومات  
وينتج عنه تكوين رابطة ببتيدية بين حمض أميني والحمض الذي يليه  
بمساعدة إنزيم منشط للتفاعل .
- \* **مضاد (مقابل) الكودون** : هو موقع على جزء tRNA الذي  
تتزوج قواعده مع كودونات mRNA المناسبة عند مركب mRNA عند  
والريبوسوم حيث يحدث ارتباط مؤقت بين tRNA و mRNA مما يسمح  
للحمض الأميني المحمول على tRNA أن يدخل في المكان المحدد في  
سلسلة عديد الببتيد .
- \* **عامل الإطلاق** : بروتين يرتبط بكودون الوقف على جزء mRNA  
مما يجعل الريبوسوم يترك mRNA وتتفصل تحت وحدتا الريبوسوم  
عن بعضهما البعض .
- \* **الأطراف اللاصقة** : هي أطراف نشأت من معاملة DNA بنفس  
إنزيم القصر ويمكنها أن تلتصق مع قطعة أخرى بشرط أن تكون قد  
عولمت بنفس إنزيم القصر .

### السؤال الحادي عشر : \* أسئلة على الفصل الثاني في DNA \*

س١ : كيف تاكد العلماء من وجود التتابع AGAAG في المحتوى الجيني  
لحشرة الدروسوفيلا ؟

كيف يمكنك معرفة جين معين وبأى كمية في المحتوى الجيني ؟

- يتم ذلك عن طريق تكوين شريط مفرد من DNA صناعي  
باستخدام عناصر مشعه يحمل التتابعات المكملة للتتابعات المراد  
البحث عنها . يخلط شريط DNA الصناعي مع جينات المحتوى  
الجيني لحشرة الدروسوفيلا .
- يرفع درجة الحرارة إلى ١٠٠ م ثم تبرد .
- في حالة تكوين هذا DNA الهجين يكون دليل على وجود  
التتابعات المراد البحث عنها .
- يمكن تحديد كميته من خلال السرعة التي يتكون بها DNA  
الهجين .

س٢) كيف يتم نقل الشفرة الوراثية من النواة إلى السيتوبلازم لبناء  
البروتين ؟

ج) وذلك عن طريق نسخ RNA الرسول من DNA فيحمل  
الرسالة الوراثية ليتم ترجمتها إلى البروتين المقابل في  
السيتوبلازم ( شرح نسخ الرسول + شرح الترجمة )

### س٣) التتابع التالي يوضح تركيب أحد شريطي قطعة DNA :

- 5' ... TACCACCACCTCACT ... 3'
- ١- اكتب تتابع النوكليوتيدات في الشريط المكمل بنفس القطعة من  
جزء DNA .
  - ٢- اكتب تتابع النوكليوتيدات في قطعة جزء m-RNA  
المنسوخة من هذه القطعة من جزء DNA
  - ٣- اكتب تتابعات مضاد الكودونات على t-RNA اللازمة لنقل  
الأحماض الأمينية .
  - ٤- حدد عدد كودونات على جزء m-RNA المنسوخة من هذه القطعة من  
جزء DNA .
  - ٥- حدد عدد الأحماض الأمينية في سلسلة عديد الببتيد التي سيتم  
بنائها من قطعة m-RNA . ٦- كم عدد لفات هذا الجزء .

ج-  
١- 3 ... ATGGTGGTGGAGTGA ... 5

٢- 3 ... AUGGUGGUGGAGUGA ... 5

٣- CUC CAC CAC UAC

٤- ٥ كودونات

٥- أربع أحماض أمينية .

٦- لفة ونص .

**السؤال الثانى عشر : أسئلة متنوعة**

س١) ما أجزاء الطرف العلوى للإنسان ؟ وما عدد العظام المكونة لهذا الطرف ؟

س٢) ما معنى التغذية العصبية للعضلات ؟

س٣) اذكر التغيرات التى تطرأ على كل مما يأتى أثناء انقباض العضلة الهيكلية :  
( المنطقة المضئنة - خيوط الميوسين - المنطقة الداكة - خيوط الأكتين - المنطقة H )

س٤) ما مكان ووظيفة :  
الخلايا العصبية المفردة - خلايا ألفا

س٥) فسر دور هرمونات الغدة النخامية فى اكتمال نمو الجنس للإنسان ؟

س٦) وضح بالرسم الأطوار التى يمكن مشاهدتها خلال فحص عينة دم لصاب بمرض الملاريا .

س٧) وضح بالرسم قطاع فى مبيض أنثى الإنسان موضحاً عليه مراحل التبويض .

س٨) ما دور النبات المشيجى فى تكوين النبات الجراثومى أثناء دورة حياة الفوجير ؟

س٩) وضح بإيجاز مراحل تكوين البويضة فى جنين أنثى الإنسان ؟

س١٠) ما هدف التلقيح والإخصاب فى نبات ( الفوجير - الفول ) ؟

س١١) أى التراكيب الآتية (ن) ، أيها (٢) :

[ الزيغوسبور - خلايا اسبيروجيرا - الطور الحركى للبلازموديوم - الأنثريديا - النبات الجراثومى للفوجير ]

س١٢) ما مصير كل من يعد الإخصاب فى النبات ( البويضة - البويضة - النقيير - المحيطات الزهرية ) .

س١٣) ما المقصود بالجلوكوزيدات والليمفوكينات ؟

س١٤) كيف أمكن زراعة الأنوية من خلال التجارب التى أجريت على أجنة الضفادع ؟

س١٥) وضح بالرسم الجسم المضاد ثم وضح آلية الجسم المضاد فى إبطال مفعول السم ، والترسيب ؟

س١٦) تنتج الاستجابة الالتهابية عن إصابة الخلية بأذى ..

أ- ما دور الهستامين فى الاستجابة الالتهابية ؟

ب- ما الفائدة من استجابة أكثر من نوع من خلايا الدم البيضاء من الاستجابة الالتهابية ؟

س١٧) حدد الدور الذى تؤديه خلايا الذاكرة فى حماية الجسم من الإصابة بالأمراض .

س١٨) كيف يتم عرض الأنتيجين الخاص بالميكروب على سطح الخلايا البلعمية الكبيرة ؟

س١٩) ماذا يحدث عند : معاملة المادة النشطة المسئولة عن التحول البكتيرى بإنزيمى ( ديوكسى ريبو نيوكليز - كولين إستريز ) كل على حده .

س٢٠) ما الدليل على أن الكائنات الموجودة الآن على سطح الأرض قد نشأت من أسلاف مشتركة ؟

س٢١) إذا كان جزيء DNA فى أحد الكائنات يتكون من ٩٠٠ زوج من القواعد .

أ- ما عدد النيوكليوتيدات الموجودة فى هذا الجزيء ؟

ب- ما عدد اللفات بجزيء DNA ؟ ماذا يحدث إذا تلقت قاعدة واحدة بهذا الجزيء ؟

ج- ما عدد الأحماض الأمينية الناتجة عن هذا الجزيء ؟

س٢٢) ما نتيجة حدوث انقسام نووى مع عدم تكوين جدار فاصل بين الخلايا الناتجة ؟ وما أهميته بالنسبة للنبات ؟ وكيف يحدث صناعياً ؟

س٢٣) [ يقوم كل من إنزيم النسخ العكسى وإنزيم البلمرة بدور مهم للحصول على قطع DNA للخلايا المولدة لكرات الدم الحمراء ] ..

وضح هذا الدور من خلال التجربة التى قام بها أحد الباحثين ؟

س٢٤) فى تفاعلات تخليق البروتين أين يحدث كل من :  
أ- ارتباط الناقل ب mRNA . ب- تكوين الريبوسومات .  
ج- نسخ tRNA . د- ترجمة mRNA .

س٢٥) التتابع التالى يوضح تركيب أحد أشربة DNA  
3' ATACACCTCACT 5'

أ- اكتب تتابعات الشريط المكمل من جزيء DNA ؟

ب- اكتب تتابعات mRNA المنسوخ من DNA ؟

ج- ما عدد الأحماض الأمينية التى تترجم من الرسول ؟

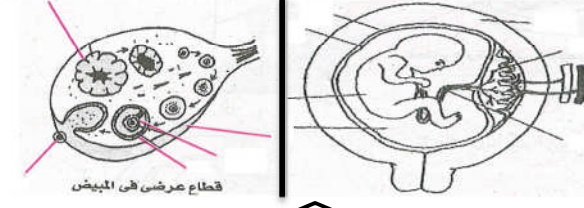
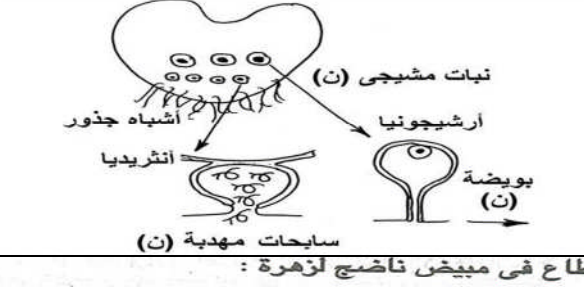
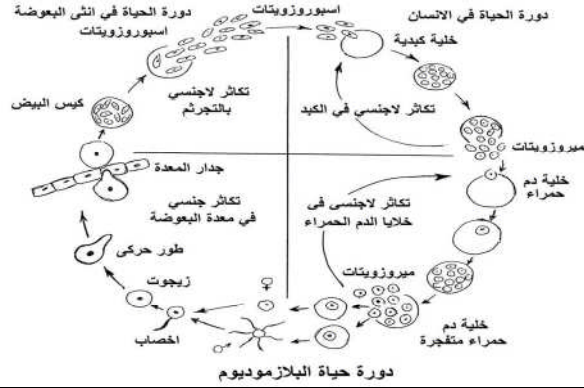
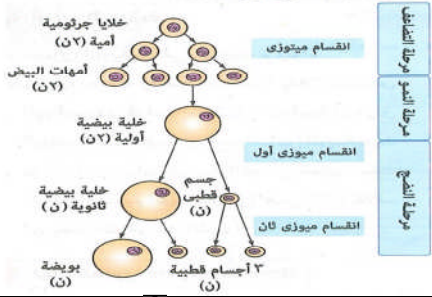
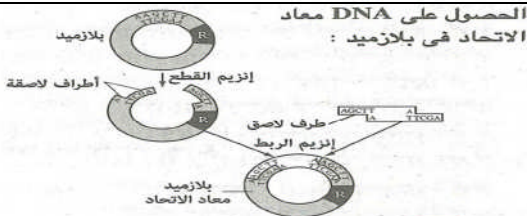
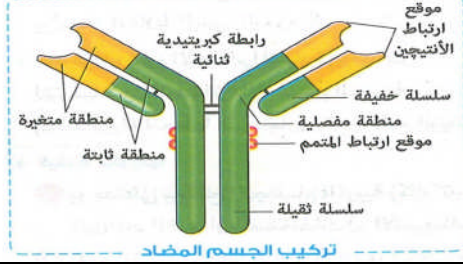
د- ماذا يحدث عند استبدال حمض أمينى بآخر فى سلسلة البروتين الناتجة ؟

س٢٦) عرف الجينوم البشرى ثم اذكر مجالات استخدامه فى علم العقاقير وتحسين السلالات البشرية ؟

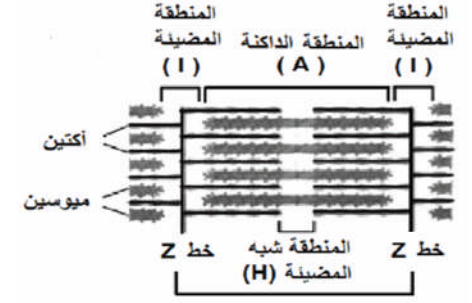
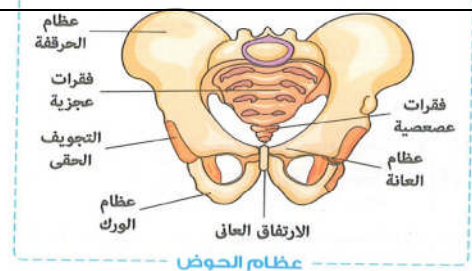
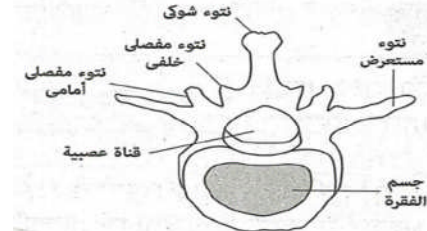
س٢٧) وضح بالرسم ما تراه عند فحص عينة لدم مريض مصاب بالملاريا ؟ وما معنى التكاثر اللاجنسى بالتقطع ؟



# مراجعات ليلة الامتحان في مادة الأحياء للأستاذ / محمد عبد المولى ٠١٠٠٥٢٥٨٢٢٦

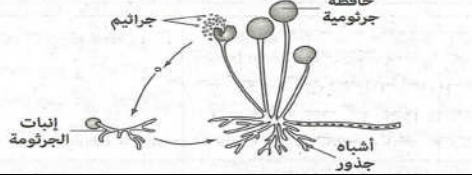


## السؤال الثالث عشر : تركيب فقرة عظمية للإنسان :

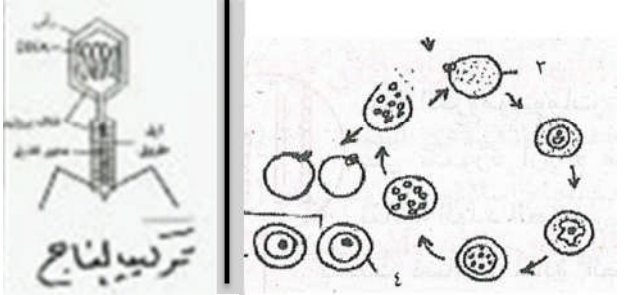


## القطعة العضلية

التكاثر اللاجنسي في فطر عفن الخبز :

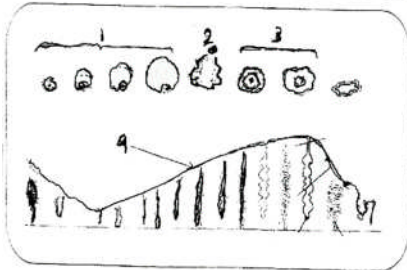


## الاقتران الجانبي في الاسبيروجيرا





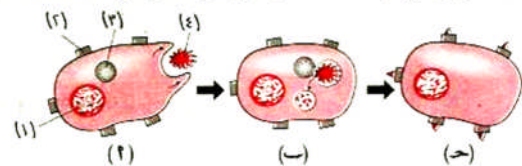
انظر إلى الشكل الذي يعبر عن دورة الطمث في التي الأنثى :



١- اذكر اسم و رقم المرحلة الناتجة عن إفراز هرمون LH .

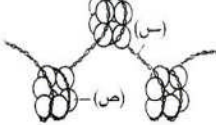
- ٢- اذكر أهمية ما يتكون في نهاية المرحلة رقم (١) .
- ٣- اذكر اسم النضو الذي يقوم بنفس دور العضو المتكون في المرحلة رقم (٣) مع بداية الشهر الرابع إذا حدث حمل .

٤- صف ما يحدث في المرحلة رقم (٢) كما يعبر عنها الشكل ؟



- (١) البيانات التي تشير إليها الأرقام من (١) : (٤) والمراحل (٢) ، (ب) ، (ج) .
- (ب) ما أهمية العضى رقم (٢) ؟
- (ج) ما أهمية بروتين التوافق النسيجي MHC2 ؟
- (د) لماذا ينتقل المركب الناتج عن ارتباط الأنتيجين مع بروتين MHC2 إلى سطح غشاء الخلية البلعمية الكبيرة ؟

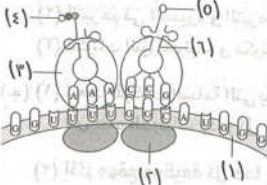
(١) الشكل المقابل يمثل أحد النيوكليوسومات



في خلية حيوانية :

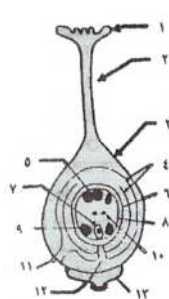
- (١) ما نوع المادة اليراثية (س) ؟
- (ب) ما نوع البروتينات الموجودة في الجزء (ص) ؟
- (ج) كيف يحدث الترابط بين الجزء (ص) والجزء (س) ؟
- (د) ماذا يحدث لو اختفى الجزء (ص) من تركيب النيوكليوسومات ؟
- (هـ) هل يمكن لإنزيمات تضاعف DNA أن تعمل على هذا التركيب ؟ ولماذا ؟

الشكل المقابل يمثل جزء من عملية تخليق

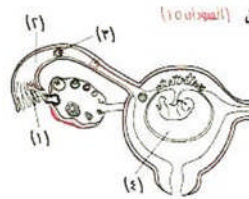


البروتين، أجب عن الأسئلة التالية :

- ١- ما أهمية التركيب رقم (٢) في هذه العملية ؟
- ٢- أين يرتبط الجزء رقم (٢) بالجزء رقم (١) في بداية هذه العملية ؟
- ٣- ما دور التركيب رقم (١) في هذه العملية ؟
- ٤- ماذا يمثل الرقمان (٤) ، (٥) ؟

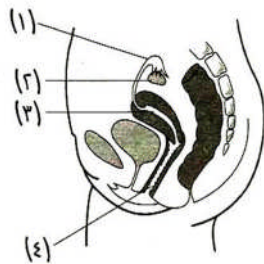


- حدد فقط رقم واسم التركيب الذي :
- ( أ ) بعد إخصابه ينمو مكوناً الجنين .
- ( ب ) يكون غلاف ثمرى .
- ( ج ) يكون غلاف البذرة .
- ( د ) يتحلل بعد تكوين الثمرة والبذرة .
- ( هـ ) يتشعب في التفاح مكوناً الثمرة .
- ( و ) يكون نسيجاً غذائياً لتغذية الجنين في مراحل نموه الأولى .
- ( ز ) يدخل أنبوية اللقاح من خلاله .



(١٦) ادرس الشكل المقابل الذي يوضح مراحل تكوين (البويضات)

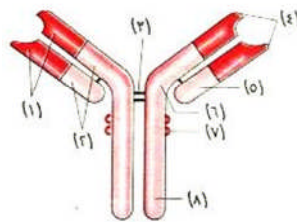
- جنين الإنسان، ثم أجب عن الأسئلة الآتية :
- (١) اذكر اسم العليتين المتلتين بالرقمين (١) و (٢) .
- (ب) اذكر وظيفة التركيب رقم (٤) .
- (ج) ما الذي يحدث عند انسداد التركيب رقم (٢) في كلا الجانبين ؟ وما هي التقنية المستخدمة لعلاج الآثار المترتبة على هذه الحالة ؟



(٧) افحص الشكل المقابل ، ثم أجب عن الأسئلة الآتية :

- أ- اكتب البيانات ١ ، ٣ ، ٤ .
- ب- أين تحدث عملية الإخصاب ؟ وما نتيجته بعد الأسبوع الأول ؟
- ج- ماذا يحدث عند استئصال ( ٢ ) من امرأة حامل في شهرها الثاني ؟

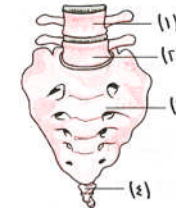
(٨) الشكل المقابل يوضح تركيب



- الجسم المضاد، من خلال هذا الشكل أجب عن الآتي :
- (١) اكتب البيانات التي تشير إليها الأرقام .

- (ب) ما السلاسل الثقيلة ؟ وما السلاسل الخفيفة ؟ وكيف ترتبط ببعضها ؟
- (ج) كيف تختلف الأجسام المضادة عن بعضها ؟
- (د) ما المقصود بالجزء الثابت والجزء المتغير من الجسم المضاد ؟
- (هـ) كيف يتكون مركب معقد من الأنتيجين والجسم المضاد ؟

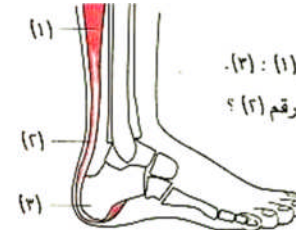
(٩) افحص الشكل المقابل، ثم أجب :




- (١) ما نوع الفقرة رقم (١) ؟ وما رقمها بالنسبة ل فقرات العمود الفقري ؟
- (ب) ما نوع الفصل بين الفقرات رقم (١) ورقم (٢) ؟
- (ج) هل توجد مفاصل غضروفية بين الفقرات في التركيب رقم (٢) والتركيب رقم (٤) ؟ ولماذا ؟

(٩) في الشكل المقابل :

- (١) اكتب البيانات من (١) : (٣) .
- (ب) ما أهمية التركيب رقم (٢) ؟



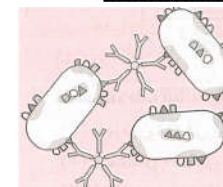
(ب) من الشكل المقابل :



- (١) اكتب البيانات من (١) : (٤) .
- (٢) ما وظيفة كل من التركيبين (٢) ، (٤) ؟
- (٣) ما أثر نقص إفراز التركيب (٤) لهرمونات ؟

قارن بين هذين النباتين في الجدول التالي ، مع كتابة البيانات من ١ - ٦ على الرسم .

| نبات ... ٦ ... في الفوجير | نبات جرومى في الفوجير |
|---------------------------|-----------------------|
| الوصف النباتي .....       | الوصف النباتي .....   |
| عدد الصيغيات .....        | عدد الصيغيات .....    |
| طريقة التكاثر .....       | طريقة التكاثر .....   |
| صورة التكاثر .....        | صورة التكاثر .....    |
| النشأة من .....           | النشأة من .....       |



(ج) (١) ما الذي يوضحه الشكل المقابل ؟ مع الشرح

- (٢) «تمثل الأدمة الخارجية لسطح النبات حائط الصد الأول في مقاومة مسببات المرض»، اشرح هذه العبارة.