

نموذج إجابة النموذج الأول ٢٠١٧ للجغرافيا السياسية للصف الثالث الأدبي

<p>١. تم اختيار نواكشوط كعاصمة لموريتانيا على أساس</p> <p>Ⓐ الدفاع والحماية Ⓑ السيادة القومية Ⓒ سهولة المواصلات Ⓓ العامل التاريخي</p>	
<p>٢. اكتب كلمه (صواب) او كلمه (خطأ) أمام العبارة الآتية مع ذكر السبب في الحالتين تعتبر وظيفة الفصل بين الدول هي الوظيفة الأكثر أهمية للحدود (العبارة خطأ)</p> <ul style="list-style-type: none"> • الحماية والأمن الوظيفة الأكثر أهمية؛ حيث إن الغرض الأساسي من إقامة الحدود هو الأمن والحماية من الاعتداءات المفاجئة؛ حيث تتركز الدفاعات العسكرية على طولها خاصة في القطاعات المعرضة لأخطار الغزو والتهريب، 	
<p>٣. بم تفسر : اثر التقدم التكنولوجي في قوة الدولة</p> <p>التكنولوجيا من أخطر الجوانب البشرية تأثيراً في السلوك السياسي للدول ووزنها على خريطة العالم السياسية</p> <ul style="list-style-type: none"> • نتيجة لاهتمام الدول بالبحث العلمي والدعم المادي له يحدث التقدم التكنولوجي والذي يتبعه تطور في كافة المجالات (الصناعية والزراعية والتجارية . . . إلخ) • فتقدم الصناعة حالياً لم يعد يتحقق حيث توجد مصادر المواد الخام الأولية، ولكن حيث توجد العقول والمهارات، مثل اليابان 	
<p>٤. ماذا يحدث إذا : زادت عمليات النحت والإرساب للأنهار</p> <p>تغير الأنهار مجاريها بشكل مستمر، لذا نجد ضفافها غير ثابتة بسبب الفيضان والنحت والإرساب</p> <p>مثال على ذلك نهر الريبوجراند الذي تسير معه الحدود السياسية بين الولايات المتحدة والمكسيك الذي غير مجراه، فتحولت منطقة بانكو بعد عام ١٨٩٨ م من تبعية الولايات المتحدة إلى المكسيك</p>	
<p>٥. ما النتائج المترتبة على: التغيرات المناخية في غرب أفريقيا على حركة الرعاة</p> <p>حدوث مشكلات في مناطق المراعي، من نفوق ملايين الحيوانات وهجرة السكان إلى المدن أو إلى حرفة الزراعة، وكل ذلك أدى إلى وجود مشاكل سياسية أساسها حرفة الرعي وهجرة الرعاة بين الدول.</p>	
<p>٦. يتفاوت نطاق المياه من ثلاث أميال الى ثلاثمائة ميل بحري وفقاً لظروف كل دولة في ضوء العبارة السابقة وضح</p> <p>أ- زيادة أهمية المياه الإقليمية حديثاً</p> <ul style="list-style-type: none"> • تمارس الدولة سيادتها المطلقة عليه في الصيد والتجارة واستخراج الثروات • بعد اكتشاف العديد من الثروات المدفونة في قاع هذه المسطحات المائية ، كمصايد الأسماك والبتترول والغاز الطبيعي <p>ب- الأهمية الاقتصادية للرصيف القاري</p> <ul style="list-style-type: none"> • وهو امتداد لليابس تحت مياه البحر، ويمتد من خط الساحل حتى عمق ١٠٠ قامة (القامة تساوي ١٨٢ سم)، وللدولة حق استكشاف الموارد الاقتصادية المائية والمعدنية الموجودة به واستغلالها • ظهرت قيمته بعد الاكتشافات البترولية الهائلة أمام سواحل بعض الدول في بحر الشمال والخليج العربي وخليج المكسيك <p>ج - أسباب النزاع بين تونس وليبيا</p> <p>النزاع القائم بين ليبيا وتونس عند تحديد الرصيف البحري بين الدولتين بعد ظهور حقول الغاز والبتترول</p> <ul style="list-style-type: none"> • حيث طالبت ليبيا أن يتجه الحد البحري إلى الشمال مباشرة في مياه هذا الرصيف • وطالبت تونس بحد بحري ينحرف شرقاً بزواوية مقدارها ٤٥ درجة تقريباً • وأصدرت محكمة العدل الدولية حكماً بأن يسير الحد البحري بين الدولتين بزواوية ٢٦ درجة ثم بعد ذلك بزواوية ٥٢ درجة، ويرجع ذلك إلى وجود الجزر التونسية وتغير اتجاه خط الساحل التونسي وبهذا الحكم أصبحت تونس حقوق أساسية في حقول الغاز والبتترول في هذه المنطقة. 	
<p>٧. - إمامك خريطة صماء لمصر، وقع عليها مايلي :</p> <p>١- حد هندسي يسير مع دائرة عرض (٢٢)</p> <p>٢- ممر استراتيجي (قناة السويس)</p> 	

٨. دوله ذات حدود بحيرية وتعد من الدول الحبيسة دوله

أوغندا (أ) إثيوبيا (ب) تنزانيا (ج) كينيا (د)

٩. اكتب كلمه (صواب) او كلمه (خطأ) أمام العبارة الآتية مع ذكر السبب في العاتين من مقومات التكامل الاقتصادي والتنوع والتشابه بين الدول (العبارة صحيحة)

- تنوع الموارد الاقتصادية وهي عامل أساسي لنجاح التكتلات الاقتصادية
- تشابه العادات والتقاليد (الخصائص الثقافية) لسكان الدول يعد عاملاً مهماً يشجع على قيام التكتل واستمراره
- تشابه المستوى التكنولوجي متقارب بين دول التكتل يساعد على أن تعم الفائدة كل الدول الأعضاء دون استثارة دولة من دول التكتل بمزايا التكتل
- تشابه النظم السياسية بين الدول المكونة للتكتل لان الاختلاف يؤدي إلى فشلها في حال قيامها

١٠. بم تفسر : تتعدد أسباب الهجرة القسرية

١. حدوث الكوارث الطبيعية كالفيضانات أو الزلازل ،
٢. دوافع قومية أسمى، كتهجير أهالي النوبة من منطقتهم جنوب أسوان إلى أماكن أخرى بسبب إنشاء السد العالي
٣. الصراعات والنزاعات المسلحة سواء دولية أو محلية (الحروب الأهلية) الأمر الذي يضطر بعض السكان إلى الهجرة القسرية إلى دول الجوار حتى تحريرها وهو ما يطلق عليهم (اللاجئون)

١١. ماذا يحدث إذا : لم يوجد نظام نقل متطور ومتكامل في الدولة

- ١- عدم نجاح خطط التنمية واستغلال مواردها بشكل فعال.
- ٢- صعوبة سيطرة الحكومة على الأمور الإدارية والسياسية في جميع أنحاء الدولة.
- ٣- صعوبة حركة جيش الدولة وقت الحرب ونقل الإمدادات عند تعرضها للكوارث.

١٢. ما النتائج المترتبة على: المساحة الكبيرة للدولة (على قوتها)

الآثار الإيجابية للمساحة الكبيرة في قوة الدولة

- ١- تزيد من احتمالية التنوع في التركيب الجيولوجي، والذي يعني تنوعاً في الموارد المعدنية

مثل: دول روسيا الاتحادية والصين.

- ٢ - تتيح للدولة أن تتبنى نظرية الدفاع بالعمق.
- ٣- تساعد في ظل الإمكانيات الاقتصادية على أن تضم عدداً كبيراً من السكان الذين يمكنهم استغلال هذه الموارد
- ٤ - تتيح للدولة وقت الحرب فرصة إبعاد مصانعها وسكانها عن المناطق المهتدة بالعدوان إلى مناطق آمنة.

الآثار السلبية للمساحة الكبيرة

المساحة الكبيرة للدولة تحتاج إلى جهود وإمكانيات كبيرة لتطويرها وحمايتها والسيطرة على أجزائها المترامية الأطراف

١٣. قارن بين كل من : موقف الامم المتحدة من مشكله كشمير ومشكله سيته ومليله

مقترحات الأمم المتحدة لحل نزاع كشمير :

- وقف إطلاق النار .
- تجريد كشمير من السلاح وسحب القوات المتحاربة إلى مواقعها قبل بدء القتال .
- إجراء استفتاء محايد تحت إشراف الأمم المتحدة لتقرير المصير على أساس إما الاستقلال عن الدولتين أو الانضمام لإحدهما .

مشكله سبتيه ومليله

عرض المغرب هذه المشكله رسمياً على الأمم المتحدة عام ١٩٧٥ م باعتبارها أرض يجب تصفية الاستعمار منها، ولكن أسبانيا رفضت، وطالب مجلس الأمن من أسبانيا والمغرب تسوية الخلافات عن طريق الحوار.

١٤. اوجه التشابه والاختلاف بين الدولة والامة.

الشبه	الدولة	الامة
	يتشابهان في عناصر التكوين من أرض وشعب.	
الاختلاف	١- تمثل السلطة (الحكومة) ركن أساسي من أركانها	١- لا تتطلب وجود سلطة حاكمة.
	٢- يمكن أن تتعدد اللغات والعادات والتقاليد داخل الدولة الواحدة.	٢- العادات والتقاليد المشتركة واللغة الواحدة من العناصر الأساسية للامة. مثل :الامة العربية.
	مثل :دولة سويسرا والتي بها أربع لغات رسمية (الإيطالية والألمانية والفرنسية والرومانية).	

١٥. الجهة الرئيسية لاتخاذ القرار للاتحاد الاوروبي هي

المفوضية الأوروبية (أ) مجلس الاتحاد الأوروبي (ب) البرلمان الأوروبي (ج) المجلس الأوروبي (د)

١٦- امامك خريطة لقارة أفريقيا وضع عليها مدلول الارقام



- ١- دولة حبيسه
٢- المحيط الاطلسي
٣- مضيق باب المندب
٤- دولة مندمجه ذات بروز الكونغو

١٧- اكتب كلمه (صواب) او كلمه (خطأ) امام العبارة الاتيه مع ذكر السبب في الحاتين
يختلف تأثير الاقليه في الدوله حسب الانتشار الجغرافي
(العبارة صحيحة)

- فإذا كانت الأقلية منتشرة ومبعثرة في أنحاء الدولة وسط الأغلبية يكون تأثيرها محدوداً أو حتى معدوماً، خاصة في حالة مطالبتها بالانفصال عن الدولة الأم.
- أما إذا كانت مركزة جغرافياً في مكان ما في الدولة خاصة على أطراف الدولة ، هنا تكون مطالبتها خطراً على استقرار الدولة، خاصة إذا كانت هناك قوى مجاورة تشجع هذه الأقلية في مطالبها
مثال ذلك: الباسك في إسبانيا، سكان تيمور الشرقية في إندونيسيا

١٨- بم تفسر : يسهم التنوع المناخي في درجة الاكتفاء الذاتي للدول

- يسهم التنوع المناخي للدول في الاقتراب من درجة الاكتفاء الذاتي
- حيث التنوع في الإنتاج الزراعي الذي يعمل على تنوع الأنشطة الاقتصادية مما يؤدي إلى التكامل بين أقاليم الدولة وتعزيز وحدتها الوطنية
تمثل الولايات المتحدة الأمريكية نموذجاً لهذا التكامل حيث تتعدد فيها الأقاليم المناخية

١٩- ماذا يحدث : وجدت قوة عسكرية للتكتل الاقتصادي

- وجود قوة عسكرية لدى الدول أعضاء التكتل حال قيامه تعد من مقومات نجاحه واستمراره.
- التكتل الاقتصادي يواجه منافسة من الدول الأخرى أو من التكتلات الاقتصادية الأخرى وبعض هذه المنافسات ينتج عنها نزاعات قد تلجأ فيها التكتلات الاقتصادية إلى استخدام القوة أو التلويح باستخدامها.

٢٠- ما النتائج المترتبة علي: صدور الاعلان العالمي لحقوق الانسان ١٩٤٨ م

- اهتمت العديد من المؤسسات والمنظمات الدولية بحقوق الأقليات خاصة في السنوات الأخيرة ومنها منظمة الأمم المتحدة التي أصدرت الإعلان العالمي لحقوق الإنسان عام ١٩٤٨ م والذي اهتم
- ✓ بقضية التمييز بين البشر وبحقوقهم المدنية والسياسية والاقتصادية والاجتماعية والثقافية
- ✓ وتضمن كافة الضمانات الدولية للأفراد ، وخاصة نص المادة ٢٧ من الإعلان التي تنص صراحة في وثيقة منفصلة على ما يلي
- (لايجوز في الدول التي توجد فيها أقليات عرقية أو دينية أو لغوية أن يحرم الأشخاص المنتمون إلى الأقليات المذكورة من حق التمتع بثقافتهم الخاصة وإقامة شعائرهم أو استخدام لغتهم .)

٢١- قارن بين : خصائص كل من النظام الرئاسي – النظام البرلماني

النظام البرلماني	النظام الرئاسي
يتميز النظام البرلماني بسمات عدة أهمها: ١- وجود برلمان هو مصدر السلطة والتشريع ومنتخب من الشعب. ٢- وجود رئيس أو ملك (يسود ولا يحكم) ٣- رئيس الوزراء هو الذي يتولى مسؤولية الحكم (ينتخب من الشعب). وتعد المملكة المتحدة نموذجاً لهذا النظام.	يقوم النظام الرئاسي على الآتي: ١- الرئيس هو رأس الدولة (يسود ويحكم) ٢- السلطة التنفيذية مستقلة عن السلطة التشريعية. ٣- السلطة التشريعية تقوم وحدها بالتشريع في الدولة ٤- السلطة القضائية مستقلة عن باقي السلطات. ويلاحظ في هذا النظام الاستقلال الكامل للسلطات الثلاث من ناحية ، لكل سلطة في اختصاصها من ناحية أخرى النموذج الأشهر لذلك هو النظام الرئاسي الأمريكي.

٢٢- ما المقصود بالقانون الدولي القواعد القانونية التي تنظم علاقات الدول ببعضها البعض وعلاقتها بالتنظيمات الدولية.

٢٣- اكتب كلمه (صواب) او كلمه (خطأ) امام العبارة الاتيه مع ذكر السبب في الحاتين
تختلف الخصائص السكانية في مجلس التعاون لدول الخليج العربي
(العبارة خطأ)

- يتمتع سكان دول مجلس التعاون بخصائص مشتركة زادت من تلاحمهم، وأهمها
- ١- الدين (الديانة الإسلامية). ٢- اللغة (اللغة العربية). ٣- الجوار. ٤- التاريخ المشترك. ٥- العادات والتقاليد.

٢٤ أول من استخدم مصطلح الجيوبولتيك هو

١ كيلين (ب) راتزل (ج) ماهان (د) ماكيندر

٢٥ بم تفسر : لا يوجد نظام حكم مثالي على مستوى العالم

• ذلك لأن المجتمعات تختلف حضارياً وجغرافياً وثقافياً، ولكل منها تجربته الخاصة

٢٦ ما النتائج المترتبة على: ارتفاع أعداد فئه صغار السن في الدول النامية

• الدول التي ترتفع فيها نسبة الأطفال دون سن الخامسة عشرة ونسبة كبار السن بسبب لها مشكلة في ارتفاع معدل الإعالة

٢٧ أيهما أفضل من وجهة نظرك الحدود الجبلية ام الحدود النهرية ؟ ولماذا ؟

الحدود الجبلية أفضل

١. ظاهرة دائمة ومرئية وعريضة وعرة وقليلة السكان، ويقتصر عبورها على ممرات معينة، كل هذه الصفات جعلتها صالحة لتكون حدوداً فاصلة بين الدول.

٢. تعتبر بمثابة خطوط دفاعية تستغلها الدول في إقامة التحصينات عليها للدفاع عن نفسها ضد أي غزو خارجي

الحدود النهرية لها عيوب

١. الأنهار تغير مجاريها بشكل مستمر، لذا نجد ضفافها غير ثابتة بسبب الفيضان والنحت والإرساب، مثال على ذلك نهر الريبوجراند الذي تسير معه الحدود السياسية بين الولايات المتحدة والمكسيك الذي غير مجراه، فتحوّلت منطقة بانكو بعد عام ١٨٩٨ م من تبعية الولايات المتحدة إلى المكسيك

٢. وجود جزر في مجرى النهر قد يعوق تحديد الحد السياسي.

٢٨ قارن بين كل من : آراء أرسطو وآراء ابن خلدون في الجغرافيا السياسية

٢ - عبد الرحمن بن ابن خلدون

• من أبرز المفكرين المسلمين
• أضاف للفكر الجغرافي في مقدمته الشهيرة (مقدمة التاريخ). ركز فيها على أهم ظاهرتين في البناء السياسي بالعالم العربي هما (القبيلة والمدنية)
• وضع الإطار العام الذي عرف باسم دورة حياة الدولة وهي (النشأة - الثبات - التلّج - الأضمحلال)
• تحدث عن عوامل قيام الدولة ونهضتها وسقوطها.

١ - أرسطو

• يعد من أشهر من كتب في الجغرافيا السياسية قديماً
• تناول مؤلفه (السياسة) الدولة المثالية و حد عناصرها في خمسة موضوعات هي (عدد السكان - مواردها الاقتصادية - العاصمة - الجيش - الحدود السياسية)
• حد مدي قوة الدولة او ضعفها كمركب سياسي في (عد السكان - الموارد الاقتصادية و العلاقة بينهما)
• ناقش موضوع الحدود السياسية المحصنة
• اهتم بموقع الدولة الجغرافي و تأثير المناخ عليها

٢٩ ما المقصود بالحدود السياسية؟

خطوط ترسم على الخريطة تحدد الرقعة الأرضية التي تمارس عليها الدولة هذه السيادة، وتنتهي عندها سيادتها وتبدأ سيادة دولة أخرى، ولا بد أن تعترف بهذه الحدود الدول المجاورة والمجتمع الدولي.

٣٠ حدد أهداف الجغرافيا السياسية

١- دراسة الوحدات السياسية (الدولة) من حيث ملامحها الجغرافية (الطبيعية - البشرية)
٢- تحديد عناصر القوة والضعف للوحدات السياسية.
٣- تحليل التجمعات الإقليمية والعالمية تحليلاً (جغرافياً) موضوعياً
٤- التعريف بالمشكلات السياسية وتحليلها واقتراح حلول مناسبة لها ومن أمثلة ذلك:
• دور الجغرافيين في الحرب العالمية الأولى والثانية في رسم الحدود السياسية الحديثة في أوروبا.
• دور الجغرافيا في الدفاع عن حق مصر في قضية طابا.
٥- توفير البيانات والمعلومات اللازمة لاتخاذ القرارات السياسية والعسكرية ذات الأبعاد المكانية (الجغرافية).

٣١ اختار: تتماشى الحدود السياسية بين فرنسا وألمانيا مع امتداد نهر

١ الرون (ب) اللوار (ج) السين (د) الراين

٣٢ - اكتب كلمه (صواب) او كلمه (خطأ) أمام العبارة الآتية مع ذكر السبب في الحاتين

حصلت الصين على مقعد دائم في مجلس الأمن لتقلها الاقتصادي والعسكري (العبارة خطأ)

دولة بوزن الصين السكاني احتلت مقعداً دائماً في مجلس الأمن بعد الحرب العالمية الثانية

ولم تكن الصين ذات ثقل اقتصادي أو عسكري يؤهلها لشغل المقعد إلا حجم سكانها (أقل قليلاً من ربع سكان العالم).

نموذج إجابة النموذج الثاني ٢٠١٧ للجغرافيا السياسية للصف الثالث الأدبي

١.	الحد التضاريسي بين فرنسا واسبانيا يتمشى مع جبال	أ) الهيمالايا	ب) الانديز	ج) الالب	د) البرانس
٢.	دلل على صحة أو خطأ العبارة الآتية : تؤثر التضاريس في قوة الدولة تعد المظاهر التضاريسية من العوامل المؤثرة في قوة الدولة ويرجع ذلك إلى:	(العبارة صحيحة)			
	١ - تؤثر التضاريس في النواحي العسكرية فهي التي تحدد سير العمليات العسكرية. ٢ - تؤثر التضاريس في مدى استثمار موارد الدولة المائية والمعدنية. ٣ - تؤثر التضاريس في الأنشطة البشرية وتوزيع السكان في الدولة.				
٣.	بم تفسر : لجوء بعض دول العالم الى الاعتراف بلغه الاقليه تلجأ بعض الدول للاعتراف بحرية الأقليات في استخدام لغتها القومية خوفا من مطالبة تلك الأقليات بالاستقلال عن الدولة، كالأكراد في شمال العراق في الوقت الحالي				
٤.	ما العلاقة بين : الجغرافيا السياسية ونظام الاستشعار عن بعد أدى الاستشعار عن بعد وما يستخدمه من وسائل التصوير الجوي والفضائي الحديثة وأجهزة تحديد المواقع GPS وغيرها إلى توفير مرئيات فضائية ومعلومات أكثر دقة عن الكثير من المجالات التي تهتم بها الجغرافيا السياسية مثل:	١. الحدود السياسية بين الدول. ٢. الممرات الملاحية والمياه الإقليمية للدولة. ٣. مناطق النزاعات بين الدول .			
٥.	ما النتائج المترتبة على: التنوع المناخي في الدولة يسهم التنوع المناخي للدولة في الاقتراب من درجة الاكتفاء الذاتي • حيث التنوع في الإنتاج الزراعي الذي يعمل على تنوع الأنشطة الاقتصادية مما يؤدي إلى التكامل بين أقاليم الدولة وتعزيز وحدتها الوطنية تمثل الولايات المتحدة الأمريكية نموذجا لهذا التكامل حيث تتعدد فيها الأقاليم المناخية				
٦.	اكتب المفهوم الجغرافي الدال على الآتي : دوله لها حكومة واحدة ومجلس نيابي واحد وتسيطر فيها الحكومة على جميع السلطات. الدولة الوحيدة (المركزية)				
٧.	تحدد الحدود السياسية الرقعة الأرضية التي تفرض عليها الدولة سيادتها " في ضوء العبارة السابقة وضح أ- ما أهمية وجود الحدود بين الدول ؟ • الحدود السياسية تحدد ما يلي: ١ - المساحة الأرضية التي تفرض الدولة عليها سيادتها. ٢ - الموارد الأرضية السطحية والباطنية والبحرية التي تسيطر عليها الدولة وتدخل ضمن حدودها. ٣ - المجال الجوي والبحري التابع لسيادة الدولة • تقوم بوظائف ١ - الفصل بين الدول ٢ - الحماية والأمن ٣ - الحماية الاقتصادية ٤ - الوظيفة السياسية والقانونية للحد ب- ما مراحل تحديد وترسيم الحدود السياسي ١ - التعريف والتخطيط ٢ - التحديد (على الخريطة) ٣ - التعيين (في الطبيعة) ٤ - إدارة الحد : ج - قارن بين : الحدود السياسية والتخوم ؟				
	الحدود السياسية	التخوم			
	عبارة عن خطوط تفصل بين الدول بعضها وبعض ولا يتعدى عرضها بضع بوصات أحيانا.	مناطق جغرافية لها مساحة لها طول وعرض (كالغابات والصحارى).			
	ظاهرة بشرية.	ظاهرة جغرافية			
	ظاهرة قانونية شرعية تحدد حقوق وواجبات جانبي الحد السياسي من خلال اتفاقية أو معاهدة.	ليس لها أساس قانوني أو معاهدة تحدد إطارها المكاني بدقة.			
	ظاهرة قابلة للنقل والحركة والتغير بل والاختفاء في حالات كثيرة.	ظاهرة ثابتة في المكان لا تتغير بتغير الظروف أي لا يمكن تحريكها.			
	لا تظهر بها موارد طبيعية لأنها مجرد خطوط.	تضم أحيانا موارد طبيعية لأنها بطبيعتها لها مساحة كالغابات والجبال.			
	د - ما العلاقة بين التطور التكنولوجي ووظائف الحدود؟ • ساهمت التقنية الحديثة بدور كبير في حماية الحدود من خلال المراقبة الجوية والأقمار الصناعية، • وأثرت التطورات الحديثة التي طرأت على وسائل الحرب خاصة في مداها وسرعتها وفاعلية تدميرها وتخطيطها للعقبات خاصة العقبات الطبيعية كالجبال على وظيفة الحد الأمنية، وبذلك تسقط نظرية الحد الأمن.				

٨. امامك خريطة للامريكيتين ، اكتب ما تدل عليه الارقام التي على الخريطة :



١	دوله فيدراليه	• البرازيل
٢	دوله بها مراعى طبيعيه	• الارجنتين
٣	حد نهري	• ريوجراند
٤	مسطح مائى	• المحيط الهادى
٥	حد طبيعى	• البحيرات العظمى

٩. اكثر قارات العالم من حيث عدد الدول الحبيسة قارة

أ	أوروبا	ب	أفريقيا	ج	اسيا	د	امريكا الجنوبية
---	--------	---	---------	---	------	---	-----------------

١٠. **دلل على صحة او خطأ العبارة الآتية:**
تمارس الدولة سيادتها الكاملة على المياه التكميلية
 العبارة خطأ
 تمارس الدولة فى هذه المياه سلطات جمركية واجراءات خاصة بالرقابة والإشراف الضروريين؛ لتحقيق الأمن والسلامة لها للمحافظة على مصالحها الحيوية وسيادة الدولة عليها مشروطة بأمن وسلامة الدولة المجاورة لها.

١١. **بم تفسر : اهمية المياه الإقليمية للدولة**
 • تضم المياه الإقليمية النطاق البحري الممتد من خط الساحل وتحدد حافته الخارجية من جهة البحر الحد السياسي البحري للدولة وتمارس الدولة سيادتها المطلقة عليه فى الصيد والتجارة واستخراج الثروات
 • بعد اكتشاف العديد من الثروات المدفونة فى قاع هذه المسطحات المائية ، كمصايد الأسماك والبتترول والغاز الطبيعي

١٢. **ما العلاقة بين كل من : زيادة عدد السكان وقوة الدولة**
 • يعد حجم سكان الدولة من مقوماتها البشرية، ومقياساً لقوتها ووزنها السياسي إذا توافرت لها المقومات الأخرى فالدول العظمى فى العالم هى دول ذات حجم سكاني كبير، مثل الولايات المتحدة ، والصين، وروسيا الاتحادية؛ فالكثرة العددية لسكان تلك الدول مع توافر عدد من المقومات الأخرى مكنها من بناء قوتها السياسية والعسكرية، فأصبحت تؤدي دوراً مهماً فى السياسة الدولية للعالم.

مميزات الحجم الكبير للسكان

١. إعداد جيوش عسكرية ضخمة كالجيش الأمريكي والصيني.
٢. توفير قوى بشرية عاملة فى مختلف القطاعات.
٣. تتيح فرص ظهور المبدعين فى مختلف المجالات

١٣. **ماذا يحدث اذا : حققت التكتلات الاقتصادية اهدافها**

١. تيسير الاستفادة من المراكز البحثية ومهارات الفنيين بأفضل صورة
٢. الحصول على مزايا الإنتاج الكبير وتحقيق التكامل بين الدول الأعضاء
٣. تسهيل عملية التنمية الاقتصادية وإقامة مشروعات مشتركة
٤. تنويع الإنتاج بطريقة اقتصادية
٥. تحقيق الوحدة ورفع مستوى رفاهية المواطنين
٦. تخفيف أثر الصدمات الخارجية بتقليل الاعتماد على الخارج وذلك بزيادة مستوى التنويع الإنتاجي فى دول التكتل.

١٤. **اوجه التشابه والاختلاف بين الجيوبولوتيك والجغرافيا السياسييه**

- **الشبه**
- **الاختلاف**

الجغرافيا السياسية	الجيوبولتيك
تهتم بدراسة الوحدات السياسية بتحليل بينتها الطبيعية والبشرية والاقتصادية لتوضيح أثر ذلك على السلوك السياسي للدولة.	١. تقوم بنفس الدراسة، ولكن من وجهة نظر الدولة الذاتية ومطالبها فى مجال السياسة الخارجية.
تدرس الكيان القائم للدولة كما هو فعلاً.	٢. ترسم تصوراً لما يجب أن تكون عليه الدولة.
تدرس الدولة ككيان استراتيجي (ثابت).	٣. تنظر الدولة ككيان حي

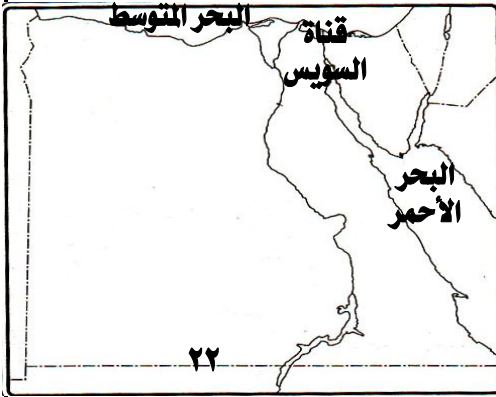
١٥. اكتب كلمه (صواب) او كلمه (خطأ) امام العبارة الاتيه مع ذكر السبب في الحاتين
الوحدة الاقتصادية هي غايه التكامل الاقتصادي بين الدول
(العبارة خطأ)

• الاندماج الاقتصادي الكامل. غايه التكامل الاقتصادي بين الدول في الهدف النهائي للتكامل

١٦. ايهما افضل من وجهة نظرك تعدد دوائر العرض ام تعدد خطوط الطول في الدولة ؟ ولماذا ؟
الموقع بالنسبة لدوائر العرض فهو الأكثر أهمية لعدة أسباب
١. تحديد الملامح العامة لمناخ الدولة.
٢. يؤثر في النشاط البشري للسكان.

١٧. يتمثل الحد بين بولندا وبيلاروسيا واوكرانيا في نهر

الرون (أ) الراين (ب) يوج (ج) السين (د)



١٨. امامك خريطة صماء لمصر، وقع عليها مايلي :

- ١- دائرة عرض ٢٢ درجة شمالا
- ٢- حد طبيعي
- ٣- ممر مائي

١٩. دتل على صحه او خطأ العبارة الاتيه:

رسمت الحدود بين الهند وباكستان على اساس لغوى

• الدين عنصر حضارى مهم قد يستخدم لتحديد الحدود بين الدول مثل الحدود بين الهند وباكستان على اساس ديني

٢٠. بم تفسر : أدت سياسه جورباتشوف الى قيام المانيا الموحدة؟

- فشلت سياسته في إيجاد نظام أكثر تطوراً، وبدأت النزعة الانفصالية تظهر بين الجمهوريات السوفيتية من ناحية، ودول حلف وارسو من ناحية أخرى.
- وكان عام ١٩٩٠ م عام بداية تسارع التفريات حيث: - هُدم سور برلين، وأعلنت الوحدة الألمانية

٢١. ما العلاقة بين : القوة العسكرية والأمن القومي في الدولة

تعد القوة العسكرية أساساً لتحقيق الأمن القومي للدولة وحماية مواردها وحدودها الجغرافية
اهم عناصر القوة العسكرية

- ١- حجم القوة البشرية العسكرية سواء العاملة أو الاحتياط.
- ٢ - نوعية المقاتل ودرجة تعلمه وإخلاصه ودوافعه
- ٣ - مقدار المعدات العسكرية ومعدات القتال الرئيسية.
- ٤ - الإنفاق العسكى الذى تنفقه الدولة من دخلها القومي.
- ٥ - حجم المعونات العسكرية الخارجية والتي تؤثر بصورة مباشرة على حجم الإنفاق العسكى.
- ٦ - كفاءة جهاز المخابرات الحربية

٢٢. ما النتائج المترتبة على : وجود نظام نقل متطور في الدولة

يؤدى وجود نظام نقل متطور ومتكامل داخل الدولة إلى:

- ١- نجاح خطط التنمية واستغلال مواردها بشكل فعال .
- ٢- يسهل سيطرة الحكومة على الأمور الإدارية والسياسية فى جميع أنحاء الدولة .
- ٣- يسهل حركة جيش الدولة وقت الحرب ونقل الإمدادات عند تعرضها للكوارث .

٢٣. اوجه الشبه والاختلاف بين النظام الرئاسي - النظام البرلماني

النظام البرلماني

يتميز النظام البرلماني بسمات عدة أهمها:
١- وجود برلمان هو مصدر السلطة والتشريع ومنتخب من الشعب.
٢- وجود رئيس أو ملك (يسود ولا يحكم)
٣- رئيس الوزراء هو الذى يتولى مسئولية الحكم (ينتخب من الشعب).
وتعد المملكة المتحدة نموذجاً لهذا النظام.

النظام الرئاسي

يقوم النظام الرئاسي على الآتي:

- ١- الرئيس هو رأس الدولة (يسود ويحكم)
- ٢- السلطة التنفيذية مستقلة عن السلطة التشريعية.
- ٣- السلطة التشريعية تقوم وحدها بالتشريع فى الدولة
- ٤- السلطة القضائية مستقلة عن باقى السلطات.

ويلاحظ فى هذا النظام

الاستقلال الكامل للسلطات الثلاث من ناحية، لكل سلطة فى اختصاصها من ناحية أخرى
النموذج الأشهر الرئاسي الأمريكى.

٢٤.	<p>اكتب المفهوم الجغرافي الدال على الآتي : حلف تأسس لمواجهة تهديدات حلف شمال الأطلسي. حلف وارسو</p>								
٢٥.	<p>دلل على صحة أو خطأ العبارة الآتية: خففت نشأة حلف شمال الأطلسي من حدة الحرب الباردة بين الشرق والغرب العبارة خطأ من الأثر الدولي والإقليم لحلف الناتو زيادة حدة الحرب الباردة بين المعسكرين الشرقي والغربي، إذ أنشأ الاتحاد السوفيتي حلف وارسو لمواجهة حلف شمال الأطلسي</p>								
٢٦.	<p>أشهر نماذج النظام شبه الرئاسي دولة</p> <table border="1" data-bbox="135 347 1396 414"> <tr> <td>أ</td> <td>المملكة المتحدة</td> <td>ب</td> <td>فرنسا</td> <td>ج</td> <td>الولايات المتحدة</td> <td>د</td> <td>روسيا</td> </tr> </table>	أ	المملكة المتحدة	ب	فرنسا	ج	الولايات المتحدة	د	روسيا
أ	المملكة المتحدة	ب	فرنسا	ج	الولايات المتحدة	د	روسيا		
٢٧.	<p>بم تفسر : تتعدد مؤشرات القوة العسكرية للدولة؟ بعد القوة العسكرية أساساً لتحقيق الأمن القومي للدولة وحماية مواردها وحدودها الجغرافية أهم عناصر القوة العسكرية</p> <ol style="list-style-type: none"> ١ - حجم القوة البشرية العسكرية سواء العاملة أو الاحتياط. ٢ - نوعية المقاتل ودرجة تعلمه وإخلاقه ودوافعه ٣ - مقدار المعدات العسكرية ومعدات القتال الرئيسية. ٤ - الإنفاق العسكري الذي تنفقه الدولة من دخلها القومي. ٥ - حجم المعونات العسكرية الخارجية والتي تؤثر بصورة مباشرة على حجم الإنفاق العسكري. ٦ - كفاءة جهاز المخابرات الحربية 								
٢٨.	<p>ما النتائج المترتبة على : زيادة أعداد الهجرة الغير شرعية نهاية القرن العشرين</p> <ul style="list-style-type: none"> وقد شهدت ظاهرة الهجرة غير الشرعية ارتفاعاً ملحوظاً مع نهاية القرن العشرين وأوائل القرن الحادي والعشرين نتيجة تدهور الظروف الاقتصادية والاجتماعية والأمنية تطور هذه الظاهرة أصبح هاجساً يشغل معظم الدول نظراً للانعكاسات السلبية على المجتمع في مختلف الجوانب <table border="1" data-bbox="119 907 1396 1366"> <tr> <td data-bbox="119 907 287 1097">الجانب السياسي والأمني</td> <td data-bbox="287 907 1396 1097"> <p>تدفق المهاجرين غير الشرعيين للدولة يعد منع تهديد لأنها</p> <ul style="list-style-type: none"> • مرتبطة دائماً بأشكال مختلفة من الجريمة المنظمة • تسهل للمنظمات الإجرامية والعصابات المعادية بالتوغل إلى داخل البلاد أو العكس (أفلا الإرهابيين) • تنامي الصراعات القبلية الطائفية بين المهاجرين </td> </tr> <tr> <td data-bbox="119 1097 287 1176">الجانب الاجتماعي</td> <td data-bbox="287 1097 1396 1176"> <ul style="list-style-type: none"> • حيث تخل بالتوازن الديمجرافي مهددة بذلك مواطني الدولة أو المنطقة • كما أن تعدد الجنسيات ينتج عنه انتشار بعض العادات المخالفة لقيم المجتمع. </td> </tr> <tr> <td data-bbox="119 1176 287 1288">الجانب الاقتصادي</td> <td data-bbox="287 1176 1396 1288"> <p>إن الأعداد الهائلة من المهاجرين غير الشرعيين المتواجدين في الدولة يؤثر سلبياً على التنمية الاقتصادية اصبحوا يشكلون أيدي عاملة رخيصة تتزايد و تؤدي إلى سوق العمل غير الشرعي مما يؤثر على الأيدي العاملة المحلية</p> </td> </tr> <tr> <td data-bbox="119 1288 287 1366">الجانب الصحي</td> <td data-bbox="287 1288 1396 1366"> <p>حيث تؤدي الهجرة غير الشرعية إلى نقل الأوبئة والأمراض الفتاكة سريعة الانتشار مما يشكل تهديداً للمناطق التي يفد إليها الأفراد</p> </td> </tr> </table>	الجانب السياسي والأمني	<p>تدفق المهاجرين غير الشرعيين للدولة يعد منع تهديد لأنها</p> <ul style="list-style-type: none"> • مرتبطة دائماً بأشكال مختلفة من الجريمة المنظمة • تسهل للمنظمات الإجرامية والعصابات المعادية بالتوغل إلى داخل البلاد أو العكس (أفلا الإرهابيين) • تنامي الصراعات القبلية الطائفية بين المهاجرين 	الجانب الاجتماعي	<ul style="list-style-type: none"> • حيث تخل بالتوازن الديمجرافي مهددة بذلك مواطني الدولة أو المنطقة • كما أن تعدد الجنسيات ينتج عنه انتشار بعض العادات المخالفة لقيم المجتمع. 	الجانب الاقتصادي	<p>إن الأعداد الهائلة من المهاجرين غير الشرعيين المتواجدين في الدولة يؤثر سلبياً على التنمية الاقتصادية اصبحوا يشكلون أيدي عاملة رخيصة تتزايد و تؤدي إلى سوق العمل غير الشرعي مما يؤثر على الأيدي العاملة المحلية</p>	الجانب الصحي	<p>حيث تؤدي الهجرة غير الشرعية إلى نقل الأوبئة والأمراض الفتاكة سريعة الانتشار مما يشكل تهديداً للمناطق التي يفد إليها الأفراد</p>
الجانب السياسي والأمني	<p>تدفق المهاجرين غير الشرعيين للدولة يعد منع تهديد لأنها</p> <ul style="list-style-type: none"> • مرتبطة دائماً بأشكال مختلفة من الجريمة المنظمة • تسهل للمنظمات الإجرامية والعصابات المعادية بالتوغل إلى داخل البلاد أو العكس (أفلا الإرهابيين) • تنامي الصراعات القبلية الطائفية بين المهاجرين 								
الجانب الاجتماعي	<ul style="list-style-type: none"> • حيث تخل بالتوازن الديمجرافي مهددة بذلك مواطني الدولة أو المنطقة • كما أن تعدد الجنسيات ينتج عنه انتشار بعض العادات المخالفة لقيم المجتمع. 								
الجانب الاقتصادي	<p>إن الأعداد الهائلة من المهاجرين غير الشرعيين المتواجدين في الدولة يؤثر سلبياً على التنمية الاقتصادية اصبحوا يشكلون أيدي عاملة رخيصة تتزايد و تؤدي إلى سوق العمل غير الشرعي مما يؤثر على الأيدي العاملة المحلية</p>								
الجانب الصحي	<p>حيث تؤدي الهجرة غير الشرعية إلى نقل الأوبئة والأمراض الفتاكة سريعة الانتشار مما يشكل تهديداً للمناطق التي يفد إليها الأفراد</p>								
٢٩.	<p>وضح وجهة نظرك عن طبيعة العلاقات الدولية في السلم اتجهت الدول لحل النزاعات الدولية بينها في حالة السلم عن طريق:</p> <ol style="list-style-type: none"> ١ - المفاوضات . ٢ - الوساطة (طرف ثالث بين متصارعين) ٣ - المساعي الحميدة (دول متبرعة قد تكون صديقة للطرفين) ٤ - التوفيق : إحالة النزاع إلى لجنة محايدة مهمتها تقديم تقرير إلى الطرفين يتضمن اقتراحات واضحة من أجل تسوية بينهما ٥ - التحكيم ، وهذا هو الأسلوب القانوني حيث يصدر الحكم بين دولتين ويعد الحكم إلزاماً للطرفين مثل قضية طابا 								
٣٠.	<p>اكتب كلمه (صواب) او كلمه (خطأ) أمام العبارة الآتية مع ذكر السبب في العائتين عاصمة الولايات المتحدة الأمريكية هي منطقة القلب ذات الأهمية الاقتصادية (العبارة خطأ) عاصمة الولايات المتحدة الأمريكية واشنطن منطقة القلب ذات الأهمية الاقتصادية إقليم البحيرات الخمس بين الولايات المتحدة وكندا.</p>								
٣١.	<p>ما النتائج المترتبة على : تبني بعض الدول نظرية الدفاع بالعمق في الحرب العالمية الثانية تستطيع الدول كبيرة المساحة أن تعتمد على نظرية الدفاع بالعمق في وقت الحرب، حيث تمكن المساحة الكبيرة للدول أن تتغلب عن جزء من أراضيها ثم معاودة الدفاع عن نفسها على سبيل المثال</p> <ul style="list-style-type: none"> • الصين في مواجهة اليابان، • والاتحاد السوفيتي في مواجهة ألمانيا في الحرب العالمية الثانية؛ حيث تمكن جيش الاتحاد السوفيتي من هزيمة الجيش الألماني بعدما أنهكه؛ حيث استدرجه لداخل الأراضي الروسية حتى وصل مشارف موسكو، إذ لم يتحمل الألمان قسوة المناخ فيه 								

٣٢. **بم تفسر : لم تكن هيئة الأمم نموذجاً جيداً للمنظمات الدولية**

رغم الجهود التي تبذلها الهيئة إلا أنه يؤخذ عليها

- ١ - هيمنة الدول الكبرى على قراراتها
- ٢ - عدم الحيادية في بعض القضايا مثل القضية الفلسطينية

بم تفسر : لم تكن عصبة الأمم نموذجاً جيداً للمنظمات الدولية

(عيوبها)

- ١ - عدم انضمام دول كبرى كالولايات المتحدة والاتحاد السوفيتي
- ٢ - انسحاب دول أخرى كاليابان وألمانيا،
- ٣ - افتقار العصبة الي قوة عسكرية تابعة لها،
- ٤ - انتهت باندلاع الحرب العالمية الثانية عام ١٩٣٩ م.

٣٣. **اكتب المفهوم الجغرافي البالد على الآتي :**
مجموعة تفاعلات بين أطراف دولية مثل العلاقات بين الدول والمنظمات

العلاقات الدولية

٣٤. **أكثر دول العالم التي يجاورها عدد من الدول هي دولة**

البرازيل

ب

الهند

ج

روسيا

د

الصين

العبارة صحيحة

٣٥. **دلل على صحة أو خطأ العبارة الآتية:**
كل القوى الكبرى الكبرى هي قوى صناعية

- تعتبر الصناعة ركيزة أساسية من ركائز اقتصاد أي دولة، فكل القوى الكبرى العالمية هي قوى صناعية

٣٦. **بم تفسر : تختلف آثار الهجرة على الدول المستقبلية والمرسلة للمهاجرين**

آثار الهجرة للدولة المرسلة

- الآثار الإيجابية تسهم في حل مشكلة البطالة - وزيادة دخلها من أمثلتها مصر
- الآثار السلبية تفرغ الدولة من الأيدي العاملة (خاصة الكفاءات) والعقول

آثار الهجرة للدول المستقبلية

- الآثار الإيجابية فقد وفر المهاجرون لها الأيدي العاملة
- الآثار السلبية عدم التجانس بين سكانها كالدول الأوروبية ودول الخليج العربي

٣٧. **وضح علاقه بين مصادر الطاقة والصراعات الدولية**

وقد لعبت مصادر الطاقة دوراً بارزاً في الصراعات الدولية خاصة منذ الحرب العالمية الثانية بين ألمانيا من ناحية والحلفاء من ناحية أخرى

- حيث لعب البترول دوراً في مسار الحرب وفي اتجاه القوات المتصارعة نحو السيطرة على منابعه؛ حيث اندفعت الجيوش الألمانية نحو القوقاز املا في الحصول على بترول تلك البلاد.

٣٨. **ما النتائج المترتبة على:**

وجود الاقليات في كل من : الولايات المتحدة الامريكه ودوله جنوب افريقيا

ظهور قضية التفرقة العنصرية والتي تعد من أشع صور التمييز الذي تتعرض له أقلية

- كانت التفرقة العنصرية في الولايات المتحدة الأمريكية إلى عهد قريب؛ حيث حصلت الأقلية الزنجرية على حقوقها المدنية عام ١٩٦٨ م بعد صراع طويل وتضحيات بشرية وظلم رغم حصول الأقلية الزنجرية على حقوقها المدنية إلا أن هذه المشكلة تظهر على السطح من أن لآخر في بعض الأحداث.
- وكذلك الحال في دولة جنوب إفريقيا؛ حيث حصلت الأغلبية السوداء على حقوقها منذ عام ١٩٩٤

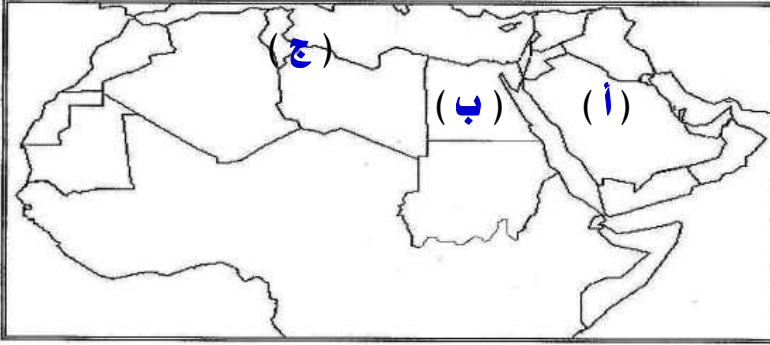
٣٩. **اكتب كلمه (صواب) او كلمه (خطأ) أمام العبارة الآتية مع ذكر السبب في العاتين**
تلجأ الدول الى الاستعانة بنظام الاستشعار عن بعد في ادارة الحد السياسي (العبارة صواب)

- ساهمت التقنية الحديثة بدور كبير في حماية الحدود من خلال المراقبة الجوية والأقمار الصناعية،
- توفير مرئيات فضائية ومعلومات أكثر دقة عن الحدود السياسية بين الدول.

نموذج إجابة النموذج الثالث ٢٠١٧ للجغرافيا السياسية للصف الثالث الأدبي

<p>١. يتفق الحد بين دولتي فرنسا وألمانيا مع نهر</p> <p>أ) السين ب) السند ج) الراين د) الدانوب</p>
<p>٢. دلل على صحة أو خطأ العبارة الآتية : يؤثر التوزيع الجغرافي للأقلية على قوة واستقرار الدولة العبارة صحيحة</p> <p>إذا كانت الأقلية منتشرة ومبعثرة في أنحاء الدولة وسط الأغلبية يكون تأثيرها محدوداً أما إذا كانت مركزة جغرافياً في مكان ما في الدولة خاصة على أطراف الدولة ، هنا تكون مطالباتها خطراً على استقرار الدولة، مثال ذلك: الباسك في إسبانيا، سكان تيمور الشرقية في إندونيسيا</p>
<p>٣. بم تفسر : نشأة حلف شمال الأطلسي</p> <ul style="list-style-type: none"> • تبلورت فكرة إنشاء حلف عسكري يضم دول غرب أوروبا والولايات المتحدة الأمريكية، أثر قيام الاتحاد السوفيتي (السابق) بتشديد حصاره على برلين عام ١٩٤٨ م • أنشئ الحلف بموجب ميثاق تم توقيعه في واشنطن أبريل ١٩٤٩ م، وقد اعتبرت بروكسل عاصمة
<p>٤. ماذا يحدث إذا : لم يوجد نظام نقل متطور ومتكامل في الدولة</p> <ol style="list-style-type: none"> ١ - عدم نجاح خطط التنمية واستغلال مواردها بشكل فعال. ٢ - صعوبة سيطرة الحكومة على الأمور الإدارية والسياسية في جميع أنحاء الدولة. ٣ - صعوبة حركة جيش الدولة وقت الحرب ونقل الإمدادات عند تعرضها للكوارث
<p>٥. جنوب أفغانستان منطقه قلب دولة ذو ثقل</p> <p>أ) اقتصادي ب) سكاني ج) سياسي د) ثقافي</p>
<p>٦. ما النتائج المترتبة علي: تأثير الحرب العالمية الأولى والثانية على خريطة العالم السياسية</p> <p>أدت الحرب العالمية الأولى والحرب العالمية الثانية إلى تغيرات سريعة، على إثرهما اختفت دول وظهرت دول، وعدلت حدود دول، واختفت إمبراطوريات، وحل محلها قوى عظمى جديدة، مثلما حدث في ألمانيا والتي انقسمت إلى ألمانيا الشرقية وألمانيا الغربية.</p>
<p>٧. ما المقصود : بالدولة الحبيسة .</p> <p>هي الدول التي تقع داخل اليابس، وليس لها اتصال مباشر بالبحر وهي تتصل بالعالم الخارجي بحرا عن طريق المرور في أراضي الدول المجاورة مثل إثيوبيا وأفغانستان واغندا</p>
<p>٨. دلل على صحة أو خطأ العبارة الآتية : تعدد أنواع العواصم العبارة صحيحة</p> <ul style="list-style-type: none"> • العواصم الدائمة العواصم التي ظلت لقرون عديدة مثال ذلك - روما - لندن - القاهرة • العواصم المستحدثة وهي العواصم التي قررت بعض الحكومات نقلها من أماكنها إلى مدن أخرى لسبب أو لآخر مثل اليابان نقلت عاصمتها من مدينة كيوتو الداخلية إلى طوكيو
<p>٩. ينطوي قياس قوة الدولة على تعقيدات كثيرة ويحتاج بيانات متعددة</p> <p>في ضوء العبارة السابقة اجب عن (أ) أو (ب)</p> <p>(أ) هناك أوجه مختلفة من التنظيم الحكومي التي لها علاقة بقوة الدولة منها ما يلي:</p> <ul style="list-style-type: none"> • التقسيم الإداري للدولة (محافظات أو ولايات) بهدف تحقيق الأمن والأمان في البلاد وتسهيل تقديم الخدمات للمواطنين. • درجة مركزية الحكومة والاستقلال الذاتي. • المؤسسات التنظيمية التي أنشأتها الدولة لتساعدها في اتخاذ القرارات. • قدرة الحكومة على بسط نفوذها على كل أرجاء الدولة وإحكام السيطرة عليها. • أن تكون الإدارة الحكومية على درجة عالية من الشفافية والكفاءة <p>(ب) تعد المظاهر التضاريسية من العوامل المؤثرة في قوة الدولة ويرجع ذلك إلى:</p> <ol style="list-style-type: none"> ١ - تؤثر التضاريس في النواحي العسكرية فهي التي تحدد سير العمليات العسكرية. ٢ - تؤثر التضاريس في مدى استثمار موارد الدولة المائية والمعدنية. ٣ - تؤثر التضاريس في الأنشطة البشرية وتوزيع السكان في الدولة.

١٠. امامك خريطة للوطن العربي وضع عليها مايلي ملحوظة (ضع المطلوب داخل المستطيل والرمز الدال عليه على الخريطة
الرمز الدال (أ) دولة بها مقر مجلس التعاون لدول الخليج العربي
الرمز الدال (ب) دولة بها ممر ملاحى عالمى مركزية
الرمز الدال (ج) مشكلة سياسية اقتصادية تطل علم البحر المتوسط



الإجابة
(أ) السعودية
(ب) مصر
(ج) تونس وليبيا

١١. اختار: يسر الحد السياسي بين مصر والسودان مع دائرة عرضدرجه شمالا

(أ) ٢٢ (ب) ٢٣,٥ (ج) ٢٥ (د) ٣٧

١٢. دتل جغرافيا على صجة العبارة الآتية : تختلف الدول من حيث أشرفها على المسطحات المائية

١. دول تشرف على البحر بواجهة بحرية واحدة مثل : سوريا - تشيلي.
٢. دول تشرف على البحر بواجهتين مثل :مصر و السعودية
٣. دول تشرف على البحر من جميع جهاتها، وهى الدول الجزرية مثل :بريطانيا واليابان والفلبين

١٣. اجب عن (أ) او (ب) :
(أ) وضع اوجه الشبه والاختلاف بين المجلس الأوروبى والمفوضية الاوروبية كأهم مؤسسات الاتحاد

المفوضية الاوروبية	المجلس الأوروبى	الشبه
تعد المفوضية الجهاز التنفيذي للاتحاد	قمة أجهزة الاتحاد	الاختلاف
تشرف على ميزانية الاتحاد، والبرامج التي يوافق عليها	يتكون من رؤساء الدول والحكومات التي يتشكل منها الاتحاد	
تشرف على الاتفاقيات والمعاهدات بالاشتراك مع محكمة العدل الأوروبية	المهام يحدد اتجاه وألويات السياسة العامة للاتحاد.	
تمثل المفوضية الاتحاد في المحافل الدولية سياسياً واقتصادياً،		
لها الحق في تقديم اقتراحات بقوانين إلى البرلمان والمجلس الأوروبى		

(ب) وضع اوجه الشبه والاختلاف بين الهجرة القسرية والهجرة الغير شرعية

الهجرة غير الشرعية	الهجرة الإجبارية (القسرية)	الشبه
هي : انتقال شخص من دولة إلى أخرى من غير المنافذ الرسمية للدول دون اتباع الطرق القانونية التي تنظم انتقال الأشخاص بين الدول.	كلاهما انتقال الفرد من محل اقامة الى منطقة اخرى	الاختلاف
وترجع الى تدهور الظروف الاقتصادية والاجتماعية والأمنية	تعنى تعرض الإنسان رغم إرادته للهجرة خارج أو داخل الوطن الذى يأويه وترجع الى	
	٤. حدوث الكوارث الطبيعية كالفبضانات	
	٥. دوافع قومية أسمى، كتهجير أهالى النوبة من منطقتهم بسبب إنشاء السد العالى	
	٦. الصراعات والنزاعات المسلحة سواء دولية أو محلية (الحروب الأهلية .)	

١٤. من الدول التي تتميز بتعدد اللغات بها

(أ) مصر (ب) ليبيا (ج) فرنسا (د) سويسرا

١٥. - ما المقصود بالحروب صراع مسلح بين دولتين أو أكثر تنشأ لتحقيق مصالح وطنية من وجهة نظر الدولتين وهى حالة قانونية معترف بإمكان حدوثها.

١٦. من الدول التي لديها فائض في الانتاج الزراعى

أ) الولايات المتحدة الأمريكية ب) السودان ج) المغرب د) مصر

١٧. دلي على صحه او خطأ العبارة الآتية :
يحق لأي دولة ان تفرض سيطرتها على طرق الملاحة في المياه الدولية
هي عبارة عن المناطق البحرية المفتوحة للجميع بدون قيود، والتي لا تدعى دولة ملكيتها (أى مشاع للبشرية

١٨. ما المقصود بالدولة الكونفدرالية
الدولة الكونفدرالية عبارة عن انضمام دولتين أو أكثر فى اتحاد ينظمه معاهدة، لتحقيق غايات مشتركة، وتعهد بممارسة بعض من صلاحياتها إلى سلطة مركزية مشتركة، مع احتفاظ كل دولة بشخصيتها القانونية وسيادتها الخارجية والداخلية مثل دول الاتحاد الأوربي.

١٩. بم تفسر : اثرت الثورة الصناعية في زيادة العلاقات الدولية
زادت العلاقات الدولية بين الدول خاصة منذ الثورة الصناعية، والتي
• نقلت العلاقات بين الدول من علاقات جوار إلى آفاق أوسع شملت العالم بأسره
• نقلت معها نوعية العلاقات من مجرد الحرب والسلم إلى مجالات أخرى متعددة.

٢٠. ماذا يحدث اذا : كان امتداد الدولة يضم عدة دوائر عرضيه
الموقع بالنسبة لدوائر العرض فهو الأكثر أهمية لعدة أسباب.
١. تحديد الملامح العامة لمناخ الدولة.
٢. يؤثر فى النشاط البشرى للسكان.

٢١. دوله ذات شكل مجزأ بحريا

أ) ايطاليا ب) الولايات المتحدة الأمريكية ج) اليابان د) ماليزيا

٢٢. دلل جغرافيا على صحه العبارة الآتية : تعدد دراسات جغرافية الانتخابات
تدرس جغرافية الانتخابات ما يلى:

- ١ - توزيع الدوائر الانتخابية.
- ٢ - دراسة التباين المكانى فى التصويت
- ٣ - دراسة السلوك الانتخابى للناخبين
- ٤ - تحليل الآثار البيئية الطبيعية و البشرية والظروف الاقتصادية على سلوك الانتخابى للفرد
- ٥ - دراسة أثر الانتخابات على تغيير الظروف البشرية فى المنطقة

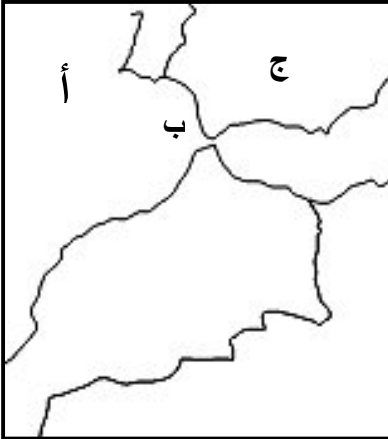
٢٣. مسئوليه الحكم فى النظام البرلماني تكون فى يد

أ) رئيس الدولة ب) الملك ج) رئيس الوزراء د) رئيس البرلمان

٢٤. امامك خريطة لدولة المغرب ، وضغ عليها ما يلى :
ملحوظة (ضع المطلوب داخل المستطيل
والرمز الدال عليه على الخريطة) :

الرمز الدال (أ) مسطح مائى فى غرب المغرب
الرمز الدال (ب) مضيق دولى يقع بين المغرب واسبانيا
الرمز الدال (ج) دولة تقع شمال المغرب

(أ) المحيط الأطلنطي (ب) جبل طارق (ج) اسبانيا



العبارة خطأ

٢٥. دلل جغرافيا على صحه او خطأ العبارة الآتية :
رئيس الدولة هو الذى يتولى الحكم فى النظام البرلماني
رئيس الوزراء هو الذى يتولى مسئولية الحكم (ينتخب من الشعب).

٢٦. ما المقصود بالمياه التكميلية او الملاصقة
- المياه التكميلية أو الملاصقة تمتد من نهاية المياه الإقليمية إلى مسافة محددة فى اتجاه البحر
تمارس الدولة فى هذه المياه سلطات جمركية وإجراءات خاصة بالرقابة والإشراف الضرورىين؛ لتحقيق الأمن
والسلامة لها للمحافظة على مصالحها الحيوية
هى جزء من أعالي البحار وسيادة الدولة عليها مشروطة بأمن وسلامة الدولة المجاورة لها.

٢٧. بد فى مقدونيا و صربيا اقلييات

أ) صربية ب) البانية ج) كردية د) سلوفانية

٢٨	بم تفسر : تكتسب المواقع الاستراتيجية أهمية كبيرة للدولة المواقع الإستراتيجية هي تلك المواقع التي تكتسب أهمية بالغة، نظراً لإشرافها وإمكانية تحكمها في طرق الملاحة البحرية الدولية أو البرية تعد المواقع الاستراتيجية في غاية الأهمية بالنسبة للدولة سواء وقت الحرب أو وقت السلم، من نماذجها : قناة السويس، ومضيق باب المندب، ومضيق جبل طارق								
٢٩	ما النتائج المترتبة على : تصفية الاستعمار لمستعمراته على نشأة الحدود أدى تقسيم الاستعمار لمستعمراته إلى نشأة الكثير من الحدود السياسية خاصة في المستعمرات الأوروبية بقارات إفريقيا وآسيا وأمريكا الجنوبية								
٣٠	ماذا يحدث إذا : لم تحدد الدول حدودها البحرية ١. عدم حماية حدودها البحرية من السفن المشبوهة (الحماية والأمن). ٢. عدم حماية اقتصاد الدولة من خلال منع تهريب البضائع المختلفة إليها. ٣. لا يضمن للدول حقوقاً مختلفة منها ما هو اقتصادي أو عسكري. ٤. عدم قاية الدولة من أي أوبئة أو أمراض قد تدخل إليها من خلال السفن القادمة من دول أخرى؛ حيث تخضع للفتيش الصحي بمجرد دخولها المياه الإقليمية للدولة.								
٣١	تم اختيار موسكو وعاصمة لروسيا على أساس <table border="1" style="width: 100%; text-align: center;"> <tr> <td>١</td> <td>سهولة المواصلات</td> <td>ب</td> <td>السيادة القومية</td> <td>ج</td> <td>العامل التاريخي</td> <td>د</td> <td>الاهمية الدينية</td> </tr> </table>	١	سهولة المواصلات	ب	السيادة القومية	ج	العامل التاريخي	د	الاهمية الدينية
١	سهولة المواصلات	ب	السيادة القومية	ج	العامل التاريخي	د	الاهمية الدينية		
٣٢	بم تفسر : تتعدد اهداف الجغرافيا السياسية ١ - دراسة الوحدات السياسية (الدولة) من حيث ملامحها الجغرافية (الطبيعية - البشرية) ٢ - تحديد عناصر القوة والضعف للوحدات السياسية. ٣ - تحليل التجمعات الإقليمية والعالمية وتحليلها (جغرافياً) موضوعياً ٤ - التعريف بالمشكلات السياسية وتحليلها واقتراح حلول مناسبة لها ومن أمثلة ذلك: • دور الجغرافيين في الحرب العالمية الأولى والثانية في رسم الحدود السياسية الحديثة في أوروبا. • دور الجغرافيا في الدفاع عن حق مصر في قضية طابا. ٥ - توفير البيانات والمعلومات اللازمة لاتخاذ القرارات السياسية والعسكرية								
٣٣	ما النتائج المترتبة على : تطور وسائل النقل الجوي والمرييات الفضائية على الجغرافيا السياسية • كان لتطور وسائل الاتصالات (السلكية واللاسلكية) وتكنولوجيا المعلومات أثره في ان أصبح العالم وحدة واحدة أو ما يعرف بالقرية الكونية؛ وذلك نتيجة للسرعة الهائلة التي تتدفق بها المعلومات والبيانات • توفير معلومات أكثر دقة عن الكثير من المجالات التي تهتم بها الجغرافيا السياسية مثل: الحدود السياسية بين الدول. الممرات الملاحية والمياه الإقليمية للدولة.								
٣٤	دلل جغرافيا على صحة العبارة الآتية : معظم دول أفريقيا محدودة الأهمية من حيث موقعها الجغرافي • لأن قارة أفريقيا أكثر القارات التي تضم دولاً حبيسة وهي الدول التي تقع داخل اليابس، وليس لها اتصال مباشر بالبحر وهي تتصل بالعالم الخارجي بحراً عن طريق المرور في أراضي الدول المجاورة مثل إثيوبيا وأفغانستان واغندا . • وبها الدولة الحبيسة هي الدولة التي تقع داخل دولة أخرى، ولا يمكن الوصول إليها إلا بالمرور في أراضي وأجواء الدولة المطوقة لها، مثل دولة ليسوتو المحتواة بدولة جنوب أفريقيا،								
٣٥	ما النتائج المترتبة على : تدخل حلف شمال الأطلسي لحفظ السلام العالمي مجهودات الأتحاف في حفظ السلام العالمي ١. التدخل في البوسنة والهرسك عام ١٩٩٥ م ونشر قوات حفظ السلام فيها. ٢. إرسال قوات الحلف إلى مقدونيا لمهمة حفظ السلام عام ٢٠٠١ م. ٣. تدخل قوات الحلف للتخفيف من آثار الزلزال الذي ضرب باكستان عام ٢٠٠٦ م. ٤. إغاثة المتضررين من إعصار كاترينا الذي اجتاح الولايات المتحدة عام ٢٠٠٦ م.								
٣٦	الميلاد الحقيقي للجغرافيا السياسية على يد <table border="1" style="width: 100%; text-align: center;"> <tr> <td>١</td> <td>كيلين</td> <td>ب</td> <td>ارسطو</td> <td>ج</td> <td>راتزل</td> <td>د</td> <td>ابن خلدون</td> </tr> </table>	١	كيلين	ب	ارسطو	ج	راتزل	د	ابن خلدون
١	كيلين	ب	ارسطو	ج	راتزل	د	ابن خلدون		
٣٧	دلل جغرافيا على صحة العبارة الآتية : أهمية موقع كشمير • تنحصر كشمير بين الهند وباكستان والصين وأفغانستان • تتميز بأنها منطقة جبلية مرتفعة حيث جبال الهمالايا. • وقد اشتهرت ولاية كشمير في فترة الاستعمار البريطاني بأنها كانت مكاناً مناسباً لقضاء أجازاتهم الصيفية • هروباً من شدة الحرارة وغزارة الأمطار في الهند • تغطي مساحات كبيرة من كشمير بالغابات الطبيعية • كما تتمتع بمناظرها الجميلة التي تجذب إليها السياحة.								

بم تفسر : أهمية العلاقة بين عدد أفراد الجيش وقوة الدولة العسكرية
تعد القوة العسكرية أساساً لتحقيق الأمن القومي للدولة وحماية مواردها وحدودها الجغرافية
أهم عناصر القوة العسكرية

- ١ - حجم القوة البشرية العسكرية سواء العاملة أو الاحتياط.
- ٢ - نوعية المقاتل ودرجة تعلمه وإخلاقه ودوافعه
- ٣ - مقدار المعدات العسكرية ومعدات القتال الرئيسية.
- ٤ - الإنفاق العسكرى الذى تنفقه الدولة من دخلها القومى.
- ٥ - كفاءة جهاز المخابرات الحربية.

اجب عن (أ) أو (ب) :
(أ) وضع وجهة نظرك : لماذا تعد أزمة الطاقة أزمة بتترول في المقام الاول وليست أزمة فحم
(ب) وضع وجهة نظرك: مع التاكيد بالادلة يمكن للدول العربية اقامة تكتل اقتصادى عربى

(أ) اي اجابة مقنعة تحسب للطالب في ضوء

الفهم: الدول المتقدمة هي المستهلك الأكبر للطاقة، وهي في نفس الوقت المنتج الأول للفحم، ولذلك لا يدخل منه إلى التجارة الدولية سوى % ١٠ فقط، ومن ثم فإن الأثر السياسي للفحم محدود.
البتترول والغاز الطبيعي يساهمان في إنتاج الطاقة بنحو ثلثي إنتاج الطاقة في العالم وهم يساهمان بحوالى نصف التجارة الدولية خاصة من دول العالم الثالث وبالأخص منطقة الشرق الأوسط والخليج العربى.
• فالصراع العالمي على مصادر الطاقة خاصة البتترول والغاز الطبيعي وراء الكثير من الأزمات الدولية والمواقف السياسية للدول على المسرح العالمي، وليس أدل على ذلك من الصراع فى منطقة الشرق الأوسط وعليه.

(أ) اي اجابة مقنعة تحسب للطالب في ضوء

يمكن للوطن العربى اقامة تكتل اقتصادى عربى لوجود مقومات أساسية تعزز قيامه
١- المقومات الجغرافية حيث الاتصال الأرضي بين اجزاء الوطن العربى.
٢- المقومات البشرية والتكنولوجية وجود حجم سكاني مناسب في الدول التي يضمها التكتل الاقتصادي -تشابه العادات والتقاليد (الخصائص الثقافية)
٣- توفر عناصر الإنتاج الأساسية ويعنى هذا وجود عناصر الإنتاج اللازمة للقيام بالعمليات الإنتاجية عنصر العمل رأس المال

(أ) قارن بين الحدود الأثنوغرافية والحدود الهندسية

الحدود الحضارية (الأثنوغرافية)	الحدود الهندسية
الحدود الحضارية تحدد وفقا لخصائص حضارية كاللغة وتعد الحدود السياسية في منطقة وسط أوروبا من أشهر التي جرى ترسيمها على أساس اللغة بعد الحرب العال الأولى، منعا لمشكلة الأقليات، بحيث تتميز كل دولة بالخاصة الدين الدين عنصر حضارى مهم قد يستخدم لتحديد الحدود مثل الحدود بين الهند وباكستان	تكون الحدود الهندسية فى أشكال مختلفة: • فلكية بحتة تتفق مع خطوط الطول ودوائر العرض مثل الحد السياسى بين مصر والسودان الذى يسير مع دائرة عرض ٢٢° شمالا و بين مصر وليبيا على خط طول ٢٥° شرقا خطوط مستقيمة تصل بين نقطتين معلومتين • حدود على أبعاد متساوية من ساحل أو سلسلة جبلية. وعادة ما تمتد هذه الحدود الهندسية فى مناطق قليلة السكان أو خالية من الموارد الطبيعية.

(ب) قارن بين : النظام الرئاسى والنظام شبه الرئاسى

النظام شبه الرئاسى	النظام الرئاسى
هو نظام وسط بين النظامين الرئاسي والبرلماني ويتميز بالسماوات الآتية: ١ - يوجد رئيس منتخب مباشرة من الشعب على رأس السلطة التنفيذية. ٢ - برلمان منتخب يشكل الحكومة. ٣ - السلطة فى هذا النظام مشتركة بين الرئيس والحكومة وينظمها الدستور وتعد فرنسا نموذجا للنظام شبه الرئاسى.	يقوم النظام الرئاسي على الآتي: ١ - الرئيس هو رأس الدولة (يسود ويحكم) ٢ - السلطة التنفيذية مستقلة عن السلطة التشريعية. ٣ - السلطة التشريعية تقوم وحدها بالتشريع فى الدولة ٤ - السلطة القضائية مستقلة عن باقى السلطات الاستقلال الكامل للسلطات الثلاث من ناحية، لكل سلطة فى اختصاصها من ناحية أخرى النموذج الأشهر لذلك هو النظام الرئاسى الأمريكى.

نموذج إجابة النموذج الرابع ٢٠١٧ للجغرافيا السياسية للصف الثالث الأدبي

الإجابة

٢

وضع العالم الاطار العام الذي عرف بدورة الحياة

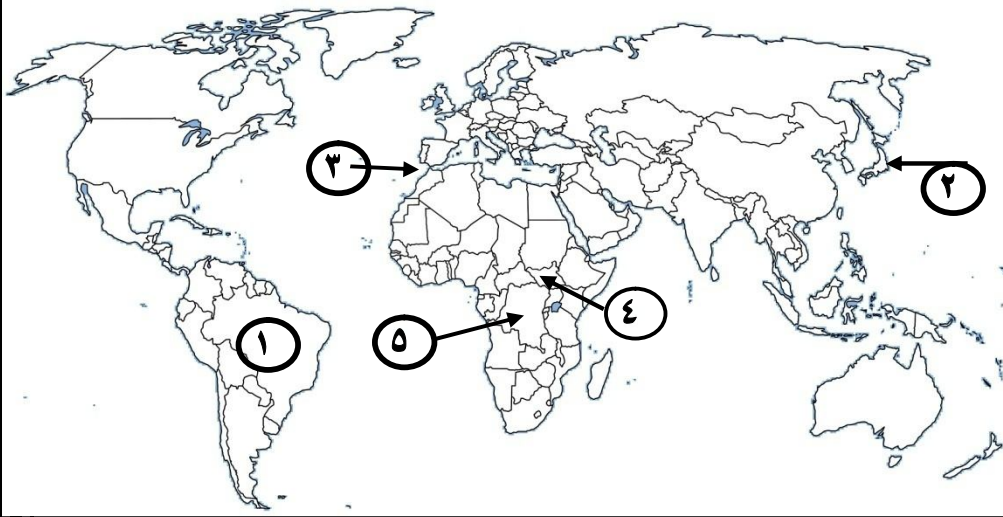
١ ارسطو (أ) (ب) **بن خلدون** (ج) راتزل (د) رودلف كلين

٢

اكتب ما تشير اليه العبارة التالية

عملية تغيير الأنماط والنظم الاقتصادية والاجتماعية تقوم بها الدول الأقوى لفرض هيمنتها على الدول الأخرى (العولة)

امامك خريطة صماء للعالم اكتب ما تدل عليه الارقام



- ١- دولة اتحادية مركبة
- ٢- دولة وحدوية مجزأة
- ٣- موقع استراتيجي
- ٤- دولة حبيسة
- ٥- دولة مندمجة ذات بروز

٣

الإجابة

١. البرازيل
٢. اليابان
٣. مضيق جبل طارق
٤. جنوب السودان
٥. الكونغو

٤

دلل على صحة او خطأ العبارة التالية

تشابهت نظرة كل من ابن خلدون وراتزل تجاه الدولة

(العبارة صحيحة)

- ابن خلدون وضع الاطار العام الذي عرف باسم دورة حياة الدولة وهي النشأة والثبات و النضج و الاضمحلال و تحدث عن عوامل نهضة الدولة وسقوطها
- رتزال اعتبر الدولة بمثابة كائن حي تنطبق عليه قوانين (الميلاد والنمو والوفاة)

٥

ظهرت جغرافية الانتخابات على يد

١ راتزل (أ) (ب) رودلف كلين (ج) **اندرية سيجفرويد** (د) ارسطو

٦

وضح اوجه الشبه بين مواقع الدول العربية التالية

مصر - المغرب - جيبوتي - سلطنة عمان

وجه الشبه هي دول تشرف على مواقع استراتيجية التي تكتسب أهمية بالغة، نظراً لإشرافها وامكانية تحكمها في طرق الملاحة البحرية الدولية أو البرية

مصر (قناة السويس) المغرب (مضيق جبل طارق) جيبوتي (مضيق باب المندب) سلطنة عمان (مضيق هرمز)

بم تفسر؟ استعن بأمثلة (كثرة الدول المجاورة سلاح ذو حدين

٧

- مزايا كثرة الدول المتجاورة قد يودي الي تحقيق التعاون وبالتالي زيادة قوتها مثل دول غربي أوروبا
- عيوب كثرة الدول المتجاورة أحيانا يودي الي الكثير من المشكلات مثل السودان التي يحاورها سبع دول .

٨

اكتب ما تشير اليه العبارة التالية

مناطق جغرافية ثابتة لها طول وعرض وليس لها اساس قانوني تضم احيانا موارد طبيعية (التخوم)

وضح اوجه الشبه والاختلاف بين

الدول الجيبية والدول الحبيسة مع اعطاء مثال لكل منهما

٩

الشبه	الاختلاف
كلاهما تقع داخل اليابس، وليس لها اتصال مباشر بالبحر	الدول الجيبية تقع داخل دولة أخرى.....
تتبع الدولة الجيبية في سياستها الداخلية والخارجية الدولة المطوقة لها، مما يضعف قوتها السياسية والاقتصادية والعسكرية؛ تسعى الدولة الجيبية للحفاظ على علاقاتها الودية مع الدولة المطوقة لها (ليسوتو المحتواة بدولة جنوب إفريقيا	الدول الحبيسة : يحدها اكثر من دولة ... لا تخضع في علاقاتها داخليا وخارجيا بالدول المجاورة ولها سيادة مستقلة مثل انيوييا وأفغانستان واغندا

تجتمع العاصمة وقلب الدولة في

افغانستان

د

السعودية

ج

مصر

ب

الولايات المتحدة

ا

١٠

اجب عن (أ) او (ب) يختار الطالب سؤال واحد ما بين (أ) او (ب)
(أ) ما العوامل المؤثرة على مستقبل الخريطة السياسية

- ١ - انتهاء الصراع الايدلوجي بين الكتلة الشيوعية والكتلة الرأسمالية.
- ٢ - العولمة و ظهور الشركات متعددة الجنسيات التي أثرت على تطور خريطة العالم ، و هددت السيادة القومية للدول المختلفة.
- ٣ - البنك الدولي وصندوق النقد الدولي و تدخلتهما في السياسات الداخلية للدول، وأثر ذلك على استقرارها و سيادتها.
- ٤ - سباق التسلح خاصة في منطقة الشرق الأوسط.
- ٥ - ثورة الاتصالات الحديثة وأثرها في نشر الوعي بين الشعوب، والاستقرار السياسي للدول.
- ٦ - مشكلة اللاجئين والهجرة غير الشرعية (غير الرسمية)
- ٧ - الصراع على المياه العذبة، خاصة في المناطق المهددة في مواردها المائية.

١١

(ب) - حدد الأثر الإقليمي والدولي لحلف شمال الأطلسي

- ١- زيادة حدة الحرب الباردة بين المعسكرين الشرقي والغربي
- ٢- انهماك الحلفين في سياسة سباق التسلح؛ مما أدى إلى إرهاب اقتصاد الولايات المتحدة والاتحاد السوفيتي
- ٣- إضعاف هيئة الأمم المتحدة بسبب التنافس بين القوى الكبرى

دلل على صحة او خطأ العبارة التالية
الهند من الدول التي تنقسم فيه السلطات

(العبارة صحيحة)

- لانها من الدول الفيدرالية تنقسم فيها السلطات الى السلطة المركزية وتختص بالوظائف السيادية (السياسة الخارجية - الاقتصاد - الدفاع الخارجي - الأمر الداخلي) والسلطة المحلية (حومات الاقاليم) وتختص بادارة الشئون الحياتية للسكان.

١٢

بم تفسر؟ للتكنولوجيا تأثير متناقض على الحدود السياسية

- دور إيجابي ساهمت التقنية الحديثة بدور كبير في حماية الحدود من خلال المراقبة الجوية والأقمار الصناعية،
- دور سلبي أثرت التطورات الحديثة التي طرأت على وسائل الحرب خاصة في مداها وسرعتها وفاعلية تدميرها وتخطيها للعقبات خاصة العقبات الطبيعية كالجبال على وظيفة الحد الأمنية، وبذلك تسقط نظرية الحد الامن.

١٣

اجب عن (أ) او (ب) يختار الطالب سؤال واحد ما بين (أ) او (ب)

(أ) اين تنطبق القاعدة التالية واين تشذالعاصمة الساحلية افضل من العاصمة الداخلية ..؟

- تنطبق القاعدة على اليابان (الساحلية افضل) التي نقلت عاصمتها من مدينة كيوتو الداخلية إلى طوكيو المدينة الساحلية التي تطل على المحيط الهادي مصدر الحياة لهذه الدولة التجارية العظيمة كما انها كانت مركزا حضاريا كبيرا
- تشذ القاعدة (الداخلية افضل) كاختيار أنقرة عاصمة لتركيا بدلا من إستانبول تحاول الدولة أن تكون عاصمتها بعيدة عن الحدود، فذلك يعطيها عمق جغرافي ويوفر لها الحماية

١٤

(ب) وضح تأثير النظام العالمي على الدول المتقدمة والنامية...؟

- ١ - احتكار مطلق للسلاح، والمال، والتكنولوجيا من قبل دول الغرب الرأسمالية،
- ٢ - توظيف التكنولوجيا من أجل الوصول إلى أعلى معدلات الإنتاج،.
- ٣ - تضائل الدور الذي تلعبه حركة عدم الانحياز في العلاقات الدولية
- ٤ - كان من أهم أسباب سقوط الاتحاد السوفيتي عجزه عن تطوير نظم إنتاجه الاقتصادي
- ٥ - التدخل الأمريكي في الشئون الداخلية لبعض الدول .
- ٦ - إختراق الأمن الثقافي العربي من خلال إحلال قيم العولمة السلبية .
- ٧ - إنتشار العنف وقيام الحروب الأهلية وحروب الحدود كما حدث في الصومال والكنغو وأفغانستان .

القارة التي تخلو من الدول الحبيسة

اسيا

د

امريكا الجنوبية

ج

امريكا الشمالية

ب

اوربا

ا

١٥

ما المقصود بالمشكلة السياسية ...؟

- هي أي تهديد للدولة من الداخل أو الخارج يمس سيادتها على أراضيها أو استقرار شعبها و تماسكه

١٦

الدولة	العاصمة -	سبب الاختيار للعاصمة
اسبانيا	مدريد	سهولة المواصلات (سهولة الاتصال)
تركيا	أنقرة	الحماية والدفاع
روسيا الاتحادية	موسكو	سيادة قومية
ايطاليا	روما	العامل التاريخي

١٧

١٨

١٩

٢٠

٢١

٢٢

٢٣

٢٤

٢٥

قد يتغير مسار الحد السياسي عدة مئات قبيلة من الأمتار عند مزرعة او قرية في مرحلة

١) التعريف والتخطيط (ب) التحديد (ج) التعيين (د) ادارة الحد

قدم اقتراحاتك وتوصياتك للمساهمة في حل مشكلة الرعاة بين الحدود السياسية

- عقد الاتفاقيات الخاصة بانتقال الرعاة و حيوانات الرعي وتنظيم حركة الرعاة و تحديد رؤوس الماشية و مناطق ارتجاعها عبر المعايير و الشروط الصحية مثل اتفاقية الايكواس وموريتانيا ومالي
- تخفيض الضرائب والرسوم على الرعاة
- المفاوضات على طول الحدود بالنسبة لزيادة عدد السكان وتأثيرها على حركة الرعاة

وضح اوجه الاختلاف بين؟ العراق وايطاليا في التعامل مع مشكلة الاقليات اللغوية

- العراق تلجأ للاعتراف بحرية الأكراد في شمالها في استخدام لغتها القومية خوفاً من مطالبة تلك الأقليات بالاستقلال عن الدولة،
- ايطاليا تمنع استخدام الأقليات النمساوية للغاتها وتلزمها باستخدام اللغة الإيطالية في جميع مجالات الحياة.

ماذا يحدث اذا؟ عدم قدرة دولة ما على حماية المياه الإقليمية الخاصة بها

- ١- صعوبة تحقيق الحماية والامن للدولة
- ٢- عدم خضوع السفن الموجودة داخل هذه المياه لقوانين الدولة وتشريعاتها
- ٣- تهريب البضائع المختلفة إليها
- ٤- عدم ضمان حقوق للسودل حقوقا سواء اقتصادي (ثروات ومصايد طبيعية) أو عسكري.

دلل على صحة او خطأ العبارة التالية التشابه الديموغرافي والسياسي والاختلاف الاقتصادي من مقومات قيام التكتلات الاقتصادية (العبارة صحيحة)

تشابه الديموغرافي: تشابه العادات والتقاليد (الخصائص الثقافية) لسكان الدول يعد عاملاً مهماً يشجع على قيام التكتل

التشابه السياسي: التماثل بين الدول المكونة للتكتل في طبيعة أنظمتها السياسية يؤدي إلى نجاح التكتل الاقتصادي الاختلاف الاقتصادي: عامل أساسي لنجاح التكتلات الاقتصادية وتعني هنا تنوع الموارد لأن التكامل يقوم على التنوع للموارد

بم تفسر؟ ارتفاع معدلات الهجرة غير الشرعية في السنوات الاخيرة (اعط امثلة)

نتيجة تدهور الظروف الاقتصادية والاجتماعية والأمنية، وتطور هذه الظاهرة أصبح هاجسا يشغل معظم الدول نظرا للانعكاسات السلبية على المجتمع في مختلف الجوانب.

- ومن أمثلتها
- الهجرة من العالم النامي وخاصة الأفارقة إلى الاتحاد الأوروبي
- كما تشهد دول الخليج هجرة غير شرعية من قبل أعداد غفيرة من جنوب شرق آسيا

من اهم متطلبات مرحلة تعيين الحد السياسي على الطبيعة

١) نصوص المعاهدة (ب) المعلومات الجغرافية (ج) الخرائط التفصيلية (د) جميع ما سبق

امامك خريطة لدولة وحدوية اوروبية .. اكتب مدلول الأرقام

- ١- البحر
- ٢- المحيط
- ٣- دولة
- ٤- حد سياسي جبلي
- ٥- حد سياسي نهري
- ٦- الشكل العام للدولة الوحدوية

- الإجابة
- ١- البحر المتوسط
 - ٢- الأطلنطي
 - ٣- أسبانيا
 - ٤- جبال البرانس
 - ٥- نهر الراين
 - ٦- المندمج (المنتظم)



اذكر اهم أسباب رفض اسبانيا استقلال سبتة ومليلة...؟

٢٦

- ١ - التقادم
- ٢ - نسب السكان من الإسبان تصل إلى ٦٠ ٪ من السكان
- ٣ - كما أن المدينتين غير مسجلتين ضمن الاراضي المستعمرة لدى الأمم المتحدة عام ١٩٤٧ م.

دلل على صحة او خطأ العبارة التالية

٢٧

- يمكن للدول صغيرة المساحة ان تتبنى نظرية الدفاع بالعمق** (العبارة خطأ)
- المساحة الصغيرة للدولة في بعض الأحيان يسهل اختراقها والسيطرة عليها في حالة الحرب مثل سيطرة المانيا على هولندا وبلجيكا اثناء الحرب العالمية الثانية
 - تتيح المساحة الكبيرة للدولة أن تتبنى نظرية الدفاع بالعمق تتغلى عن جزء من أراضيها ثم معاودة الدفاع عن نفسها

من الأسباب الرئيسية لنشأة الحدود السياسية في إفريقيا

٢٨

- | | | | |
|----------------------------|---|----------------------------------|---|
| زيادة عدد السكان | Ⓐ | الرغبة في تنمية المناطق الهامشية | Ⓑ |
| تقسيم الاستعمار لمستعمراته | Ⓒ | الاتفاقيات والمعاهدات | Ⓓ |

ما النتائج المترتبة على؟ احتكار دول الغرب الرأسمالية لسلح والمال والتكنولوجيا

٢٩

تحويل كثير من المساعدات الاقتصادية والمالية والتكنولوجية والتبادل التجاري لصالح العلاقات الجديدة بين شرق أوروبا والغرب عموماً على حساب الدول النامية.

ماذا يحدث اذا؟ لم يطبق مبدأ الفصل بين السلطات

٣٠

- يؤدي الى
- تمركز سلطات الدولة في يد واحدة أو هيئة واحدة - تحقيق المصالح الشخصية - عدم وجود نظام حكم ديمقراطي

وضح اهم اسباب انهيار حلف وارسو...؟

٣١

- كان انهيار حلف وارسو نتيجة تداعيات كثيرة بدأت منذ عام ١٩٨٥ م عندما تولى الرئيس السوفيتي السابق (جورباتشوف) السلطة في الاتحاد السوفيتي وأعلن عن سياسته الجديدة والتي تمثلت في إعادة البناء الاقتصادي من خلال:

- ١ . الشفافية والانفتاح السياسي.
 - ٢ . الاعتماد على القطاع الخاص.
 - ٣ . تشجيع المستثمرين الأجانب على الاستثمار داخل الاتحاد السوفيتي.
 - ٤ . الانفتاح الاقتصادي على الغرب.
- وقد فشلت سياسته في إيجاد نظام أكثر تطوراً، وبدأت النزعة الانفصالية تظهر بين الجمهوريات السوفيتية من ناحية، ودول حلف وارسو من ناحية أخرى

بم تفسر؟ يؤخذ على منظمة الامم المتحدة بعض الاعتبارات

٣٢

- ١ . هيمنة الدول الكبرى على قراراتها
- ٢ . عدم الحيادية في بعض القضايا مثل القضية الفلسطينية

ما النتائج المترتبة على؟ تركيز سكان الدولة في جهات محددة دون الأخرى

٣٣

- عدم استغلال كل موارد الدولة ويعطي الفرصة للدول المعادية بتوجيه ضربات عسكرية (سؤال من منهج سابق)

وضح العلاقة بين الخصائص البشرية والاقتصادية لدول الخليج العربي وقيام مجلس التعاون لدول الخليج العربي

٣٤

- توجد علاقة وثيقة حيث
- يتمتع سكان دول مجلس التعاون بخصائص مشتركة زادت من تلاحمهم
 - ١ - الدين (الدين الاسلامي) (اللغة العربية)
 - ٢ - اللغة (اللغة العربية)
 - ٣ - الجوار
 - ٤ - التاريخ المشترك
 - ٥ - العادات والتقاليد
 - يعتمد اقتصاد دوله على استثمار النفط (البترول)

وضح في رأيك؟ القيم الايجابية التي يمكن من خلالها اقامة نظام عالمي جديد مستقر

٣٥

- | | |
|---|--|
| المبادئ الحاكمة للعلاقات بين الدول <ol style="list-style-type: none">١. نزع السلاح.٢. إحلال مبدأ توازن المصالح بدلاً من توازن القوى.٣. نزع الصفة الأيدولوجية عن العلاقات الدولية. العمل من أجل تخطي الحواجز والصراعات تحقيقاً لمصالح البشرية | الأهداف المعلنة للنظام الدولي <ol style="list-style-type: none">١. المحافظة على الاستقرار العالمي واحترام دور الأمم المتحدة.٢. احترام سيادة كل دولة واستقلالها وعدم المساس بوحدها الوطنية.٣. نشر قيم الديمقراطية واحترام حقوق الإنسان |
|---|--|

التحكيم

(أ) المساعي الحميدة (ب) الوساطة (ج) الحرب

ما العوامل المؤثرة في العلاقات الدولية

- الموقع** العلاقات الدولية لدولة هامشية مثل: نيوزيلندا تختلف عن دولة مركزية ذات موقع إستراتيجي كمصر.
- المساحة** دولة ذات مساحة عملاقة كروسيا تختلف بالتأكيد علاقاتها الدولية عن دولة قزمية المساحة.
- عدد السكان** دولة بوزن الصين السكاني احتلت مقعداً دائماً في مجلس الأمن
- الوزن الاقتصادي** أصبحت الصين لاعباً أساسياً على مسرح العلاقات الدولية لتقدمها الاقتصادي والعسكري.
- القوة العسكرية**: تلعب قوة الدولة في المجال العسكري دوراً مؤثراً في العلاقات الدولية فما زالت روسيا الاتحادية -الوريث الأكبر للاتحاد السوفيتي السابق- تلعب دوراً مؤثراً في كثير من الأحداث العالمية

دلل على صحة أو خطأ العبارة التالية

حقق النظام العالمي كثير من اهدافه المعلنة (العبارة خطأ)

- من تأثيراً النظام العالمي الجديد على دول العالم المتقدم منها والنامي
١. احتكار مطلق للسلاح، والمال، والتكنولوجيا من قبل دول الغرب الرأسمالية
 ٢. التدخل الأمريكي في الشؤون الداخلية لبعض الدول
 ٣. إختراق الأمن الثقافي العربي من خلال إحلال قيم العولمة السلبية .
 ٤. إنتشار العنف وقيام الحروب الأهلية وحروب الحدود كما حدث في الصومال والكنغو وأفغانستان

اجب عن (أ) او (ب) يختار الطالب سؤال واحد ما بين (أ) او (ب)
 (أ) بم تفسر ... ؟ النزاع القائم بين ليبيا وتونس عند تحديد الرصيف القاري
 (ب) بم تفسر ... ؟ الحدود السياسية في اوربا تعد رمزا للمظاهر الأثنوغرافية
 (أ)

- النزاع القائم بين ليبيا وتونس عند تحديد الرصيف البحري بين الدولتين بعد ظهور حقول الغاز والبتترول في مياه هذا الرصيف
- حيث طالبت ليبيا أن يتجه الحد البحري إلى الشمال مباشرة في مياه هذا الرصيف
 - وطالبت تونس بحد بحري ينحرف شرقاً بزاوية مقدارها ٤٥ درجة تقريباً
 - وأصدرت محكمة العدل الدولية حكمها بأن يسير الحد البحري بين الدولتين بزاوية ٢٦ درجة ثم بعد ذلك بزاوية ٥٢ درجة، ويرجع ذلك إلى وجود الجزر التونسية وتغير اتجاه خط الساحل التونسي وبهذا الحكم أصبحت لتونس حقوق أساسية في حقول الغاز والبتترول في هذه المنطقة.

(ب)

- تعد اللغة من أهم المظاهر الحضارية المستخدمة في ترسيم الحدود بين الدول وتعد الحدود السياسية في منطقة وسط أوربا من أشهر الحدود التي جرى ترسيمها على أساس اللغة بعد الحرب العالمية الأولى، منعاً لمشكلة الأقليات، بحيث تتميز كل دولة بلغتها الخاصة

قارن بين..... ايجابيات وسلبيات الجبال على قوة الدولة

الجوانب الإيجابية

- ١- تمنح الجبال الدولة مزيداً من القوة؛ لأنها تشكل مواقع إستراتيجية في المراقبة والدفاع.
- ٢- تشكل الجبال حدوداً طبيعية واضحة بين كثير من الدول كجبال البرانس بين إسبانيا وفرنسا.
- ٣- تشغل المناطق الجبلية في كثير من الدول مناطق سياحية. إما للاصطياف مثل جبال بلاد الشام أو مناطق للتزلج على الثلوج شتاءً مثل جبال الألب في أوربا.
- ٤- توجد بها الثروات المعدنية التي تعد أساس الصناعة.

الجوانب السلبية

- صعوبة الاتصال بين أجزاء الدولة
- وإعاقة تحقيق التنمية الشاملة
- تعزيز روح الانفصال لبعض الأقليات في بعض الدول مثل: أقلية إقليم كتالونيا في إسبانيا.