



الوحدة الاولى

الدولة فى الجغرافيا السياسية



٣- مقترحاتك لإنشاء عاصمة جديدة لمصر من حيث الموقع والموارد المتاحة

السؤال الخامس اختر الاجابة الصحيحة

- ١- من المقومات الطبيعية للدولة.....
- أ- الشكل
ب- خصائص السكان
ج- الانتاج الزراعي
د- الموارد المعدنية
- ٢- من دول تشرف علي البحر بوجهة واحدة.....
- أ- المغرب
ب- فرنسا
ج- سوريا
د- افغانستان
- ٣- من دول تشرف علي البحر بوجهتين بحريتين.....
- أ- شيلي
ب- فرنسا
ج- اثيوبيا
د- موريتانيا
- ٤- من الدول الجزرية.....
- أ- السعودية
ب- المغرب
ج- تشاد
د- اليابان
- ٥- من الدول الحبيسة فى قارة اسيا.....
- أ- ايران
ب- باكستان
ج- افغانستان
د- بنجلادش

السؤال (الساوس) أكتب كلمة ص (أو خط مع ذكر السبب في الحالتين)

١- يؤثر الموقع الفلكي على قوة الدولة

٢- يعتبر موقع الدول الحبيسة أفضل من موقع الدول الجزرية

٣- من الدول الإفريقية كثيرة الجيران دولة المغرب

٤- من الدول الآسيوية كثيرة الجيران دولة الصين

٥- تساهم المساحة الكبيرة للدولة في قوتها



السؤال السابع (امامك) خريطة لقارة إفريقيا أوسها جيران ثم استخرج منها



١- الدول الحبيسة

٢- دول لها وجهتين بحرتين

٣- دول جزرية

٤- أقل الدول وأكثرها من

حيث عدد الدول المجاورة

٥- وضح اسباب تفضيلك لا حدى الدول

الافريقية على الدول الاخرى

السؤال الثامن (أرن بين دولة كبيرة المساحة ودولة صغيرة المساحة من حيث
أ- حجم الموارد وتنوعها

ب- سهولة الاتصال بكافة الأجزاء الدولية

السؤال التاسع ما النتائج المترتبة على

أ- الموقع البحري للدولة

ب- وقوع الدولة في دوائر عرض متعددة

ج- وجود قناة السويس داخل مصر

السؤال العاشر

تشغل الدولة مساحة من الأرض يحدها حروم سياسية واضحة (المعالم معترف بها دولياً). في ضوء هذه العبارة أجب عما يأتي

١- أثر المساحة في السلم والحرب

٢- العوامل المحددة لأهمية الدولة

٣- الدولة التي تفضل أن تعيش بها ولماذا ؟

السؤال الحادي عشر

تختلف أشكال الدول إلى شكل مربع أو ذات بروز ومستطيل ومجزأ ومحتوى في ضوء هذه العبارة (اجب عما ياتي)

١- مزايا الشكل المدمج

٢- عيوب كل من الشكل المستطيل – الشكل المحتوى

السؤال الثاني عشر اختر الاجابة الصحيحة

١- من الدول كبيرة المساحة

أ- قطر

ب- روسيا الاتحادية

ج- سلطنة عمان

د- بريطانيا



٢- من الدول صغيرة المساحة الى استولت عليها المانيا في الحرب العالمية الثانية دولة

- أ- بريطانيا
ج- ليبيا
ب- باكستان
د- هولندا

٣- من الدول ذات الشكل المندمج

- أ- فرنسا
ج- الأرجنتين
ب- ايطاليا
د- تركيا

٤- من الدول ذات الشكل المستطيل (النحيل) دولة

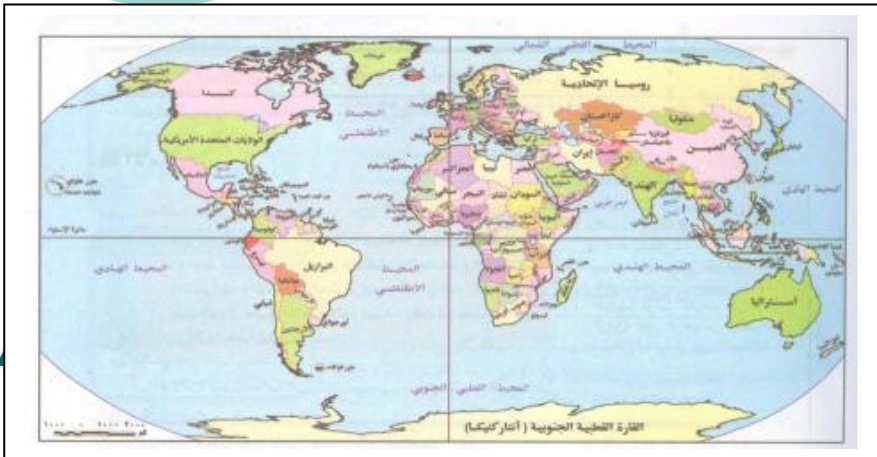
- أ- مصر
ج- ايطاليا
ب- السودان
د- الكونغو

٥- من أشكال الدول الجزرية المجزأة دولة

- أ- الأرجنتين
ج- اندونيسيا
ب- مصر
د- الكونغو

السؤال الثالث عشر

امانك خريطة العالم السياسية (اورسها جيرا) صم وضع مثالين لكل من



- ١- دول ذات الشكل المندمج.....
- ٢- دول ذات الشكل البروز.....
- ٣- دول ذات الشكل المستطيل.....
- ٤- دول ذات الشكل المجزأ.....
- ٥- دول ذات الشكل المحتوى.....

السؤال الرابع عشر (كتب كلمة صع او خطا مع ذكر السبب في الحالتين)

١- من أمثلة الدول البرية المجزأة دولة بريطانيا

٢- من أمثلة الدول ذات الشكل المحتوى ليسوتو

٣- يزيد المناخ المعتدل من قوة الدولة

٤- يزيد المناخ المتطرف من قوة الدولة

٥- من الدول البرية البحرية المجزأة دولة اليابان



السؤال الخامس عشر بم تفسر

١- للتضاريس أثر واضح فى توزيع سكان الدولة

٢- للنبات الطبيعي أهمية اقتصادية بالنسبة لقوة الدولة

السؤال السادس عشر (كتب ثلثة صع او خطا مع ذكر السبب في الحالتين)

١- تحتاج الدول ذات الحجم السكاني الكبير الى استقدام عمالة أجنبية

٢- يعتبر الدين من عوامل التجانس السكاني للدولة

٣- تنخفض نسبة الاطفال في الدول النامية

٤- تؤثر الهجرة سلبا على اقتصاديات الدول النامية

٥- تعد الحبوب الغذائية من متطلبات الامن القومي



أ / سامى المعيدى

0087800-1

السؤال السابع عشر لحجم السكان الكثير للدولة مزيا وعيوب في ضوء العبارة السابقة (اجب عما ياتي)

١- مميزات الحجم الكبير للسكان

٢- سلبيات الحجم الكبير للسكان

السؤال الثامن عشر بم تفسر

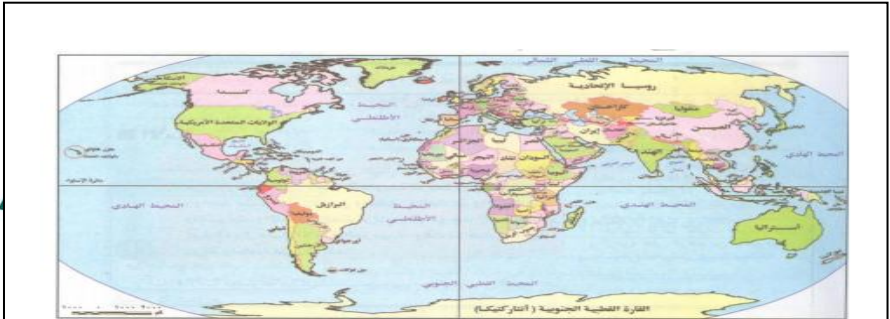
١- يعد حجم سكان الدولة من مقوماتها البشرية

٢- التكنولوجيا ثروة الامم

السؤال التاسع عشر على خريطة العالم السياسية وضع بمثالين لكل من

١- دول ذات حجم سكاني كبير.....

٢- دول ذات حجم سكاني صغير.....



السؤال العشرون ما النتائج المترتبة على

١- وجود الموارد المعدنية في الدولة

٢- الاكتفاء الذاتي من الموارد الزراعية

٣- وجود نظام نقل متطور في الدولة

السؤال الحادي عشر

تقوم الدولة على الشعب والوطن والموقع الجغرافي ومساحته ومواروه ونظامه

السياسي في ضوء العبارة السابقة وضع

١- القوة التنظيمية وقوة الدولة

٢- اهم عناصر الدولة

السؤال الثاني والعشرون

اكتب كلمة صغ او خطأ مع ذكر السبب في الحالتين

١- يمثل حجم القوة البشرية لجيش الدولة المؤشر الوحيد لقوة الدولة

روائع النخبة

أ / سامي المصعدي

0087800-1-1

٢- مساحة وشكل الدولة دور كبير فى قوة الدولة

٣- تلعب اللغة دورا هاما فى بناء الدولة وتماسكها وقوتها

السؤال الثالث والعشرون ما النتائج المترتبة على

١- الهجرة بالنسبة للدول المستقبلية للمهاجرين

٢- توافر الموارد المعدنية ومصادر الطاقة فى الدولة

السؤال الرابع والعشرون بم تقسر

١- اهمية نظام الانتخابات بالدولة

٢- اعتماد انظمة الحكم الديمقراطية على مبدأ الفصل بين السلطات

٣- اهمية جغرافية الانتخابات



روائع النخبة

أ / سامي المعيدى

٠٥٥٧٨٥٠٠-١

السؤال الخامس والعشرون

وضح اوجه الاختلاف بين النظام البرلماني والنظام شبه الرئاسي

السؤال السادس والعشرون اختر الاجابة الصحيحة

١- نظام اجتماعي يقوم بأدوار تحقيق الامن الداخلي والخارجي والمصالح العامة.....

أ- نظام الانتخابات ب- النظام السياسي

ب- النظام الرئاسي د- النظام البرلماني

٢- تسعى أنظمة الحكم الديمقراطية الى

أ- تطبيق النظام البرلماني ب- تطبيق النظام الرئاسي

ج- توزيع عادل للسلطة د - تحديد أدوار الوزارات المختلفة

٣- من الدول التي تعتمد على النظام الرئاسي

أ- الولايات المتحدة الامريكية ب- روسيا

ج- بريطانيا د- فرنسا

٤- من الدول التي تعتمد على النظام شبه الرئاسي.....

أ- الولايات المتحدة الامريكية ب- مصر

ج- بريطانيا د- فرنسا

٥- من الدول التي تعتمد على النظام البرلماني

أ- الولايات المتحدة الامريكية ب- اليابان

٠٥٥٧٨٥٦٠٠٠-١

د- فرنسا

ج- بريطانيا

السؤال السابع والعشرون بم تفسر

- 1- لا يوجد نظام حكم مثالي
- 2- يتميز النظام الرئاسي بسمات عن غيره من أنظمة الحكم الأخرى

السؤال الثامن والعشرون

الانتخابات أداة الاختيار في ضوء هذه العبارة أحب عمالياتي

1- رتب الإجراءات الآتية :-

- اجراء الانتخابات - تقسيم الدوائر الانتخابية - تحديد الفائز-
- الترشح للانتخابات- فرز أصوات الناخبين- تحديد كشوف الناخبين

2- ما الشروط الواجب توفرها لإجراء الانتخابات



0087800-1