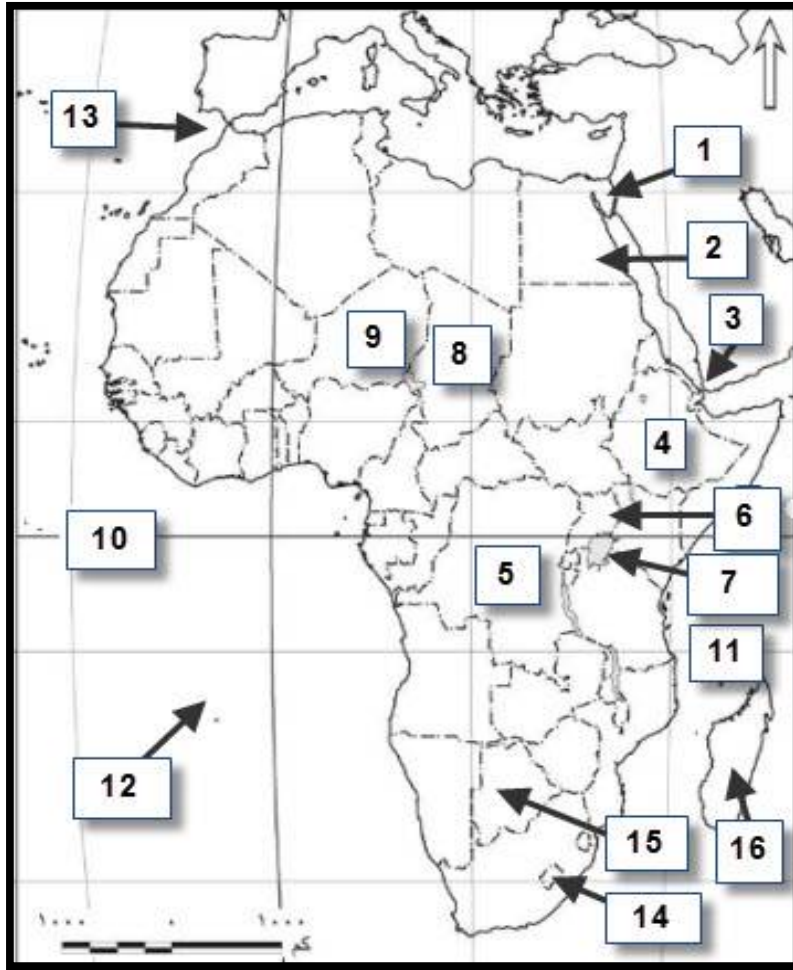


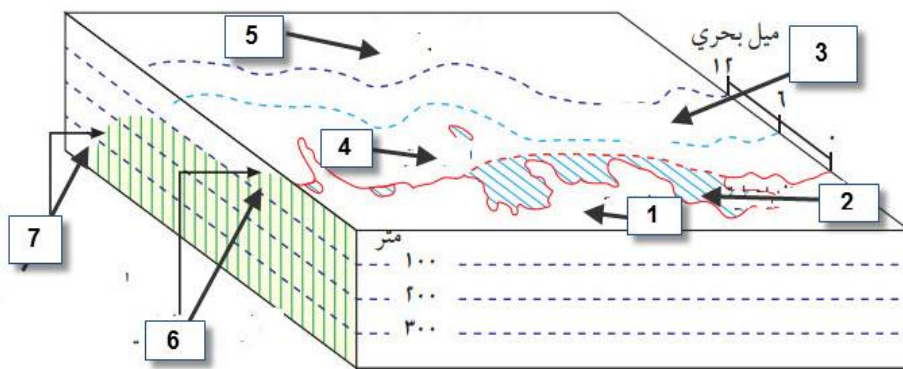
س1: أمامك خريطة لقاره افريقيا وضع عليها



- 1- ممر مائى عالمى
- 2- دوله مركزية
- 3- مضيق
- 4- دولة حبيسة
- 5- دوله ذات شكل مندمج وبروز.....
- 6- دوله حبيسة
- 7- بحيرة
- 8- دولة حبيسة
- 9- دوله حبيسة
- 10- دائره عرض
- 11- المحيط
- 12- المحيط
- 13- مضيق
- 14- دوله محتوى او جيوب
- 15- دوله حبيسة
- 16- جزيرة

1- قناه السويس	2- مصر	3- باب المنذب	4- اثيوبيا	5- الكنفو
6- اوغندا	7- فيكتوريا	8- تشاد	9- النيجر	10- خط الاستواء
11- الهندي	12- الاطلنطي	13- جبل طارق	14- ليسوتو	15- بتسوانا

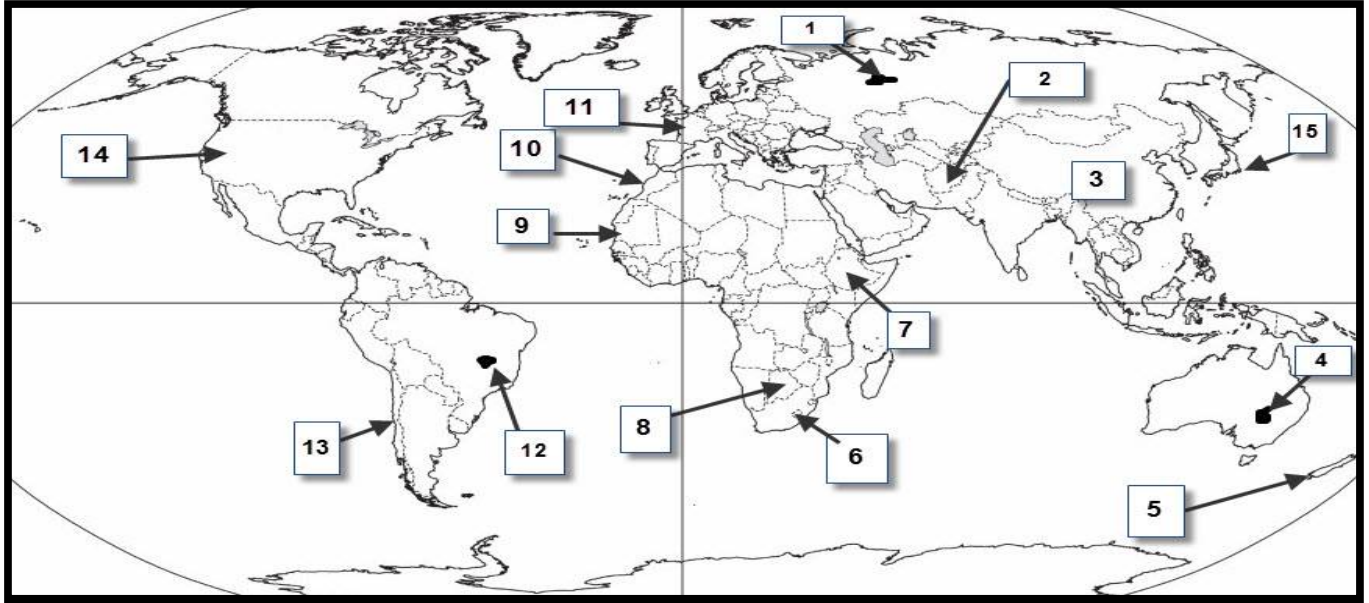
س2 :- انواع المناطق المائية



شكل (2-4): أنواع المناطق المائية

- 1- البياس
- 2- المياه الداخلية
- 3- المياه التكميلية (الملاصقه)
- 4- المياه الاقليمية
- 5- اعالى البحار
- 6- الرصيف القارى (المياه الدولية)
- 7- المنحدر القارى

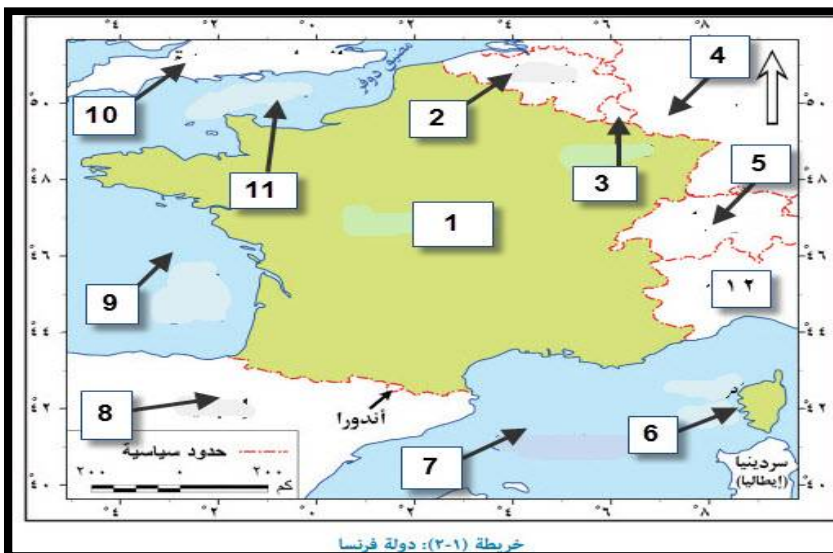
س 3: امامك خريطة للعالم ما مدلول الارقام الموضحة عليها



- 1- عاصمه وسط قوميه كبرى
 2 - دولة مندمجه ذات بروز
 3-دولة وحدويه ضخمة
 4-عاصمه صناعية5-دولة هامشية
 6-دوله المحتوى او الجيوب
 7-دوله حبيسة8-دوله حبيسة
 9-عاصمه تقع على ساحل المحيط الاطلسى 10-دوله تشرف على البحر بوجهتين
 11-دوله ذات الشكل المندمج او المنتظم 12-عاصمة صناعية
 13-دوله مستطيله 14-دوله بريه مجزأه 15-دوله بحريه مجزاه

1- روسيا	2- افغانستان	3- الصين	4- كانبرا باستراليا	5- نيوزيلاندا
6- ليسوتو	7- اثيوبيا	8- بتسوانا	9- نواكشوط (موريتانيا)	10- المغرب
11- فرنسا	12- برازيليا	13- شيلي	14- امريكا	15- اليابان

س 4:- امامك خريطة لفرنسا وضع عليها

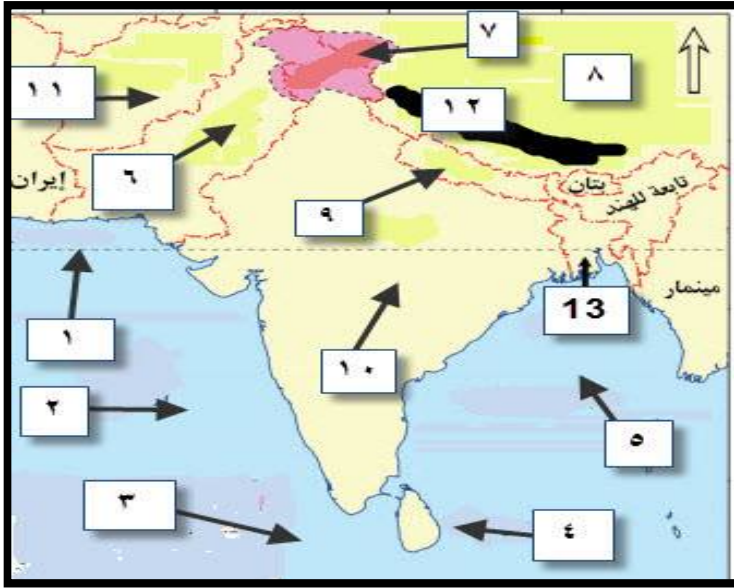


- 1- دولة
 2- دولة
 3- دولة
 4- دولة
 5- دولة
 6- جزيره تابعه لفرنسا
 7- البحر
 8- دولة
 9- خليج

- 10- المملكة
- 11- بحر
- 12- دولة

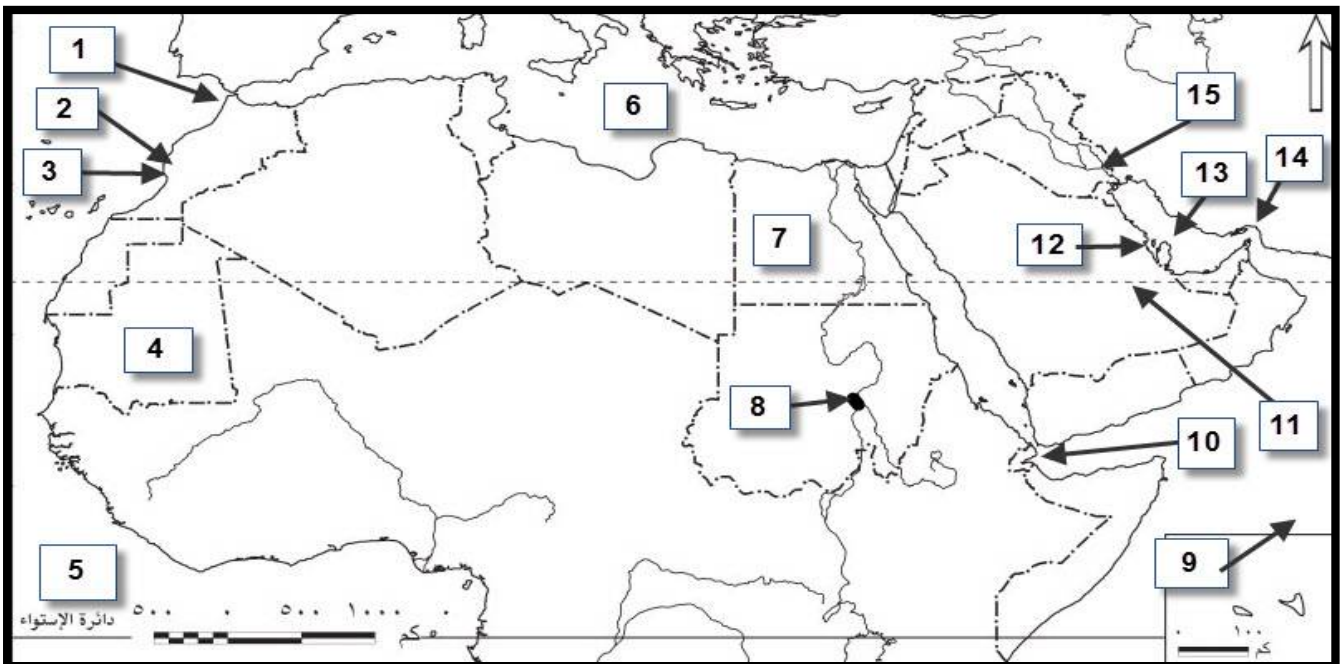
1-فرنسا	2-بلجيكا	1- لكسمبورج	2-المانيا	5-سويسرا	6-كوريا
7-المتوسط	8-اسبانيا	9-بسكي	10-المتحدة	11-الشمال	12-ايطاليا

س :- 5 خريطة لمشكلة كشمير والهند وباكستان



- 1- مدار 2- البحر
- 3- المحيط 4- جزيرة
- 5- خليج 6- دولة
- 7- اقليم (مشكلة)
- 8- دولة 9- دولة
- 10- دولة 11- دولة
- 12- جبال 13- دولة

1- مدار السرطان	2- العربي	3- الهندي	4- سريلانكا	5- البنغال
6- باكستان	7- كشمير	8- الصين	9- نيبال	10- الهند
11- افغانستان	12- الهيمالايا	13- بنجلاديش		



س 6: - خريطة للوطن العربي

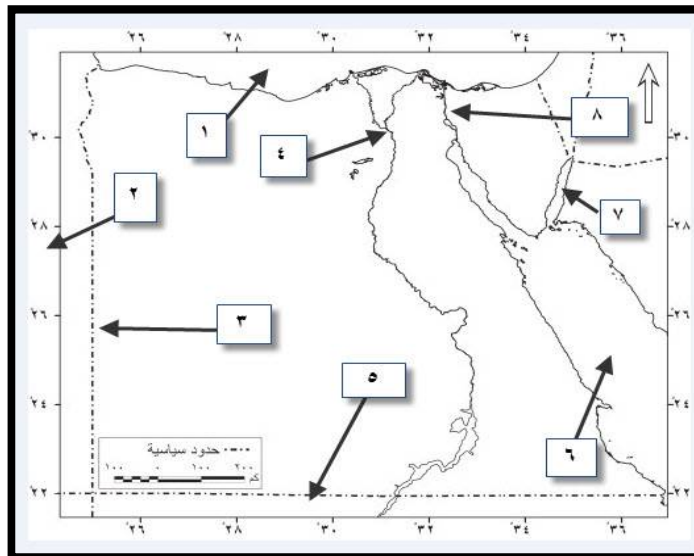
- 1- مضيق
- 2- دولة تشرف على البحر بجيھتين
- 3- دولة حدودها تشترك مع دولتان فقط
- 4 - عاصمه تقع على ساحل المحيط الاطلسى
- 5- المحيط6- البحر
- 7- دوله عاصمه تاريخية او (دولة ذات الشكل المندمج او المنتظم)
- 8- عاصمه اختيرت لسهوله المواصلات9- المحيط
- 10- مضيق11- مدار12- دولة قزمية
- 13- الخليج14- مضيق15- نهر حدودى

1- مضيق جبل طارق	2- المغرب	3- المغرب	4- نواكشوط عاصمه موريتانيا	5- الاطلنطى
6- المتوسط	7- مصر	8- الخرطوم (السودان)	9- الهندى	10- باب المنذب
11- السرطان	12- البحرين	13- العربى	14- هرمز	15- شط العربى (العراق - وايران)



أمامك عدد من الخرائط الخاصة بأشكال الدول المختلفة . صنف هذه الأشكال . أيهما أكثر أهمية فى الجغرافيا السياسية ؟ ولماذا ؟

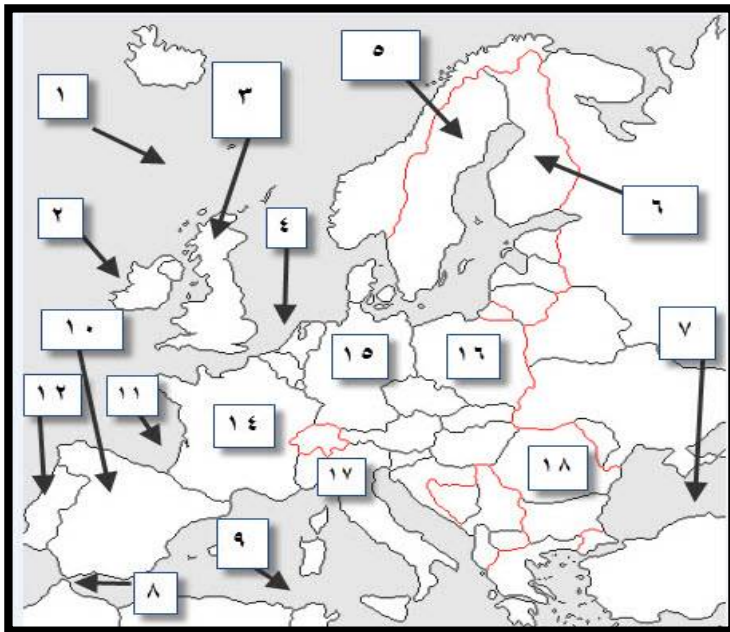
س 7: - خريطة جمهورية مصر العربية



- 1- البحر
- 2- دولة تحد مصر غربا
- 3- حد هندسى فلكى غربى
- 4- عاصمه دائمه (تاريخية)
- 5- حد هندسى فلكى جنوبى
- 6- البحر
- 7- خليج
- 8- ممر ملاحى عالمى

1- المتوسط	2- ليبيا	3- خط طول 25 بين مصر وليبيا شرقا	4- القاهرة	5- دائره عرض 22 بين مصر والسودان
11- الاحمر	7- العقبة	13- قناة السويس		

س 8:- الاتحاد الوروبي (1)



- 1- المحيط
- 2- دولة
- 3- دولة
- 4- بحر
- 5- دولة
- 6- دولة
- 7- البحر
- 8- مضيق
- 9- البحر
- 10- دولة
- 11- خليج
- 12- دولة
- 13- دولة
- 14- دولة
- 15- دولة
- 16- دولة
- 17- دولة
- 18- دولة

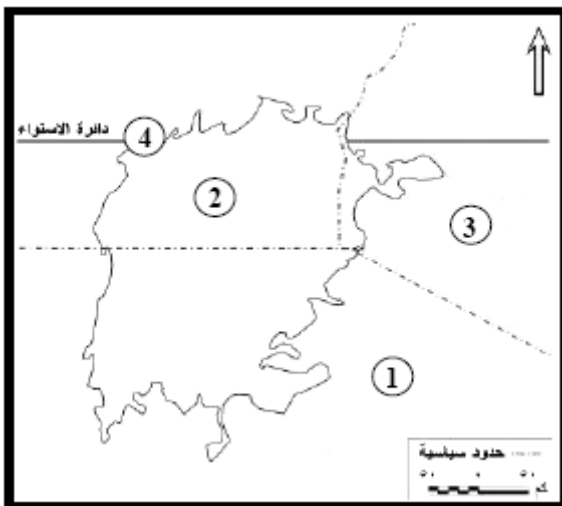
1- الاطلنطي	2- ايرلندا	3- بريطانيا	4- الشمال	5- السويد	6- فنلندا
7- الاسود	8- جبل طارق	9- المتوسط	10- اسبانيا	11- بسكى	12- البرتغال
14- فرنسا	15- المانيا	16- بولندا	17- ايطاليا	18- رومانيا	

س 9:- إدرس الخريطة التى أمامك ثم أجب على الأسئلة

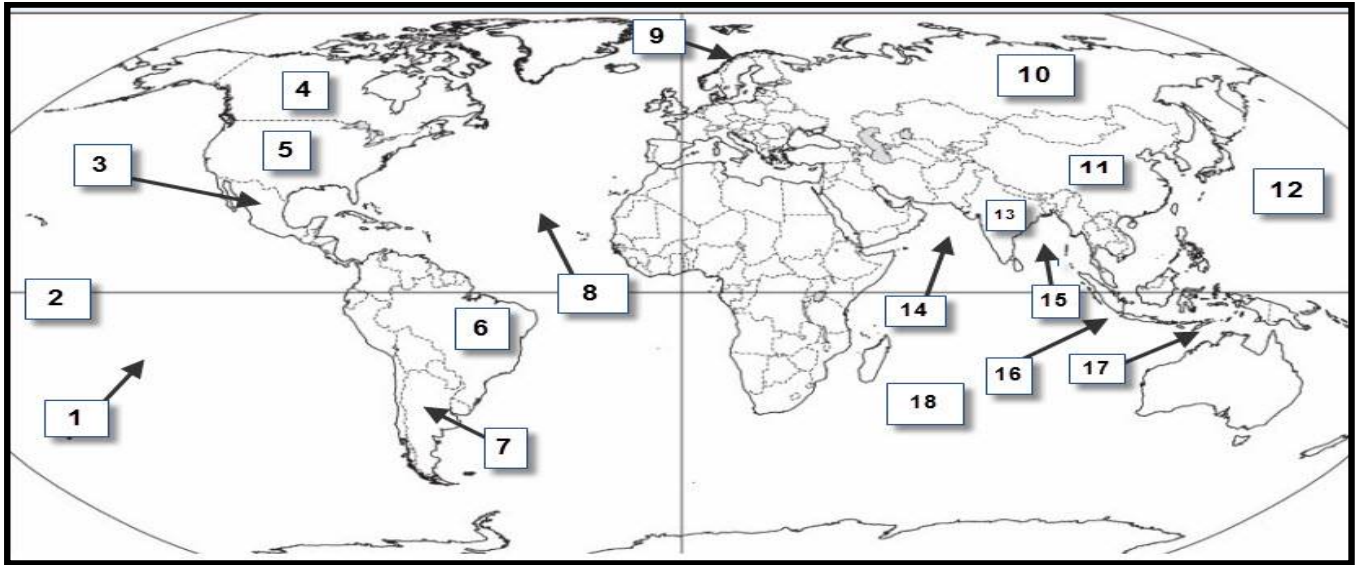
التالية :

1- أكتب ما تشير إليه الأرقام :

- 1. دولة
- 2. بحيرة
- 3. دولة
- 4. دولة



1- تنزانيا	2- فيكتوريا	3- كيينا	4- اوغندا
------------	-------------	----------	-----------



س 10: - خريطة العالم

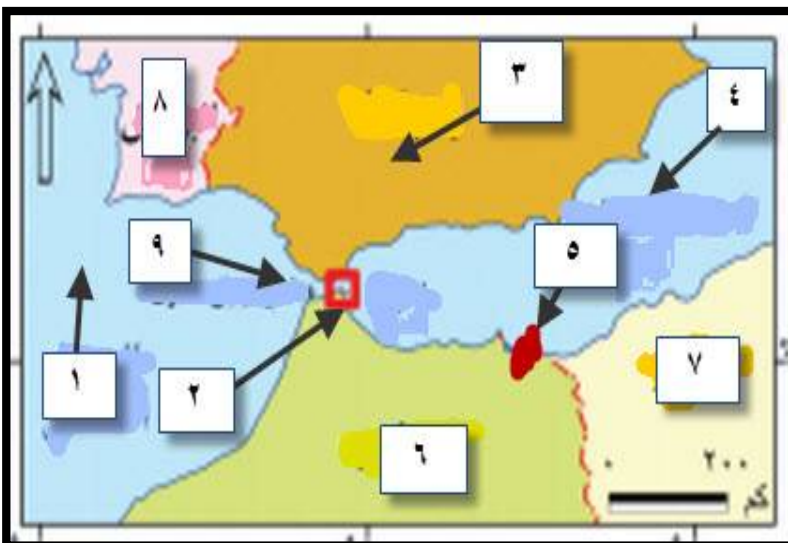
- 1- المحيط 2- دائره عرض 3- دولة 4- دولة
- 5- دولة 6- دولة 7- دولة 8- المحيط
- 9- دولة مستطيله او نجيله 10- اكبر دوله فى العالم من حيث المساحة
- 11- دولة وحدويه ضخمة 12- المحيط 13- دولة
- 14- البحر 15- خليج 16- جزر
- 17- جزيرة (اقلية مركزه جغرافيا) 18- المحيط

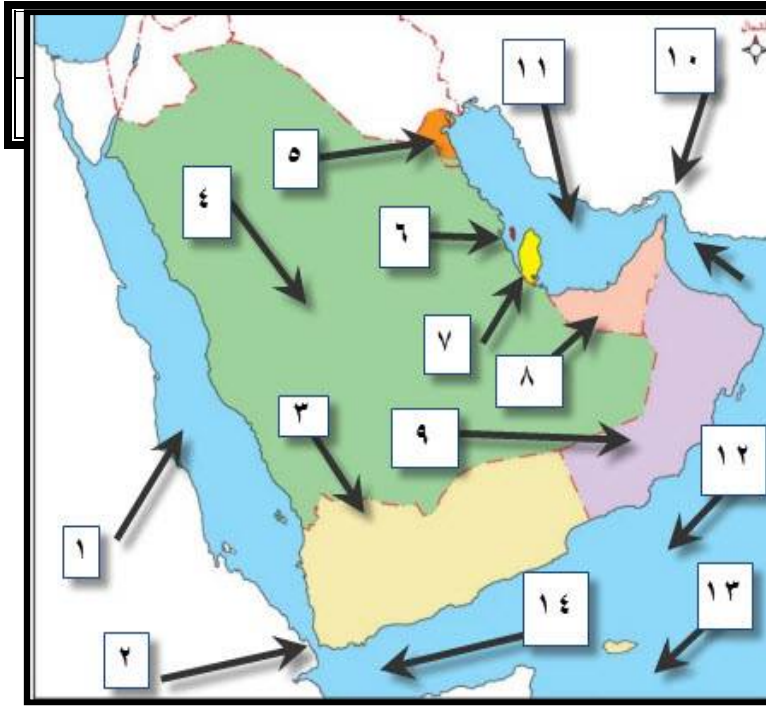
1- الهادى	2- الاستواء	3- المكسيك	4- كندا	5- الولايات المتحدة	6- البرازيل
7- الارجننتين	8- الاطلنطى	9- النرويج	10- روسيا	11- الصين	12- الهادى
13- الهند	14- العربى	15- البنغال	16- جزر اندونيسيا	17- تيمور	18- الهندى

س 11- امامك خريطة لـ سبتة

ومليله

- 1- المحيط
- 2- مدينة
- 3- دولة
- 4- البحر
- 5- مدينة
- 6- دولة
- 7- دولة
- 8- دولة
- 9- مضيق



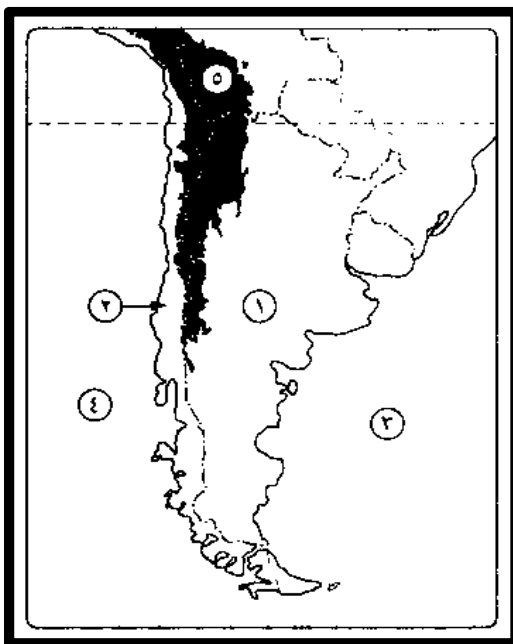


1- الاطلنطي	2- سبتة
6- المغرب	7- الجزائر

س12:- امامك خريطة صماء لدول الخليج العربي وضغ عليها ما يلي

- 1- البحر
- 2- مضيق
- 3- دولة
- 4- دولة
- 5- دولة
- 6- دولة (قرمية)
- 7- دولة
- 8- دولة
- 9- دولة
- 10- مضيق
- 11- الخليج
- 12- البحر
- 13- المحيط
- 14- خليج
- 15- خليج

1- الاحمر	2- باب المنذب	3- اليمن	4- السعودية	5- الكويت
6- البحرين	7- قطر	8- الامارات	9- عمان	10- هرمز
11- الخليج العربي	12- البحر العربي	13- الهندي	14- خليج عدن	15- خليج عمان



س13:- امامك خريطة لجزء من قارة أمريكا الجنوبية

1. دولة
2. دولة
3. المحيط
4. المحيط
5. حد سياسى طبيعى

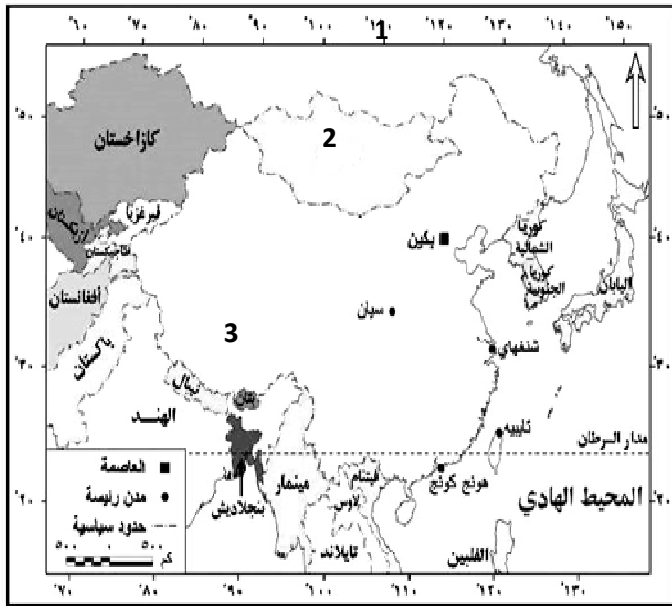
1- الارجنطين	2- تشيلي	3- الاطلنطي
4- المحيط الهادي	12- جبال الانديز	



س14 :- أمامك خريطة لدولة تونس .

1. مسطح مائى
2. مسطح مائى
3. مضيق
4. جزيرة
5. جزيرة
6. دولة

1-البحر التيراني	2-البحر المتوسط	3-صقلية
4-صقلية	5- سيردينا	6- ليبيا



س15 : إدرس الخريطة التى أمامك ثم أجب على الأسئلة التالية :

1. دولة وتبلغ مساحتها
2. دولة وهى نموذج للشكل المتجه من الشرق إلى الغرب .
3. دولة وهى من الدول كبيرة المساحة التى تتميز بالتقدم الإقتصادى

1-روسيا الاتحادية	2-منغوليا	3-الصين
-------------------	-----------	---------

إمتحان الخرائط

16- امامك خريطة للعالم وضع مدلول الارقام عليها

- 1-المحيط.....2-البحر.....3- دولة برية بحرية مجزأة.....4- دولة ذات شكل مندمج.....5- دولة يغلب عليها الطابع السهلي.....6- دولة عضو في الاتحاد الاوروبي.....7- دولة.....8- اخر الدول المنضمة للاتحاد الاوروبي.....9- دولة.....10- بحر.....11- دولة اوربية مجزأة.....2-البحر.....13- جزيرة.....14- دولة مرشحة للانضمام للاتحاد الاوروبي....15- اصغر دول الاتحاد الاوروبي سكانا.....16- اخر الدول المنضمة للاتحاد الاوروبي عام 1986م.....
- 17- دولة بها العاصمة مقسمة.....18- دولة بها مقر الناتو والمفوضية الاوروبية.....19- بحر.....
- 20- دولة تفككت عام 1991م الى 15 دولة.....21- المحيط.....22- دولة.....23- دولة.....24- دولة جبيسة.....25- دولة حبيسة.....26- دولة سهليه.....27- دولة.....قبل التقسيم.....28- دولة حبيسة.....29- دولة نحيلة الشكل.....30- دولة مجزأة بحرية.....31- دولة مندمجة ذات بروز.....



