

نموذج تجريبي
إعداد أ / علي محمد عبدالله
٠١٠٩٩٦٩٦٨٨٣

تعليمات هامة:

عزيزي الطالب:

١. اقرأ السؤال بعناية، وفكر فيه جيداً قبل البدء في إجابته.
 ٢. أجب عن جميع الأسئلة ولا تترك أي سؤال دون إجابة.
 ٣. عند إجابتك للأسئلة للمقالية، أجب فيما لايزيد عن المساحة المحددة لكل سؤال.
- مثال :

.....
.....
.....

٤. عند إجابتك عن أسئلة الاختيار من متعدد إن وجدت:
ظلل الدائرة ذات الرمز الدال على الإجابة الصحيحة تظليلاً كاملاً لكل سؤال .
مثال : الإجابة الصحيحة (ج) مثلاً

.....
.....
.....
.....

- في حالة ما إذا أجبنا إجابة خطأ، ثم قمنا بالشطب وأجبنا إجابة صحيحة تحسب الإجابة صحيحة.
- وفي حالة ما إذا أجبنا إجابة صحيحة، ثم قمنا بالشطب وأجبنا إجابة خطأ تحسب الإجابة خطأ.
- في حالة التظليل على أكثر من رمز، تعتبر الإجابة خطأ.

ملحوظة:

لا تكرر الإجابة عن الأسئلة الموضوعية (الاختبار من متعدد) ،
فلن تقدر إلا الإجابة الأولى فقط .

- ٥- إذا أجبنا عن سؤال من الأسئلة المقالية بإجابتين ، فسيتم تقدير الإجابة الأولى فقط ، فاشطب أنت الإجابة التي لا ترغب فيها .
- ٦- عدد أسئلة كراسة الامتحان (٣٢) سؤالاً .
- ٧- عدد صفحات كراسة الامتحان (١٦) صفحة .
- ٨- تأكد من ترقيم الأسئلة ، ومن عدد صفحات كراسة الامتحان ، فهي مسؤوليتك .
- ٩- زمن الاختبار (٣) ساعات .
- ١٠- الدرجة الكلية للاختبار (٦٠) درجة

١- أكتب كلمة (صواب) أو (خطأ) أمام العبارة الآتية مع ذكر السبب في الحالتين :

أن المؤشر الحقيقي لقوة الدولة العسكرية ليس في عدد أفراد قوات جيشها

.....
.....
.....
.....
.....

٢- ما المقصود بالمصطلحات الجغرافية الآتية :

- الأحلاف العسكرية

.....
.....
.....

- المياه الإقليمية

.....
.....
.....

٣- أول من طرح فكرة نظام عالي جديد هو الرئيس

جورج بوش الأب

جوربا تشوف

ويلسون

جورج بوش الابن

أ

ب

ج

د

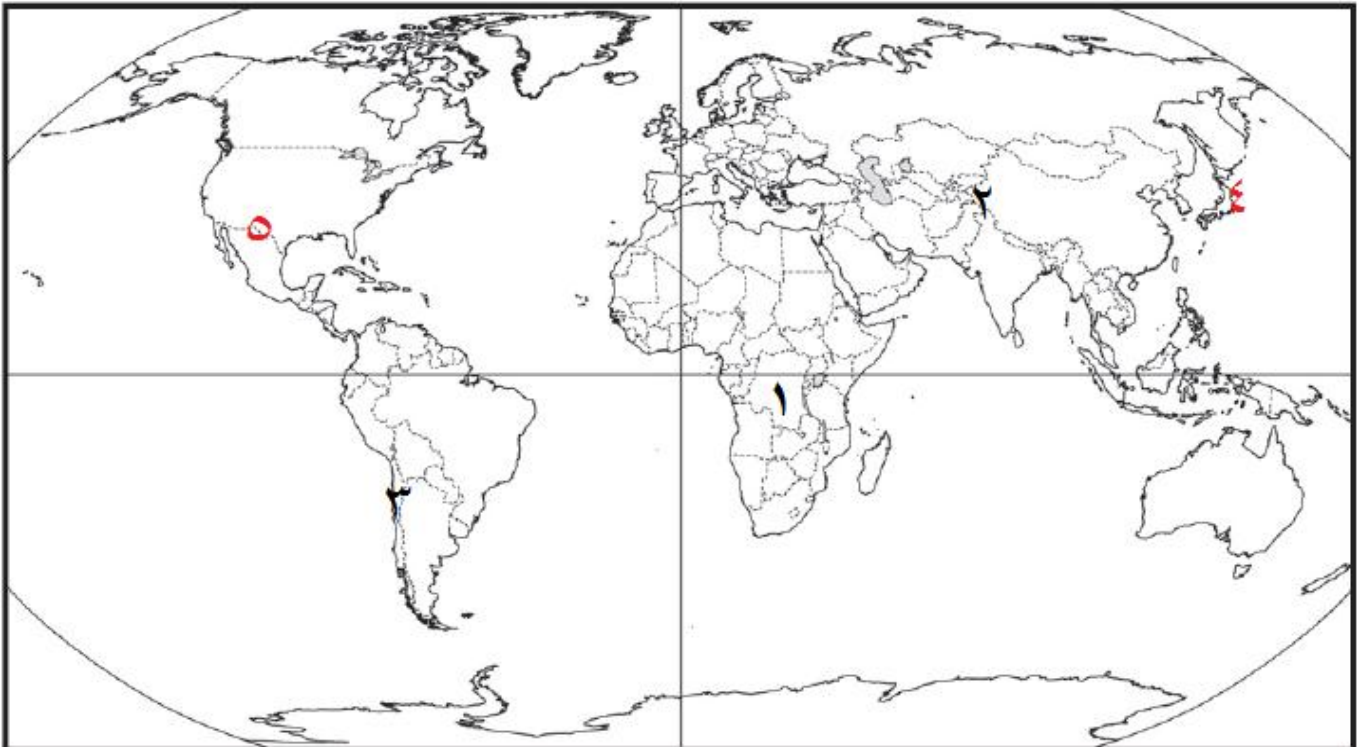
٤- بم تفسر :

- تعد الدولة الكونفدرالية أقل أنواع الدول شيوعًا وأكثرها هشاشة ؟

.....
.....
.....
.....
.....

٥- أمامك خريطة صماء للعالم ، أكتب ماتدل عليه الأرقام الموقعة عليها:

- ١- دولة مندمجة ذات بروز.....
- ٢- مشكلة سياسية
- ٣- دولة ذات شكل طولى
- ٤- عاصمة مستحدثة.....
- ٥- حد سياسي طبيعي



٦- أيد بالأدلة الجغرافية صحة العبارة الآتية:


النظام العالى الجديد له تأثيرا كبيرا على دول العالم المتقدم منها والنامى

٧- ما وجه الشبه والاختلاف بين ...؟

الدولة والأمة

٨- من الدول التى اعترفت ب حرية الاقلييات في لغتهم القومية

إيطاليا



الولايات المتحدة الأمريكية



الهند



العراق



٩- ما العلاقة بين ...؟

التكنولوجيا - قوة الدولة؟

.....

.....

.....

.....

١٠- ضع كلمة (صواب) أو (خطأ) أمام العبارة الآتية مع ذكر السبب في الحالتين :

ظهر الاستقطاب العالمي في بداية الستينيات بين قوتين عظيمتين تنازعتا السيادة ع خريطة العالم

.....

.....

.....

١١- بم تفسر : نشأة حلف الناتو؟

.....

.....

.....

.....

١٢- تحولت السوق الأوروبية إلى الاتحاد الأوروبي بمقتضى معاهدة ...

روما

أ

ماسترخيت

ب

كوبنهاجن

ج

مدريد

د

١٣- ماذا يحدث اذا :

كانت الاقلية موزعة ومنتشرة جغرافيا على كل أرجاء الدولة

.....

.....

.....

.....

.....

١٤- بم تفسر :

أهمية الرصيف القارى ؟

.....

.....

.....

١٥- ما النتائج المترتبة على ..؟

وجود نظام نقل متكامل ومتطور لدى الدولة

.....

.....

.....

.....

.....

١٦- ما وجه الشبه والاختلاف بين

الجغرافيا السياسية والجيوبولتيك

١٧- اكتب كلمة (صواب) او (خطا) امام العبارة الآتية مع ذكر السبب في الحالتين :

عقد الملك رمسيس الثالث معاهدة مع ملك الحيثيين

١٨- وضح دور منظمة الأمم المتحدة من الناحية السياسية والإنسانية في حل بعض المشكلات والنزاعات الدولية

١٩- " تعد المشكلات السياسية في معظمها أرث للاستعمار " في ضوء هذه العبارة وضح الآتي :

- أسباب النزاعات السياسية المترتبة على حركة القبائل بين الوحدات السياسية

- حجج أسبانيا للبقاء في سبتة ومليلة ؟

- ما مقترحاتك لحل مشكلة كشمير

٢٠- بم تفسر :

أهمية الموقع البحري للدولة

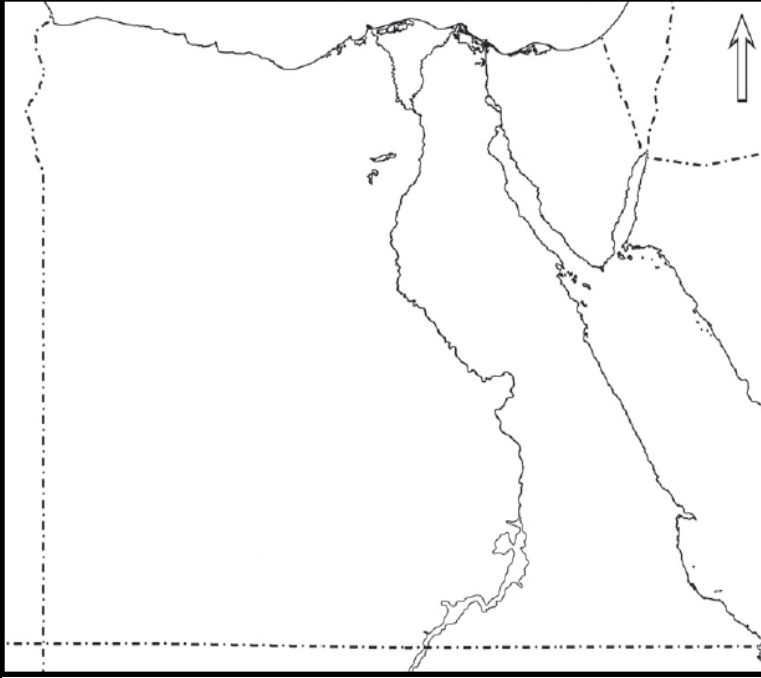
٢١- صنف الدول الآتية من حيث الشكل

(اليابان - الولايات المتحدة - أفغانستان - ليسوتو - مصر)

٢٢- ماذا يحدث اذا

لم يتم ترسيم الحدود السياسية وتخطيطها بين الدول ؟

٢٣- أمامك خريطة صماء لمصر وقع عليها ما يلي



١- حد سياسي يسير مع دائرة عرض

٢- مدار السرطان

٣- خليج العقبة

٤- ممر استراتيجي

٥- منطقة حدثت فيها هجرة قسرية لدوافع قومية

٢٤- ما المقصود بالمصطلحات الجغرافية الآتية :

- الجغرافيا السياسية

.....
.....
.....

- الحدود السياسية

.....
.....
.....

٢٥- أيد بالأدلة الجغرافية صحة العبارة الآتية :

الحجم الكبير للسكان سلاح ذو حدين ؟

.....

.....

.....

.....

.....

.....

٢٦- ما وجه الشبه والاختلاف بين ؟

التفرقة العنصرية في دولتي جنوب أفريقيا و الولايات المتحدة الأمريكية

.....

.....

.....

.....

.....

.....

.....

.....

.....

٢٧- تسيير الحدود السياسية على بحيرة فيكتوريا وفقا

أ () الإتفاقيات

ب () خط العمق الملاحي

ج () الخط الأوسط

د () خطوط الطول

٢٨- ماذا يحدث اذا :

كانت مصر ذات شكل مستطيل طولى ممتد من الشمال إلى الجنوب ؟

.....

.....

.....

.....

.....

٢٩- ما النتائج المترتبة على ..؟

اكتفاء الدولة ذاتيا من الغذاء؟

.....

.....

.....

.....

.....

٣٠- قارن بين : المجلس الأوروبي بالاتحاد الأوروبي و المجلس الأعلى بمجلس التعاون لدول الخليج العربي

من حيث الأعضاء والمهام

.....

.....

.....

.....

.....

٣١- أيد بالأدلة الجغرافية صحة العبارة الآتية :

كثرة الدول المجاورة للدولة سلاح ذو حدين

.....

.....

.....

.....

.....

٣٢- بم تفسر :

لا يوجد نظام حكم مثالي على مستوى العالم

.....

.....

.....

.....

.....

انتهت الأسئلة مع أطيب التمنيات بالتوفيق

مع خالص الأمانى بالنجاح والتفوق الباهر

أ/على محمد عبدالله

معلم أول جغرافيا بمدرسة النواورث . م

٠١٠٩٩٦٩٦٨٨٣