

بِسْمِ اللَّهِ الرَّحْمَنِ الرَّحِيمِ

ابني الطالب / ابنتي الطالبة
أقدم لكم هذا العمل المتواضع

خمس اختبارات

عن الوحدة الثانية: المشكلات السياسية بنظام البوكيت

وحرصت على:-

تنوع الأسئلة ✓

أن تشمل الأسئلة أكبر قدر من معلومات الوحدة ✓

ملحوظة :-

بكل اختبار خريطتان ولكن المطلوب أكثر من آخر العام وهذا للتدريب

نسألكم الدعاء

إن كان هناك توفيق من الله

وان كان هناك أخطاء فمن عندي وأرجو المعذرة

مع تحيات : طلعت ليله

موجه بالدقهلية

**اختبار الجغرافيا السياسية الوحدة الثانية
النموذج الأول**

اجب عن الأسئلة التالية

١. ما وجه الشبه والاختلاف بين : بحيرة فيكتوريا والبحيرات العظمى كحدود سياسية

٢. ما رأيك في العبارة التالية : يمكن للعالم ان يواجه مشكلاته الاقتصادية

٣. اذكر:- تأثير الهجرة غير الشرعية على الجانب الاقتصادي.

٤. غالباً ما تمتد هذه الحدود الهندسية في مناطق

أ) غير أهلة بالسكان

ب) أهلة بالسكان

ج) نهريه

د) جبليه

٥. ما النتائج المترتبة على :- التوتر وعدم الاستقرار على الحد السياسي بين الدول

٦. ماذا كان يحدث اذا:- ظلت خريطة العالم السياسية كما رسمت بعد الحرب العالمية الثانية.

٧. يساهم بنحو % ١٠ من التجارة الدولية

أ) الفحم

ب) البترول

ج) الغاز الطبيعي

د) اليورانيوم

٨. اذكر:- اسباب النزاعات السياسية المترتبة على حركة القبائل بين الحدود السياسية.

٩. توجد أقليات..... داخل تركيا وإيران

- أ صربية
- ب كرواتية
- ج كردية
- د ألبانية

١٠. اكتب كلمة (صواب) أو كلمة (خطأ) أمام العبارة الآتية مع ذكر السبب في الحالتين
قلت حدة الهجرة غير الشرعية في الفترة الأخيرة واصبحت ظاهرة غير واضحة.

١١. بم تفسر:- وضوح دور الجغرافيين في المرحلة الثانية والثالثة لتخطيط الحدود.

١٢. - أمامك خريطة للأمريكتين اكتب عليها



١- جبال الانديز

٢- خليج المكسيك

٣- كندا

٤- الولايات المتحدة

٥- المحيط الهادي

٦- البرازيل

٧- نهر ريوجراند

٨- البحيرات العظمى

٩- الأرجنتين

١٠- المكسيك

١١- المحيط الاطلنطي

١٢- شيلي

١٣. س ما العلاقة بين الثورة التكنولوجية والمعلوماتية وأثرها على وظائف الحدود السياسية

١٤. من الدول التي تتميز بتعدد اللغات بها

أ) فرنسا

ب) مصر

ج) ليبيا

د) سويسرا

١٥. تعد جبال من الحدود الجبلية بين الأرجنتين وشيلي

أ) الإنديز

ب) روكي

ج) الهيمالايا

د) الألب

١٦. ماذا كان يحدث اذا:- لم يحدد الحد البحري بدقة

١٧. برهن على صحة العبارات الآتية:-
تلعب الأنهار كحدود سياسية طبيعية دورا في زيادة ونقص مساحة الدول.

١٨. ما المقصود بالمفاهيم الجغرافية الآتية:- الشركات متعددة الجنسيات

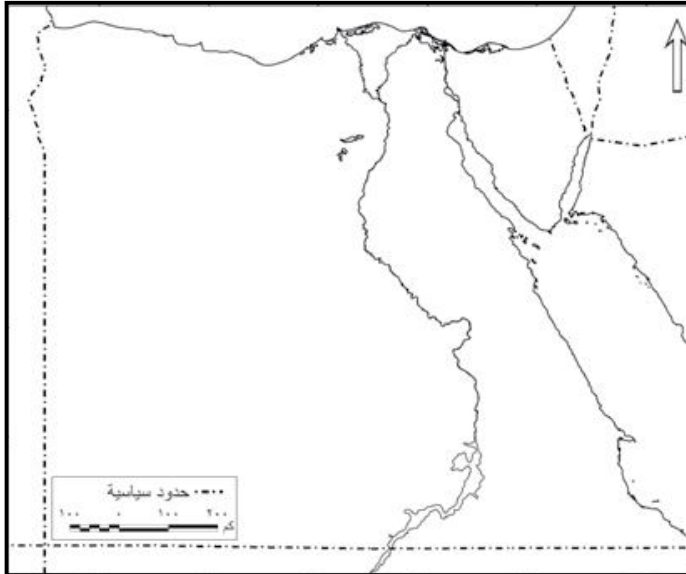
١٩. بم تفسر:- تعدد أسباب النزاعات على الأنهار الدولية؟

٢٠. ما المقصود بالمفاهيم الجغرافية الآتية:- منظمة الفاو

٢١. ما النتائج المترتبة على :- وجود اتفاقيات ومعاهدات بين الدول من اجل استغلال الانهار الدولية.

٢٢. اكتب كلمة (صواب) أو كلمة (خطأ) أمام العبارة الآتية مع ذكر السبب في الحالتين
ظهرت الحدود السياسية الخطية نتيجة إبرام المعاهدات بين الدول .

٢٣. أمامك خريطة صماء لمصر وقع عليها ما يلي:



١. خليج العقبة
٢. حدين هندسيين
٣. حدين طبيعيين
٤. دولة شمال شرق مصر
٥. بحيرة السد العالي (ناصر)
٦. مدينة القاهرة
٧. قناة السويس
٨. شبه جزيرة سيناء
٩. خليج السويس
١٠. مدار السرطان

٢٤. ما العلاقة بين :- الهجرة القسرية – الصراعات السياسية

٢٥. كانت الحدود قديماً عبارة عن على هوامش الدولة

- خطوط (أ)
اسلاك (ب)
نقاط (ج)
تجمعات (د)

٢٦. ما وجه الشبه والاختلاف بين هجرة أهالي النوبة والفلسطينيين

٢٧. ما رأيك في العبارة التالية : للرسوم الجمركية على السلع المستوردة لها آثار ايجابية

٢٨. ما المقصود بالمفاهيم الجغرافية الآتية:- المياه التكميلية

٢٩. بم تفسر:- ما زالت اسبانيا متمسكة بمدينة سبتة ومليلة.

٣٠. تعتبر الحدود.....خطوط دفاعية تستغلها الدول لاقامة تحصينات عليها والدفاع عن

نفسها ضد اي غزو خارجي

أ) النهرية

ب) البحرية

ج) البحيرية

د) الجبلية

٣١. قارن بين : الحدود السياسية والتخوم

- ٣٢ . اشتهرت ولاية كشمير في فترة الاستعمار..... بأنها كانت مكان مناسب لقضاء أجازتهم الصيفية
- أ) الفرنسي
ب) الأسباني
ج) الإيطالي
د) البريطاني

٣٣ . بم تفسر:- تلجأ بعض الدول للاعتراف بحرية الأقليات في استخدام لغتها القومية.

٣٤ . ما النتائج المترتبة على :- تمركز سكان تيمور الشرقية في اندونيسيا

٣٥ . ماذا كان يحدث اذا:- لم يهتم الدول والمنظمات بحقوق الاقلية.

٣٦. ما المقصود بالمفاهيم الجغرافية الآتية:- الهجرة غير الشرعية

٣٧.

تعد التخوم.....

- Ⓐ ظاهرة بشرية
Ⓑ ظاهرة قانونية
Ⓒ ظاهرة ثابتة في المكان لا تتغير
Ⓓ ظاهرة قابلة للحركة والنقل

٣٨. اكتب كلمة (صواب) أو كلمة (خطأ) أمام العبارة الآتية مع ذكر السبب في الحالتين الحدود الفلكية تتفق مع خطوط الطول ودوائر العرض وأكثر القارات استخداماً لها اسيا.

٣٩. بم تفسر:- تعتبر الجبال بمثابة خطوط دفاعية.

٤٠. ما النتائج المترتبة على :- استخدام اللغة فى رسم الحدود لمنطقة وسط اوروبا.

٤١. اكتب كلمة (صواب) أو كلمة (خطأ) أمام العبارة الآتية مع ذكر السبب في الحالتين
تعمل المغرب الان على حل مشكلة سبته ومليلة بعيداً عن الاساليب الدبلوماسية.

٤٢. الديانة السائدة فى كشمير هى

أ) الهندوستانية

ب) الاسلام

ج) المسيحية

د) البوذية

٤٣. اكتب كلمة (صواب) أو كلمة (خطأ) أمام العبارة الآتية مع ذكر السبب في الحالتين
يواجه العالم اليوم مشكلات اقتصادية عديدة .

٤٤. ماذا كان يحدث اذا:-
لم تظهر البترول والغاز الطبيعي في مياه الرصيف البحرى الليبى.

٤٥. بم تفسر:- لا يمثل العرق والسلالة دائما مشكلة سياسية في حد ذاته

اختبار الجغرافيا السياسية الوحدة الثانية النموذج الثاني

اجب عن الأسئلة التالية

١. بم تفسر:-

تعد الحماية والأمن الوظيفة الأكثر أهمية للحدود السياسية.

٢. لا يجوز في الدول التي توجد فيها اقلية عرقية أو دينية أو لغوية أن يحرم الأشخاص المنتمين الى الاقلية المذكورة من حق التمتع

أ) بالتعليم

ب) بالسفر

ج) بالرعاية

د) بثقافتهم الخاصة

٣. اكتب كلمة (صواب) أو كلمة (خطأ) أمام العبارة الآتية مع ذكر السبب في الحالتين
تمتد الحدود الهندسية في مناطق مبعثرة السكان أو خالية من الموارد الطبيعية

٤. ما رأيك في العبارة التالية لا تعد المياه الداخلية جزء من المياه الإقليمية

٥. ما النتائج المترتبة على :- استخدام الانهار كحدود سياسية.

٦. اذكر:- وجه الشبه والاختلاف بين الايكواس واللجنة العليا للتعاون الاقتصادي

٧. ما العلاقة بين :- الاستعمار والمشكلات السياسية

٨. يعد نهر فى فرنسا من أمثلة الأنهار المحلية

- أ) الراين
ب) الدانوب
ج) السين
د) المسيسيبي

٩. بم تفسر:- الاقليات اللغوية اقل انواع الاقليات انتشارا

١٠. اكتب كلمة (صواب) أو كلمة (خطأ) أمام العبارة الآتية مع ذكر السبب في الحالتين
يحق لأي دولة أن تتدخل في حرية الملاحة في المياه الإقليمية

١١. برهن على صحة العبارات الآتية:- تبدو الحدود الهندسية واضحة في حدود مصر السياسية.

١٢. ما المقصود بالمفاهيم الجغرافية الآتية:- الحد السياسي البحري

١٣. تعد الأقليات الروسية نموذج للأقليات.....

- أ) القومية
ب) الدينية
ج) اللغوية
د) العرقية

١٤. ما النتائج المترتبة على :- تأثير الحرب العالمية الأولى والثانية على خريطة العالم السياسية.

١٥. اكتب كلمة (صواب) أو كلمة (خطأ) أمام العبارة الآتية مع ذكر السبب في الحالتين
يهتم صندوق النقد الدولي بتمويل المشروعات من اغراض الانتاج.

١٦. يفصل مضيق هرمز بين.....

- أ) المغرب وأسبانيا
ب) الصومال وجيبوتي
ج) إيران وعمان
د) جزيرة سومطرة وسنغافورة

١٧. ما المقصود بالمفاهيم الجغرافية الآتية: مركز التجارة الدولي

١٨. ما المقصود بالمفاهيم الجغرافية الآتية:- الحدود السياسية.

١٩. ماذا كان يحدث اذا:- استمر العالم بلا حدود سياسية .

٢٠. اكتب كلمة (صواب) أو كلمة (خطأ) أمام العبارة الآتية مع ذكر السبب في الحالتين
تم تهجير اهالى النوبة بسبب الكوارث الطبيعية.

٢١. ما المقصود بالمفاهيم الجغرافية الآتية:- وطن الاقلية

٢٢. قارن بين كل من: الحدود الإثنوآرافية والهندسية.

٢٣. بم تفسر:- شهرة كشمير اثناء الاحتلال البريطاني.

٢٤. السلطة الحاكمة في كشمير

أ) الهندوسية

ب) الإسلام

ج) المسيحية

د) البودية

٢٥. وضح كيف اثرت ازمة البترول في العلاقات الدولية

٢٦. ما الفرق بين: الأنهار المحلية - الأنهار الدولية.

٢٧. اكتب كلمة (صواب) أو كلمة (خطأ) أمام العبارة الآتية مع ذكر السبب في الحالتين
أصدرت اسبانيا قرار بحصول السكان في سبته ومليلة على الإقامة.

٢٨. يتم الاستعانة بالخرائط التفصيلية في رسم الحدود السياسية في مرحلة

- أ) التعريف
- ب) التعيين
- ج) إدارة الحد
- د) جميع ما سبق

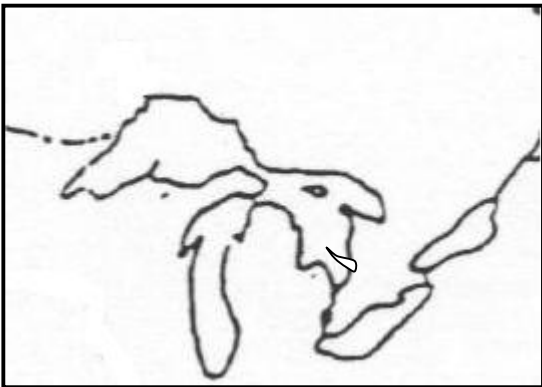
٢٩. بم تفسر:- قلة الأثر السياسي للفحم.

٣٠. اكتب كلمة (صواب) أو كلمة (خطأ) أمام العبارة الآتية مع ذكر السبب في الحالتين
يمثل العرق أو السلالة مشكله سياسية في كل الأحوال

٣١. بم تفسر:- قيام بعض الدول بتغيير مسار حدودها السياسية.

٣٢. ما النتائج المترتبة على :- تأثير زيادة عدد السكان على نشأة الحدود السياسية.

٣٣. - أمامك خريطة للبحيرات العظمى اكتب عليها



- ١ - دولة كندا
- ٢ - دولة الولايات المتحدة
- ٣ - بحيرة سوبريور
- ٤ - بحيرة انتاريو
- ٥ - بحيرة هورن
- ٦ - بحيرة ايري
- ٧ - بحيرة متشجن

٣٤. ما العلاقة بين: تصفية الاستعمار لمستعمراته والحدود السياسية.

٣٥. من نماذج الاتفاقيات الخاصة بتنظيم حركة الرعاة معاهدة ترسيم الحدود السياسية بين السعودية ودولة.....

- أ) مورتانيا
- ب) السنغال
- ج) اليمن
- د) النيجر

٣٦. الحد السياسي بين مصر وليبيا حد في معظمه

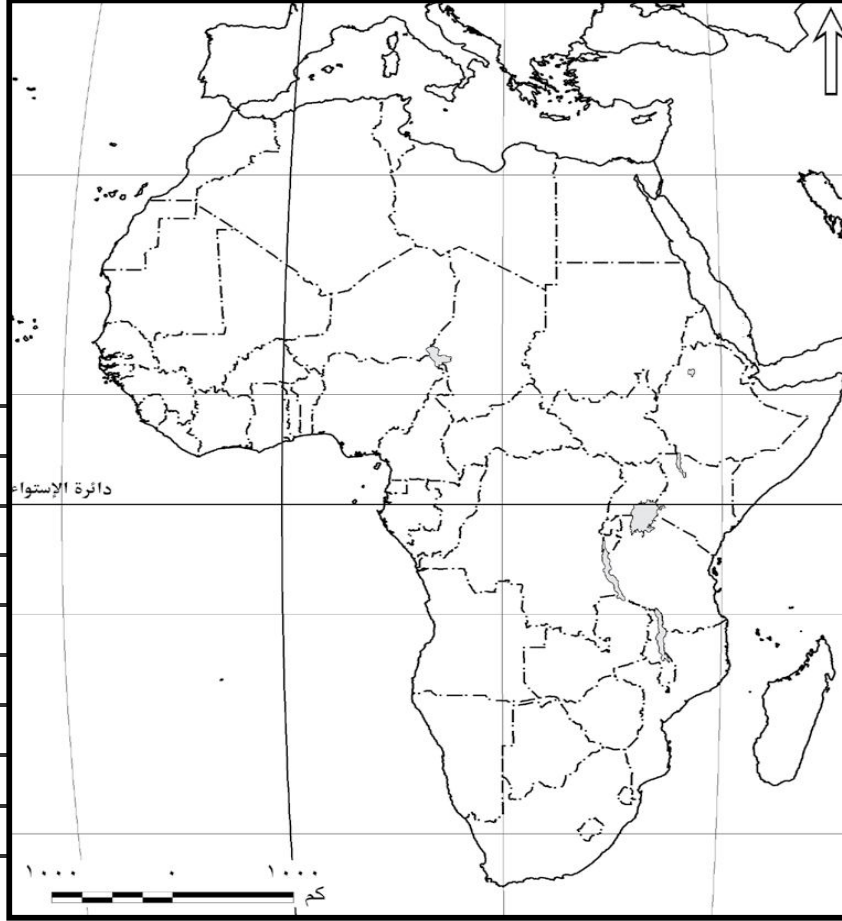
- أ) طبيعي
- ب) جبلي
- ج) حضاري
- د) فلكي

٣٧. برهن على صحة العبارات الآتية:- وجود الأقليات في معظم دول العالم.

٣٨. التخوم لها أساس

- أ) قانوني
- ب) جغرافي
- ج) سياسي
- د) اقتصادي

٣٩. أمامك خريطة صماء لإفريقيا حدد عليها ما يلي:



- قناة السويس .
- مضيق باب المندب .
- مضيق جبل طارق .
- بحيرة فكتوريا .
- الدائرة الاستوائية
- مدار السرطان .
- خط جرينتش
- دولة موريتانيا
- دولة بوركينا فاسو
- دولة النيجر
- دولة مالي
- دولة مصر
- دولة المغرب
- بحيرة فكتوريا
- دولة اوغندا
- دولة كينيا
- دولة تنزانيا

٤٠. قارن بين كل من :- موقف ايطاليا وموقف العراق من الأقليات اللغوية

٤١. اذكر او وضح :- تأثير الهجرة غير الشرعية على الجانب الامنى والسياسى للدولة.

٤٢. ما رأيك في العبارة التالية
يوجد على المسرح السياسي الدولي العديد من الحركات الاجتماعية التي تأخذ أشكالاً متعددة

٤٣. يعتبر امتداد الحدود مع خط تقسيم المياه شكل الحدود السياسية على

- أ) الأنهار
ب) البحار
ج) الجبال
د) البحيرات

٤٤. بم تفسر:- أهمية المياه المحايدة والارصفة القارية لبعض دول العالم.

٤٥. ما العلاقة بين كل من : الخصائص الاثنوغرافية والحدود السياسية في اوربا

٤٦. اكتب كلمة (صواب) أو كلمة (خطأ) أمام العبارة الآتية مع ذكر السبب في الحالتين
يواجه العالم اليوم مشكلات اقتصادية عديدة .

٤٧. دلل جغرافيًا على صحة هذه العبارات:
توجد مؤسسات دولية تهتم بالتعاون الدولي لمواجهة المشكلات الاقتصادية؟

اختبار الجغرافيا السياسية الوحدة الثانية النموذج الثالث

اجب عن الأسئلة التالية

١. بم تفسر:- أهمية مركز التجارة الدولي.

٢. ما النتائج المترتبة على :- رسم الحدود السياسية في اقليم السافانا الافريقية .

٣. صنف الحدود بين الوحدات السياسية الآتية :-
فرنسا واسبانيا - المكسيك والولايات المتحدة - مصر وليبيا.

٤. ما المقصود بالمفاهيم الجغرافية الآتية:- الهجرة الاجبارية

٥. ما رأيك في العبارة التالية: شهدت الهجرة الغير شرعية ارتفاعا ملحوظا في نهاية القرن العشرين

٦. تعرف المرحلة الأولى من مراحل تخطيط الحدود السياسية بمرحلة.....

- أ) ادارة الحد
ب) التعريف والتخطيط
ج) مرحلة التعيين
د) التحديد

٧. ماذا كان يحدث اذا:- لم تستطع الدولة السيطرة على مناطق حدودها السياسية.

٨. دلل على صحة العبارات الآتية :-
لتنمية المناطق الهامشية دور كبير في نشأة الحدود السياسية.

٩. ما المقصود بالمفاهيم الجغرافية الآتية:- إدارة الحد السياسي

١٠. اكتب كلمة (صواب) أو كلمة (خطأ) أمام العبارة الآتية مع ذكر السبب في الحالتين
كانت التخوم مناطق غير صالحة للبشر وليست تابعة لاي دولة .

١١. يتكون النظام السياسي العالمي من دول ذات سيادة تفصل بينها حدود سياسية

- أ) محتلة
ب) مستقرة
ج) مستقلة
د) مستعمرة

١٢. بم تفسر:- تهجير سكان النوبة من منطقتهم.

١٣. ما النتائج المترتبة على :- تفكك يوغسلافيا

١٤. قارن بين كل من: مميزات وعيوب استخدام الأنهار كحدود سياسية.

١٥. الكتلة الغربية بقيادة أمريكا تواجه القوة الشرقية بقيادة ...

أ) الهند

ب) باكستان

ج) روسيا

د) الصين

١٦. برهن على صحة العبارات الآتية:- اختلاف شكل الحدود السياسية على الجبال.

١٧. اذكر:- المشكلات التي تهدد أمن الدول.

١٨. ما العلاقة بين : مصادر الطاقة والصراع في الشرق الاوسط

١٩. ما المقصود بالمفاهيم الجغرافية الآتية:- صندوق النقد الدولي

٢٠. بم تفسر:- تعد الحدود السياسية ظاهرة بشرية:-

٢١. تتماشى الحدود بين فرنسا والمانيا مع امتداد نهر.....

- أ) الرون
ب) الراين
ج) السين
د) اللوار

٢٢. ماذا كان يحدث اذا:-

كانت سببة ومليلة مسجلتين ضمن الاراضى المستقلة للامم المتحدة

٢٣. ما العلاقة بين :- انهيار الكتلة الشيوعية وخريطة العالم.

٢٤. ماذا كان يحدث اذا:- لم تظهر العديد من الاتفاقيات الدولية بشأن تنظيم الملاحة فى الانهار.

٢٥. برهن على صحة العبارات الاتية:- يوجد علاقة بين الطاقة والعلاقات الدولية.

٢٦. من أشهر الحدود التى جرى رسمها على اساس اللغة بعد الحرب العالمية الاولى منعاً لمشكلة الاقليات منطقة وسط

- أ) اوروبا
ب) افريقيا
ج) استراليا
د) اسيا

٢٧. ما المقصود بالمفاهيم الجغرافية الآتية:- اللاجئين

٢٨. - أمامك خريطة لقارة أوروبا اكتب عليها



- ١- جبال البرانس
- ٢- بحر الشمال
- ٣- بولندا
- ٤- فرنسا
- ٥- المحيط الأطلسي
- ٦- اسبانيا
- ٧- مضيق صقلية
- ٨- دولة اوكرانيا
- ٩- دولة المانيا
- ١٠- مضيق جبل طارق
- ١١- دولة ايطاليا
- ١٢- دولة بيلاروسيا

٢٩. قارن بين كل من :-التفرقة العنصرية في جنوب افريقيا والولايات المتحدة.

٣٠. اكتب كلمة (صواب) أو كلمة (خطأ) أمام العبارة الآتية مع ذكر السبب في الحالتين
ظهر الاستقطاب العالمي على أشده في بداية التسعينيات بين كتلتين تنازعتا السيادة على خريطة العالم

٣١. بم تفسر:- للاستعمار دور كبير في مشكلة كشمير.

٣٢. أحد الاجهزة التابعة للامم المتحدة بهدف تطوير التعاون الدولي

أ) مركز التجارة الدولي

ب) صندوق النقد الدولي

ج) البنك الدولي

د) الفاو

٣٣. ما النتائج المترتبة على :- تقسيم الاستعمار لمستعمراته بالنسبة لنشأة الحدود السياسية.

٣٤. اكتب كلمة (صواب) أو كلمة (خطأ) أمام العبارة الآتية مع ذكر السبب في الحالتين
لا يمثل العرق او السلالة مشكلة سياسية في حد ذاته.

٣٥. يوجد في دولتي صربيا ومقدونيا أقليات

- أ) الألبانية
ب) الصربية
ج) الروسية
د) كرواتية

٣٦. تعتبر الأقليات أقل أنواع الأقليات انتشارًا على مستوى العالم

- أ) العرقية
ب) الدينية
ج) القومية
د) اللغوية

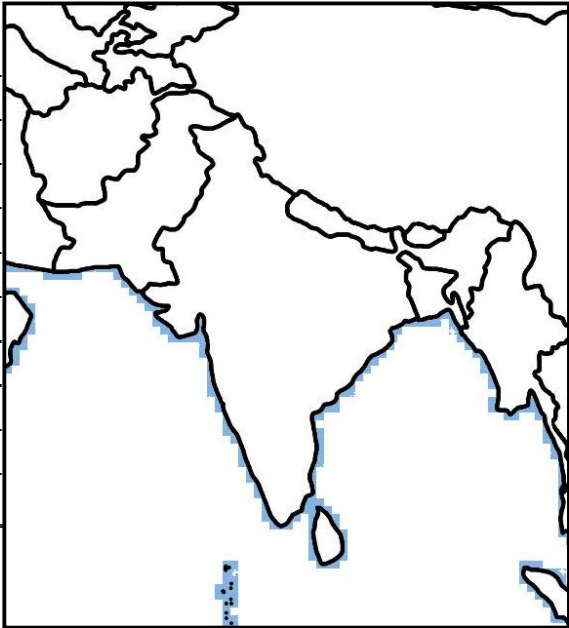
٣٧. اذكر او وضح :- تأثير الهجرة على الجانب الاجتماعي.

٣٨. اكتب كلمة (صواب) أو كلمة (خطأ) أمام العبارة الآتية مع ذكر السبب في الحالتين
من أمثلة الحدود الجبلية جبال البرانس بين شيلي والارجنتين.

٣٩. بم تفسر:- المياه الداخلية لا تُعد جزء من المياه الإقليمية.

٤٠. ما المقصود بالمفاهيم الجغرافية الآتية:- المياه المحايدة.

٤١. أمامك خريطة لدولة الهند اكتب عليها



- ١- مشكلة كشمير
- ٢- البحر العربي
- ٣- دولة باكستان
- ٤- دولة الصين
- ٥- دولة افغانستان
- ٦- خليج البنغال
- ٧- دولة بنجلاديش
- ٨- دولة ايران
- ٩- دولة نيبال
- ١٠- مدار السرطان

٤٢. تعد أزمة الطاقة في العالم أزمة..... في المقام الأول

- أ) بترول
ب) فحم
ج) غاز طبيعي
د) كل ما سبق

٤٣ ما النتائج المترتبة على :- اثر ظهور الشركات متعددة الجنسيات على مستقبل الخريطة السياسية.

٤٤. اكتب كلمة (صواب) أو كلمة (خطأ) أمام العبارة الآتية مع ذكر السبب في الحالتين
الموارد الطبيعية موزعة بشكل منتظم على خريطة العالم

٤٥. ما النتائج المترتبة على :- تدخل محكمة العدل الدولية في النزاع بين ليبيا وتونس.

اختبار الجغرافيا السياسية الوحدة الثانية
النموذج الرابع

اجب عن الأسئلة التالية

١. اكتب كلمة (صواب) أو كلمة (خطأ) أمام العبارة الآتية مع ذكر السبب في الحالتين
قد تشير الحدود السياسية البحرية وفقاً لاتفاقيات محددة

٢. مدينتي سبته ومليلة تابعتين اليوم الى دولة

أ) فرنسا

ب) امريكا

ج) اسبانيا

د) بريطانيا

٣. ما النتائج المترتبة على :-
رفض الدول للوضع الغامض للمناطق الهامشية الحدودية.

٤. اكتب كلمة (صواب) أو كلمة (خطأ) أمام العبارة الآتية مع ذكر السبب في الحالتين
لايوجد في الوقت الحالي شعب ذو سلالة نقية .

٥. اذكر او وضح :- ما تحدده الحدود السياسية .

٦. الحدود السياسية بين الولايات المتحدة وكندا على نهر الـريوجراند تاخذ شكل

Ⓐ خط العمق الملاحي

Ⓑ منطقة السهل الفيضي

Ⓒ خط المنتصف

Ⓓ احدى ضفتي النهر

٧. ماذا يحدث اذا :- لم توجد اقلية بيضاء في جنوب افريقيا.

٨. ما العلاقة بين :- وطن الاقلية - المشكلات السياسية

٩. اكتب كلمة (صواب) أو كلمة (خطأ) أمام العبارة الآتية مع ذكر السبب في الحالتين من الصعب أن تجد حدود فلكية في أوروبا على عكس أفريقيا.

١٠. من أمثلة الدول غير كاملة العضوية بالأمم المتحدة.....

- أ) كوريا واليابان -
ب) فلسطين وسويسرا
ج) فلسطين والفاتيكان
د) بنما وتايوان

١١. بم تفسر:- أهمية تحديد المياه الإقليمية.

١٢. اكتب كلمة (صواب) أو كلمة (خطأ) أمام العبارة الآتية مع ذكر السبب في الحالتين وظيفة الحد الامن ووظيفة لا تسقط حيث انها الغرض الاساسى من اقامة الحدود

١٣. بم تفسر:- لاقليم كشمير اهمية سياحية.

١٤. اكتب كلمة (صواب) أو كلمة (خطأ) أمام العبارة الآتية مع ذكر السبب في الحالتين
كان للبترول دوراً واضحاً في مسار الحرب العالمية الثانية

١٥. مشكلة الزوج في الولايات المتحدة تمثل مشكلة

- أ) لغة مختلفة
ب) دين مختلف
ج) سلالة مختلفة
د) كل ما سبق

١٦. بم تفسر:- اهمية المشكلات الاقتصادية (المياه والطاقة) على الدولة.

١٧. ما المقصود بالمفاهيم الجغرافية الآتية:- الانهار المحلية

١٨. اكتب كلمة (صواب) أو كلمة (خطأ) أمام العبارة الآتية مع ذكر السبب في الحالتين
كانت التغييرات المناخية أحد أسباب النزاعات السياسية الناتجة عن حركة الرعا

١٩. ما النتائج المترتبة على :- عدم حصول الاقلية على نفس حقوق الاغلبية.

٢٠. الاقلية هي مجموعات بشرية ذات سمات وخصائص تختلف عن بقية السكان في

- أ) مستوى التعليم
- ب) المستوى الصحى
- ج) اللغة
- د) درجة الثراء

٢١. ما رأيك في العبارة التالية : في الإجراءات التي تتخذها الدول على معابرها؟
برر موقفك بأدلة موضوعية؟

٢٦. صنف الحدود بين الوحدات السياسية الآتية :-
(شيلي والارجنتين - فرنسا والمانيا - الهند وباكستان)

٢٧. ما النتائج المترتبة على :-
التغيرات في اواخر القرن العشرين .

٢٨. ماذا كان يحدث اذا:-
قامت الدول عند رسم الحدود بمراعاة توزيع المراعى على طول مناطق الحدود.

٢٩. مضيق تشرف عليه دولتى اسبانيا والمغرب

- أ) بنما
ب) باب المنذب
ج) جبل طارق
د) هرمز

٣٢. ما النتائج المترتبة على :- وصف الحد بشكل غير دقيق.

٣٣. بم تفسر:- تسعى كل دولة للمحافظة على شخصيتها السياسية.

٣٤. جهاز يكرس جهوده للتنمية الصناعية فى الدول النامية

- أ) اليونيدو
ب) صندوق النقد
ج) البنك الدولى
د) مركز التجارة الدولى

٣٥. قارن بين كل من :- الاقلية القومية والاقلية الدينية.

٣٦. ما رأيك في العبارة التالية : تساعد الهجرة غير الشرعية على افلات الارهابيين

٣٧. ما المقصود بالمفاهيم الجغرافية الآتية:- الرصيف القاري

٣٨. ما العلاقة بين كل من
المياه الملاصقة وأعالي البحار

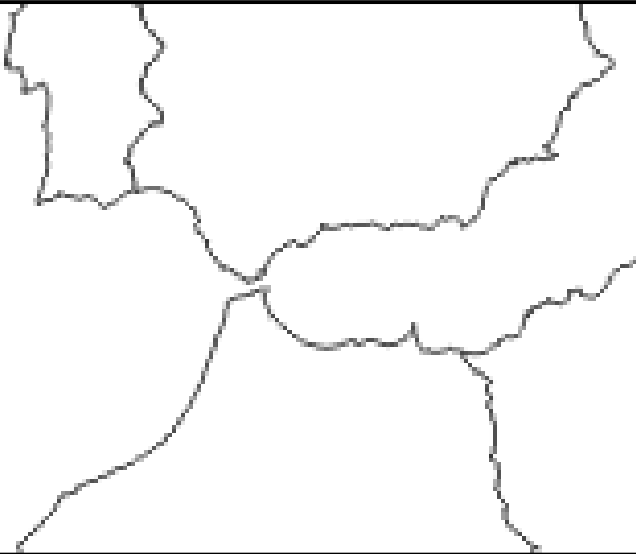
٣٩. ما المقصود ب المشكلة السياسية

٤٠. برهن على صحة العبارات الآتية:- يوجد عدة اسباب للنزاع بين الدول على الانهار الدولية.

٤١. يتم الاستعانة بالخرائط التفصيلية في رسم الحدود السياسية في مرحلة

- أ) التعيين
ب) التعريف والتخطيط
ج) إدارة الحد
د) التحديد

٤٢. أمامك خريطة صماء للمغرب، وقع عليها ما يلي :



١) ممر مائي استراتيجي

٢) دولة اسبانيا

٣) مدينة مليله

٤) البحر المتوسط

٤٣. كانت بمثابة التخوم الفاصلة بين دول قارة أوروبا

- أ) البحار والمحيطات
ب) الجبال والغابات
ج) المحيطات والصحارى
د) الجبال والبحار

٤٤. بم تفسر:-
ظهور الاقليات فى عديد من الدول.

٤٥. اذكر او وضح :-
اثر ظهور الشركات متعددة الجنسيات على مستقبل الخريطة السياسية.

اختبار الجغرافيا السياسية الوحدة الثانية
النموذج الخامس

اجب عن الأسئلة التالية

١. ماذا كان يحدث إذا:- لم تكن هناك نقاط التفتيش والجمارك والحراسة على الحدود.

٢. بم تفسر:- خطورة موقع الاقلية عند وجودها على اطراف الدولة.

٣. اكتب كلمة (صواب) أو كلمة (خطأ) أمام العبارة الآتية مع ذكر السبب في الحالتين
تمارس الدول الكبرى العمليات العسكرية في المياه المحايدة

٤. جهاز يهدف الى رفع مستوى التغذية وتحسين الإنتاج الزراعي بصفة عامة

- أ) اليونيدو
ب) الفاو
ج) صندوق النقد
د) البنك الدولي

٥. ما رأيك في العبارة التالية : سيادة الدولة على المياه التكميلية مشروطة

٦. اكتب كلمة (صواب) أو كلمة (خطأ) أمام العبارة الآتية مع ذكر السبب في الحالتين من نماذج الاتفاق بانتقال الرعاة ما تم بين بوركينا فاسو والنيجر عام ٢٠٠٣ م.

٧. بم تفسر:- تزايد مشكلة سبته ومليلة عام ١٩٨٥ م

٨. ما المقصود بالمفاهيم الجغرافية الآتية:- الايكواس

٩. تعتبر نطاق ممتد من المياه البحرية تحد حافته الخارجية من جهة البحر الحد السياسي البحري للدولة

أ) المياه التكميلية

ب) المياه المحايدة

ج) المياه الاقليمية

د) المياه الداخلية

١٠. بم تفسر:- تعد أزمة الطاقة أزمة بترول فى المقام الأول؟

١١. ما المقصود بالمفاهيم الجغرافية الآتية:- التخوم .

١٢. روسيا الاتحادية اساسها القومية

أ) الالبانية

ب) الصربية

ج) الروسية

د) كرواتية

١٣. برهن على صحة العبارات الآتية:-
اهتمام المنظمات العالمية بحقوق الاقليات .

١٤. ما العلاقة بين :- الهجرة غير الشرعية والتنمية الاقتصادية

١٥. برهن على صحة العبارات الآتية:- لعبت مصادر الطاقة دورا بارزا في الصراعات الدولية

١٦. ما النتائج المترتبة على :-
تغير نهر الريوجراند لمجراه واثار ذلك على الحدود السياسية بين الولايات المتحدة والمكسيك.

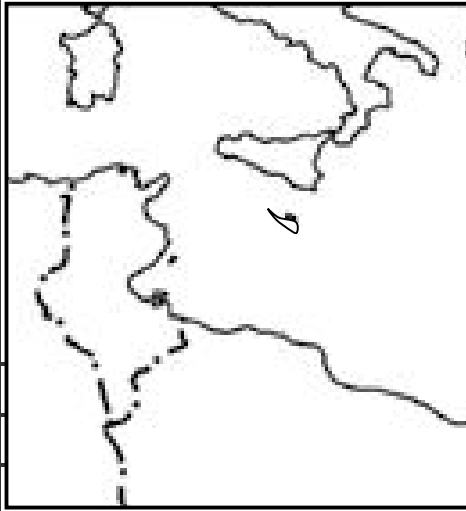
١٧. برهن على صحة العبارات الآتية:- الحدود الهندسية تأخذ اشكال متعددة.

١٨. يتوقف اثر القلاقل السياسية التى تثيرها الاقلية على

- أ) حجم الاقلية
ب) توزيعهم الجغرافى
ج) قوتهم الاقتصادية
د) كل ما سبق

١٩. ما النتائج المترتبة على :- تمركز الاقلية فى منطقة معينة داخل الدولة.

٢٠. - أمامك خريطة لدولة تونس اكتب عليها



١. مضيق صقلية
٢. البحر التيرانى
٣. دولة ايطاليا
٤. دولة الجزائر
٥. دولة ليبيا
٦. البحر المتوسط
٧. جزيرة صقلية
٨. جزيرة سردينيا
٩. دولة مالطة

٢١. ما المقصود بالمفاهيم الجغرافية الآتية:- المياه الإقليمية.

٢٢. اكتب كلمة (صواب) أو كلمة (خطأ) أمام العبارة الآتية مع ذكر السبب في الحالتين من مشكلات تقسيم المياه النزاع بين ليبيا وتونس عند تحديد الرصيف البحري

٢٣. ما رأيك في العبارة التالية : مشكلة المياه من اهم المشكلات الاقتصادية

٢٤. ما المقصود بالمفاهيم الجغرافية الآتية:- الانهار الدولية

٢٥. من أهم اسباب مشكلة سبته ومليلة الاستعمار للمغرب

أ) الاسباني

ب) الفرنسي

ج) الانجليزى

د) الايطالى

٢٦. بم تفسر:- ظهور العديد من المؤسسات المهمة بحل المشكلات العالمية.

٢٧. ماذا كان يحدث اذا:- اتجه الحد البحري في ليبيا الى الشمال مباشرة في الرصيف القارى الليبي.

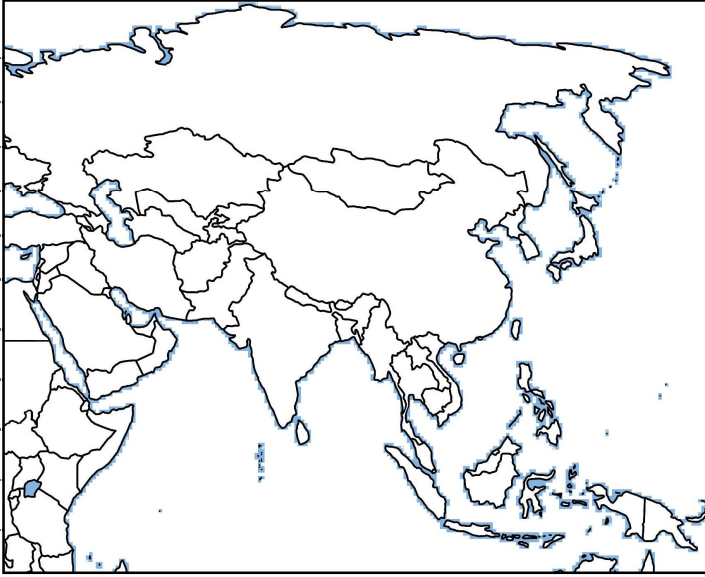
٢٨. بم تفسر:- وظيفة الحد البحري لا تقل عن وظيفة الحد البري.

٢٩. قارن بين كل من: مزايا الحدود الجبلية مزايا الحدود النهرية.

٣٠. انقسمت المانيا الى دولتين شرقية وغربية من التغيرات فى.....
- أ) النصف الثانى من القرن ٢٠
- ب) اواخر القرن ٢٠
- ج) اوائل القرن العشرين
- د) الخمسينات من القرن ٢٠

٣١. ماذا كان يحدث اذا:- لم تأخذ الاقلية نفس حقوق الاغلبية.

٣٢. أمامك خريطة لقارة أوربا اكتب عليها



- دولة السعودية
- بحر العرب
- دولة بها أقلية تيمور الشرقية
- دولة الهند
- المحيط الهادي
- مشكلة كشمير
- مضيق هرمز
- مكان تواجد الأقلية الكردية
- دولة ايران
- مضيق باب المندب
- دولة الصين
- دولة روسيا

٣٣. بم تفسر:-من عوامل نشأة الحدود زيادة عدد السكان.

٣٤. مرحلة يتم الاستعانة فيها بالخرائط التفصيلية والصور الجوية والمرئيات الفضائية.....
- أ) التخطيط
ب) الادارة
ج) التعيين
د) كل ما سبق

٣٥. ما العلاقة بين :- التغيرات المناخية ومشكله حركه الرعاه.

٣٦. اذكر او وضح :- العوامل الجغرافية المؤثرة فى مستقبل الخريطة السياسية للعالم.

٣٧. اكتب كلمة (صواب) أو كلمة (خطأ) أمام العبارة الآتية مع ذكر السبب في الحالتين
تشهد دول الخليج حركة هجرة غير شرعية فى الوقت الحالى.

٣٨. ما المقصود بالمفاهيم الجغرافية الآتية:- الاقلية

٣٩. مرحلة يتم فيها المحافظة على الحد الخطى السياسى واستبقاء فاعليته وحراسته.....

- أ) الإدارة
ب) التحديد
ج) التخطيط
د) التعيين

٤٠. س ما العلاقة بين : الحد السياسى وسيادة الدولة.

٤١. اكتب كلمة (صواب) أو كلمة (خطأ) أمام العبارة الآتية مع ذكر السبب في الحالتين
كانت الجبال والغابات بمثابة تخوم فاصلة بين دول قارة أوروبا .

٤٢. مضيق تشرف عليه دولتى اليمن و جيبوتى

- أ) الدردنيل
ب) البسفور
ج) باب المندب
د) هرمز

٤٣. ما النتائج المترتبة على :-
التطورات الحديثة التي طرأت على وسائل الحرب بالنسبة لوظيفة الحد الأمني.

٤٤. يكون النزاع الدائر بين الدول على الانهار الدولية بسبب عدة حقوق منها

أ) حق الملاحة

ب) توزيع المياه

ج) الصيد

د) كل ما سبق

٤٥. بم تفسر : تحرص كل دولة في العالم أن يسود فيها لغة رسمية واحدة
