

امتحان الباب الثالث

الزمن : ساعة ونصف

الاسم :

الدرجة :

المجموعة :

السؤال الأول : أكتب المصطلح العلمي : (١٥ درجة)

- ١- المتسلسلة التي توضح ترتيب تبلور المعادن المكونة للصخور النارية
- ٢- صخور نارية تبلورت نتيجة اندفاع الصهير نحو سطح الأرض ولكن حدث لها إعاقة عن مواصلة المسير إلى سطح الأرض فتداخلت في الصخور المحيطة.
- ٣- النسيج الصخري الذي ينشأ بفعل تأثير الغازات أثناء تبلور الصخور النارية السطحية.....
- ٤- أشكال الصخور النارية التحت سطحية الناتجة من صعود الماجما خلال فتحة ضيقة وجمعها بدلا من انتشارها أفقيا.
- ٥- المناطق الرئيسية لتفجير البراكين.
- ٦- ظاهرة جيولوجية التي تنتج بفعل ثوران البراكين تحت سطح الماء في البحار.
- ٧- أثر عوامل الجو في تفتيت الصخر الأصلي ميكانيكيا أو تحلله كيميائيا.
- ٨- صخر طيني يحتوي على مواد هيدروكربونية من أصل نباتي توجد في حالة شمعية صلبة.
- ٩- رواسب عضوية صلبة نتيجة تركيز الكربون وذلك دفن مواد نباتية بعيدا عن الأوكسجين.
- ١٠- المعدن المكون للهوابط.
- ١١- حركات أرضية تؤدي إلى حدوث التحول.
- ١٢- مستويات التراكيب التكتونية التي يمكن أن يحدث عندها تحول.
- ١٣- خاصية في الصخور المتحولة تنشأ نتيجة ترتيب بلورات المعادن في اتجاهات محددة أثناء عملية تحول الصخر وإعادة تبلوره.
- ١٤- عملية تعرض الصخر الأصلي إلى زيادات كبيرة في درجات الحرارة أو الضغط في العمق مما يؤدي إلى الوصول إلى مصهور مكوناته المعدنية.
- ١٥- مجموعة العمليات الجيولوجية التي تؤدي إلى تغير نوع من الصخور إلى نوع آخر.

السؤال الثاني : اعط تعريفًا علميًا دقيقًا لكل من : (١٠ درجات)

١- الصخور النارية المتكافئة :

٢- النسيج البورفيرى :

٣- المقذوفات البركانية :

.....
.....

٤- البركان :

.....
.....

٥- التحول بالتلامس :

.....
.....

٦- صخور المصدر :

.....
.....

٧- صخور الخزان :

.....
.....

٨- النسيج الحبيبي :

.....
.....

٩- عملية التصخر :

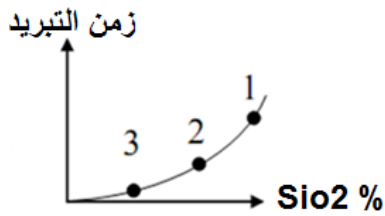
.....
.....

١٠- الصخور النارية الحامضية :

.....
.....

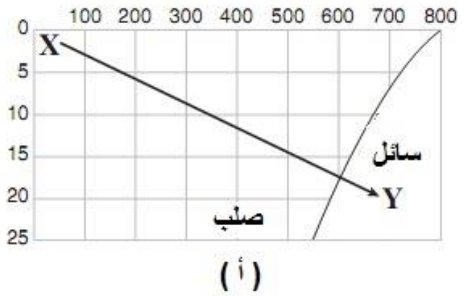
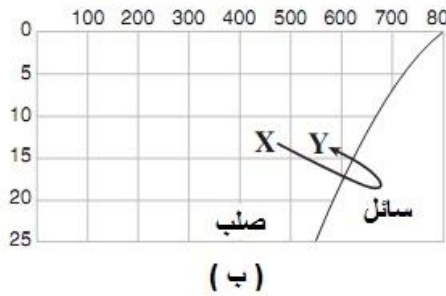
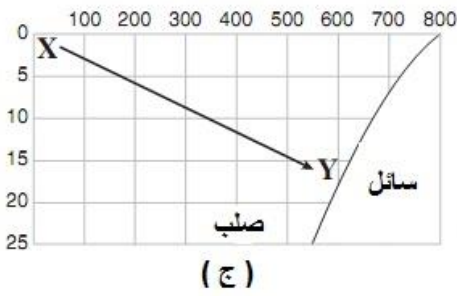
السؤال الثالث : ضع خطأ تحت الاختيار الصحيح : (٢٠ درجة)

- ١- الترتيب الآتي يمكن أن يمثل الصخور المكونة لقاع المحيط من أسفل إلى أعلى (بيريدوتيت ثم كوماتيت ثم بازلت ثم جابرو - انديزيت ثم رايولايت ثم بازلت ثم جابرو - بيريدوتيت ثم جابرو ثم دوليريت ثم بازلت - بازلت ثم دوليريت ثم جرانيت ثم اوبيسيديان).
- ٢- عند تبلور ٥٠ ٪ من الصهير فإنه يفقد العناصر (الحديد والماغنسيوم والسيليكون - الحديد والصدوديوم والماغنسيوم - الحديد والماغنسيوم والكالسيوم - السيليكون والصدوديوم والبوتاسيوم)
- ٣- عند تبلور ٥٠ ٪ من الماجما فإن الصخر الذي تبلور يكون غني بالعناصر (الحديد والماغنسيوم والسيليكون - الحديد والصدوديوم والماغنسيوم والكالسيوم - السيليكون والصدوديوم والبوتاسيوم)
- ٤- عند تبلور ٥٠ ٪ من الماجما تصبح غنية بالعناصر الآتية (الحديد والماغنسيوم والسيليكون - الحديد والصدوديوم والماغنسيوم والكالسيوم - السيليكون والصدوديوم والبوتاسيوم)
- ٥- يؤثر مكان تبلور الصخر الناري على كل ما يأتي ما عدا (سرعة التبريد - شكل النسيج - التركيب الكيميائي للصخر - معدل فقدان درجة الحرارة).
- ٦- تؤثر درجات الحرارة التي عندها تتبلور المعادن المكونة للصخر الناري على كل ما يأتي ما عدا (التركيب الكيميائي للصخر - التركيب المعدني للصخر - نسيج الصخر - حامضية الصخر).
- ٧- العامل الذي يتحكم في نسيج الصخر الناري (التركيب الكيميائي - درجة الحرارة - سرعة التبريد - كل ما سبق).
- ٨- عند إجراء التحليل الجيوكيميائي لصخر الجرانيت وجد أنه غني بعنصري (السيليكون والحديد - السيليكون والماغنسيوم - السيليكون والألومنيوم - السيليكون والكالسيوم).
- ٩- من خلال دراسة الصخور النارية ثبت أن (كل الصخور الجوفية تتبلور في درجات حرارة مرتفعة - الصخور الجوفية يمكن أن تتبلور في درجة حرارة منخفضة ويكون نسيجها خشن - كل الصخور المتوسطة نسيجها بورفيري - كل ما سبق).
- ١٠- من خلال دراسة الصخور النارية ثبت كل ما يأتي ما عدا (كل الصخور المتداخلة تحتوي على عنصري الصدوديوم والكالسيوم - العلاقة بين الصدوديوم والكالسيوم عكسية - لا يمكن أن يتواجد الجرانيت في الصخور المكونة للقشرة المحيطية - العلاقة بين نسبة السيليكا والحامضية طردية).
- ١١- أي من المجموعات الصخرية الآتية ينطبق عليها الرسم البياني الآتي :



- (أ) : (١) جابرو ، (٢) دوليريت ، (٣) بازلت
- (ب) : (١) جرانيت ، (٢) ميكرودايوريت ، (٣) بازلت
- (ج) : (١) جابرو ، (٢) دوليريت ، (٣) رايولايت
- (د) : (١) جرانيت ، (٢) ميكروجرانيت ، (٣) رايولايت

- ١٢- إذا علمت أن المحور الأفقي يمثل درجة الحرارة والمحور الرأسي يمثل الضغط فإن الرسم البياني الذي يعبر عن تحول الصخر الرسوبي إلى الصخر المتحول :



- ١٣- عند عثور الجيولوجي على فتات صخري من معادن الكوارتز والكاولينيت على سطح صخر الجرانيت الذي تعرض لتأثير سيول شديدة يمكن للجيولوجي الاستدلال على أن الجرانيت تعرض لعملية (حُول - تصخر - جوية ميكانيكية - جوية كيميائية).
- ١٤- الدولوميت صخر (رسوبي كيميائي كربوني - ناري قاعدي متداخل - رسوبي كيميائي من الكربونات - رسوبي كيميائي من المتبخرات).
- ١٥- يمكن الاستدلال على وجود بيئة بحرية شديدة الحرارة عند العثور على رواسب من (الطفل - الجبس - الفحم - البريشيا).
- ١٦- عند مستويات الفوالق يتوقع الجيولوجي أن يعثر على (فتات صخري حاد الزوايا يزيد عن ٢ مم وصخور متحولة - فتات صخري مستدير يزيد عن ٢ مم ورواسب من معدن الكالسيت - انصقال جوانب الفالق وفتات صخري مستدير - طبقة من الكوجلومييرات أعلى مستوى الفالق مباشرة).
- ١٧- عند تعرض صخر الدوليريت لتأثير الحرارة الشديدة فإن نسيج الصخر المتحول عنه يكون (خشن - حبيبي - متورق - بورفيري).
- ١٨- إذا تعرض صخر الجرانيت للانصهار فإنه يتحول إلى (نيس - رخام - شست ميكائي - مجما).
- ١٩- عندما ينصهر الجرانيت ثم يتصلب دون أي تأثير للضغط فإنه يصبح (صخرا رسوبيا - صخرا ناريا - صخرا متحولا كتليا - صخرا متحولا متورقا).
- ٢٠- الصخر الرسوبي الذي يمتاز بخاصية التورق (البريشيا - الاردواز - الصوان - الطفل).

السؤال الرابع : فسر العبارات الآتية : (١٠ درجات)

١- نسيج الصخر الناري الجوفي واضح التبلور.

٢- لا يمكن أن يتغير الصخر الناري التحت سطحي أو المتحول إلى رسوبي إلا بتأثير الحركات الأرضية.

٣- حتى تتفجر البراكين فهي في حاجة إلى ظروف جيولوجية خاصة.

٤- تكون اللوبوليث.

٥- تغير النسيج الصخري من الأدلة المميزة على حدوث التحول.

٦- الرخام أكثر صلابة وتماسكا عن الحجر الجيري رغم أن لهما نفس التركيب المعدني.

٧- عند عثور الجيولوجي على صخر يمكن أن يستدل على نوعه من خلال عدة شواهد.

٨- البراكين أحد عوامل تكون الصخور سواء كانت نارية أو رسوبية أو متحولة.

٩- ظهور خاصية التقطع في الناييس.

١٠- عند البحث عن البترول والغاز الطبيعي يتوقع الحصول عليه في الصخور الرملية.

السؤال الخامس : أجب عن الأسئلة الآتية : (١٥ درجة)

١- بين بالرسم اللاكوليث . وفي ضوء رسمك هل يمكن اعتبار السطح الفاصل بين اللاكوليث والصخور الرسوبية أعلاه سطح عدم توافق. علل إجابتك ثم أجب عن الأسئلة الآتية : (٥ درجات)

أ- أجب أحد السؤالين الآتين ١- إذا كانت إجابتك في السؤال السابق بنعم فما نوع عدم التوافق ؟

٢- أما إذا كانت إجابتك بلا فماذا يمكن أن يمثل هذا السطح ؟

ب- في أي من الصخور النارية يمكن أن يتواجد اللاكوليث ؟

٣- تم إحضار عينة صخرية إلى جيولوجي فاستطاع من خلال الخواص الظاهرة التعرف على بعض البلورات المعدنية الكبيرة الحجم واضطر لقطع شريحة منها لدراسة البلورات صغيرة الحجم تحت الميكروسكوب . وخرج بالنتائج الآتية البلورات المعدنية الكبيرة الحجم صلابتها على مقياس موهس إما ٦ أو ٧ و البلورات دقيقة الحجم منها ما هو عديم الانفصام ومنها ما ينقسم في مستوى واحد فماذا تكون العينة ؟ (٣ درجات)

٤- أكمل المقارنة في الجدول الآتي : (٧ درجات)

وجه المقارنة	الجرانيت	البازلت
التركيب المعدني		
التركيب الكيميائي		
مكان التكوين		
النسيج الصخري		
المكافئ المتداخل		
أيهما أعلى كثافة		
القشرة الأرضية		