

2014

# مراجعة فجر الامتحان

أهم ٢١ مسألة

أهم أجزاء المنهج

## للأستاذ محمد الباسل

### مفاجأة من العيار الثقيل

٢- تقدير درجة حرارة النجوم .

(١١) خطوط فرنهوف :

معرفة الغازات والعناصر والأبخرة المحيطة بجو الشمس .

(١٢) الميكروسكوب الإلكتروني :

يستخدم في رؤية التفاصيل الدقيقة والمتناهية في الصغر التي يعجز عن رؤيتها الميكروسكوب الضوئي .

(١٣) قارورة ديوار :

تخزين الغازات السائلة أي " سوائل التبريد " .

(١٤) المواد فائقة التوصيل :

١- صناعة هوائيات الأقمار الصناعية .

٢- القطار الطائر .  
٣- محطات توليد القوى الكهربائية .

(١٥) الكاثود :

مصدر انبعاث الالكترونات في الميكروسكوب الإلكتروني .

(١٦) مجزئ التيار في الأميتر :

١- سحب الجزء الأكبر من تيار الدائرة فيمر تيار ضعيف في ملف الجلفانومتر فلا يحترق ملفه  
٢- جعل المقاومة الكلية للجهاز صغيرة وبالتالي لا يتغير شدة التيار المراد قياسها عند توصيل الجهاز في الدائرة على التوالي .

(١٧) مضاعف الجهد في الفولتميتر :

١- جعل التيار المار في ملف الجهاز أقصى ما يتحملة دون أن يتلف .  
٢- جعل المقاومة الكلية للجهاز كبيرة وبالتالي لا تتغير شدة التيار ولا فرق الجهد المراد قياسه عند توصيل الجهاز في الدائرة على التوازي .

(١٨) المقاومة العنبرية والريوساتان في الأوميتر :

١- جعل التيار المار في الجهاز أقصى ما يتحملة دون أن يتلف .

## أهم الإستخدامات (الوظائف)



(١) الجلفانومتر :

الاستدلال على وجود تيار كهربى وقياس شدة التيار الكهربى الضعيف وتحديد اتجاهها

(٢) فرن اللحث :

صهر الفلزات والمعادن .

(٣) الدينامو :

تحويل الطاقة الحركية ( الميكانيكية ) إلى طاقة كهربية .

(٤) المحول الكهربى :

رفع أو خفض الجهد الكهربى المتردد ويستخدم في نقل الطاقة من أماكن إنتاجها إلى أماكن استهلاكها وفي بعض الأجهزة المنزلية .

(٥) قاعدة أمبير للدينامي :

تحديد اتجاه المجال المغناطيسى لسلك مستقيم يمر به تيار كهربى .

(٦) قاعدة فلامنج للدينامي :

تحديد اتجاه القوة المؤثرة على سلك يمر به تيار كهربى والسلك موضوع في مجال مغناطيسى

(٧) قاعدة فلامنج للدينامي :

تحديد اتجاه التيار المستحث في سلك مستقيم وكذلك ملف الدينامو .

(٨) قاعدة لنز :

تحديد اتجاه التيار الكهربى المستحث في ملف حلزوني .

(٩) قاعدة البرمة الدينامي :

تحديد اتجاه المجال المغناطيسى لكلاً من :-

١- الملف الدائري . ٢- الملف الحلزوني .

(١٠) المطرباف :

١- تحليل الضوء والحصول على طيف نقي .

**(٢٦) لف سلك اطقاومة القياسة لفا مزدوجاً :**

لتلاشي الحث الذاتي حيث يكون اتجاه التيار في أحد اللفات عكس اتجاه التيار في اللفة الأخرى فينشأ مجالان مغناطيسيان متساويان في المقدار ومتضادان في الاتجاه فيلاشي كل منهما الآخر .

**(٢٧) اطرأة العاكسة والشبة منفذة في الليزر :**

زيادة طول المسار الذي تقطعه الفوتونات وبالتالي تعمل علي حث أكبر عدد من ذرات النيون المثارة .

**(٢٨) الأشعة المرعبة في الهولوجرام : استرجاع ما**

فُقد من معلومات للجسم كاختلاف في طول المسار حيث تتلاقى الأشعة المرجعية مع الأشعة المنعكسة من سطح الجسم وتكون صورة مشفرة نتيجة التداخلات علي اللوح الفوتوغرافي الذي يسمى الهولوجرام .

**(٢٩) الهيليوم في توليد أشعة الليزر :**

يُثار الهيليوم بواسطة الطاقة الكهربائية فيصعد لمستوى طاقة أعلى ويصطدم بذرات النيون تصادم غير مرن فتصل ذرات النيون إلي وضع الإسكان المعكوسة وهو الشرط الأساسي لحدوث أشعة الليزر .

**(٣٠) الحدران اطرودجة في قارورة ديوار :**

منع انتقال الحرارة بالتوصيل والحمل .

**(٣١) الطبقة الالامعة في قارورة ديوار :**

منع انتقال الحرارة بالإشعاع .

**(٣٢) القنبلة في أنبوبة كولاج :**

مصدر انبعاث الإلكترونات .

**(٣٣) اطوحات اطركومترية :**

نستخدم بالرادار

**(٣٤) اطجالات الكهربائية واطمغناطيسية بانبوبة اشعة****الكاثود**

توجيه الشعاع الاليكتروني والتحكم في مساره وانحرافه

٢- ضبط المؤشر عند نهاية تدرج الجلفانومتر " بداية تدرج الأوميتر " في حالة عدم وجود مقاومة خارجية " معايرة الجهاز "

**(١٩) اطلاقان الزنبركان في ملف الجلفانومتر :**

١- يعملان كوصلات للتيار الكهربى .

٢- يعملان علي إعادة المؤشر إلي وضعه الأصلي عند انقطاع التيار .

٣- يحدثان عزم ازدواج يسمى عزم ازدواج اللي

مضاد لعزم الازدواج الناشئ عن الملف وبالتالي يتزن المؤشر عند قيمة معينة .

**(٢٠) اسطوانة الحديد اطرواع في الجلفانومتر : تعمل**

علي زيادة تركيز كثافة الفيض المغناطيسي لأن معامل النفاذية المغناطيسية للحديد اطرواع كبيرة .

**(٢١) القيطان اطمغناطيسيان في الجلفانومتر مقعربن حتى**

تكون خطوط الفيض علي هيئة أنصاف أقطار متساوية و بالتالي تظل كثافة الفيض ثابتة في الحيز الذي يدور فيه الملف فيتناسب عزم الإزدواج مع شدة التيار فقط .

**(٢٢) الاسطوانة اطرشفوقة إلي نصفين - اطرقوم اطرعربن في****الدينامو :**

جعل التيار المتردد موحد الاتجاه في الدائرة الخارجية

**(٢٣) الاسطوانة اطرشفوقة إلي نصفين في اطرنونر : جعل**

دوران ملف الموتور دائماً في اتجاه واحد .

**(٢٤) اسنخدام عدة ملفات بينها زوايا صغرة منساوبة في****الدينامو :**

جعل التيار في الدائرة الخارجية ثابت الشدة وموحد الاتجاه

**(٢٥) اسنخدام عدة ملفات بينها زوايا صغرة منساوبة في****اطرنونر :**

زيادة القدرة الميكانيكية للموتور وزيادة كفاءته .

**(٣٥) ذرات النيون في ليزر الهيليوم نيون:**

هي الوسط الفعال لانتاج شعاع الليزر.

**(٣٦) نافذتان زراوية ميد بانوية الليزر:**

يعملان على توجيه الشعاع الفوتوني في اتجاه واحد هو اتجاه سقوطها فلا يؤدي العين.

**(٣٧) الأشعة المرئية:**

تعويض نسبة ما يفقد بالوسط من معلومات خاصة بالتضاريس ويتراكب مع الأشعة المنعكسة من الجسم تعمل على تكوين الهولوجرام.

**(٣٨) اطوحات اطرومترية:**

تستخدم بالرادار.

**(٣٩) اطجالات الكهربية والمغناطيسية بانوية اشعة الكاثود**

توجيه الشعاع الالكتروني والتحكم في مساره وانحرافه

**(٣٥) الشاشة الفلوريسية بانوية اشعة الكاثود**

تحدث وميض عند سقوط الالكترونات عليها.

**(٣٦) ذرات الهيليوم في ليزر الهيليوم نيون**

نقل الطاقة اللازمة لذرات النيون لتصبح مثارة في مستوى اثاره شبه مستقر

**(٣٧) ذرات النيون في ليزر الهيليوم نيون**

هي الوسط الفعال لانتاج شعاع الليزر

**(٣٨) انوية الكوارتز بالليزر**

تقوم بدور التجويف الرنيني حيث تحوي المادة الفعالة وتنشط عملية التكبير

**أهم الشروط****(١) رؤية نفاصل جسم دقيق /**

(٢) أن يكون الطول الموجي للضوء

المستخدم أصغر من أبعاد الجسم المراد رؤيته

**(٣) حدوث اشعة الليزر / الوصول بذرات الوسط**

الفعال إلى وضع الإسكان المعكوس ثم سقوط فوتونات على الذرات المثارة .

**(٤) الحصول على نيار مسنحت /**

١- وجود فيض مغناطيسي .

٢- وجود موصل متصل بدائرة مغلقة .

٣- وجود حركة نسبية حتى يحدث تغير للفيض .

**(٥) الحصول على الأشعة السينية X Ray / أن يكون فرق**

الجهد بين الهدف والفتيلة عالي جداً .

**(٦) حدوث حث متبادل بين ملفين / ١- أن تكون دائرة**

الملف الثانوي مغلقة .

٢- أن يحدث تغير في الفيض المغناطيسي للملف الثانوي .

٣- أن يكون الملفان متصلان حثياً أي لهما محور مشترك .

**(٧) مرور نيار في اطف الإبتدائي للمحول / أن تكون دائرة**

الملف الثانوي مغلقة .

**ما معنى أن (ما المقصود):**

(١) أقل مسافة يمكن رؤيتها بواسطة مجهر الكروني =  $1 n$

$m$ - أي أن الطول الموجي للأشعة الإلكترونية =  $1 n m$

(٢) كثافة الفيض المغناطيسي =  $0.2$  وهر / م<sup>٢</sup>

معني ذلك أن عدد خطوط الفيض التي تمر عمودياً بوحدة المساحات المحيطة بتلك النقطة =  $0.2$  وهر .

(٣) كثافة الفيض المغناطيسي =  $0.3$  نسلا .

معني ذلك أن القوة المؤثرة علي سلك يمر به تيار شدته  $١$  أمبير وطوله  $١$  متر وموضوع عمودياً في مجال مغناطيسي =  $0.3$  نيوتن

(٤) دالة الشغل لفلز الصوديوم =  $3.6 \times 10^{-14}$  جول .

هي الطاقة اللازمة لتحرير الإلكترونات من سطح فلز الصوديوم =  $3.6 \times 10^{-14}$  جول .

(٥) الحث الذاتي ملف =  $0.5$  هنري .

(٤) ق. ء. ك. امسئئئة المنولدة في اطف الالاري للبرنامج .

$$emf = N \cdot B \cdot A \cdot \omega$$

- ١- عدد اللفات .  
٢- كثافة الفيض .  
٣- مساحة الملف .  
٤- السرعة الزاوية .

(٥) المقاومة النوعية والنوصيلية الكهربية

[ خاصية فيزيائية ]

- ١- نوع المادة .  
٢- درجة الحرارة .

**متى ينعم . . .**

(١) شدة التيار في اطف الالاري للمحول رغم انصاله بالهدر

الكهربي

عندما تكون دائرة الملف الثانوية مفتوحة .

(٢) القوة المؤثرة على سلك مسنقم مر به تيار كهربي والسلك

موضوع في مجال مغناطيسي

عندما يكون السلك موازياً للمجال المغناطيسي .

(٣) ق. ء. ك. امسئئئة المنولدة في سلك بندك في مجال

مغناطيسي:

عندما يكون السلك موازياً للمجال المغناطيسي

(٤) عزم الازدواج المؤثر على ملف مر به تيار كهربي واطف

موضوعها في مجال مغناطيسي

عندما يكون مستوى الملف عمودي على المجال .

**الفكرة العلمية:**

(١) القطار الطائر . فانف السرعة: ظاهرة مايسنر .

(٢) النلاجة: قانون بقاء الطاقة - العملية الأديباتية - الأيزوثيرمية

(٣) المحول الكهربي: الحث المتبادل بين ملفين .

(٤) اطولا الكهربي: الحث الكهرومغناطيسي .

(٥) اطونور - الأميتر - الجلفانومتر - الأومميتر - الفولتميتر:

عزم الازدواج المؤثر على ملف يمر به تيار كهربي والملف موضوع في مجال مغناطيسي .

أي أن ق. ء. ك. المستحثة المتولدة في الملف = 0.5 فولت عند تغير شدة التيار المار فيه بمعدل ١ أمبير لكل ثانية .

(٦) نقطة غليان سائل الأكسجين = 90 k°

أي أن درجة الحرارة التي يتحول عندها سائل الأكسجين الي غاز = 90 k°

(٧) الشغل المبذول لنقل كمية كهربية مقدارها 4 كولوم = 20 جول .

جول .

أي أن فرق الجهد بين النقطتين = 5 فولت .

(٨) القيمة الفعالة للتيار المتردد = ٢ أمبير .

أي أن قيمة التيار المستمر الذي يولد نفس كمية الحرارة التي يولدها التيار المتردد في نفس الموصل ونفس الزمن = ٢ أمبير

(٩) الطول الموجي الخارج لنقارها = 320 n m

أي أن أكبر طول موجي يؤدي لانبعاث الإلكترونات عن سطح الفلز = 320 n m

(١٠) النوصيلية الكهربية للفضة نساي

$$6 \times 10^{-7} \text{ سيمون} \cdot \text{م}^{-1}$$

(١١) الشغل المبذول لنقل شحنة كهربية مقدارها 4 كولوم بين

نقطتين في دائرة كهربية = 20 جول ؟

أي أن فرق الجهد الكهربي = 5 فولت

**أهم العوامل التي يتوقف عليها . . .**

(١) طول موجة الإلكترون :-

$$\lambda = \frac{h}{mv}$$

من علاقة دي براولي  $\lambda = \frac{h}{mv}$  نجد أن الطول الموجي يتوقف على سرعة الإلكترون كمية الحركة .

(٢) معامل الحث الذاتي لطف .

١- عدد اللفات .  
٢- معامل النفاذية المغناطيسية .  
٣- طول الملف .  
٤- الشكل الهندسي

(٣) ق. ء. ك. امسئئئة المنولدة في سلك مسنقم . emf =

$$B \cdot L \cdot V \cdot \sin \theta$$

١- كثافة الفيض .  
٢- طول السلك .  
٣- السرعة .  
٤- الزاوية التي يصنعها السلك مع المجال .

## أهم التطبيقات

- (١) **أشعة الليزر** ————— في الطب في علاج انفصال الشبكية – التصوير ثلاثي الأبعاد – توجيه الصواريخ – طباعة الليزر – أبحاث الفضاء .
- (٢) **الأشعة السينية** ————— دراسة التركيب البلوري للمواد – الكشف عن العيوب التركيبية في الصناعة المعدنية – في الطب في الكشف عن كسور العظام
- (٣) **الحث الكهرومغناطيسي** ————— ملف رومكوف (حث متبادل) – إضاءة المصباح الفلورسنت (حث ذاتي) – الدينامو .
- (٤) **التيارات الدوامية**: أفرن الحث الذي يستخدم في صهر المعادن

## أهم التعليلات:

(١) **استخدام اثنين من قارورة ديوار في تخزين الهيليوم**

### أسأل؟

■ لأن الحرارة النوعية له منخفض جداً ودرجة غليان منخفضة .

(٢) **عند سقوط ضوء منظور علي لوح من الخارصين لم**

**تنبعث الإلكترونات ولكن عند سقوط أشعة X أو جاما**

**تنبعث الإلكترونات؟**

■ لأن الضوء المنظور تردده أقل من التردد الحرج للوح الخارصين  $\nu < \nu_c$

$\nu$  بينما أشعة X أو جاما يكون ترددها أكبر من التردد الحرج للوح

الخارصين  $\nu_c < \nu$  .

(٣) **نقعر قطري المغناطيس في الحقلانومر**

حتى تكون خطوط الفيض على شكل انصاف اقطار عمودية دائما

على الضلعين الطويلين فبالتالي يتناسب عزم الأزواج طرديا مع

شدة التيار فقط لثبوت الزاوية.

(٤) **نلف اطقاومات القياسة لفا مزدوجا**

حتى يكون التيار في احد الفرعين عكسه في الفرع الآخر فيبتلاشى

المجالين فينعدم الحث الذاتي

(٦) **أفران الحث**: التيارات الدوامية .

(٧) **التصوير ثلاثي الأبعاد**: استرجاع ما فقد من معلومات للجسم

كاختلاف في طول المسار باستخدام أشعة مرجعية

(٨) **مصباح الفلورسنت**: الحث الذاتي ( الحث الكهرومغناطيسي )

(٩) **ملف رومكوف**: الحث المتبادل بين ملفين ( الحث

الكهرومغناطيسي )

### الفكرة العلمية والاستخدام

الاستخدام	الفكرة العلمية	الجهاز
رؤية الأجسام المتحركة في الظلام	تحليل الأشعة الحرارية	أجهزة الرؤية الليلية
في مجال اكتشاف الأدلة الجنائية	بهاء الأشعة الحرارية	الاستشعار عن بعد
تستخدم في عمل شاشة التليفزيون والكمبيوتر	الانبعاث الأيوني الحراري	أنبوبة أشعة الكاثود
في عمل مفتاح الإضاءة بالمساعد وفتح الأبواب ألياً	التأثير (الانبعاث) الكهروضوئي	التيار الكهروضوئية
رؤية الأجسام الصغيرة جداً والفيروسات بقوة تحليل كبيرة	الطبيعة المزدوجة للالكترونات - الخاصية الموجية للجسيم والتحكم في الطول الموجي المرافق له (علاقة دي برولي)	الميكروسكوب الإلكتروني
- يستخدم في لعام شبكية العين وفي الطب وفي الطباعة	تحقيق وضع الاسكان المعكوس والانبعاث المستحث	جهاز الليزر
الحصول على الصور في الأبعاد الثلاثية	الليزر والتداخل بين الأشعة المرجعية والأشعة المنعكسة من الجسم	الهولوجرام (التصوير المجسم)
تستخدم في الإضاءة	الانبعاث التلقائي	مصادر الضوء العادي

(١٣) - كلما زاد طول السلك توهج المصباح وكلما قل

طول السلك كان أقل إضاءة؟

لأنه بزيادة طول السلك تزداد مقاومته فتزداد القدرة المستنفذة فيزداد توهجا ، والعكس عندما يقل طول السلك

(١٤) لا يشحن سلك بالكهرباء عند مرور نيار كهربي به؟

لأن التيار يدخل السلك ويخرج من الطرف الآخر بنفس المعدل

(١٥) ينصح ببناء امساكن بعيدا عن أبراج الضغط العالي

حفاظا على الصحة العامة حيث أن كثافة الفيض المغناطيسى B تتناسب عكسيا مع المسافة

(١٦) ينافر سلكان متوازيان عندما يمر بهما التيار في

اتجاهين متضادين.

لأن محصلة كثافة الفيض المغناطيسى بين السلكين تكون أكبر من كثافة الفيض خارجهما

(١٧) يوجد داخل ملف الجلفانومتر اسطوانة من الحديد

المطواع

لتجميع وتركيز خطوط الفيض المغناطيسى داخل الملف فتزداد كثافة الفيض وترداد حساسية الجهاز.

(١٨) وجود زوج من اطراف الزنبركية فى الجلفانومتر

- يعملان كمدخل ومخرج التيار من الملف .  
- ينشأ عنهما ازدواج يضاذ الازدواج الناشئ عن المجال فيتحركان في حركته  
- يعيدان المؤشر الى صفر التدريج بعد انقطاع التيار الكهربي

(١٩) عدم تولد ق. د. ك مسنخنة فى سلك مستقيم يتحرك

فى داخل مجال مغناطيسى .

لأن السلك يكون موازيا لخطوط الفيض المغناطيسى فلا يقطع خطوط الفيض أي أن  $\theta = 0$  فتكون  $emf = BLv \cdot \sin 0 = 0$ .

(٢٠) عند فتح دائرة مغناطيس كهربي قد تحدث شرارة

كهربية بين طرفى المفتاح الكهربي

لأن التيار يتلاشى فيتولد مجال مغناطيسى متغير يقطع لفات الملف نفسه فيتولد ق.د.ك مستحثه طردية فى نفس اتجاه ق.د.ك للمصدر فينشأ تيار مستحث طردى كبير يحدث شرارة بين طرفى المفتاح

(٥) نستخدم لصناعة قلب المحول الكهربي شرائح من

الحديد المطواع والسليكونى و المعزولة عن بعضها البعض

؟

لتلافى التيارات الدوامية

(٦) لا يستهلك المحول الكهربي طاقة رغم توصيل ملفه

الإبتدائى بالمصدر الكهربي عند فتح دائرة ملفه الثانوى؟

بسبب تولد مجال متغير فى الملف الإبتدائى فينشأ بالحث الذاتى تيار مستحث عكسى وقوة دافعة كهربية عكسية فتلاشى الأصلية

(٧) القيمة المتوسطة للتيار المتردد = صفر؟

لأنه يصل الى القيمة العظمى مرتين نهاية عظمى مرة فى الاتجاه الموجب ومرة فى الاتجاه السالب

(٨) متوسط e.m.f المتولدة فى الدينامو خلال دورة

من الوضع الرأسى نساوى متوسط e.m.f المتولدة خلال

1/2 دورة من الوضع الرأسى؟

حيث يتضاعف الفيض ويتضاعف الزمن فيظل متوسط ق.د.ك خلال ربع دورة يساوى خلال نصف دورة .

(٩) إذا أمر نيار كهربي فى كل من ملف دائرى و سلك

مستقيم موضوع داخل املف وعلى امتداد محوره فإن

السلك المستقيم لا يثار بأى قوة مغناطيسية؟

لأن السلك موازى للمجال المغناطيسى فتكون الزاوية تساوى صفر وجيب الزاوية يساوى صفر والقوة تساوى صفر .

(١٠) نوجد طنوازي امستطيلات أكثر من مقاومة بينما يوجد

للمكعب مقاومة واحدة عند توصيلهم فى الدائرة؟

لأن ابعاد متوازي المستطيلات مختلفة فتختلف المقاومة أما المكعب ابعاده متساوية فلا تختلف المقاومة .

(١١) القوة الدافعة الكهربية لعمود كهربي أكبر من فرق

الجهد بين طرفى دائرته الخارجية

لأن المقاومة الداخلية للعمود تستنفذ شغل لكى يمر

التيار الكهربي داخل العمود  $V_B = V + Ir$

(١٢) تزداد كفاءة البطارية كلما قلت مقاومته الداخلية

لأن كلما قلت المقاومة الداخلية للبطارية قل مقدار الشغل المفقود منها عند التشغيل تبعا للعلاقة

$V = V_B - Ir$  فتزيد كفاءة البطارية.

(٢٨) يمكن اعتبار الطريقة التي تم بها الحصول على

الأشعة السينية ظاهرة كهروضوئية عكسية؟

لأنه عند سقوط الإلكترونات على الفلز تنطلق من الفلز طاقة على شكل موجات كهرومغناطيسية ولكن في الظاهرة الكهرومغناطيسية يسقط الضوء فتنبعث الإلكترونات.

**ماذا يحدث (ما النتائج) مع ذكر السبب**

(١) مقاومة موصل عند ارتفاع درجة حرارته؟

تزداد المقاومة الكهربائية، وذلك لأن بينهما علاقة طردية حيث تزداد طاقة حركة الجزيئات فتزداد فرص تصادمها بالتيار.

(٢) نوصد مقاومين كل منهما واحد أوم على التوازي

مع بعضهما؟

تصبح مقاومتهما الكلية أقل من واحد أوم، حيث تكون المقاومة المكافئة للمقاومات المتصلة على التوازي أقل من أى مقاومة منهم.

(٣) عدم سحب تيار من مصدر كهربى من حيث فرق

الجهد بين طرفي المصدر الكهربى .

يتساوى فرق الجهد مع القوة الدافعة الكهربائية، حيث

$$V_B = V + Ir$$

(٤) استبدال الحثين المعدنيين في الدينامو بأسطوانة

معدنية حواف مشقوفة إلى نصفين معزولين .

(٥) يتم تحويل التيار المتردد وتحويله إلى تيار موحد الاتجاه غير ثابت الشدة

(٦) مرور تيار كهربى على التردد في ملف يحيط بقطعة

معدنية .

تنتج طاقة حرارية تعمل على تسخين الملف والقطعة المعدنية السبب: تولد تيارات دوامية بسبب وجود القلب المعدني المصمت داخل الملف.

(٢١) نلف أسلاك اطاقومات القياسية لفا مزدوجا

لكي يمر التيار في اتجاهين متضادين فيتكون مجالان مغناطيسيان متساويان ومتضادان فيلاشى كل منهما الآخر فينعدم الحث الذاتي.

(٢٢) ننظم سرعة دوران المونور

بسبب تولد ق.د.ك مستحثة عكسية في ملف المونور اثناء دورانه

(٢٣) ينمو التيار الكهربى في سلك مستقيم أسرع من نموه في

ملف ذو قلب حديدي .

في حالة السلك المستقيم تتولد ق.د.ك عكسية صغيرة تؤول للصفى، وفي حالة الملف تتولد ق.د.ك عكسية كبيرة نتيجة الحث الذاتي يعاوم نمو التيار الأصلي، أما في الملف ذو القلب الحديدي فإن القلب الحديدي يجمع خطوط الفيض ويقويها فتتولد ق.د.ك عكسية أكبر من الحالتين السابقتين تقاوم التيار بقدر أكبر.

(٢٤) يصنع القلب الحديدي في اطاقول من شرائح معزولة

من الحديد اطاقوع السليكوني .

لكبر المقاومة النوعية له فيحد من التيارات الدوامية بالإضافة إلى أن معامل النفاذية المغناطيسية للحديد عالية فيعمل على تركيز الفيض المغناطيسي.

(٢٥) يقبل الطول الموجي المصاحب للإلكترون زيادة سرعته .

لأن الطول الموجي يتناسب عكسيا مع سرعة الإلكترون

$$\therefore \lambda \propto \frac{1}{v}$$

لأن الإلكترونات بإمكانها أن تحمل طاقة حركة عالية جدا وبالتالي يمكن الحصول على أطوال موجية قصيرة جدا فيكون معامل تكبيره كبير جدا بحيث يستطيع أن يرصد أجساما صغيرة لا يستطيع الضوء العادي أن يرصدها.

(٢٦) تتحرف أشعة المهبط بتأثير كل من اطجال الكهربى

واطجال المغناطيسى

لأنها عبارة عن إلكترونات سالبة الشحنة فتتأثر بكل من المجالات الكهربائية والمغناطيسية

(٢٧) لأشعة أكس قدرة فائقة على النفاذية خلال اطواد؟

ج. لأن المسافات البينية لذرات المواد مقاربه للطول الموجي لأشعة أكس فتتغذ خلالها.



**(٧) غلق المفتاح S في الدائرة المرسومة .**

يمر التيار الكهربائي في دائرة الملف  $L_1$  فتولد قد ك مستحثة

$\mathcal{E}_2$

في الملف الثانوي


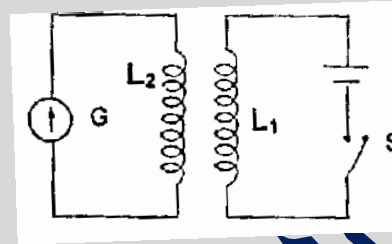
$L_2$  تبعا لقانون

فاراداي ويتولد

تيار مستحث في

الملف  $L_2$  فينحرف

مؤشر



الجلفانومتر

**(٨) غلق دائرة الملف الابتدائي وفتح دائرة الملف الثانوي في****الطحول المرسوم أمامك .**

لا يمر تيار بالمف الابتدائي ولا تسحب طاقة كهربية منه

السبب : لأن الحث الذاتي للملف يعمل على توليد قوة دافعة

كهربية عكسية تترن مع القوة الدافعة للمصدر وتكاد

تساويها في المقدار فتكاد أن توقف مرور التيار الأصلي .

**(٩) عند زيادة الأطوال الموحية جداً أو تكون قصيرة جداً .**

شدة الاشعاع الصادر عن جسم تقترب من الصفر .

**(١٠) ان يكون طول ونفاصل الفروس أكبر من الطول****الموجي للشعاع المستخدم في رؤيتها .**

رؤية الفيروسات يتميز

**(١١) زيادة درجة حرارة شدة الإشعاع .**

يقبل الطول الموجي الذي تصاحبه أقصى شدة اشعاع علي حسب قانون

فين .

**(١٢) سقوط فونون على ذرة مثارة قبل انقضاء فترة العمر****لها بطاقة مساوية لطاقة اثارها**

حدوث الانبعاث المستحث .

**(١٣) فقد جزء من المعلومات المنعكسة من الجسم****الخاصة بالنضاريس والناجمة عن اختلاف الطور بسبب****فوق مسار الاشعة**

تنشأ على اللوح الفوتوغرافي صورة مستوية .

**(١٤) سقوط فونون من اشعة جاما او اشعة اكس على****الكزون حر ساكن .**

يكتسب الالكترن طاقة وتزيد سرعته ويغير اتجاهه

فونون يفقد طاقة ويقل تردد ويغير اتجاهه .

**متى تساوي لحظة قيم صفر :****(١) كثافة الفيض المغناطيسي في منتصف المسافة بين****سلكين متوازيين مبرك منهنما تيار كهربي**

عندما يتساوى التيارين في الشدة ويكون

اتجاههما واحد في السلكين .

**(٢) كثافة الفيض المغناطيسي داخل ملف يمر به تيار****كهربي بصرف النظر عن قيمة شدة التيار .**

عندما يلف الملف لفا مزدوجا

**(٣) عزم الازدواج المؤثر على ملف مستطيد يمر به تيار****كهربي موضوع في مجال مغناطيسي**

عندما يكون الملف عموديا على الفيض

المغناطيسي

**(٤) نردد التيار الكهربي .**

عندما يكون التيار مستمرا (موحد الاتجاه ثابت الشدة)

**(٥) الفرق بين القوة الدافعة الكهربية****لعمود كهربي وفرق الجهد بين قطبيه .**

عندما تكون الدائرة الكهربية للعمود

مفتوحة أي عندما لا يمر تيار في دائرته

**(٦) شدة التيار اطار في اطراف الابدائي للمحول****الكهربي رغم اتصاله بمصدر التيار .**

عندما تكون الدائرة الكهربية

للملف الثانوي مفتوحة

**القوة المغناطيسية المؤثرة على سلك يحمل تيار كهربي مستمر****موضوع في مجال مغناطيسي**

- عندما يكون السلك موازيا لاتجاه الفيض المغناطيسي

**(٧) الحث الذاتي لملف يمر به تيار كهربي متردد أو مستمر .**

عندما يلف الملف لفا مزدوجا

الفيض المغناطيسي	فولت . ثانية = نيوتن . متر / أمبير	وبر
ثابت بلانك	جول . ثانية = فولت . كولوم . ثانية	نيوتن . متر . ثانية = وات . ث <sup>2</sup>
عزم ثنائي القطب المغناطيسي	نيوتن . متر / تسلا	أمبير . م <sup>2</sup>
معامل النفاذية المغناطيسية	تسلا . متر / أمبير	وبر/أمبير . متر

## (٨) القوة الدافعة الكهربائية المستحثة

### المولدة في ملف الدينامو .

- عندما يكون ملف الدينامو وعموديا على الفيض المغناطيسي

## (٩) القوة الدافعة الكهربائية المستحثة المولدة

### في سلك يتحرك في مجال مغناطيسي .

- عندما يتحرك السلك موازيا للفيض المغناطيسي

## (١٠) شدة التيار الكهربائي المستحث المولدة في سلك

### يتحرك قاطعا الفيض المغناطيسي

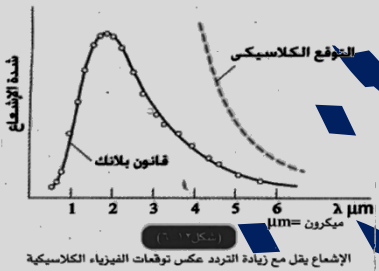
- عندما تكون دائرة السلك مفتوحة

## أسئلة مقالية (هامة)

(١) ناقش بالتفصيل المشكلات التي واجهت الفيزياء الكلاسيكية في تفسير منحنيات شدة الإشعاع على الطول الموجي للأجسام المتوهجة في درجات الحرارة المختلفة

١- من المعروف في الفيزياء الكلاسيكية أنه بما أن الإشعاع

موجات كهرومغناطيسية فإن شدة الإشعاع تزداد كلما زاد التردد ، فلماذا إذا تقل شدة الإشعاع عند الترددات العالية



٢- وجد بلانك أن

منحنى شدة الإشعاع يتكرر مع كل الأجسام الساخنة التي تشع طيفا متصلا من

الإشعاع وليس فقط الشمس ، بل الأرض والكائنات الحية أيضا ، ولكن الأرض باعتبارها جسما غير متوهج فإنها تمتص إشعاع الشمس ، ثم تشعه مرة أخرى ، ولكن لأن درجة حرارتها منخفضة كثيرا بالنسبة للشمس فإننا نجد الطول الموجي عند قمة المنحنى يقع في منطقة الأشعة تحت الحمراء

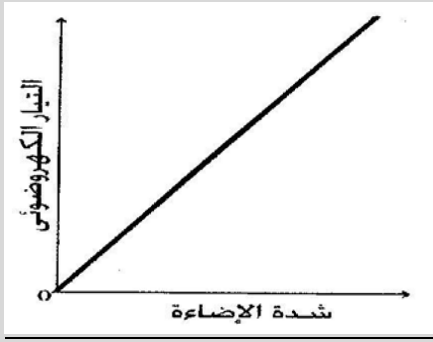
(٢) يعتبر الميكروسكوب الإلكتروني مثلا تطبيقا

للطبيعة الموجية للإلكترونات . اشرح فكرة عمل هذا الجهاز موضحا ما يتميز به عن الميكروسكوب الضوئي العادي ولماذا ؟

تبني فكرة عمله على الطبيعة الموجية للإلكترونات حيث :

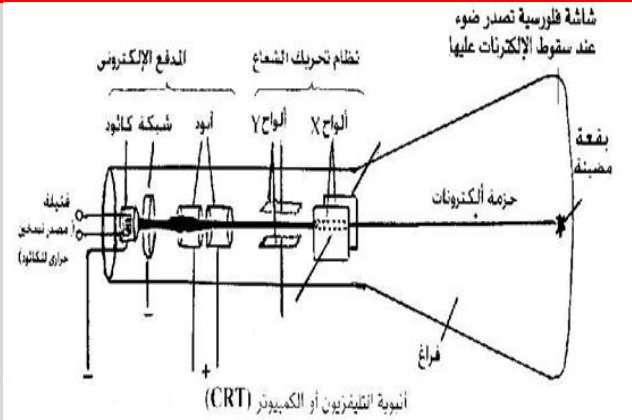
١- الإلكترون المتحرك تصاحبه موجات خاصة حيث للإلكترون طبيعة مزدوجة موجية وجسيمية .

الوحدة	الوحدة المكافئة	الكمية الفيزيائية التي تقاس بها
فولت / أمبير	أوم	المقاومة
جول / كولوم	فولت	فرق الجهد أو القوة الدافعة الكهربائية
أمبير . ثانية	كولوم	كمية الكهرباء
كولوم . ث <sup>-١</sup> أو كولوم / ث	أمبير	شدة التيار
فولت . أمبير . ثانية	جول	الطاقة الكهربائية أو الشغل
سيمون . م <sup>-١</sup>	أوم . م <sup>-١</sup>	التوصيلية الكهربائية
جول . أمبير <sup>-١</sup> . ث <sup>-١</sup>	فولت	فرق الجهد أو القوة الدافعة الكهربائية
فولت . ث / كولوم	أوم	المقاومة
جول / ث أو جول.ث <sup>-١</sup>	الوات أو فولت . أمبير	القدرة
أوم . ثانية	فولت . ثانية / أمبير = هنري	معامل الحث الذاتي أو المتبادل
كولوم.أوم/ثانية	أمبير.أوم = فولت	فرق الجهد أو القوة الدافعة الكهربائية
أوم.كولوم/م <sup>٢</sup>	تسلا	كثافة الفيض المغناطيسي
وبر/م <sup>٢</sup>	تسلا	كثافة الفيض المغناطيسي
نيوتن/أمبير.متر	تسلا	كثافة الفيض المغناطيسي



٢. يتوقف الطول الموجي للموجات المصاحبة للإلكترون على الطاقة المعطاة للإلكترون.  
٣. كلما ازدادت الطاقة المعطاة للإلكترون كلما قل الطول الموجي المصاحب له  
٤. وقد أمكن تزويد الإلكترونات بطاقة كبيرة ، وبذلك نحصل على موجات قصيرة الطول الموجي ، ويقبل الطول الموجي كثيرا عن أقصر موجة في الضوء المنظور

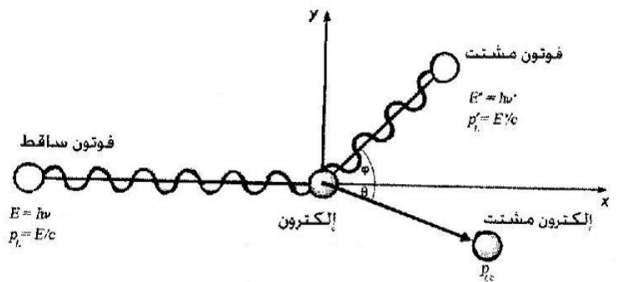
**في جهاز التليفزيون أو شاشة الكمبيوتر**



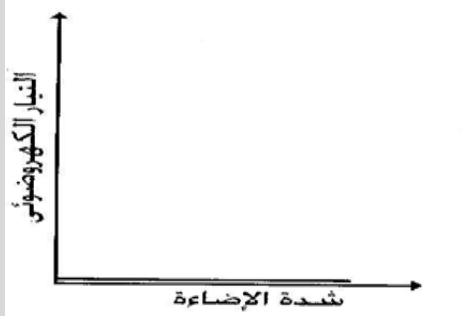
**(٣) اشرح لماذا فشلت النظرية الموجية ( النظرية الكلاسيكية ) في تفسير التأثير الكهروضوئي ؟**

**التصور الكلاسيكي**  
١- شدة التيار الكهروضوئي يتوقف على شدة الموجة الساقطة بصرف النظر عن ترددها ،  
٢- الطاقة الحركية للإلكترونات المنطلقة ( أو سرعتها ) تزداد مع زيادة شدة الإضاءة  
٣- لو كانت شدة الإضاءة قليلة ، فإن تسليط الضوء لمدة طويلة يعطي الإلكترونات الطاقة اللازمة لتتحرر بصرف النظر عن تردد موجة الضوء الساقط  
لكن المشاهدات العملية تختلف تماما عن هذه التوقعات المبنية على النظرية الكلاسيكية  
**حيث :**

**(٥) - اشرح ظاهرة كومتون وبين كيف أنها دليل على الخاصية الجسيمية للضوء أو : تعتبر ظاهرة كومتون مثالا جيدا للطبيعة الجسيمية للموجات . ناقش ذلك بالتفصيل**



١- لوحظ أن انطلاق الإلكترونات يتوقف على تردد الموجة الساقطة وليس شدتها ، حيث لا تنطلق هذه الإلكترونات إلا إذا كان تردد الضوء الساقط أعلى من قيمة حرجية  $U_C$  مهما كانت الشدة



٢- الطاقة الحركية للإلكترونات المنطلقة ( أي سرعتها ) تتوقف على تردد الموجة الساقطة أيضا وليس على شدتها ،  
٣- تحرر الإلكترونات يتم لحظيا حتى لو كانت شدة الإضاءة ضعيفة ولكن بشرط أن يكون تردد الضوء أكبر من الحد الحرج  $U_C$   
تغير التيار الكهروضوئي مع شدة الإضاءة إذا كان تردد الضوء الساقط (الطاقة) أكبر من التردد الحرج (دالة الشغل)

عند سقوط فوتون على إلكترون حر فإن تردد الفوتون يقل ويغير اتجاهه ، وتزداد سرعة الإلكترون ويغير اتجاهه وهي تسمى الخاصية الجسيمية للفوتون حيث يكون للفوتون كتلة وسرعة وكمية حركة

**التفسير :**  
• من خلال فرض بلانك أن الإشعاع الكهرومغناطيسي مكون من فوتونات ، وأن هذه الفوتونات يمكن أن تصطدم بالإلكترونات ، كما تصطدم كرات البلياردو عندئذ لا بد من بقاء كمية الحركة بعد التصادم ، وكذلك بقاء الطاقة أي أن :  
( طاقة الفوتون + طاقة الإلكترون ) قبل التصادم = ( طاقة الفوتون + طاقة الإلكترون ) بعد التصادم

- ١- يؤدي فرق الجهد الكهربائي داخل الأنبوبة إلى إثارة ذرات الهليوم إلى مستويات الطاقة العليا
- ٢- تصطدم ذرات الهليوم المثارة بذرات النيون غير المثارة تصادما غير مرئي ، فتنتقل الطاقة من ذرات الهليوم المثارة إلى ذرات النيون نتيجة تقارب قيم طاقة مستويات الإثارة بين الذرتين فتثار ذرات النيون
- ٣- يحدث تراكم لذرات النيون المثارة في مستوى الطاقة شبه المستقر (حوالي  $10^{-3}$  ثانية) ، وبذلك يتحقق وضع الإسكان المعكوس في غاز النيون
- ٤- تهبط أول مجموعة من ذرات النيون ثم إثارتها هبوطا تلقائيا إلى مستوى طاقة إثارة أقل ، وتشتع فوتونات عشوائية لها طاقة تعادل الفرق بين طاقتي المستويين
- ٥- تمتص جوانب الأنبوبة الفوتونات غير الموازية لمحور الأنبوبة ، ولذا ترتفع درجة حرارتها أي تتحول الفوتونات إلى طاقة حرارية
- ٦- الفوتونات الموازية لمحور الأنبوبة تستحث ذرات النيون المثارة فتنتقل منها فوتونات متحدة في الطور والتردد والاتجاه ويتوالى الانعكاس على المرآتين فيتضخم عدد الفوتونات ،
- ٧- عندما تصل شدة الإشعاع داخل الأنبوبة إلى حد معين ، يخرج جزء منه من خلال المرآة شبه المنفذة في صورة شعاع ليزر (طاقة ضوئية)

(٧) اشرح بالتفصيل كيف تم توليد شعاع الليزر في جهاز ليزر الهليوم نيون .



تركيبه:

- ١- أنبوبة من زجاج الكوارتز بها خليط من غازي الهليوم والنيون بنسبة 1:10 تحت ضغط  $0.6 \text{ mm Hg}$  .
- ٢- مرآتان مستويتان أو مقعرتان متوازيتان ومتعامدتين علي المحور الأنبوبية .
- ٣- فرق جهد عالي مستمر يسلط علي الغاز داخل الأنبوبة لأحداث تفريغ كهربائي وإثارة ذرات الغاز .

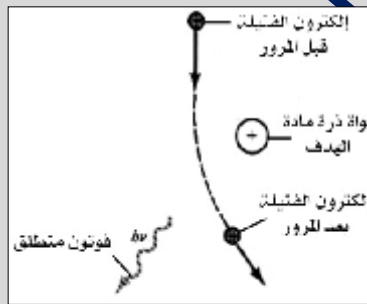
**طريقة العمل :**

- ١- يعمل فرق الجهد أو المجال الكهربائي علي إثارة ذرات الهليوم إلي مستويات طاقة اعلي .

ومن ذلك فإننا لا بد أن نعتبر أن الفوتون جسيم له كمية حركة ، أي سرعة وكتلة ، كما للإلكترون سرعة وكتلة وبالتالي كمية حركة وهذا يدل على أن الفوتون له خاصية جسيمية .

**كيف تفسر ظاهرة تولد الأشعة السينية (الطيف المستمر والخطي )**

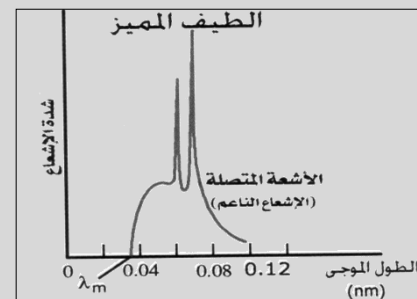
أولاً: (الطيف المتصل "المستمر")



ينشأ لأن سرعة الإلكترون تقل بمروره بالقرب أو بجوار ذرات مادة الهدف وبالتالي تقل طاقتها نتيجة تصادمها وبالتالي

يصدر عنها الإشعاع الكهرومغناطيسي وذلك على أساس نظرية ماكسويل هرتز) وهو يساوي الفرق بين طاقة الالكترونات قبل التصادم وطاقتها بعد التصادم بمادة الهدف حيث تفقد الالكترونات طاقتها على دفعات وبدرجات متفاوتة لذا فإن الإشعاع يحتوى على كل الأطوال الموجية الممكنة وبالتالي يسمى إشعاع مستمرا أو متصل أو أشعة الكابج (الفرملة) أو إشعاع اللين

ثانياً: الطيف الخطي المميز:



ينشأ عندما يصطدم الإلكترون المنبعث من المهبط بأحد الالكترونات القريبة من

نواة مادة الهدف ويكتسب إلكترون مادة الهدف كمية كبيرة جدا من الطاقة فينتقل إلى المستوى الأعلى أو يترك الذرة ويحل محله أحد الالكترونات المستويات الخارجية ذات الطاقة الأعلى وبالتالي يظهر فرق الطاقة بين المستويين على شكل إشعاع له طول موجي محدد (أشعة X).

(٦) يعتبر ليزر الهليوم - نيون مثالا لتحويل الطاقة الكهربائية إلى طاقة ضوئية وطاقة حرارية . وضح آلية هذا التحويل

الضوئية حيث تلتقي الأشعة المرجعية مع الأشعة الصادرة من الجسم ويحدث بينهما تداخل وبعد تحميض اللوح الفوتوغرافي تظهر هدب التداخل وهي صورة مشفرة تسمى الهولوجرام وبإضاءة الهولوجرام بأشعة ليزر لها نفس الطول الموجي تظهر صورة مجسمة ثلاثية الأبعاد واضحة المعالم تحمل كل تفاصيل الجسم .

٢- عند تصادم ذرات الهليوم المثارة مع ذرات النيون غير المثارة تحدث إثارة وتراكم لذرات النيون في مستوى الإثارة وهي ما تسمى بعملية الإسكان المعكوس لذرات النيون في مستوى الإثارة شبة المستقر عمره الزمني  $10^{-3}$  S .

٣- تعود بعض ذرات النيون تلقائياً إلى مستوى إثارة أدنى وتنتج فوتونات طاقتها مناسبة لكي يحدث بها انبعاث مستحث لما بقي من ذرات النيون في مستوى شبة المستقر .

٤- يحدث انعكاسات متكررة على المرآتين في نهايتي الأنبوية (التجويف الرنيني) للفوتونات التي تتحرك موازية لمحور الأنبوية فيحدث تضخيم لهذا الشعاع .

عندما تصل شدة الإشعاع إلى حد معين فإنه يخرج من المرآة شبة منفذة على شكل شعاع ليزر من النوع المستمر ذرات النيون تعود لتثار بالتصادم مع ذرات الهليوم وهذه بالتالي تثار بالمجال الكهربائي

## أهم التجارب

### جارب فريدة للحصول على التيارات الكهربائية المستحثة

#### الغرض من التجربة :

- ١- توليد تيار كهربى مستحث فى ملف .
- ٢- تحويل الطاقة الميكانيكية إلى طاقة كهربية.

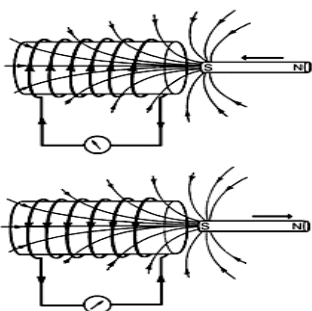
#### خطوات التجربة والمشاهدة

- ١- وصل ملف من سلك نحاسى معزول بجلفانومتر حساس صفر تدريجه فى المنتصف وأغلق دائرته.
- عند إدخال المغناطيس إلى داخل الملف **نلاحظ** ينحرف مؤشر الجلفانومتر فى اتجاه معين .
- عند تحريك المغناطيس بعيداً عن الملف **نلاحظ** يتحرك مؤشر الجلفانومتر فى الاتجاه المضاد .

#### الاستنتاج:

- ١- تتولد قوة دافعة مستحثة وتيار تأثيرى داخل الملف نتيجة للتغير فى الفيض المغناطيسى بداخله .
- عند إدخال المغناطيس فإن المجال المغناطيسى المستحث يعمل على مقاومة الإدخال وعند إخراج المغناطيس فإن المجال المغناطيسى المستحث يعمل على جذب المغناطيس للدخل ومن هنا ينشأ التغير فى الفيض المغناطيسى الذى يسبب ق.د.ك المستحثة
- ٢- اتجاه التيار التأثيرى يتوقف على اتجاه حركة المجال .

### تجربة لدراسة الحث المتبادل بين ملفين



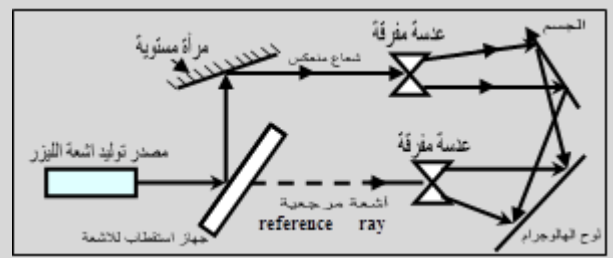
- ١) عند لحظة غلق مفتاح دائرة الملف الابتدائى أو تقريب الملف الإبتدائى من الثانوى أو تقليل مقاومة الريوستات .

### (٨) اشرح بالتفصيل: الهولوجرام (التصوير المجسم) (التصوير ثلاثي الأبعاد)

مبدئياً علينا أن نعلم أن الأشعة الضوئية المنعكسة عن الجسم تحمل معلومات مختلفة تخص الجسم من حيث السعة والشدة الضوئية والطور .  
الصورة العادية المستوية (المسطحة) .

في التصوير العادي تتكون الصورة المستوية على اللوح الفوتوغرافي بسبب اختلاف السعة والشدة الضوئية المنعكسة من علي سطح الجسم المراد تصويره وتختلف هذه الأشعة المنعكسة من الجسم عن بعضها في طول- مسار الأشعة بسبب وجود أجزاء عميقة أو غائرة في الجسم المراد تصويره مما يؤدي لإختلاف هذه الأشعة في الطور و الصورة المسطحة العادية المتكونة علي اللوح الفوتوغرافي لا تسجل إلا الاختلاف في الشدة الضوئية فقط لذلك تكون الصورة مستوية أو مسطحة لأنها لا تنقل كل معلومات الصورة وتسمى في بعد واحد .

#### الصورة ثلاثية الأبعاد (الهولوجرام)



في هذه الصورة نستعمل أشعة أخرى هي الأشعة المرجعية نوع من أشعة الليزر لها نفس الطول الموجي للأشعة المستخدمة وظيفتها استخراج المعلومات من الأشعة

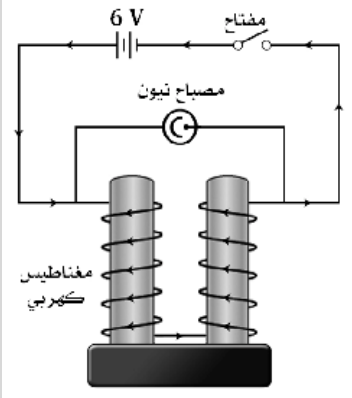
## تجربة لدراسة الحث الذاتي للملف

وصل ملف مغناطيس كهربى قوى (عدد لفاته كبير) على التوالي مع بطارية (6V) ومفتاح ، ومصباح نيون (يعمل بجهد يصل إلى 180V) على التوازي بين طرفى الملف كما فى الشكل .

ماذا يحدث عند :-

- 1- عند لحظة غلق المفتاح .
- 2- عند لحظة فتح المفتاح .

المشاهدة



- 1- لا يضيء المصباح لتولد قوة دافعة كهربية عكسية بالحث الذاتى لا تستطيع أن تؤين غاز النيون داخل المصباح
- 2- يضيء المصباح لحظياً لتولد قوة دافعة كهربية طردية بالحث الذاتى تستطيع أن تؤين

غاز النيون داخل المصباح وقد تتولد شرارة كهربية عند موضع القطع وذلك لان القوة الدافعة الكهربية الطردية تستطيع أن تؤين الهواء عند موضع القطع عند المفتاح

لذلك فان:

- 1-  $emf$  الطردية اكبر من او تساوى 180 فولت لذلك عملت على اضاءة المصباح .
- 2-  $emf$  العكسية اقل من 180 فولت لذلك لم تستطع اضاءة المصباح .

ينحرف مؤشر الجلفانومتر لتولد قوة دافعة كهربية مستحثة عكسية بالحث المتبادل فى الملف الثانوى.

التفسير: لحظة غلق المفتاح مثلاً يتزايد تيار الملف الابتدائى من الصفر الى قيمته العظمى وفى هذه الفترة يتزايد معه الفيض المغناطيس والذى يخترق لفات الملف الثانوى فيتولد فى الملف الثانوى ق.د.ك مستحثة عكسية وتيار مستحث عكسى يعمل على توليد مجال مغناطيسى مستحث فى الملف الثانوى فى اتجاه مضاد يقاوم زيادة المجال المغناطيسى المؤثر من الملف الابتدائى (حسب قاعدة لنز).

2) عند لحظة فتح مفتاح دائرة الملف الابتدائى أو عند ابعاد الملف الابتدائى من الثانوى أو زيادة قيمة الريوستات:

ينحرف مؤشر الجلفانومتر لتولد قوة دافعة كهربية مستحثة طردية بالحث المتبادل فى الملف الثانوى.

التفسير: لحظة فتح المفتاح مثلاً يتناقص تيار الملف الابتدائى من قيمته الى الصفر وفى هذه الفترة يتناقص معه الفيض المغناطيس والذى يخترق لفات الملف الثانوى فيتولد فى الملف الثانوى ق.د.ك مستحثة طردية وتيار مستحث طردى يعمل على توليد مجال مغناطيسى مستحث فى الملف الثانوى فى اتجاه مضاد يقاوم تناقص المجال المغناط

يسى المؤثر من الملف الابتدائى (حسب قاعدة لنز).

الإستنتاج :

تولد قوة دافعة كهربية مستحثة وكذلك تيار مستحث فى ملف ثانوى بتأثير ملف آخر ابتدائى حيث يكون :

حالات تولد قوة دافعة كهربية مستحثة فى الملف

الثانوى بالحث المتبادل

قوة دافعة كهربية مستحثة عكسية

- 1- لحظة غلق دائرة الملف الابتدائى .
- 2- لحظة زيادة شدة التيار فى الملف الابتدائى .
- 3- أثناء تقريب او ادخال الملف الابتدائى فى الملف الثانوى .

قوة دافعة كهربية مستحثة طردية

- 1- لحظة فتح دائرة الملف الابتدائى .
- 2- لحظة نقص شدة التيار فى الملف الابتدائى .
- 3- أثناء ابعاد أو اخراج الملف الابتدائى من الملف الثانوى

# الشامل فى الفيزياء

# الفيزياء، برؤية جديدة

# أهم ٢ مسألة

١- دائرة كهربية كالموضحة بالشكل

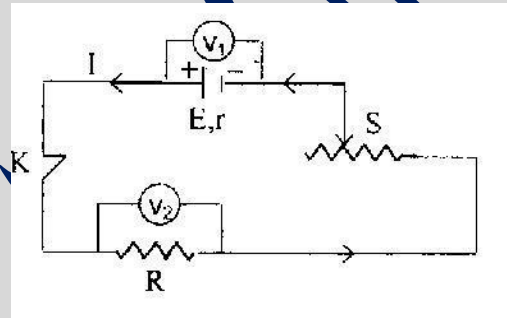
المارة وشدة التيار  $V_1$  ،  $V_2$  ، اكتب العلاقة بين قراءة كل من

بالدائرة ،

$V_1$  ،  $V_2$  ثم استنتج ماذا يحدث لقراءة كل من

$S$  عند زيادة قيمة مقاومة الريوستات

$V_1$  ،  $V_2$ ؟ ما هي قراءة كل من  $V_1$  ،  $V_2$  عند فتح المفتاح



العلاقة بين  $V_1$  ،  $I$  :

$$V_1 = V_B - Ir$$

$$V_2 = IR$$

عند زيادة قيمة مقاومة الريوستات تزيد المقاومة الكلية للدائرة فتقل شدة التيار الكلي ولذلك فإن :

• يقل المقدار  $Ir$  فتزيد قراءة  $V_1$

• يقل المقدار  $IR$  فتقل قراءة  $V_2$

٢- عند فتح المفتاح K :

$$V_1 = V_B , V_2 = 0$$

٢- جلفانومتر مقاومة ملفه  $5\Omega$  يقيس تيار أقصى قيمة له  $20\text{mA}$

احسب أقصى تيار يمكن أن يقيسه إذا وصل بمجزئ تيار مقاومته  $0.1\Omega$  ثم احسب مقدار مضاعف الجهد الذي يوصل بالجلفانومتر

ليعمل كفولتميتر يقيس فرق جهد قدره  $5\text{V}$

العلاقة

أقصى شدة تيار

$$R_s = \frac{I_g R_g}{I - I_g} \Rightarrow I = \frac{I_g R_g}{R_s} + I_g$$

$$= \frac{20 \times 10^{-3} \times 5}{0.1} + 20 \times 10^{-3} = 1.02\text{A}$$

مضاعف الجهد

$$R_m = \frac{V - V_g}{I_g} = \frac{V - I_g R_g}{I_g}$$

$$= \frac{5 - 20 \times 10^{-3} \times 5}{20 \times 10^{-3}} = 245\Omega$$

٣- في الشكل المقابل : سلكان مستقيمان متوازيان المسافة بينهما

$20$  سم يمر في الأول تيار شدته  $I_1$  أمبير وفي الثاني تيار شدته  $I_2$

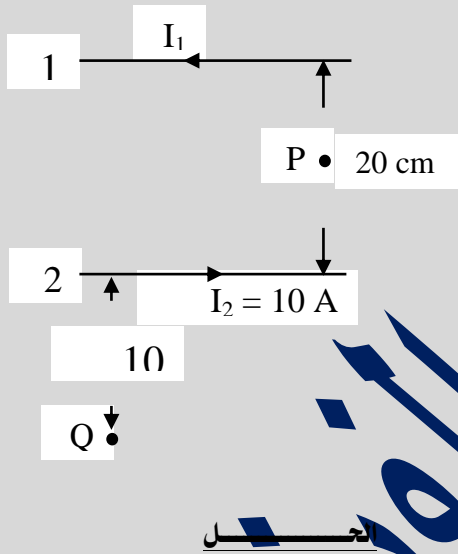
$10 =$  أمبير حسب الاتجاه الموضح ، فإذا علمت أن كثافة الفيض

المغناطيسي الكلي ( $B_T$ ) عند النقطة ( $P$ ) التي تقع في منتصف

المسافة بين السلكين هو  $6 \times 10^{-5}$  تسلا . احسب كثافة الفيض

المغناطيسي الكلي عند نقطة  $Q$  التي تبعد عن السلك الثاني

مسافة  $10$  سم ( $\mu$  للهواء  $= 4\pi \times 10^{-7}$  وبر / أمبير . متر)



عند نقطة P :

$$B_T = \frac{\mu I_1}{2\pi d} + \frac{\mu I_2}{2\pi d}$$

$$\therefore 6 \times 10^{-5} = \frac{4\pi \times 10^{-7}}{2\pi \times 0.1} (I_1 + 10)$$

$$\therefore I_1 = 20\text{A}$$

عند نقطة Q :

$$B_1 = \frac{\mu I_1}{2\pi d_1}$$

$$= \frac{4\pi \times 10^{-7} \times 20}{2\pi \times 0.3} = 1.333 \times 10^{-5} \text{ T}$$

١- القيمة العظمى لفرق الجهد بين قطبي الدينامو

$$emf = \sqrt{2} \times (eme)_{eff}$$

$$= \sqrt{2} \times 200\sqrt{2} = 400 \quad V$$

٢- كثافة الفيض المغناطيسي المؤثر على الملف

$$(emf)_{max} = NBA \times 2\pi F$$

$$\therefore B = \frac{400}{200 \times 0.4 \times 0.3 \times 2\pi \times \frac{50}{\pi}}$$

$$= 0.166 \quad T$$

٣- القيمة العظمى لفرق الجهد وشدة التيار

نصف قطر دوران الملف  $r$  = نصف عرض الملف = 0.15 متر


$$\omega = \frac{v}{r} = \frac{24}{0.15}$$

$$\Rightarrow \therefore (emf)_{max} = NBA \omega$$

$$= 200 \times \frac{1}{6} \times 0.12 \times \frac{24}{0.15} = 640 \quad V$$

$$I_{max} = \frac{(emf)_{max}}{R}$$

$$= \frac{640}{20} = NBA \omega = 32 \quad A$$



٦- مرتين تيار عملي شدته 5 أمبير في ملف عدد لفاته 500 لفه

فنشأ عنه فيض مغناطيسي مقاره  $10^{-4}$  وبه، فإذا انعدم التيار

الكهربي في 5 ثوانية احسب:

١- ق. د. ك المستحثة المتولدة في الملف.

٢- معامل الحث الذاتي للملف.

الحل

١- ق. د. ك المستحثة المتولدة في الملف

$$emf = N \frac{\Delta\phi}{\Delta t}$$

$$= 500 \times \frac{0 - 10^{-4}}{0.5} = 0.1 \quad V$$

$$B_2 = \frac{\mu I_2}{2\pi d_2}$$

$$= \frac{4\pi \times 10^{-7} \times 10}{2\pi \times 0.1} = 2 \times 10^{-5} \quad T$$

$$B_T = B_2 - B_1$$

$$= 2 \times 10^{-5} - 1.333 \times 10^{-5} = 6.67 \times 10^{-6} \quad T$$

٤- محول كهربي خافض يعمل في نهاية الخطوط الناقلة للتيار المتردد

يخفض الجهد الكهربي من 300 فولت إلى 120 فولت. فإذا

كانت القدرة الناتجة من المحول 15 كيلووات وكفاءته 80%

وعدد لفات هذه الجهدائي 4000 لفه. احسب:

١- عدد لفات الملف الثانوي. ٢- شدة التيار في كل من الملفين.

$$\eta = \frac{V_S N_P}{V_P N_S}$$

$$\Rightarrow \frac{80}{100} = \frac{120 \times 4000}{3000 \times N_S}$$

$$\Rightarrow \therefore N_S = 200 \quad \text{لفة}$$

$$P_S = I_S V_S \Rightarrow$$

$$\therefore 15000 = I_S \times 120$$

$$\Rightarrow \therefore I_S = 125 \quad A$$

$$\eta = \frac{V_S I_S}{V_P I_P} \Rightarrow$$

$$\therefore \frac{80}{100} = \frac{120 \times 125}{3000 \times I_P}$$

$$\Rightarrow \therefore I_P = 6.25 \quad A$$

٥- دينامو تيار متردد يولد تيار تردده  $50/\pi$  هرتز وفرق الجهد

الفعال بين قطبيه  $200\sqrt{2}$  فولت. فإذا كان ملف الدينامو

على هيئة مستطيل طوله 40 سم وعرضه 30 سم وعدد لفاته

200 لفه. احسب:

١- القيمة العظمى لفرق الجهد بين قطبي الدينامو.

٢- كثافة الفيض المغناطيسي المؤثر على الملف.

٣- القيمة العظمى لكل من فرق الجهد وشدة التيار عندما يدور الملف

حول محور مواز لطوله بسرعة خطية 24 م / ث وكانت مقاومة

الملف 20 أوم.

الحل



$$E = h \frac{C}{\lambda} = 6.625 \times 10^{-34} \times \frac{3 \times 10^8}{6000 \times 10^{-10}}$$

$$= 3.3125 \times 10^{-19} \text{ joule}$$

٢- معامل الحث الذاتي للملف

$$emf = L \frac{\Delta I}{\Delta t}$$

$$\Rightarrow \therefore L = \frac{0.1 \times 0.5}{5} = 0.01 \text{ H}$$

لا تنبعث إلكترونات من سطح الفلز السبب : طاقة الضوء الساقط أقل من دالة الشغل أي تردده أقل من التردد الحرج

٩- وصلت المقاومات 6، 3، 1 أوم بمصدر كهربى فمرفيها 0.1 ، 0.2 ، 0.3 أمبير على الترتيب اوجد المقاومة المكافئة لها مع توضيح طريقة توصيل هذه المقاومات بالرسم ؟

الحل

$$V_1 = 6 \times 0.1 = 0.6 \text{ فولت}$$

$$V_2 = 3 \times 0.2 = 0.6 \text{ فولت}$$

$$V_3 = 1 \times 0.3 = 0.3 \text{ فولت}$$

وبالتالى تكون 6، 3 توازي ومعهم 1 أوم فتكون المقاومة المكافئة تساوى  $3\Omega$

٧- ميكرو أميتر أقصى تيار يقيسه 1 mA ومقاومته 40 أوم يراد تحويله الي أوميتر باستخدام عمود جاف قوته الدافعة 1.5 فولت .

أحسب المقاومة العيارية اللازمة لك لجعل المؤشر ينحرف الي نهاية التدريج للتيار

١- أحسب المقاومة الخارجية ( $R_x$ ) التي تجعل المؤشر ينحرف الي  $\frac{3}{4}$  التدريج .

٢- أحسب المقاومة الداخلية ( $R_g$ ) التي تجعل المؤشر ينحرف الي  $\frac{1}{2}$  .

٣- ارسم المقاومة الخارجية ( $R_x$ ) التي تجعل المؤشر ينحرف الي  $\frac{1}{4}$  .

٤- أرسم من النتائج التي حصلت عليها درج المقاومة للتيار .

الحل

$$1- I_g = \frac{V_g}{R_g + R} \therefore 10^{-3} = \frac{1.5}{40 + R} \Rightarrow R = 1460\Omega$$

$$2- I = \frac{V_B}{R_g + R + R_x} \therefore \frac{3}{4} \times 10^{-3} = \frac{1.5}{40 + 1460 + R_x} \Rightarrow R_x = 50\Omega$$

$$3- \frac{1}{2} \times 10^{-3} = \frac{1.5}{40 + 1460 + R_x} \Rightarrow R_x = 1500\Omega$$

$$4- \frac{1}{4} \times 10^{-3} = \frac{1.5}{40 + 1460 + R_x} \Rightarrow R_x = 4500\Omega$$

١٠- مصدر كهربى قوته 130V وصل على التوالي في دائرة واحدة مع مقاومتين  $300\Omega$  ،  $400\Omega$  قارن بين قراءتي فولتميتر مقاومته  $200\Omega$  إذا وصل بين طرفي المقاومة الأولى ثم بين طرفي المقاومة الثانية مع إهمال المقاومة الداخلية للمصدر

(٤)

الحل

أولا عند توصيل الفولتميتر مع المقاومة  $400\Omega$

المقاومة المكافئة للفولتميتر والمقاومة  $400\Omega$

$$R_{T1} = \frac{R_1 R_V}{R_1 + R_V}$$

$$= \frac{400 \times 200}{400 + 200} = 133 \frac{1}{3} \Omega$$

المقاومة المكافئة للدائرة كلها

$$R_T = R_{T1} + R_2 = 133 \frac{1}{3} + 300$$

$$= 433 \frac{1}{3} \Omega$$

شدة التيار الكلية

$$I = \frac{V_B}{R_T} = \frac{130}{433 \frac{1}{3}} = 0.3A$$

قراءة الفولتميتر = فرق الجهد بين طرفيه والمقاومة  $400\Omega$

$$V = IR_{T1} = 0.3 \times 133 \frac{1}{3} = 40V$$

٨- عند سقوط ضوء أحادي اللون طولته الموجي 5000 Å بـ ستروم على

سطح فلز، انبعثت منه إلكترونات بسرعة مقدارها  $2.57 \times 10^5$  م/ث .

م/ث . فإذا سقط ضوء آخر أحادي اللون طولته الموجي 6000

Å بـ ستروم فهل تنبعث إلكترونات من سطح هذا الفلز؟ ولماذا؟ علما

بأن ثابت بلانك  $6.625 \times 10^{-34}$  جول . ث و سرعة الضوء  $3 \times 10^8$

م/ث و كتلة الإلكترون  $9.1 \times 10^{-31}$  كجم

دالة الشغل لسطح الفلز :

$$\frac{1}{2} mv^2 = h \frac{C}{\lambda} - E_w$$

$$\frac{1}{2} \times 9.1 \times 10^{-31} (2.57 \times 10^5)^2$$

$$= 6.625 \times 10^{-34} \times \frac{3 \times 10^8}{5000 \times 10^{-10}} - E_w$$

$$E_w = 3.674 \times 10^{-19} \text{ Joule}$$

طاقة الضوء الآخر :

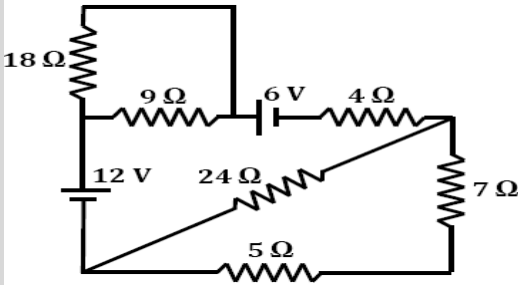
$$R_1 = \frac{6 \times 6}{6+6} = 3\Omega \rightarrow R_T = 3 + 2 = 5\Omega$$

$$I = \frac{V_B}{R} = \frac{2}{5} = 0.4A$$

$$I_{\text{فرع}} = \frac{I \times R}{R} \rightarrow \therefore I_6 = \frac{0.4 \times 3}{6} = 0.2A$$

$$V = I_6 R_6 = 0.2 \times 6 = 1.2V$$

١٣. في الدائرة المقابلة أوجد شدة التيار المار خلال البطارية 12V



الحل

7, 5 توالي

$$R_1 = 7 + 5 = 12\Omega$$

توازي 29, 12

$$R_2 = \frac{12 \times 24}{12} = 8\Omega$$

توازي 9, 18

$$R_3 = \frac{9 \times 18}{9 + 18} = 6\Omega$$

$$R_T = 8 + 4 + 6 = 18\Omega$$

$$I = \frac{V_{B1} - V_{B2}}{R_T} = \frac{12 - 6}{18} = \frac{1}{3}A$$

١٤. احسب مقاومة مجزئ التيار اللازم توصيله على التوازي مع أميتر مقاومة منه  $0.04\Omega$  بحيث يسمح بمرور ربع التيار الكلي عند ملء الملتح الأميتر.

$$\frac{1}{R_s} = \frac{I_g}{I} \therefore I = 4I_g$$

$$R_s = \frac{I_g R_g}{I - I_g} = \frac{I_g \times 0.04}{4I_g - I_g} = 0.013\Omega$$

١٥. مللي أميتر مقاومته 40 أوم وقياس شدة التيار أقصاه 20 مللي أمبير، أوجد:

- مقاومة مجزئ التيار اللازم له لقياس شدة تيار أقصاها 100 مللي أمبير.
  - مقاومة مجزئ الجهد اللازم له لقياس فروق جهد كهربي أقصاها 5 فولت.
- الحل

ثانيا عند توصيل الفولتمتر مع المقاومة  $300\Omega$

المقاومة المكافئة للفولتمتر والمقاومة  $300\Omega$

$$R_{T1} = \frac{R_1 R_V}{R_1 + R_V} = \frac{300 \times 200}{300 + 200} = 120\Omega$$

المقاومة المكافئة للدائرة كلها

$$R_T = R_{T1} + R_1 = 120 + 400 = 520\Omega$$

شدة التيار الكلية

$$I = \frac{V_B}{R_T} = \frac{130}{520} = 0.25A$$

قراءة الفولتمتر = فرق الجهد بين طرفيه والمقاومة  $300\Omega$

$$V = IR_{T1} = 0.25 \times 120 = 30V$$

النسبة بين قراءة الفولتمتر في الحالتين هي

$$\frac{40}{30} = \frac{4}{3}$$

١١. وصلت مقاومة 10.6 أوم بقطبين عمود كهربي فمربها تيار شدته 125 مللي أمبير. وعند تبديل بمقاومة أخرى 1.9 أوم ماربها تيار شدته 0.5 أمبير. فما قيمة مقاومة ذلك للعمود الكهربي؟

الحل

$$V_B = I_1(R_1 + r) = 0.125(10.6 + r) \rightarrow (1)$$

$$V_B = I_2(R_2 + r) = 0.5(1.9 + r) \rightarrow (2)$$

$$\text{من ١ و ٢} \quad 0.125(10.6 + r) = 0.5(1.9 + r)$$

$$\text{بالتعويض في المعادلة ١} \quad r = 1\Omega$$

$$V_B = 0.125(10.6 + 1) = 1.45V$$

١٢. في الدائرة الموضحة

أوجد قراءة كلا من الأميتر والفولتمتر في الحالات الآتية:

١. عندما يكون المفتاح K مفتوحا.

٢. عند غلق المفتاح K.

الحل

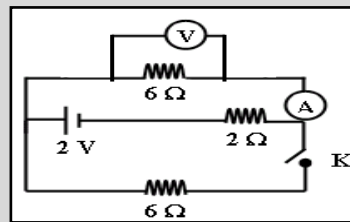
١) عندما يكون المفتاح مفتوح

$$R = 2 + 6 = 8\Omega$$

$$I = \frac{V_B}{R+r} = \frac{2}{8} = 0.25A$$

$$V = IR_6 = 0.25 \times 6 = 1.5\text{Volt}$$

٢) عند غلق المفتاح .



(ز) احسب متوسط e.m.f المستحث في كل من الحالات الآتية:

- ١ - خلال ربع دورة من الوضع العمودي على المجال.
- ٢ - خلال نصف دورة من الوضع العمودي على المجال.
- ٣ - خلال دورة كاملة من الوضع العمودي.

$$emf = -NAB2\pi f \sin \theta \quad (أ)$$

$$emf = 100 \times 0.2 \times 0.15 \times 0.05 \times 2 \times \frac{22}{7} \times \frac{2400}{60} = 37.7V$$

$$emf = 0 \quad (ب)$$

$$\theta = 60 \quad (ج)$$

$$emf = emf_{max} \sin 60 = 32.66V$$

$$\theta = 60 \quad (د)$$

$$emf = emf_{max} \sin 60 = 32.66V$$

$$\theta = \frac{360}{9} = 40 \quad (هـ)$$

$$emf = emf_{max} \sin \theta = 37.7 \sin 40 = 24.23V$$

$$\theta = 2\pi ft \quad (و)$$

$$= 2 \times 180 \times \frac{2400}{60} \times 0.01 = 144$$

$$emf = 37.7 \sin 144 = 22.15V$$

$$(ز)$$

$$emf = -4NABF = 24 \quad (١)$$

$$emf = 24 \quad (٢)$$

$$emf = 0 \quad (٣)$$

١٨. ملفان متجاوران x عدد لفاته 200.500 على الترتيب فإذا مر تيار شدته 6.A في الملف X فنتج عنه فيض قدره  $10^{-7}$  weber<sup>4</sup> في نفس الملف Y فيض قدره  $10^{-7}$  weber<sup>4</sup> احسب

(أ) معامل الحث الذاتي للملف X.

(ب) معامل الحث المتبادل بين الملفين

(ج) مقدار e.m.f المتوسطة التي تتولد في الملف Y عندما

ينعدم التيار في الملف X في زمن قدره 0.2s.

**الحل**

$$emf_1 = L \frac{\Delta I_1}{\Delta t} \quad (أ)$$

$$N_1 \frac{\Delta \Phi_{m1}}{\Delta t} = \frac{-L \Delta I_1}{\Delta t}$$

$$500 \times 10^{-4} = L \times 6$$

$$R_S = \frac{I_9 R_9}{I - I_9} = \frac{20 \times 10^{-3} \times 40}{100 \times 10^{-3} - 20 \times 10^{-3}} = 10 \Omega \quad (١)$$

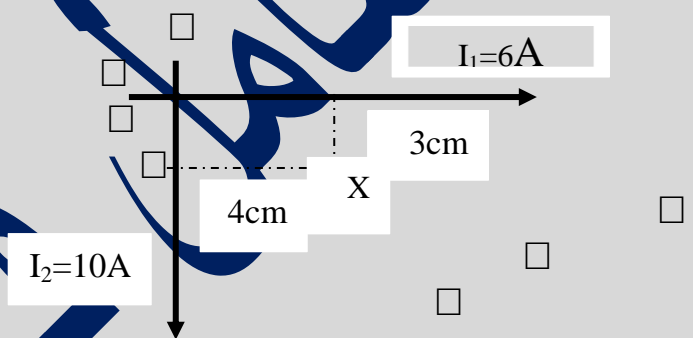
$$R_m = \frac{V - V_g}{I_g} \quad (٢)$$

$$= \frac{5 - (20 \times 10^{-3} \times 40)}{20 \times 10^{-3}}$$

$$R_m = 210 \Omega$$

١٦. موصلان طويلان متعامدان كما في الشكل يمر في باتجاه السيني الموجب ويمر في الثاني 6A الاول تيار مقداره 10 A باتجاه الصادي السالبي احسب:

- ١ المجال المغناطيسي عند النقطة X مقداراً واتجاهاً
- ٢ القوة التي يؤثر بها هذا المجال في جسيم ألفا عندما يتحرك من النقطة س باتجاه عمودي داخل مستوى الصفحة



$$B_1 = \mu \frac{I_1}{2\pi d_1} = \frac{4\pi \times 10^{-7} \times 6}{2\pi \times 0.03} = 4 \times 10^{-5} T$$

$$B_2 = \mu \frac{I_2}{2\pi d_2} = \frac{4\pi \times 10^{-7} \times 10}{2\pi \times 0.04} = 5 \times 10^{-5} T$$

$$B_T = B_2 - B_1 = 5 \times 10^{-5} - 4 \times 10^{-5} = 10^{-5} T \square$$

(٢) القوة التي يؤثر بها المجال على جسيم ألفا = صفر لأن جسيم ألفا يتحرك موازاً لخطوط الفيض المغناطيس للمجال المحصل.

١٧. ديانمو تيار متردد أبعاد ملفه 20 Cm ، 15 Cm مكون من 100 لفة يدور في مجال مغناطيسي منتظم بسرعة 2400 دورة في الدقيقة فإذا كانت كثافة الفيض بين قطبي مغناطيس المجال 0.05 T (  $\pi = 3.14$  )

- احسب قيمة e.m.f المستحث في الملف في الحالات الآتية:

- (أ) عندما يكون مستوى الملف موازياً لإتجاه المجال.
- (ب) عندما يكون مستوى الملف عمودياً على إتجاه المجال
- (ج) عندما يميل مستوى الملف على إتجاه المجال بزاوية  $30^\circ$
- (د) عندما تكون الزاوية بين مستوى الملف والعمود على المجال  $60^\circ$

(هـ) بعد  $\frac{1}{9}$  دورة من اللحظة التي يكون فيها مستوى الملف عمودياً على المجال

(و) بعد 0.01 S من وضع النهاية العظمى.

$$L = \frac{\mu N^2 A}{\text{طول الملف}}$$

$$= \frac{4\pi \times 10^{-7} \times 400 \times 400 \times 25 \times 10^{-4}}{0.1}$$

$$= 5.02 \times 10^{-3} H$$

$$emf = -N \frac{2BA}{\Delta t} = 0.4V$$

لا تنسى التدريب على مسائل الرسم البياني

بعد النجاح الذي حققه كتاب الشامل في

الفيزياء

نهدي إليكم هذه المذكرة

والتي تحتوي خلاصة ما تمثلك من خبرة

ومعلومة

وقد راغبنا أن نكون مركزه على أهم

الجزئيات بامتنهج التي لا يخرج عنها أي

امتحان

داعبنا الله أن تحقق الغرض الموضوعة من

أجله

وتحتوي على

١- أهم الأسئلة النظرية .

٢- أهم ٢١ مسألة بامتنهج

أ. محمد الباسل  
مؤلف كتاب الشامل

$$L = 8.3 \times 10^{-3} H$$

$$emf_2 = M \frac{\Delta I_1}{\Delta t} \quad (ب)$$

$$-N_2 \frac{\Delta \Phi_{m2}}{\Delta t} = - \frac{M \Delta I_1}{\Delta t}$$

$$200 \times 10^{-4} = M \times 6$$


$$M = 0.03 H$$

$$emf_2 = \frac{-M \Delta I_1}{\Delta t} \quad (ج)$$

$$= \frac{0.03 \times 6}{0.7} = 0.9V$$

١٩- إذا شكل سلك مستقيم طوله 60 Cm على شكل مستطيل ABCD بحيث كان طول أضفه اوجد محصلة كثافة الفيض المغناطيس عند النقطة m عند مركزه

$$\mu = 4\pi \times 10^{-7} \text{ web/A.m}$$



الحل

$$B_T = B_1 + B_2 + B_3 + B_4$$

$$B_T = \mu \frac{I_1}{2\pi d_1} + \mu \frac{I_1}{2\pi d_2} + \mu \frac{I_3}{2\pi d_3} - \mu \frac{I_4}{2\pi d_4}$$

$$B_T = \frac{\mu}{2\pi} \left( \frac{1}{0.1} + \frac{1}{0.05} + \frac{1}{0.1} - \frac{2}{0.05} \right) = 0$$

٢١- ملف حلزني طوله 10Cm ومساحة مقطعه 25cm<sup>2</sup>

وعدد لفاته 400 يمر به تيار كهربى شدته 4A فإذا علمت

$$\mu = 4\pi \times 10^{-7} \frac{\text{Web}}{\text{A}}$$

فاحسب كل من:

١- الفيض المغناطيسى الكلى الذى يقطع الملف .

٢- معامل الحث الذاتى للملف إذا عكس اتجاه التيار فى زمن

قدره 0.1 S .

٣- متوسط القوة الدافعة الكهربائية المستحثة المتولدة فى

الملف .

الحل:

$$B = \mu \frac{NI}{L} = 0.02 T$$

$$\Phi_m = BA = 0.02 \times 25 \times 10^{-4}$$

$$= 5.02 \times 10^{-5} \text{ Web}$$

لحساب معامل الحث الذاتى يمكن استخدام هذا القانون: